

تم تحميل هذا الملف من موقع المناهج الإماراتية



## أسئلة اختبار على شاکلة الامتحان النهائي

[موقع المناهج](#) ← [المناهج الإماراتية](#) ← [الصف الثالث](#) ← [رياضيات](#) ← [الفصل الثالث](#) ← [الملف](#)

تاريخ إضافة الملف على موقع المناهج: 2024-05-26 09:17:00

## التواصل الاجتماعي بحسب الصف الثالث



اضغط هنا للحصول على جميع روابط "الصف الثالث"

## روابط مواد الصف الثالث على تلغرام

[الرياضيات](#)

[اللغة الانجليزية](#)

[اللغة العربية](#)

[التربية الاسلامية](#)

## المزيد من الملفات بحسب الصف الثالث والمادة رياضيات في الفصل الثالث

<a href="#">تجميعة أسئلة وفق الهيكل الوزاري منهج ريفيل</a>	1
<a href="#">حل تجميعة أسئلة وفق الهيكل الوزاري منهج ريفيل</a>	2
<a href="#">تجميعة أسئلة وفق الهيكل الوزاري الجديد منهج بريدج</a>	3
<a href="#">تجميعة أسئلة صفحات الكتاب وفق الهيكل الوزاري الجديد منهج ريفيل</a>	4
<a href="#">الهيكل الوزاري الجديد منهج ريفيل المسار العام</a>	5



## اختبار بنمط نهاية الفصل الدراسي الثالث

مؤسسة الإمارات  
للتعليم المدرسي  
EMIRATES SCHOOLS  
ESTABLISHMENT

الدرجة 60

الاسم : .....  
الصف : الثالث (.....)

السؤال الأول: ضع دائرة حول رمز الإجابة الصحيحة (4 درجات لكل مفردة)



1) تسع غلاية آمنة 3 لترات أو 3,000 L من الماء ، فإذا استخدمت 455 mL من الماء لإعداد القليل من القهوة ، فما هي كمية الماء التي تبقت في الغلاية؟

- Ⓐ 3455 mL      Ⓑ 2,655 mL      Ⓒ 2,545 mL



2) اختر الوقت الذي تحدده الساعة التناظرية

- Ⓐ 3:39      Ⓑ 4:40      Ⓒ 4:39

السرراويل التي تم ارتداؤها للمدرسة	
نوع السرراويل	علامات الإحصاء
جينز	
السرراويل القطنية	
سرراويل الصوف	
سرراويل رياضية	

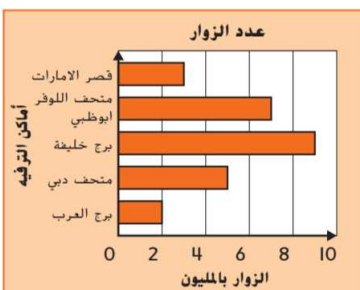
3) باستخدام التمثيل البياني كم سرراولا من الصوف تم ارتداؤه أكثر من السرراويل القطنية؟

- Ⓐ 2      Ⓑ 3      Ⓒ 4

مقاسات أحذية الصف الثالث	
مقاس 2	
مقاس 4	
مقاس 6	
مقاس 8	
المفتاح:  = 4 طلاب	

4) وفقاً للرسم التصويري، كم عدد الطلاب الذين شاركوا بالاستطلاع؟

- Ⓐ 20      Ⓑ 30      Ⓒ 40

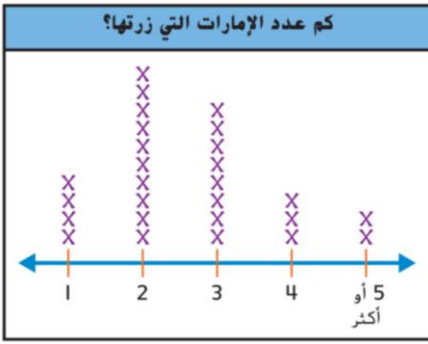


5) باستخدام التمثيل البياني بالأعمدة كم شخص إضافي زار برج خليفة أكثر من قصر الإمارات و برج العرب ؟

- Ⓐ 3 مليون      Ⓑ 4 مليون      Ⓒ 5 مليون

6) أي جملة صحيحة بشأن البيانات؟

- Ⓐ أغلب الطلاب زاروا 4 إمارات  
Ⓑ عدد الطلاب الذين شاركوا بالاستطلاع 29  
Ⓒ معظم الطلاب زاروا إمارتين أو أكثر




7) كم عدد القطع المستقيمة التي تظهر في قطعة البسكويت هذه؟



- Ⓐ 6                      Ⓑ 8                      Ⓒ 10

8) كم عدد أضلاع و زوايا هذا الشكل؟



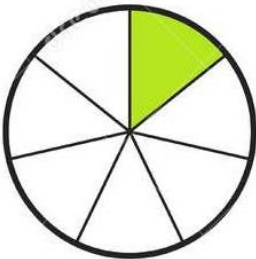
- Ⓐ 6                      Ⓑ 8                      Ⓒ 10

4) أي عبارة تعد صحيحة و تصف الأشكال التالية؟



- Ⓐ الشكلان 2 و 4 رباعيا أضلاع  
Ⓑ الشكلان 1 و 4 متوازيا أضلاع  
Ⓒ الشكلان 1 و 3 رباعيا أضلاع

10) ما هو كسر الوحدة الذي يمثل هذا الشكل؟

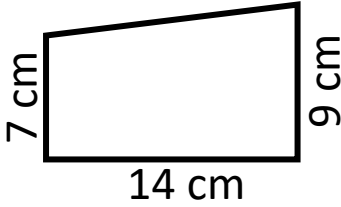


- Ⓐ  $\frac{1}{5}$                       Ⓑ  $\frac{1}{6}$                       Ⓒ  $\frac{1}{7}$

11) ما هو الشكل الذي له وجه مربع واحد و 4 أوجه مثلثة ، و 8 حواف و 5 رؤوس؟

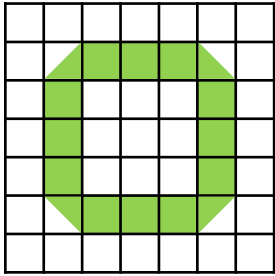
- Ⓐ هرم مربع      Ⓑ منشور مستطيل      Ⓒ أسطوانة

12) ما هو طول الضلع المجهول إذا كان المحيط  $48 \text{ cm}$ ؟



- Ⓐ 22 cm      Ⓑ 20 cm      Ⓒ 18 cm

13) ما هي مساحة هذا الشكل؟



- Ⓐ 13 وحدة مربعة      Ⓑ 14 وحدة مربعة      Ⓒ 15 وحدة مربعة

14) أوجد الضلع المجهول إذا كانت المساحة هي  $48 \text{ cm}^2$



و الطول  $8 \text{ cm}$ ؟

- Ⓐ 8 cm      Ⓑ 7 cm      Ⓒ 6 cm

15) أي مستطيل له نفس محيط المستطيل B ولكن

مساحته مختلفة؟

المستطيل	الطول	العرض
A	7	6
B	7	7
C	9	3
D	8	6
E	8	5

- Ⓐ المستطيل B  
Ⓑ المستطيل D  
Ⓒ المستطيل E