

تم تحميل هذا الملف من موقع المناهج الإماراتية



مراجعة درس motion change can Force منهج انسابير

موقع المناهج ← المناهج الإماراتية ← الصف الثالث ← علوم ← الفصل الأول ← ملفات متنوعة ← الملف

تاريخ إضافة الملف على موقع المناهج: 2024-11-25 10:37:17

ملفات اكتب للمعلم اكتب للطالب الاختبارات الكترونية الاختبارات ا حلول اعروض بوربوينت ا أوراق عمل منهج انجليزي ا ملخصات وتقارير ا مذكرات وبنوك الامتحان النهائي للمدرس

المزيد من مادة علوم:

إعداد: Nisha

التواصل الاجتماعي بحسب الصف الثالث



صفحة المناهج الإماراتية على فيسبوك

الرياضيات

اللغة الانجليزية

اللغة العربية

التربية الاسلامية

المواد على تلغرام

المزيد من الملفات بحسب الصف الثالث والمادة علوم في الفصل الأول

أسئلة الامتحان النهائي منهج انسابير العام 2023-2024

1

حل تجميعية أسئلة صفحات الكتاب وفق الهيكل الوزاري منهج بريدج

2

أسئلة الامتحان النهائي منهج انسابير العام 2022-2023

3

حل الكراسة التدريبية للاختبار النهائي وفق الهيكل الوزاري

4

الكراسة التدريبية للاختبار النهائي وفق الهيكل الوزاري

5

Circle the correct answer

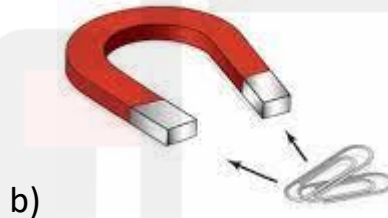
1. The push and pull are called

- a) Speed
- b) Motion
- c) Force

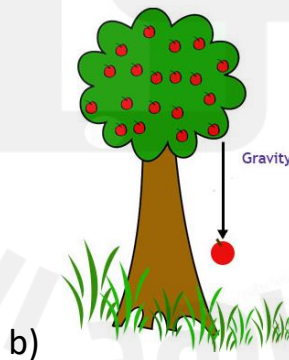
2. Which motion needs a small force?



3. Which is a pushing force?



4. Which is a pulling force?

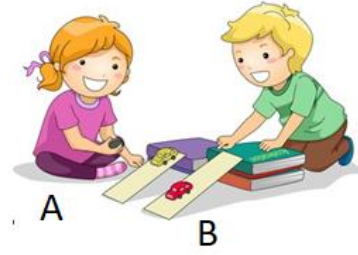


5. The force that opposes the motion between two surfaces is

- a) Gravity
- b) Friction
- c) Magnetic force

6. Which car will move faster and farther ?

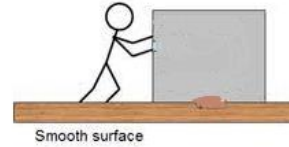
- a) Car A
- b) Car B
- c) Both A and B will move with same speed



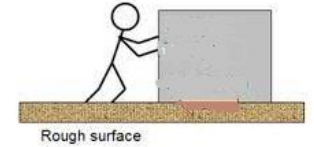
7. Which surface will have less friction?

- a) Surface A
- b) Surface B
- c) Both surfaces will have same friction

Surface A



Surface B



8. _____ forces are equal in size and opposite in direction.


- a) Balanced
- b) Unbalanced
- c) Gravity

9. Which force can make an object to move?

- a) Balanced force
- b) Unbalanced force
- c) Both a and b

10. Which is an unbalanced force?

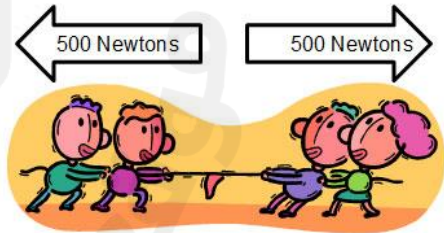
a)



b)



c)



11. How can you move the table?

- a) Pushing the table
- b) Pulling the table
- c) Both a and b



12. How do forces change the motion of a ball?

- a) Force can change the speed of the motion of ball
- b) Force can change the direction of the motion of ball
- c) All the above