

كل ما يحتاجه الطالب في جميع الصفوف من أوراق عمل واختبارات ومذكرات، يجده هنا في الروابط التالية لأفضل مواقع تعليمي إماراتي 100 %

<u>تطبيق المناهج الإماراتية</u>	<u>الاجتماعيات</u>	<u>الرياضيات</u>
<u>الصفحة الرسمية على التلغرام</u>	<u>الاسلامية</u>	<u>العلوم</u>
<u>الصفحة الرسمية على الفيسبوك</u>	<u>الانجليزية</u>	
<u>التربية الاخلاقية لجميع الصفوف</u>	<u>اللغة العربية</u>	
<u>التربية الرياضية</u>		
مجموعات التلغرام.	مجموعات الفيسبوك	قنوات تلغرام
<u>الصف الأول</u>	<u>الصف الأول</u>	<u>الصف الأول</u>
<u>الصف الثاني</u>	<u>الصف الثاني</u>	<u>الصف الثاني</u>
<u>الصف الثالث</u>	<u>الصف الثالث</u>	<u>الصف الثالث</u>
<u>الصف الرابع</u>	<u>الصف الرابع</u>	<u>الصف الرابع</u>
<u>الصف الخامس</u>	<u>الصف الخامس</u>	<u>الصف الخامس</u>
<u>الصف السادس</u>	<u>الصف السادس</u>	<u>الصف السادس</u>
<u>الصف السابع</u>	<u>الصف السابع</u>	<u>الصف السابع</u>
<u>الصف الثامن</u>	<u>الصف الثامن</u>	<u>الصف الثامن</u>
<u>الصف التاسع عام</u>	<u>الصف التاسع عام</u>	<u>الصف التاسع عام</u>
<u>الصف التاسع متقدم</u>	<u>الصف التاسع متقدم</u>	<u>الصف التاسع متقدم</u>
<u>الصف العاشر عام</u>	<u>الصف العاشر عام</u>	<u>الصف العاشر عام</u>
<u>الصف العاشر متقدم</u>	<u>الصف العاشر متقدم</u>	<u>الصف العاشر متقدم</u>
<u>الحادي عشر عام</u>	<u>الحادي عشر عام</u>	<u>الحادي عشر عام</u>
<u>الحادي عشر متقدم</u>	<u>الحادي عشر متقدم</u>	<u>الحادي عشر متقدم</u>
<u>ثاني عشر عام</u>	<u>الثاني عشر عام</u>	<u>الثاني عشر عام</u>
<u>ثاني عشر متقدم</u>	<u>الثاني عشر متقدم</u>	<u>الثاني عشر متقدم</u>

السؤال الأول

51

ضع دائرة حول رمز الإجابة الصحيحة فيما يأتي :



(1) ما أفضل تقدير لكتلة ؟

a) 10 kg

b) 5 g

c) 1 g

d) 1 kg



(2) ما أفضل تقدير لقياس سعة ؟

a) 50 mL

b) 50L

c) 5 L

d) 1 mL



(3) ما الوقت الذي تشير إليه الساعة ؟

a) 10:30

b) 9:30

c) 9:28

d) 10:28

يساوي 5 كعكات .



(4) يوضح مفتاح الرسم التصويري أن كل رمز

كم رمزاً يساوي 20 كعكة ؟

a) 5

b) 10

c) 4

d) 6

5) وفقاً لمخطط الإحصاء ، كم عدد الطلاب الذين شاركوا في الإستطلاع ؟

وسائل السفر المفضلة	
علامات الإحصاء	وسائل السفر
	طائرة
	سيارة

a) 15

b) 17

c) 20

d) 14

6) يوضح التمثيل البياني بالأعمدة ألوان القمصان التي يفضلها عدد من الأشخاص .

ما اللون الذي يفضله معظم الأشخاص ؟




a) الأخضر

b) الأحمر

c) الأزرق

d) البرتقالي

7) أوجد محيط الشكل المظلل .



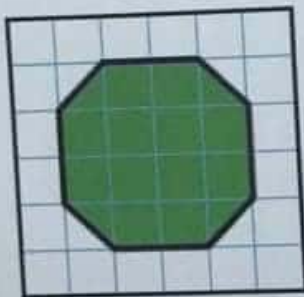
a) 6

b) 14

c) 12

d) 10

8) أوجد مساحة الشكل المظلل بالوحدات المربعة .



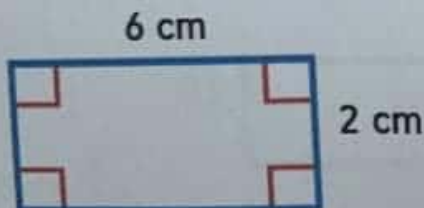
a) 10

b) 14

c) 13

d) 11

أي معادلة يمكن استخدامها لإيجاد مساحة المستطيل ؟




a) $6 + 2 = 8$

b) $6 \div 2 = 3$

c) $6 - 2 = 4$

d) $6 \times 2 = 12$

10) ما عدد أضلاع الشكل ؟ 

- a) 7
c) 6



- b) 5
d) 4



11) حدد اسم الشكل 

- a) شعاع
c) نقطة



- b) مستقيم
d) قطعة مستقيمة



12) حدد الشكل الذي يدل على مثلث قائم ؟

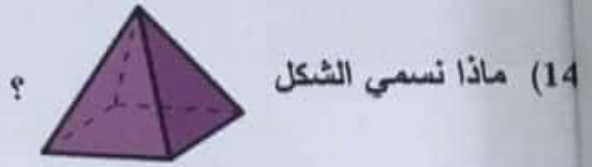
- a) 
c) 

- b) 
d) 

13) أي من هذه الأشكال ليس متوازي أضلاع ؟

- a) 
c) 

- b) 
d) 



- a) مخروط
b) كرة
c) هرم مربع
d) أسطوانة

15) أي شكل من الأشكال له رأس فقط ؟



- a) 10
b) 17
c) 16
d) 12




17) أوجد قيمة العملات المعدنية

- a) AED 2.10
b) AED 2.25
c) AED 2.50
d) AED 2.30

أولاً:

49

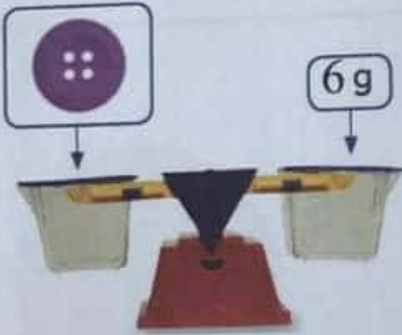
18) أوجد السعة الإجمالية للسائل في الأوعية المجاورة .



19) ارسم العقربين على الساعة لتبين الفترة الزمنية .



20) اكتب معادلة بها حرف يمثل المجهول . ثم حلها .
ما كتلة 5 أزرار ؟



ثانياً:

21) تشتري هند دمية محشوة . وتدفع بورقة نقدية من فئة 5 دراهم إمارتية .
كم مبلغ باقي الصرافة الذي يجب أن تحصل عليه .

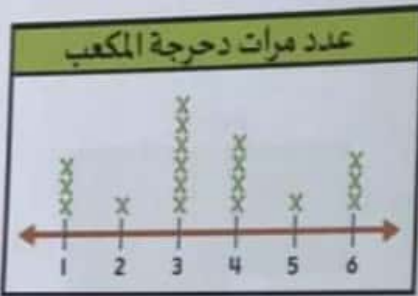
AED 3.45



أكمل التمثيل البياني المصور ذا المقياس باستخدام البيانات من التمثيل البياني بالأعمدة .
تمثيل بياني بالأعمدة

تمثيل بياني ذو مقياس

أنشطة العطلة الصيفية	
	الصيد
	المشي
	السباحة
المفتاح: ♥ = صوتان	



(23) وفقاً لمخطط النقاط المجمعة كم مرة تم دحرجة المكعب ؟

.....
.....

رابعاً :



(24) يرغب محمد في تقسيم الفطيرة إلى 8 قطع متساوية .
اكتب الكسر الذي ستمثله كل قطعة من مساحة الفطيرة ؟

.....
.....

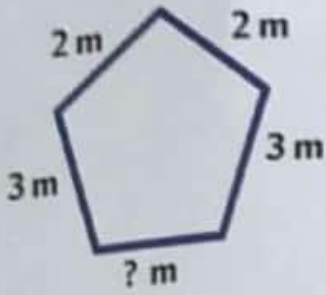
(25) اكتب اسم الشكل ثلاثي الأبعاد الذي ليس له أوجه ولا حواف ولا رؤوس .



.....
.....

خامسًا :

(26) أوجد طول الضلع المجهول في الشكل المجاور إذا كان محيطه 12 مترًا .

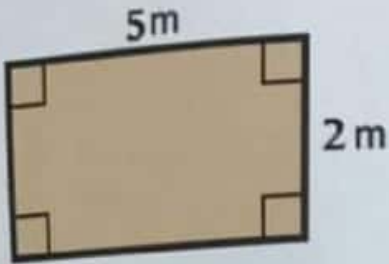


.....

.....

.....

(27) أوجد محيط المستطيل الموضح في الشكل .

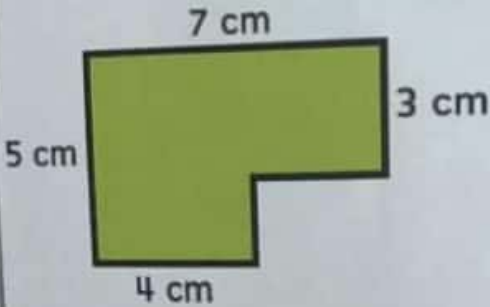


.....

.....

.....

(28) أوجد مساحة الشكل المركب .




.....

.....

.....

(29) ارسم مستطيلًا مساحته 3 وحدات مربعة ومحيطه 8 وحدات .



انتهت الأسئلة
بالتوفيق والنجاح