

تم تحميل هذا الملف من موقع المناهج الإماراتية



مراجعة اختبار كويز 1 quiz for Revision 1 منهج انسابير

موقع المناهج ← المناهج الإماراتية ← الصف الثالث ← علوم ← الفصل الأول ← اختبارات ← الملف

تاريخ إضافة الملف على موقع المناهج: 20:17:00 2024-10-19

ملفات اكتب للمعلم اكتب للطالب | اختبارات الكترونية | اختبارات | حلول | عروض بوربوينت | أوراق عمل
منهج انجليزي | ملخصات وتقارير | مذكرات وبنوك | الامتحان النهائي للمدرس

المزيد من مادة
علوم:

التواصل الاجتماعي بحسب الصف الثالث



صفحة المناهج
الإماراتية على
فيسبوك

الرياضيات

اللغة الانجليزية

اللغة العربية

التربية الاسلامية

المواد على تلغرام

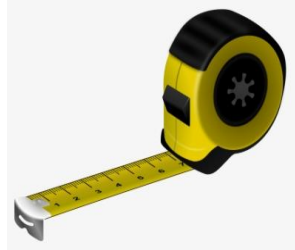
المزيد من الملفات بحسب الصف الثالث والمادة علوم في الفصل الأول

أسئلة اختبار التقويم الأول أصحاب الهمم	1
نموذج الاختبار التكويني الأول	2
أوراق عمل درس القوى والحركة Motion and Forces متبوعة بالإجابات	3
ملخص وشرح الدرس الثاني Force can make change من الوحدة الأولى	4
نموذج اختبار تشخيصي	5

Review for Quiz 1

Circle the letter corresponding to the correct answer.

1. Which object can be used to measure distance?



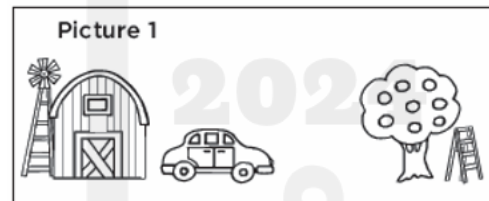
2. This is a Push force



3. What is the position of the car?

A. Near the barn.

B. Near the tree.



4. How does the ride move?

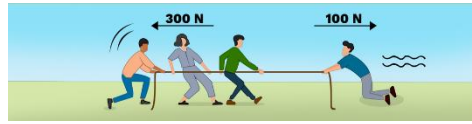
A. Straight Line

B. Round and Round

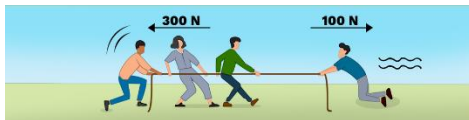


Review for Quiz 1

5. This is a balanced force



6. This is an unbalanced force



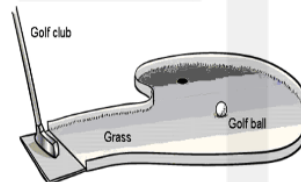
7. Where is the cat?

- A. On the box
- B. In the box



8. What slows the golf ball?

- A. gravity
- B. friction



9. How does the girl move?

- A. Back and forth
- B. Round and Round



10. What is speed?


- A. How fast or slow something.
- B. Is the location of an object.

Review for Quiz 1

11. Circle which animal moves the fastest?



12. Which force is lighter?

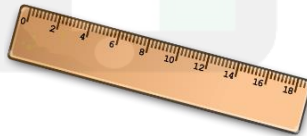
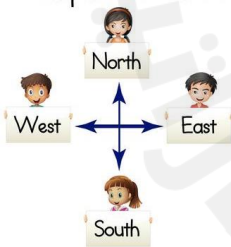


13. Which force is stronger?

A. feather

B. Train

14. Which pictures shows direction?



15. What is a Force?

A. Push and pull

B. Makes things slow and stop.