

شكراً لتحميلك هذا الملف من موقع المناهج الإماراتية



أوراق عمل مراجعة التقويم الأول

موقع المناهج ← المناهج الإماراتية ← الصف الثالث ← رياضيات ← الفصل الثاني ← الملف

التواصل الاجتماعي بحسب الصف الثالث



روابط مواد الصف الثالث على تلغرام

[الرياضيات](#)

[اللغة الانجليزية](#)

[اللغة العربية](#)

[التربية الاسلامية](#)

المزيد من الملفات بحسب الصف الثالث والمادة رياضيات في الفصل الثاني

[حل أسئلة الامتحان النهائي - ريفيل](#)

1

[أسئلة الامتحان النهائي - بريدج](#)

2

[مراجعة امتحانية نهائية - ريفيل](#)

3


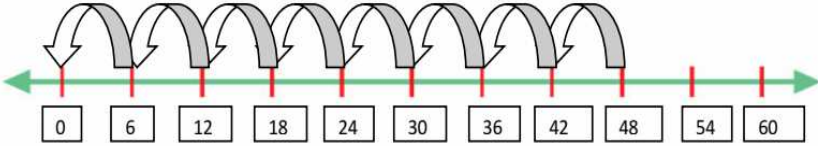
[أسئلة الامتحان النهائي - ريفيل](#)

4

[تجميع أسئلة وفق الهيكل الوزاري](#)

5

ضع دائرة حول الإجابة الصحيحة :

العدد المجهول في جملة القسمة $27 \div 3 =$		
8	7	9
إذا كان ثمن 6 كتب هو 36 درهماً فإن ثمن الكتاب الواحد		
5	6	7
حصلت خلود على إجازة لمدة 5 أسابيع فإن عدد أيام إجازة خلود تساوي		
35	20	30
العامل المجهول في جملة الضرب $4 \times \square = 32$ هو		
4	8	7
الجملة العددية $3 \times 1 = 3$ تمثل خاصية		
التبديل في الضرب	المحايد الضربي	الضرب في صفر
الجملة التي تمثل القاعدة : عند قسمة عدد على واحد يكون الناتج هو العدد نفسه هي		
$5 \div 1 = 5$	$5 \div 5 = 1$	$0 \div 5 = 0$
الجملة التي تساعدك في إيجاد ناتج 5×6 بمضاعفة حقيقة معروفة هي		
3×6	2×6	5×3
		
الجملة التي تمثل خط الأعداد		
$2 + 2 = 4$	$2 \times 4 = 8$	$8 \div 2 = 4$
الجملة التي تمثل خط الأعداد		
		
$48 \div 6 = 8$	$8 \times 6 = 48$	$8 + 8 + 8 + 8 + 8 + 8 = 48$
يرغب 9 أصدقاء بمشاركة 9 قطع حلوى فكم عدد قطع الحلوى التي يحصل عليها كل واحد منهم ؟		

$0 \div 9 = 0$	$9 \div 1 = 9$	$9 \div 9 = 1$
		
$4 \times 6 = 24$	$6 + 6 = 12$	$2 \times 6 = 12$
القيمة المجهولة = $36 \div \square = 9$ → $9 \times \square = 36$		
5	6	4
لدى وفاء 10 علب وضعت في كل علبه 6 حبات فراولة فكم إجمالي حبات الفراولة التي وضعتها وفاء في الصناديق		
36	60	16

أوجد ناتج القسمة واكتب حقيقة الضرب المترابطة :

$$16 \div 2 = \text{----}$$

$$20 \div 5 = \text{----}$$

$$\times \text{---} = 16$$

$$4 \times \text{----} = 20$$

الجَبْرُ أَوْجِدُ قِيَمَةَ كُلِّ مَجْهُولٍ. حَلِّلِ العَامِلِ 7 إلى $5 + 2$.

$$1. 7 \times 10 = \blacksquare$$

$$2. 5 \times 7 = \blacksquare$$

$$5 \times 10 = \text{-----}$$

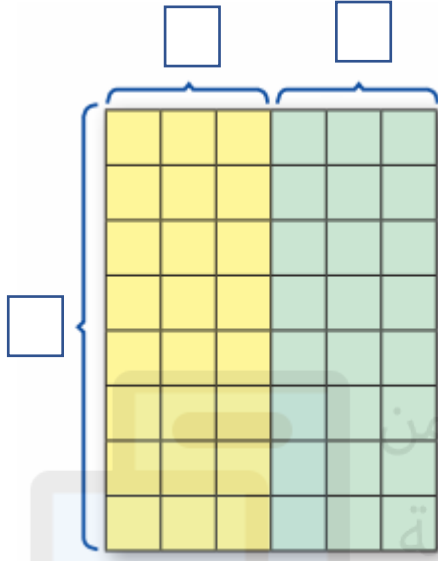
$$5 \times 5 = \text{-----}$$

$$2 \times 10 = \text{-----}$$

$$5 \times 2 = \text{-----}$$

..... هو المَجْهُولُ هو

..... هو المَجْهُولُ هو



ضاعف الحقيقة المعروفة لإيجاد حاصل ضرب 8×6

$$8 \times \dots = \dots$$

$$\dots \times 3 = \dots$$

$$24 + \dots = \dots$$

$$8 \times 6 = \dots$$

تم تحميل هذا الملف من
موقع المناهج الإماراتية

alManahi.com/ae

استخدم مضاعفة حقيقة معروفة لإيجاد ناتج 9×4

.....

.....

.....

.....

لعب خليل كرة الطائرة من الساعة 2:30 مساءً إلى الساعة 4:00 مساءً وأحرز 8 نقاط في كل
تمرين فكم عدد النقاط التي أحرزها في 6 تمارين؟ هل هناك معلومات زائدة أو ناقصة؟

.....

.....