

تم تحميل هذا الملف من موقع المناهج الإماراتية



أوراق عمل التقويم الأول اختيار من متعدد

[موقع المناهج](#) ← [المناهج الإماراتية](#) ← [الصف الثالث](#) ← [علوم](#) ← [الفصل الثالث](#) ← [الملف](#)

تاريخ إضافة الملف على موقع المناهج: 04:02:31 2024-05-08

التواصل الاجتماعي بحسب الصف الثالث



اضغط هنا للحصول على جميع روابط "الصف الثالث"

روابط مواد الصف الثالث على تلغرام

[الرياضيات](#)

[اللغة الانجليزية](#)

[اللغة العربية](#)

[التربية الاسلامية](#)

المزيد من الملفات بحسب الصف الثالث والمادة علوم في الفصل الثالث

مراجعة Review Traits Plant خصائص النبات	1
حل مراجعة Review Traits Plant خصائص النبات	2
حل مهمة أداء عملي التغيرات الفيزيائية والكيميائية	3
مهمة أداء عملي التغيرات الفيزيائية والكيميائية	4
أوراق عمل الدرسين الثاني والثالث التغيرات الفيزيائية والتغيرات الكيميائية من الوحدة الثامنة	5



Science Quiz 1

Grade 3

Name: _____

Section _____

/20

Instructions. Please read all questions carefully and choose the correct answer.

Question 1

Circle the correct answer

Pollen is produced by the male part of a flower

1. False
2. True

(1)

Question 2

Circle the correct answer

Baby plant inside a seed is called a stem

1. True
2. False

(1)

Question 3

Circle the correct answer

All plants have the same life cycle

1. True
2. False

(1)



Question 4

Circle the correct answer

Which part of the plant grows first after germination?

1. Leaves
2. Roots

(1)

Question 5

Circle the correct answer

This part supports the plant.

1. Leaves
2. Stem

Question 6

Write down the correct answer

What does a plant need to grow?

- a) _____
- b) _____
- c) _____
- d) _____
- e) _____

(5)



Question 7

Complete the sentence using the word bank

_____ is when a plant grows from a seed.

Insects, birds and the wind help with the process of

_____.

An organism will _____ which means it is making more of itself.

The fruit _____ the seed.

Word bank

Reproduce

Germination




Pollination

Protects



Question 8

Match the picture with the correct term

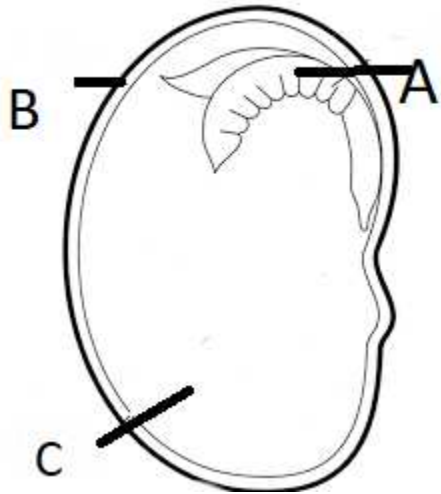
		Roots
		Stem
		Conifer

(3)



Question 9

Label the seed using the vocabulary provided on the box.



Seed Coat

Stored food

Embryo

a) _____

b) _____

c) _____