

شكراً لتحميلك هذا الملف من موقع المناهج الإماراتية



حل أسئلة الامتحان النهائي

[موقع المناهج](#) ← [المناهج الإماراتية](#) ← [الصف الثالث](#) ← [علوم](#) ← [الفصل الثاني](#) ← [الملف](#)

التواصل الاجتماعي بحسب الصف الثالث



روابط مواد الصف الثالث على تلغرام

[الرياضيات](#)

[اللغة الانجليزية](#)

[اللغة العربية](#)

[التربية الاسلامية](#)

المزيد من الملفات بحسب الصف الثالث والمادة علوم في الفصل الثاني

أسئلة الامتحان النهائي - انسابير	1
أسئلة الامتحان النهائي - بريدج	2
حل أسئلة الامتحان النهائي	3
أسئلة الامتحان النهائي	4
مراجعة عامة لصور الكتاب	5



Grade

3

امتحان نهاية الفصل الدراسي الثاني 2021/2022

		Student Name / اسم الطالب
		School / المدرسة
3		Class / الصف
Science	العلوم	Subject / المادة
McGraw Hill		

Grade	100	الدرجة
-------	-----	--------

		Teacher Name / اسم المعلم
		sign / التوقيع

- يحظر تصوير أو تداول الورقة الامتحانية قبل أو أثناء أو بعد الامتحان من خلال البريد الالكتروني أو وسائل التواصل الاجتماعي أو أي وسيلة أخرى ومن يخالف ذلك سيتخذ في حقه الإجراءات القانونية المتبعة.
- على إدارت المدارس ولجان الامتحانات ومراكز التقدير مراعاة ذلك ورصد أي مخالفات والعمل على اتخاذ الإجراءات اللازمة.



- It is prohibited to photocopy or circulate the exam paper before / during and after the exam through e-mail, social media or any other means; and whoever violates this will be subject to the followed legal proceedings.
- School Administrations, Exam Committees and Marking Centers shall take this into account, monitor violations and take necessary measures.




X1AJM000384AR03GENSCIT2P261

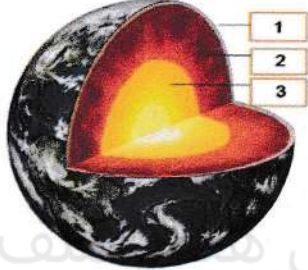



Circle the letter corresponding to the correct answer.	ضع دائرة حول رمز الإجابة الصحيحة.
--	-----------------------------------

Question	1	1	السؤال
Which of the following covers most of the earth's surface?			أي مما يلي يغطي معظم مساحة سطح الأرض؟
A	Oceans		المحيطات
B	Rivers		الأنهار
C	Streams		الجدول

Question	2	2	السؤال
The figure below shows the ocean floor. Which of the following does the letter (C) refer to?			يوضح الشكل أدناه قاع المحيط. أي مما يلي يشير إليه الحرف (C)؟
			
A	Coast		الساحل
B	Continental shelf		الرف القاري
C	Trench		الخدق



Question	3	3	السؤال
In the figure below, which number of the following indicates the mantle layer?			في الشكل أدناه ، أي رقم مما يلي يشير إلى طبقة الوشاح؟
			
A	1		1
B	2		2
C	3		3


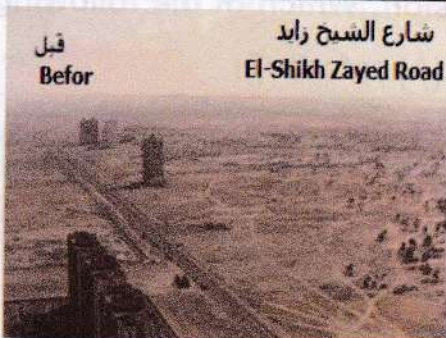
Question	4	4	السؤال
What does the image below show?			ما الذي توضحه الصورة أدناه؟
			
A	Earthquake		الزلزال
B	Volcano		البركان
C	A flood		الفيضان






Question	5	5	السؤال
The figure below shows a volcanic explosion . Which of the following does the letter (A) refer to?			يوضح الشكل أدناه انفجار بركاني . أي مما يلي يشير إليه الحرف (A)؟
			
A	Volcanic mountain		جبل بركاني
B	Magma		صهارة
C	Lava		حمم بركانية

Question	6	6	السؤال
Which event can be caused by heavy rains?			أي حدث ينتج عن الأمطار الغزيرة؟
A	Earthquake		الزلازل
B	A flood		الفيضان
C	Volcanic eruption		الثوران البركاني






Question	7	7	السؤال
	What does the image below show?		ما الذي توضحه الصورة أدناه؟
			شارع الشيخ زايد El-Shikh Zayed Road قبل Befor
A	Weathering		التجوية
B	Erosion		التعرية
C	People change		التغير الذي يحدثه الإنسان

Question	8	8	السؤال
	Which of the following pictures indicates erosion?		أي شكل مما يلي يعبر عن التعرية؟
			
	الحصى الهندسية A ventifact (A)	الاعمدة الترابية Hoodoos (B)	حمل المياه الجارية للصخور The rocks in this stream were carried (C)
A	A		A
B	B		B
C	C		C



Question	9	9	السؤال
	All of the following can cause weathering to rocks except		كل مما يلي يمكن أن يسبب تجوية للصخور باستثناء
A	Light		الضوء
B	Wind		الرياح
C	Plants		النباتات

Question	10	10	السؤال
	Which of the following is used to measure the amount of precipitation ?		أي مما يلي يستخدم لقياس كمية الهطول ؟
	  		
A	A		A
B	B		B
C	C		C



Question	11	11	السؤال																								
The chart below shows the weather conditions on three different days. On which day is it most likely to snow?			يوضح الجدول التالي حالات الطقس في ثلاثة أيام مختلفة. أي يوم يَعلَب احتمال هطول الثلوج؟																								
	<table border="1"> <thead> <tr> <th>Day</th> <th>Cloudiness</th> <th>Temperature (°C)</th> </tr> </thead> <tbody> <tr> <td>1</td> <td>no clouds</td> <td>1</td> </tr> <tr> <td>2</td> <td>cloudy</td> <td>-2</td> </tr> <tr> <td>3</td> <td>partly cloudy</td> <td>3</td> </tr> </tbody> </table>	Day	Cloudiness	Temperature (°C)	1	no clouds	1	2	cloudy	-2	3	partly cloudy	3	<table border="1"> <thead> <tr> <th>اليوم</th> <th>الغيوم</th> <th>درجة الحرارة (°C)</th> </tr> </thead> <tbody> <tr> <td>1</td> <td>يوجد سحبٌ قليلة</td> <td>1</td> </tr> <tr> <td>2</td> <td>مليئة بالغيوم</td> <td>-2</td> </tr> <tr> <td>3</td> <td>مليئة بالغيوم جزئياً</td> <td>3</td> </tr> </tbody> </table>	اليوم	الغيوم	درجة الحرارة (°C)	1	يوجد سحبٌ قليلة	1	2	مليئة بالغيوم	-2	3	مليئة بالغيوم جزئياً	3	
Day	Cloudiness	Temperature (°C)																									
1	no clouds	1																									
2	cloudy	-2																									
3	partly cloudy	3																									
اليوم	الغيوم	درجة الحرارة (°C)																									
1	يوجد سحبٌ قليلة	1																									
2	مليئة بالغيوم	-2																									
3	مليئة بالغيوم جزئياً	3																									
A	Day 1		اليوم 1																								
B	Day 2		اليوم 2																								
C	Day 3		اليوم 3																								

Question	12	12	السؤال
What the air is like at a certain time and in a definite place is known as.....			تعرّف حالة الهواء في وقتٍ مُعيّن وفي مكانٍ مُحدّدٍ باسم.....
A	Weather		الطقس
B	Seasons		فصول السنة
C	Precipitation		الهطول



Question	13	13	السؤال
Which kind of severe weather is not likely to happen in summer?		أي نوع من أنواع الطقس القاسي لا يحتمل حدوثه في فصل الصيف؟	
A	A thunderstorm		عاصفة رعدية
B	A hurricane		إعصار بحري
C	A blizzard		عاصفة ثلجية


تم تحميل هذا الملف من

موقع المناهج الإماراتية

alManahj.com/ae

Question	14	14	السؤال
After it rains, some water soaks into the soil and becomes.....		بعد هطول المطر، يَنسَرِبُ بعضُ الماءِ إلى التُّربةِ وَيُصْبِحُ.....	
A	Groundwater		ماء جوفياً
B	Water vapor		بخار ماء
C	Sleet		مطراً متجمداً



Question	15	15	السؤال
Look at the clouds below. If these clouds become darker, Which type of weather can you predict?			انظر إلى السُحُبِ فيما يلي. إذا أصبح لونُ هذه السُحُبِ أكثرَ قتامةً، فأيُّ نوعٍ من الطَّقسِ يُمكنُ أن تتنبأَ به؟
			
A	Fair		معتدل
B	Wet		ممطر
C	Dry		جاف

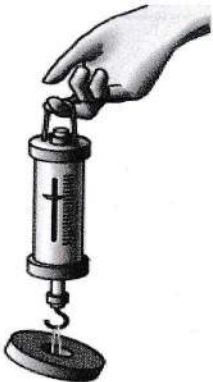


Question	16	16	السؤال
Use the illustration of the water cycle to answer the question. which number of the following indicates vaporation ?			إستخدامِ الرَّسْمِ التَّوْضِيحِيِّ لِدَوْرَةِ الْمَاءِ لِلْإِجَابَةِ عَنِ السُّؤَالِ: أي رقم مما يلي يشير إلى التبخّر ؟
A	1		1
B	2		2
C	3		3

Question	17	17	السؤال
The amount of space matter takes up is its.....			مِقْدَارُ الْحَيْزِ الَّذِي تَشْغَلُهُ الْمَادَّةُ هُوَ.....
A	Volume		الحجم
B	Weight		الوزن
C	Mass		الكتلة




Question	18	18	السؤال
An iron nail could be described by all of the following properties except			يُمكنُ وصف مسمارٍ حديديٍّ بكُلِّ من الخُصائصِ الآتية ما عدا.....
A	Hardness		الصَّلادة
B	Magnetism		المِغناطيسيَّة
C	Floats on water		الطَّفو على الماء

Question	19	19	السؤال
Which property of the matter is measured using the spring scale shown in the figure below?			أي من خواص المادة تُقاس باستخدام الميزان الزنبركي الموضح بالشكل أدناه؟
			
A	Weight		الوزن
B	Mass		الكتلة
C	Volume		الحجم



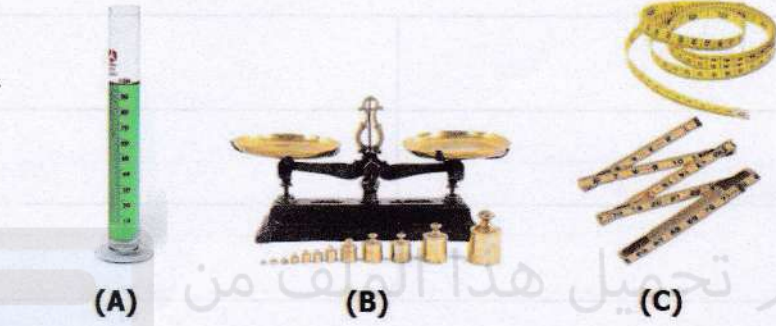
Question	20	20	السؤال																
<p>Scientists use tools to measure the properties of objects. Each measurement has a metric unit.</p> <p>Which number of the following refers to grams?</p>			<p>يستخدمُ العلماءُ الأدواتَ لقياسِ خصائصِ الأجسامِ. كلُّ قياسٍ له وحدةٌ متريةٌ.</p> <p>أي رقمٍ مما يلي يشير إلى الجرامات؟</p>																
	<table border="1"> <thead> <tr> <th>Property</th> <th>Metric Unit</th> </tr> </thead> <tbody> <tr> <td>length</td> <td>(1)</td> </tr> <tr> <td>mass</td> <td>(2)</td> </tr> <tr> <td>volume</td> <td>(3)</td> </tr> </tbody> </table>	Property	Metric Unit	length	(1)	mass	(2)	volume	(3)	<table border="1"> <thead> <tr> <th>الخاصيةُ</th> <th>الوحدةُ المتريةُ</th> </tr> </thead> <tbody> <tr> <td>الطولُ</td> <td>(1)</td> </tr> <tr> <td>الكتلةُ</td> <td>(2)</td> </tr> <tr> <td>الحجمُ</td> <td>(3)</td> </tr> </tbody> </table>	الخاصيةُ	الوحدةُ المتريةُ	الطولُ	(1)	الكتلةُ	(2)	الحجمُ	(3)	
Property	Metric Unit																		
length	(1)																		
mass	(2)																		
volume	(3)																		
الخاصيةُ	الوحدةُ المتريةُ																		
الطولُ	(1)																		
الكتلةُ	(2)																		
الحجمُ	(3)																		
A	1		1																
B	2		2																
C	3		3																

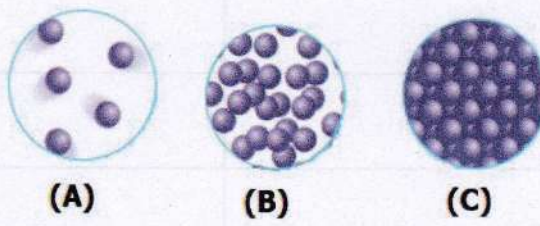


Question	21	21	السؤال
The figure below indicates how to measure the volume of a solid, study it and then answer the question: What is the volume of this rock?			الشكل أدناه يشير إلى كيفية قياس حجم جسم صلب، أدرسه ثم أجب عن السؤال: ما حجم هذه الصخرة؟
			
A	300 mls		300 mls
B	100 mls		100 mls
C	50 mls		50 mls

$$900 - 600 = 300$$






Question	22	22	السؤال
Which letter of the following refers to a tool that is used to measure the mass of an object ?			أي حرف مما يلي يشير إلى أداة تستخدم لقياس كتلة الجسم ؟
			
A	A		A
B	B		B
C	C		C

Question	23	23	السؤال
Which letter of the following refers to the particles of a solid substance ?			أي حرف مما يلي يشير إلى جسيمات المادة الصلبة ؟
			
A	A		A
B	B		B
C	C		C



Question	24	24	السؤال
Which of the following matter takes the shape of their containers?		أي مادة مما يلي تأخذ شكل حاويتها؟	
A	Wooden cube		مكعب خشب
B	Milk		حليب
C	Pills		حبوب

Question	25	25	السؤال
Which of the following is a liquid that you drink every day?		أي مما يلي سائل تشربه كل يوم؟	
  			
(A) (B) (C)			
A	A		A
B	B		B
C	C		C

انتهت الأسئلة

