

شكراً لتحميلك هذا الملف من موقع المناهج الإماراتية



أسئلة الامتحان النهائي بريدج

[موقع المناهج](#) ← [المناهج الإماراتية](#) ← [الصف الثالث](#) ← [علوم](#) ← [الفصل الأول](#) ← [الملف](#)

التواصل الاجتماعي بحسب الصف الثالث



روابط مواد الصف الثالث على تلغرام

[الرياضيات](#)

[اللغة الانجليزية](#)

[اللغة العربية](#)


[التربية الاسلامية](#)


المزيد من الملفات بحسب الصف الثالث والمادة علوم في الفصل الأول

ملخص الدرس الثاني النباتات وأجزاءها من الوحدة الثانية	1
ملخص الدرس الأول الكائنات الحية واحتياجاتها من الوحدة الثانية	2
حل أسئلة اختبار التقويم الأول	3
أسئلة اختبار التقويم الأول	4
أوراق عمل مراجعة شاملة	5

Circle the letter corresponding to the correct answer.




ضع دائرة حول رمز الإجابة الصحيحة.

Question		1	1	السؤال
Which of the following animals is carrying thorns to protect itself?				أي من الحيوانات التالية يحمل الأشواك لحماية نفسه؟
				
A			1	
B			2	
C			3	

Question		2	2	السؤال
Which image represents living things ?				أي صورة مما يلي تمثل كائنات حية ؟
				
A			1	
B			2	
C			3	



Question	3	3	السؤال
Which of the following images shows plant's leaves ?			أي من الصور التالية تدل على أوراق النبات؟
			
	1	2	3
A		1	
B		2	
C		3	

Question	4	4	السؤال
Which of the following performs the process of photosynthesis in the plant?			أي مما يلي يقوم بعملية البناء الضوئي في النبات؟
			
	1	2	3
A		1	
B		2	
C		3	



السؤال

Question

5

5

of the following plants is classified as
ring plant?

أي من النباتات التالية تُصنف كنبات مزهر؟



1



2



3

1

2

3

السؤال

Question

6

6

the following animals breathes
gills?

أي من الحيوانات التالية يتنفس بالخياشيم؟



1



2



3

1

2

3

Question	7	7	السؤال
Which of the following animals has sharp teeth that help to get food?			أي من الحيوانات التالية لديه أسنان حادة تساعد للحصول على غذائه؟



1



2



3

A		1
B		2
C		3

Question	8	8	السؤال
Which of the following animals belongs to the invertebrates ?			أي من الحيوانات التالية ينتمي إلى اللافقاريات ؟



1



2



3

A		1
B		2
C		3



Question

9

9

Which of the following organisms is classified as amphibians?

أي من الكائنات التالية يُصنّف من البرمائيات؟



1



2



3

1

2

3

Question


10

10

السؤال

Which of the following numbers indicates the embryo in the seed?

أي من الأرقام التالية يدل على الجنين في البذرة؟



1

2


3

Question 11
 Which of the following plants has the life cycle shown in the figure below?
 السؤال 11
 أي من النباتات التالية له دورة الحياة الموضحة بالشكل أدناه؟



Cherry	الكرز
Fern	السرخس
Pine	الصنوبر

Question 12
 Which of the following numbers refers to the formation of the larva in the life cycle of the ladybird?
 السؤال 12
 أي من الأرقام التالية يشير إلى تكون اليرقة في دورة حياة الدعسوقة؟



A	1
B	2
C	3



Question


13

13

السؤال

Which of the following cycles shows the correct life cycle of the **frog**?

أي دورة مما يلي تُوضح دورة حياة الضفدع الصحيحة؟



1

2

3

A	<input type="checkbox"/>	<input type="checkbox"/>	1	<input type="checkbox"/>
B	<input type="checkbox"/>	<input type="checkbox"/>	2	<input type="checkbox"/>
C	<input type="checkbox"/>	<input type="checkbox"/>	3	<input type="checkbox"/>

Question

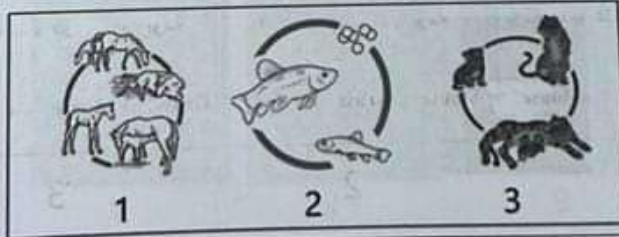
14

14

السؤال

Which cycle of the following is similar to that of a **sea turtle**?

أي دورة مما يلي تُشبه دورة حياة سلحفاة بحرية؟



1

2

3

A	<input type="checkbox"/>	<input type="checkbox"/>	1	<input type="checkbox"/>
B	<input type="checkbox"/>	<input type="checkbox"/>	2	<input type="checkbox"/>
C	<input type="checkbox"/>	<input type="checkbox"/>	3	<input type="checkbox"/>



15	15	السؤال
Following is considered as a		أي مما يلي يُعتبر صفة وراثية؟

الجروح والتندبات
Wounds and scars



1

راكوب الدراجة
Ride bicycle



2

لون العين
Eye color



3

1

2

3

16	16	السؤال
Which is the correct food chain?		أي مما يلي يمثل السلسلة الغذائية الصحيحة ؟

بومة ← عشب

Grass → Mouse

1

فأر ← عشب ← بومة

Mouse → Grass → Owl

2

عشب ← فأر ← بومة

Grass → Mouse → Owl

3

1

2


3



Question

Which number in the image expresses the **producers**?

أي رقم من الصورة يُعبر عن **المنتجات**؟



A	1
B	2
C	3

Question

Which image expresses **medical technology**?

ما هي الصورة التي تُعبر عن **التكنولوجيا الطبية**؟



1



2



3

A	1
B	2
C	3



19	19	السؤال
What is the last step in the design process?	ما هي الخطوة الأخيرة في عملية التصميم؟	
Identify the problem	تحديد المشكلة	
	براءة الاختراع	
Build a model	إنشاء النموذج	

20	20	السؤال
Which energy source reflects sustainable and friendly energy?	أي مما يلي يُعبر عن الطاقة المستدامة والصديقة للبيئة؟	



2

3

1

2

3

1	2	3	4	5	6	7	8	9	10
1	2	3	4	5	6	7	8	9	10
1	2	3	4	5	6	7	8	9	10
1	2	3	4	5	6	7	8	9	10
1	2	3	4	5	6	7	8	9	10
1	2	3	4	5	6	7	8	9	10
1	2	3	4	5	6	7	8	9	10
1	2	3	4	5	6	7	8	9	10
1	2	3	4	5	6	7	8	9	10
1	2	3	4	5	6	7	8	9	10

2023-2022

Science- Bridge

العلوم - جسر

السؤال

21

21

***** BONUS *****

***** BONUS *****
Following animals will
number of offspring?

أي من الحيوانات التالية يُنتج عددا أقل من الصغار؟



1



2



3

1

2

3

22

22

السؤال

***** BONUS *****
Which plants needs a
water?

***** BONUS *****

أي من النباتات التالية يحتاج إلى مساحة أكبر للنمو؟



1



2



3

1

2

3

Question	23	23	السؤال
***** BONUS *****		***** BONUS *****	
Which of the following animals belongs to the mollusks?		أي من الحيوانات التالية ينتمي إلى الرخويات؟	



1



2



3

A	1
B	2
C	3

Question	24	24	السؤال
***** BONUS *****		***** BONUS *****	
Which number of the following represents the leaves of a conifer plant?		أي رقم مما يلي يشير إلى أوراق نبات صنوبري؟	



1




2



3

A	1
B	2
C	3



السؤال	25	25
***** BONUS *****	***** BONUS *****	***** BONUS *****
ما الميزة التي تجعل الزهرة فريدة في نوعها؟	Which is the feature that makes a flower unique?	
		
A	Blond hair	الشعر الأشقر
B	Beautiful scent	الرائحة الجميلة
C	Smooth fur	الفرو الناعم

انتهت الأسئلة

