

تم تحميل هذا الملف من موقع المناهج الإماراتية



الملف النموذج التدريبي لامتحان متبوع بالحل

[موقع المناهج](#) ← [المناهج الإماراتية](#) ← [الصف الثالث](#) ← [رياضيات](#) ← [الفصل الأول](#)

روابط مواقع التواصل الاجتماعي بحسب الصف الثالث



روابط مواد الصف الثالث على تلغرام

[الرياضيات](#)

[اللغة الانجليزية](#)

[اللغة العربية](#)

[التربية الاسلامية](#)

المزيد من الملفات بحسب الصف الثالث والمادة رياضيات في الفصل الأول

[مراجعة مهارات شاملة](#)

1

[كتاب الطالب Reveal ريفيل المجلد الأول](#)

2

[كتاب دليل المعلم](#)

3

[أسئلة الامتحان النهائي ريفيل](#)

4

[أسئلة الامتحان النهائي بريدج](#)

5



النموذج التدريبي لمادة الرياضيات الفصل الدراسي الأول

الصف الثالث

تم تحميل المناهج الإماراتية

إدارة التقويم والامتحانات

2017
1438



الهدف

تهيئة الطلاب لتطبيق الامتحانات



إرشادات

تم تحميل هذا الملف من
AYIAQ

موقع المناهج الإماراتية

1. الاطلاع على النماذج التدريبية مسبقاً .
2. إمكانية توليد نماذج تدريبية على نمط النماذج المرفقة .
3. توظيف جهاز العرض في التدريب .
4. تنفيذ المفردات التدريبية بصورة فردية أو جماعية .
5. إنجاز التدريب ضمن الوقت المخصص قبل بداية الامتحان .

OKP






المفردات التدريبية :

1) اكتب القيمة المكانية للرقم 6 في العدد 4,568

2) اكتب العدد 3,180 بالصيغة الكلامية .

3) حدد الجملة العددية التي تمثل خاصية التبديل في الجمع .

 $1 + 0 = 1$  $1 + 6 = 6 + 1$  $(2 + 5) + 4 = 2 + (5 + 4)$

4) أوجد الفرق التقديري في المسألة $2,539 - 1,401$ مقربًا لأقرب 100 .

5) اكتب العدد الناقص في النمط .

615 , 625 , 635 , , 655 ^{OKP}

6) أوجد الناتج في كل مما يأتي :

a)
$$\begin{array}{r} 596 \\ + 231 \\ \hline \end{array}$$

b)
$$\begin{array}{r} 493 \\ - 310 \\ \hline \end{array}$$



تابع المفردات التدريبية:

(7) اكتب جملة جمع وجملة ضرب للمسألة .



تم تحميل هذا الملف من
AYIAQ
موقع المنهج الإلكتروني
(8) ما الجملتين العدديتين اللتين تمثلان خاصية التبديل في الضرب؟

☆ $3 \times 6 = 18; 2 \times 9 = 18$

☆ $6 \times 7 = 42; 7 \times 6 = 42$

☆ $9 + 11 = 20; 11 + 9 = 20$

(9) استخدم الطرح المتكرر لإيجاد $10 \div 2 = \dots\dots\dots$...




$10 \div 2 = \dots\dots\dots$...



تابع المفردات التدريبية:

(10) اكتب جملة قسمة وجملة ضرب مترابطتين .



تم تحميل هذا الملف من
AYIAQ

(11) اكتب مجموعة الحقائق للأعداد 2,7,14.

alManahi.com/ae

(12) أي زوج يظهر العمليات العكسية ؟

☆ $2 \times 2 = 4; 4 \div 2 = 2$

☆ $2 \times 2 = 4; 8 \div 4 = 2$

☆ $2 \times 2 = 4; 4 \div 4 = 1$

OKP

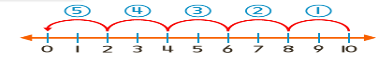
(13) هناك 8 جمال يُخَلَّف كل واحد منها 4 آثار للأقدام . كم عدد آثار الأقدام إجمالاً؟

انتهى التدريب

بالتوفيق والنجاح



إجابة المفردات التدريبية:

الإجابة	رقم المفردة
60	1
ثلاثة آلاف ومئة وثمانون	2
$1+6=6+1$	3
1100	4
645	5
827	a 6
183	b
$2+2+2=6$ $3 \times 2=6$	7
$6 \times 7=42$, $7 \times 6=42$	8
	9
$12 \div 2=6$ $2 \times 6=12$	10
$2 \times 7 = 14$ $7 \times 2 = 14$	11
$14 \div 2 = 7$ $14 \div 7 = 2$	
$2 \times 2 = 4$	12
$4 \div 2 = 2$	
انتهت الإجابة	$8 \times 4 = 32$
	13