

تم تحميل هذا الملف من موقع المناهج الإماراتية



الملف مراجعة الوحدة الحادية عشرة القياس

[موقع المناهج](#) ⇨ [المناهج الإماراتية](#) ⇨ [الصف الثالث](#) ⇨ [علوم](#) ⇨ [الفصل الثالث](#)

روابط مواقع التواصل الاجتماعي بحسب الصف الثالث



روابط مواد الصف الثالث على تلغرام

[الرياضيات](#)

[اللغة الانجليزية](#)

[اللغة العربية](#)

[التربية الاسلامية](#)

المزيد من الملفات بحسب الصف الثالث والمادة علوم في الفصل الثالث

مقررات الفصل الثالث	1
أوراق عمل الوحدة العاشرة.	2
ملخص علوم.	3
أوراق عمل الوحدة العاشرة مع الحل.	4
امتحان تحريبي في الوحدة 11	5

السعة : هي كمية السائل التي يمكن لوعاء أن يسعها
وحدات قياس السعة : اللتر (L) تستخدم للسعات الأكبر
المليتر (ML) تستخدم للسعات الأصغر

أصل بين الوعاء ووحدة القياس المناسبة :



المليتر

التر

* عبوة منظف سعتها 100 مليتر استخدمت منها سهى وبقي فيها 85 مليتر ماكمية
المنظف التي استخدمتها سهى ؟


.....

* عبوة حليب فيها 100 مليتر كم اجمالي كمية السائل الموجودة في 5 عبوات ؟

.....

الكتلة : هي كمية المادة الموجودة في الجسم
وحدات قياس الكتلة : الكيلو جرام K.g للأجسام الأثقل
الجرام g للأجسام الأخف
كل $1k.g = 1000 g$

أصل بين الجسم والوحدة المناسبة لقياس الكتلة :



الكيلو جرام

الجرام

* بين الميزان أن كتلة حقيبة 4kg كم إجمالي كتلة حقيبتين بالجرامات ؟

.....

* تبلغ كتلة صندوق التفاح 3kg وكتلة الصندوق فارغ تساوي 1kg كم كتلة التفاح ؟

.....

احسب الفترة الزمنية بين وقتين
نحسب وقت البداية ووقت النهاية ونحسب المدة بينهما
مثال :

وقت الانتهاء



وقت البداية



..... دقيقة

almanahj.com/ae

المنهج الإماراتية

وقت الانتهاء



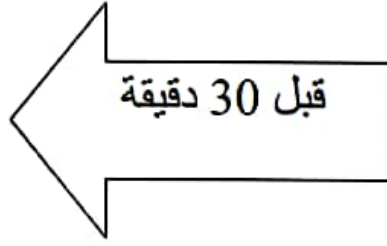
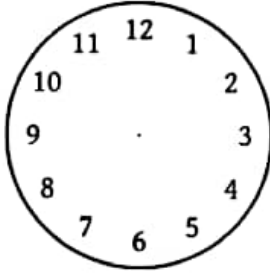
وقت البداية



..... دقيقة

حدد الوقت على الساعة





استخدم الترتيب العكسي لحل المسألة

* سافرت عبير في شهر مايو وقد ولدت أختها قبل 3 أشهر متى ولدت أختها؟

almanahj.com/ae

المنهج الإماراتية

* مع سالم الآن 6 قطع حلوى إذا أعطته أمه 4 قطع حلوى كم كان معه في البداية