

شكراً لتحميلك هذا الملف من موقع المناهج الإماراتية



## أسئلة الامتحان النهائي - انسابير

[موقع المناهج](#) ← [المناهج الإماراتية](#) ← [الصف الثالث](#) ← [علوم](#) ← [الفصل الثاني](#) ← [الملف](#)

## التواصل الاجتماعي بحسب الصف الثالث



## روابط مواد الصف الثالث على تلغرام

[الرياضيات](#)

[اللغة الانجليزية](#)

[اللغة العربية](#)

[التربية الاسلامية](#)

## المزيد من الملفات بحسب الصف الثالث والمادة علوم في الفصل الثاني


<a href="#">أسئلة الامتحان النهائي - انسابير</a>	1
<a href="#">أسئلة الامتحان النهائي - بريدج</a>	2
<a href="#">حل أسئلة الامتحان النهائي</a>	3
<a href="#">أسئلة الامتحان النهائي</a>	4
<a href="#">مراجعة عامة لصور الكتاب</a>	5


Circle the letter corresponding to the correct answer.

ضع دائرة حول رمز الإجابة الصحيحة.

## Part 1

## الجزء 1

Question	1	السؤال
Which of the following is <b>an extinct animal</b> ?		أي مما يلي <b>حيواناً مُنقرضاً</b> ؟
		
A	A	B
B	B	C
C	C	

Question	2	السؤال
Which of the following does <b>not</b> belong to the ecosystem shown below?		أي مما يلي <b>لا</b> ينتمي إلى النظام البيئي الموضح أدناه؟
		
A	Pine trees	أشجار الصنوبر
B	Fish	السمك
C	Sea turtles	السلحفاة البحرية



أي غاز مما يلي ينتجه النبات و يحتاج إليه الحيوان؟

3

## Question

Which of the following gases is produced by plants and is needed by animals?



الأكسجين

A

Oxygen

ثاني أكسيد الكربون

B

Carbon dioxide

النيتروجين

C

Nitrogen

alManahj.com/ae

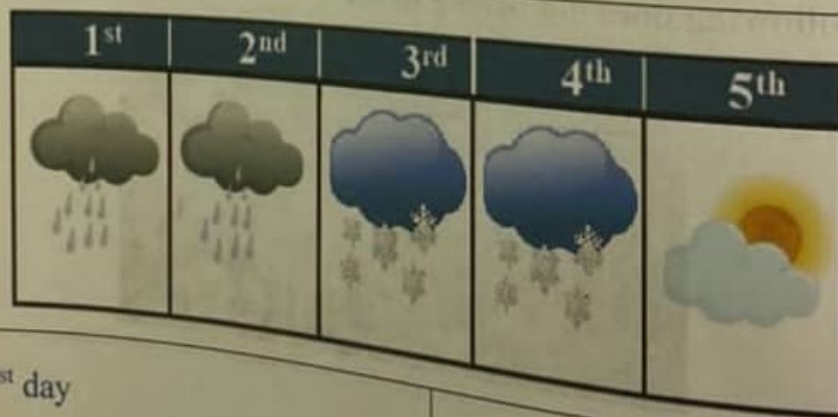
## Question

4

## السؤال

Which of the following days does **not** have precipitation?

أي من الأيام التالية لا يوجد به هطول؟



A

The 1<sup>st</sup> day

B

The 2<sup>nd</sup> day

اليوم الأول

C


The 5<sup>th</sup> day


اليوم الثاني

اليوم الخامس





Question	5	السؤال
Which of the following readings is represented in the measurement tool shown in the figure below?		أي من القراءات التالية تُمثله أداة القياس الموضحة في الشكل أدناه؟
		
A		30 °F
B		80 °F
C		20 °F

Question	6	السؤال
Which season is shown in the picture below?		أي موسم يظهر في الصورة أدناه؟
		
A	Fall	الخريف
B	Winter	الشتاء
C	Summer	الصيف



## Part 2

## الجزء 2

## Question

7

## السؤال

Which of the following layers is the **oldest**?

أي من الطبقات التالية هي الأقدم؟



A

B

C

4

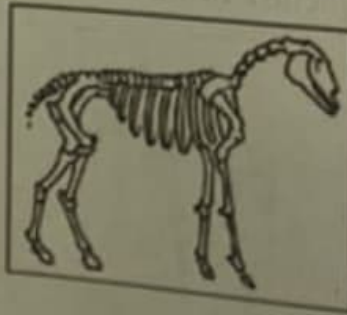
## Question

8

## السؤال

What can you infer about the animal that is shown in the fossil picture below?

ما الذي يُمكنك استنتاجه عن الحيوان الظاهر في الصورة الأحفورية أدناه؟



A

B

C

It could walk and run

It flew from tree to tree

It lived in the ocean


كان يمشي ويجري



















كان يطير من شجرة إلى شجرة

عاش في المحيط






Question	9	السؤال
In the picture below, how do growing plants change the environment?		في الصورة أدناه ، كيف تعمل النباتات لنامية على تغيير البيئة ؟
		
A	Growing plants repel animals	النباتات النامية تطرد الحيوانات
B	Growing plants take in water and nutrients	تأخذ النباتات النامية الماء والمواد المغذية
C	Growing plants increase air pollution	النباتات النامية تزيد من تلوث الهواء

Question	10	السؤال														
The weather pattern for six days in December is shown below. What could be the type of weather on the seventh day?		يُظهر الشكل أدناه نمط الطقس لستة أيام من شهر ديسمبر. ما الطقس المتوقع في اليوم السابع؟														
<table border="1" style="width: 100%; text-align: center;"> <thead> <tr> <th>1<sup>st</sup></th> <th>2<sup>nd</sup></th> <th>3<sup>rd</sup></th> <th>4<sup>th</sup></th> <th>5<sup>th</sup></th> <th>6<sup>th</sup></th> <th>7<sup>th</sup></th> </tr> </thead> <tbody> <tr> <td></td> <td></td> <td></td> <td></td> <td></td> <td></td> <td>?</td> </tr> </tbody> </table>			1 <sup>st</sup>	2 <sup>nd</sup>	3 <sup>rd</sup>	4 <sup>th</sup>	5 <sup>th</sup>	6 <sup>th</sup>	7 <sup>th</sup>							?
1 <sup>st</sup>	2 <sup>nd</sup>	3 <sup>rd</sup>	4 <sup>th</sup>	5 <sup>th</sup>	6 <sup>th</sup>	7 <sup>th</sup>										
						?										
A	The weather will be hot	سيكون الطقس حاراً														
B	The weather will be dry	سيكون الطقس جافاً														
C	The weather will be rainy	سيكون الطقس ممطراً														



Question		11	السؤال
Which of the following is <b>not</b> a natural hazard?			أي مما يلي <b>لا</b> يمثل خطرًا طبيعيًا؟
A	Earthquake		الزلازل
B	Floods		الفيضانات
C	Pollution		التلوث

Question		12	السؤال
In the figure below, which of the following areas of the earthquake will have the <b>strongest</b> vibrations?			في الشكل أدناه ، أي من مناطق الزلزال التالية ستكون بها الاهتزازات <b>أقوى</b> ؟
			Earthquake centre مركز الزلزال
A		A	
B		B	
C		C	





Question	13	السؤال
Which natural hazard is caused by gravity when it pulls heavy rocks, trees, and land?		من المخاطر الطبيعية التالية تسببه الجاذبية ما تسحب الصخور والأشجار والأرض؟



A



B




C

A	A
B	B
C	C

Question	14	السؤال
Levees can be used to prevent damage from .....		ن استخدام السدود لمنع الأضرار من .....
A	Earthquakes	لازل
B	Floods	ضانات
C	Wildfires	انق الغابات





Question		15	السؤال
Which of the following might cause floods?			أي مما يلي قد يتسبب في حدوث فيضانات؟
			
A	Drought		الجفاف
B	Rapid melting of snow		الذوبان السريع للثلج
C	Sunshine		أشعة الشمس

Question		16	السؤال
Which of the following is an emergency plan for natural hazards?			أي مما يلي هو خطة طوارئ للأخطار الطبيعية؟
A	Storing drinking water		تخزين مياه الشرب
B	Buying a big TV		شراء تلفزيون كبير
C	Video games		العباب الفيديو



## Part 3

## الجزء 3

## Question

17

## السؤال

Study the figure below and answer the following questions:

ادرس الشكل أدناه وأجب عن الأسئلة:

1



Volcanoes

البراكين

2



A spider spins a web

يغزل العنكبوت شبكة

3



Worms break down leaves

الديدان تحلل الأوراق

- Which number represents a small change to the ecosystem?

- أي رقم يُشير إلى تغييرًا بسيطًا في النظام البيئي؟

.....

.....

- Which number represents a big change to the ecosystem over a long period?

- أي رقم يُشير إلى تغييرًا كبيرًا في النظام البيئي على مدار فترة زمنية طويلة؟

.....

.....

- Which number represents a dramatic change to the ecosystem over a short time?

- أي رقم يُشير إلى تغييرًا جذريًا في النظام البيئي خلال فترة زمنية قصيرة؟

.....

.....





18

السؤال

## Question

Complete the following statements with one of these words: (**temperature, precipitation, weather, fossils, climate**)

- Scientists learn about dinosaurs by studying .....
- The pattern of weather in a certain place over a long period of time is called .....
- What the air is like at a certain time and place is called .....
- ..... is a measure of how hot or cold an object is.
- Water that falls to the grounds from the clouds is called.....

أكمل العبارات التالية بإحدى هذه الكلمات:  
(**درجة الحرارة، الهطول، الطقس، الأحافير، المناخ**)

- يتعرف العلماء على الديناصورات من خلال دراسة .....
- يسمى نمط الطقس في مكان معين على مدى فترة طويلة من الزمن .....
- تسمى حالة الجو في وقت و زمان معينين .....
- ..... هي مقياس مدى سخونة الجسم أو برودته.
- الماء الذي يسقط من السحاب الى الأرض يسمى .....

## Question

19

السؤال

The figure below represents three tools used to measure the weather, write the use of each tool in the adjacent box.








يمثل الشكل أدناه ثلاث أدوات تُستخدم لقياس الطقس، اكتب استخدام كل أداة في المربع المجاور.



Question

20

السؤال

The figure below represents the four seasons.

يُمثل الشكل أدناه الفصول الأربعة

Study it and answer the following questions:

ادرسه وأجب عن الأسئلة:



A



B



C



D

- Which letter represents the season that has the shortest hours of sunlight during the day?  
.....  
ما الحرف الذي يُمثل فصلا به أقصر ساعات من ضوء الشمس خلال النهار؟
- Which letter represents the hot season?  
.....  
ما الحرف الذي يُمثل الفصل الحار؟
- Which letter represents the fall season?  
.....  
ما الحرف الذي يُمثل فصل الخريف؟

\*\*\*\*\* BONUS \*\*\*\*\*

Question

21

السؤال

The table below shows the average temperature of five countries in July. Arrange the countries in ascending order according to the average temperature.

يوضح الجدول أدناه متوسط درجة الحرارة في يوليو في خمسة بلدان. رتب البلدان ترتيبًا تصاعديًا وفقًا لمتوسط درجة الحرارة.

متوسط الحرارة في يوليو				
الصين	إيسلاند	كينيا	البرازيل	المكسيك
China	Iceland	Kenya	Brazil	Mexico
28°C	13°C	25°C	29°C	30°C
(83°F)	56°F	77°F	(84°F)	(86°F)



## \*\*\*\*\* BONUS \*\*\*\*\*

Question	22	السؤال
Put the sign ✓ next to the True statement and ✗ next to the False statement.		ضع إشارة ✓ أمام العبارة الصحيحة وإشارة ✗ أمام العبارة الخاطئة.
• Wind is moving air that is caused by the differences in air pressure. ( )	( )	• الرياح هي حركة الهواء التي تسببها الاختلافات في ضغط الهواء. ( )
• Bridges can be built to bend without breaking to prevent damage in earthquakes. ( )	( )	• يمكن بناء جسور مرنة تنحني دون أن تنكسر وذلك لمنع حدوث أضرار من الزلازل. ( )
• Different seasons are caused by the spinning of the Sun around the Earth. ( )	( )	• تختلف الفصول بسبب دوران الشمس حول الأرض. ( )
• Anemometer is used to measure wind speed. ( )	( )	• يستخدم الأنيموميتر في قياس سرعة الرياح. ( )
• The climate is described by the average of precipitation and temperature. ( )	( )	• متوسط هطول الأمطار ودرجة الحرارة تصف المناخ. ( )

انتهت الأسئلة