

تم تحميل هذا الملف من موقع المناهج الإماراتية



حل أسئلة مراجعة هيكل الاختبار المركزي

موقع المناهج ← المناهج الإماراتية ← الصف الثالث ← علوم ← الفصل الثاني ← حلول ← الملف

تاريخ إضافة الملف على موقع المناهج: 19:29:44 2025-02-27

ملفات اكتب للمعلم اكتب للطالب | اختبارات الكترونية | اختبارات | حلول | عروض بوربوينت | أوراق عمل
منهج انجليزي | ملخصات وتقارير | مذكرات وبنوك | الامتحان النهائي للمدرس

المزيد من مادة
علوم:

التواصل الاجتماعي بحسب الصف الثالث



صفحة المناهج
الإماراتية على
فيسبوك

الرياضيات

اللغة الانجليزية

اللغة العربية

التربية الاسلامية

المواد على تلغرام

المزيد من الملفات بحسب الصف الثالث والمادة علوم في الفصل الثاني

أسئلة مراجعة هيكل الاختبار المركزي

1

أسئلة مراجعة امتحانية شاملة منهج انسابير

2

حل أسئلة مراجعة امتحانية الوحدة الرابعة منهج انسابير

3

حل أسئلة مراجعة امتحانية باللغتين العربية والانجليزية منهج انسابير

4

تدريبات عامة وفق الهيكل الوزاري

5

مراجعة هيكل الاختبار المركزي
مادة العلوم - الصف الثالث
الفصل الثاني 2024 - 2025



الأسئلة الموضوعية

ضع دائرة حول رمز الإجابة الصحيحة .

السؤال	1
أي مما يلي يغطي معظم الأرض ؟	
A المحيطات	
B الأنهار	
C الجداول	

T. Suad AlnaQbi

السؤال	2
أي مما يلي يُمثل مساحة كبيرة من الأرض تحوي ماء مالح ؟	
A نهر	
B بحيرة	
C محيط	

السؤال	3
يغطي الماء _____ مساحة سطح الأرض .	
A ربع	
B نصف	
C ثلاثة أرباع	

T. Suad AlnaQbi

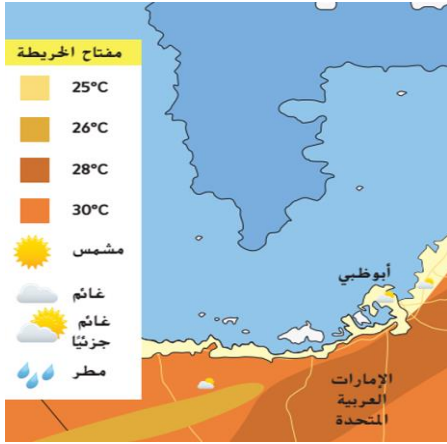
السؤال	4
يغطي اليابسة _____ مساحة سطح الأرض .	
A ربع	
B نصف	
C ثلاثة أرباع	

T. Suad AlnaQbi

5

السؤال

لاحظ الصورة، ما الطقس الموضح لمدينة أبوظبي؟



T. Suad AlnaQbi

A مشمس

A

B غائم

B

C غائم جزئياً

C

6

السؤال

أي من الأيام التالية لا يوجد بها هطول؟



T. Suad AlnaQbi

A اليوم الأول

A

B اليوم الثاني

B

C اليوم الثالث

C

7

السؤال

تُعرف حالة الهواء في مكان محدد ووقت محدد باسم

T. Suad AlnaQbi

A الطقس

A

B فصول السنة

B

C الهطول

C

8

السؤال

يوضح الجدول التالي حالات الطقس في ثلاثة أيام مختلفة، أي يوم يغلب احتمال هطول الثلوج؟

اليوم	الغيوم	درجة الحرارة (°C)
1	يوجد سحبٌ طبقية	1
2	مُلبّد بالغيوم	-2
3	مُلبّد بالغيوم جزئياً	3

اليوم 1 A

اليوم 2 B

اليوم 3 C

9

السؤال

أي حرف يشير إلى جسم يمتلك خاصية المغناطيسية؟



A



B



C

T. Suad AlnaQbi

A A

B B

C C

10

السؤال

يمكن وصف مسمار حديدي بكل الخصائص التالية باستثناء:

الصلادة A

المغناطيسية B

الطفو على الماء C

11

السؤال

يُمكن وصف مذاق الأناناس بأنه

خصائص الأناناس

T. Suad AlnaQbi



الوصف	الخاصية
بنيّ، أخضر	اللون (الألوان)
مستدير وشابك	الشكل
خشن	الملمس
حلو	الطعم

شائك

A

حلو

B

خشن

C

12

السؤال

أي حرف مما يلي يشير إلى جسم كروي حلو المذاق؟



A



B



C

T. Suad AlnaQbi

A

A

B

B

C

C

13

السؤال

أي مادة مما يلي تأخذ شكل حاويتها؟

مكعب خشب

A

حليب

B

حبوب

C

T. Suad AlnaQbi

14

السؤال

أي مما يلي سائل تشربه كل يوم؟



(A)



(B)



(C)

T. Suad AlnaQbi

A

A

B

B

C

C

15

السؤال

أي من المواد التالية تأخذ شكل الوعاء الذي توضع فيه؟

قلم

A

عصير

B

تفاحة


C

T. Suad AlnaQbi

16

السؤال

أي من القراءات التالية تمثله أداة القياس الموضحة في الشكل أدناه؟



30° F

A

60° F

B

90° F

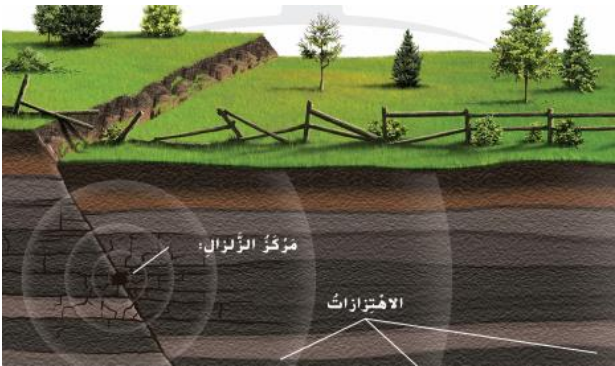
C

T. Suad AlnaQbi

17

السؤال

ما الذي تُوضّحه الصورة أدناه؟



T. Suad AlnaQbi

زلزال

A

بركان

B

فيضان

C

18

السؤال

تُسمى النقطة التي يبدأ منها الزلزال بـ

الاهتزازات

A

الصفائح

B

مركز الزلزال

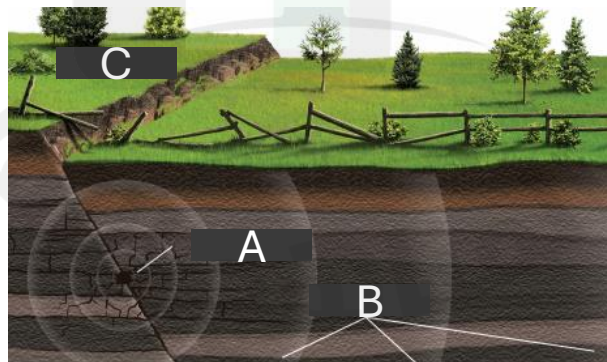
C

T. Suad AlnaQbi

19

السؤال

أي حرف يُشير إلى النقطة التي يبدأ منها الزلزال في الشكل أدناه؟



A

A

B

B

C

C

T. Suad AlnaQbi

20

السؤال

أي مما يلي يُمثل سبب التجوية الموضح أدناه؟

T. Suad AlnaQbi



النباتات

A

ذوبان الثلوج

B

الحيوانات

C

21

السؤال

أي من الأحداث الطبيعية التالية يحدث نتيجة الأمطار الغزيرة؟

الزلازل

A

البراكين

B

الفيضانات

C

T. Suad AlnaQbi

22

السؤال

ما الذي تُضحهِ الصورة أدناه؟



التجوية

A

التعرية

B


التغير الذي يُحدثه الإنسان

C

T. Suad AlnaQbi

23

السؤال



T. Suad AlnaQbi

يُمثل الشكل انفجار بركاني، أي مما يلي يشير إليه الحرف (A) ؟

A جبل بركاني

A

B صحارة

B

C حمم بركانية

C

24

السؤال

كل مما يلي يمكن أن يُسبب تجوية للصخور **باستثناء** :

A الضوء

A

B الرياح

B

C النباتات


C

T. Suad AlnaQbi

25


السؤال

أي شكل مما يلي يُعبر عن التعرية ؟



الحصى الهندسية
A ventifact

(A)



الأعمدة الترابية
Hoodoos

(B)



حمل المياه الجارية للصخور
The rocks in this stream were carried

(C)

A

A

B

B

C

C

T. Suad AlnaQbi

26

السؤال

أي حرف مما يلي يُمثل السحب الركامية؟



A



B



C

T. Suad AlnaQbi

A

A

B

B

C

C

27

السؤال

أي نوع من أنواع الطقس القاسي لا يحدث في فصل الصيف؟

عاصفة رعدية

A

إعصار بحري

B

عاصفة ثلجية

C

T. Suad AlnaQbi

28

السؤال

أي حرف مما يلي يمثل الإعصار القمعي؟



A



B



C

A

A

B

B

C

C

T. Suad AlnaQbi

29

السؤال

أي من خصائص المواد يتم قياسها في الشكل أدناه ؟



T. Suad AlnaQbi

الحجم

A

الوزن

B

الكتلة

C

30

السؤال

أي مما يلي يُمثل مقياساً للحيز الذي يشغله الجسم ؟

الحجم

A

البريق

B

الكتلة

C

T. Suad AlnaQbi

31

السؤال

في الشكل أدناه، أي حرف يُشير إلى جسم يحتوي على عنصر الفضة ؟



A



B



C

A

A

B

B

C

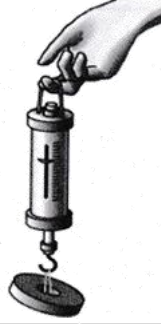
C

T. Suad AlnaQbi

32

السؤال

أي من خواص المادة تُقاس بالميزان الزنبركي الموضح أدناه؟



T. Suad AlnaQbi

الحجم

A

الوزن

B

الكتلة

C

33

السؤال

تُقاس الكتلة بوحدة؟

المتر

A

الجرام

B

الليتر

C

T. Suad AlnaQbi

34

السؤال

أي حرف مما يلي يُشير إلى أداة لقياس الكتلة؟



(A)



(B)



(C)

A

A

B

B

C

C

T. Suad AlnaQbi

35

السؤال

ما حجم الصخرة في الشكل الموضح أدناه؟



300 ml

A

100 ml

B

50 ml

C

36

السؤال

يُقاس الحجم بوحدة؟

المتر

A

الجرام

B

الليتر

C

37

السؤال


أي حرف مما يلي يُشير إلى جسيمات المادة الصلبة؟



(A)



(B)



(C)

A

A

B

B

C

C


T. Suad AlnaQbi

T. Suad AlnaQbi

38

السؤال

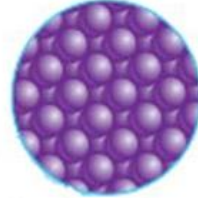
أي حرف مما يلي يُشير إلى جسيمات المادة السائلة؟



(A)



(B)



(C)

T. Suad AlnaQbi

A

A

B

B

C

C

39

السؤال

يُقاس الطول بوحدة؟

المتر

A

الجرام

B

الليتر

C

T. Suad AlnaQbi

40

السؤال


أي حرف مما يلي يُشير إلى جسيمات المادة الغازية؟



(A)



(B)



(C)

A

A

B

B

C

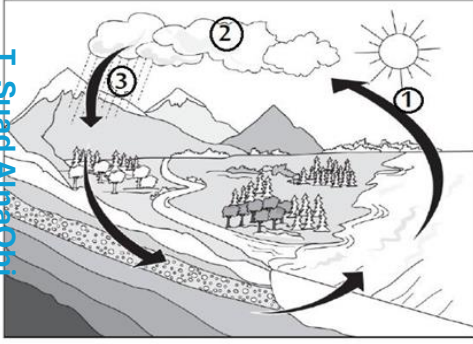
C

T. Suad AlnaQbi

41

السؤال

استخدم الشكل الموضح لدورة الماء للإجابة
عن السؤال : أي رقم مما يلي يُشير إلى التكاثف ؟



T. Suad AlnaQbi

1

A

2

B

3

C

42

السؤال

مادة ليس لها شكل ولا حجم محدد

المادة الصلبة

A

المادة السائلة

B

المادة الغازية

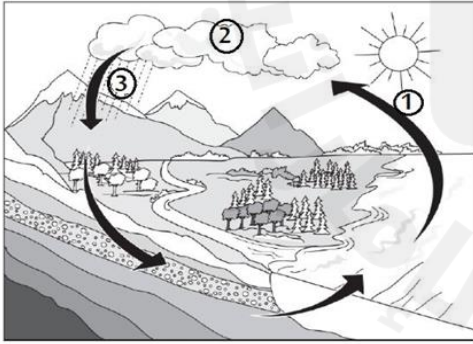
C

T. Suad AlnaQbi

43

السؤال

استخدم الشكل الموضح لدورة الماء للإجابة
عن السؤال : أي رقم مما يلي يُشير إلى التبخر ؟



1

A

2

B

3

C

T. Suad AlnaQbi

44

السؤال

يستخدم العلماء القياس لدراسة خصائص الأجسام .
كل قياس له وحدة مترية .
أي رقم مما يلي يُشير إلى الجرامات ؟

الوَحدةُ المِتريةُ	الخاصيةُ
(1)	الطولُ
(2)	الكتلةُ
(3)	الحجمُ

T. Suad Alnaqbi

1

A

2

B

3

C

45

السؤال

تُسمى عملية تحول السائل إلى غاز بـ

التبخّر

A

التكاثف

B

الهطول


C

T. Suad AlnaQbi

46

السؤال

انظر إلى السحب فيما يلي .
إذا أصبح لون السحب أكثر قتامة،
فأي نوع من الطقس يمكن أن تتنبأ به ؟



معتدل

A

ممطر

B

جاف

C



T. Suad AlnaQbi

47

السؤال

T. Suad AlnaQbi

أي مما يلي يُستخدم لقياس كمية الهطول؟



A A

B B

C C

48

السؤال

بعد هطول المطر ، يتسرب الماء إلى التربة ويصبح

A ماء جوفي

B بخار ماء

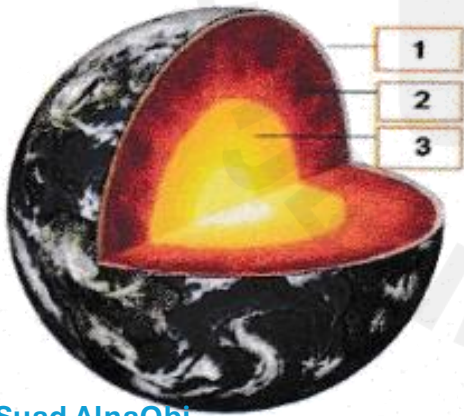
C مطر متجمد

T. Suad AlnaQbi

49

السؤال

في الشكل ، أي رقم يُشير إلى طبقة الوشاح؟



T. Suad AlnaQbi


1 A

2 B

3 C

50

السؤال



T. Suad AlnaQbi

يُوضح الشكل قاع المحيط ، أي مما يلي يُشير إليه الحرف (C) ؟

الرف القاري

A

الخندق

B

الساحل

C

51

السؤال

يُسمى الماء و هو الحالة الغازية بـ

ماء متجمد

A

بخار ماء

B

ماء سائل

C

T. Suad AlnaQbi

52

السؤال


في الشكل أدناه ، أي رقم يُشير إلى أداة قياس ضغط الهواء ؟



(A)



(B)



(C)

A

A

B

B


C

C

T. Suad AlnaQbi

53

السؤال



T. Suad AlnaQbi

يُوضح الشكل قاع المحيط ، أي مما يلي يُشير إليه الحرف (A) ؟

الرف القاري

A

الخدق

B

الساحل

C

54

السؤال

ما الأداة التي تقيس درجة الحرارة ؟

البارومتر

A

دوارة الرياح

B

مقياس درجة الحرارة

C

T. Suad AlnaQbi

55

السؤال


في الشكل أدناه ، أي رقم يُشير إلى أداة قياس سرعة الرياح ؟



(A)



(B)



(C)

A

A

B

B


C

C

T. Suad AlnaQbi

أكمل الرسم الموضح لدورة الماء بالمفردات التالية: التبخر - الهطول - التكاثف

T. Suad Alnaqbi




أكمل العبارات التالية بإحدى هذه الكلمات: (درجة الحرارة ، الزلازل ، التجوية ، القارة ، دورة الماء)

- يسمى انكسار الصخور إلى قطع أصغر **التجوية**
- تسمى كل واحدة من مناطق اليابسة السبعة الكبيرة **القارة**
- **الزلازل** هي حركة مفاجئة للصخور التي تتكون منها القشرة الأرضية.
- **درجة الحرارة** هي مقياس مدى سخونة الجسم أو برودته.
- حركة الماء بين سطح الأرض والغلاف الجوي تسمى **دورة الماء**

T. Suad Alnaqbi

يوضح الشكل بعض التضاريس على سطح الأرض، ادرسها و أجب.



1. أي رقم في الشكل يُمثل أعلى شكل أرضي؟

1

2. أي رقم في الشكل يُمثل الأخدود؟

3

3. ما الذي يُشير له رقم (4) في الشكل؟

○ وادي

✓ سهل

يُوضح الجدول أدناه متوسط درجة الحرارة في يوليو في خمسة بلدان.
رتب البلدان ترتيباً تنازلياً وفقاً لمتوسط درجة الحرارة.

متوسط درجة الحرارة في يوليو				
الصين	ايسلاند	كينيا	البرازيل	المكسيك
China	Iceland	Kenya	Brazil	Mexico
28°C	13°C	25°C	29°C	30°C
(83°F)	56°F	77°F	(84°F)	(86°F)

الأعلى... المكسيك - البرازيل - الصين - كينيا - ايسلاند... الأقل

ضع إشارة ✓ أمام العبارة الصحيحة و إشارة ✗ أمام العبارة الخاطئة:

- () • يتشكل الطقس في طبقة الغلاف الجوي الأبعد عن الأرض .
- () • يدخل الماء الغلاف الجوي بصورة المطر .
- () • التبخر هو تحول السائل الى غاز .
- () • البحيرة تمثل مساحة من الأرض تحوي ماءً عذباً أو ماءً مالحاً.
- () • الترسيب هو تجميع الصخور التي تعرضت لعوامل التجوية في مكان واحد.

صل أداة الطقس بالعنصر المناسب لها .



اتجاه الرياح




كمية الهطول



ضغط الهواء



درجة الحرارة




شدة الرياح

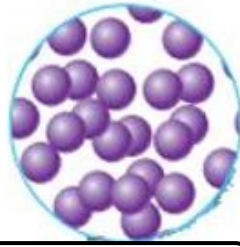
64

السؤال


حدد نوع المادة على الشكل الموضح أدناه .



المادة الغازية



المادة السائلة



المادة الصلبة

T. Suad Alnaqbi

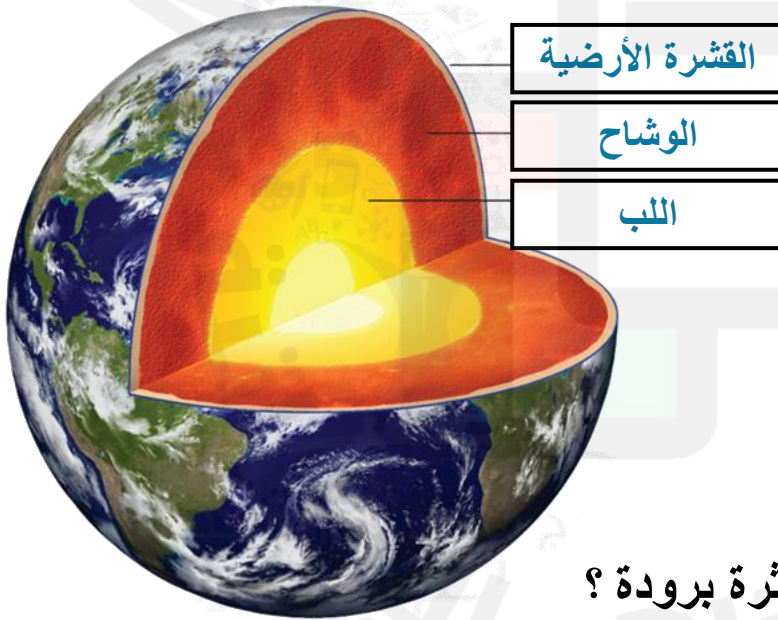
65

السؤال

يُمثل الشكل أدناه طبقات الأرض : (اللب - القشرة - الوشاح)

اقرأ الرسم و أجب عن الأسئلة التالية :

1. اكتب الطبقة المناسبة في كل فراغ على الرسم .



القشرة الأرضية

الوشاح

اللب

2. ما الطبقة الأقل سماكة و الأكثر برودة ؟

.....القشرة الأرضية.....

3. اختر الإجابة : يتكون اللب الداخلي من :

✓ صخور صلبة

○ صخور منصهرة

T. Suad Alnaqbi

2024