

## شكراً لتحميلك هذا الملف من موقع المناهج الإماراتية



## أسئلة الامتحان النهائي الورقي بريدج

[موقع المناهج](#) ← [المناهج الإماراتية](#) ← [الصف الثالث](#) ← [علوم](#) ← [الفصل الثاني](#) ← [الملف](#)

تاريخ نشر الملف على موقع المناهج: 08:03:51 2024-03-18

## التواصل الاجتماعي بحسب الصف الثالث



## روابط مواد الصف الثالث على تلغرام

[الرياضيات](#)

[اللغة الانجليزية](#)

[اللغة العربية](#)

[التربية الاسلامية](#)

## المزيد من الملفات بحسب الصف الثالث والمادة علوم في الفصل الثاني

[كراسة مراجعة تدريبية وفق الهيكل الوزاري](#)

1

[حل مراجعة شاملة وفق الهيكل الوزاري](#)

2

[حل بوربوينت مراجعة نهائية وفق الهيكل الوزاري](#)

3

[أسئلة الامتحان التعويضي الورقي بريدج](#)

4

[نموذج تدريبي امتحاني متنوع بالإجابات](#)

5

الجزء 1

1

السؤال

أي مما يلي يحتوي ماء مالحة؟

المحيطات

A

الأنهار

B

الأنهار الجليدية

C

2

السؤال

في أي قارة تقع دولة الإمارات العربية المتحدة؟



آسيا

A

أوروبا

B

أفريقيا

C



5

السؤال

في الشكل أثناء، أي من مناطق الزلازل التالية سيكون لها أضعف اهتزاز؟



مركز الزلزال

A

A

B

B


C

C

6

السؤال

أي مما يلي يمثل سبب التجوية في الشكل المقابل؟



A الرياح

B التغيرات المناخية

C المياه

3

السؤال

أي مما يلي يمثل منطقة منخفضة بين التلال والجبال؟

A تلة

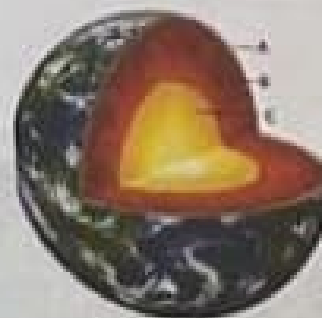
B وادي

C صحراء

4

السؤال

في الشكل أثناء، أي مما يلي يمثل أصغر طبقة من طبقات الأرض وأكثرها سخونة؟



A

A

B

B

C

C

9

السؤال

أي حرف مما يلي يُمكن السحب الركامية في الشكل أثناء؟



A



B



C

A

A

B

B

C

C

10

السؤال

أي حرف مما يلي يُمكن الإعصار القمعي في الشكل أثناء؟



A



B



C

A

A

B

B

C

C

7

السؤال

أي مما يلي يمكن تعريف حالة الهواء في وقت معين وفي مكان محدد؟

الغلاف الجوي

A

الطقس

B

الرياح العنبرية

C

8

السؤال

أي مما يلي يُشير إلى كتل شمسية تنطلق في أثناء العاصفة الرعدية؟

البرق

A

الضباب

B

بخار الماء

C

13

السؤال

أي حرف مما يلي يُشير إلى جسم يسمح للحركة بالمرور عبر بسهولة؟



نحاس



ورق



بلاستيك

A نحاس

B ورق

C بلاستيك

14

السؤال

أي مما يلي مكون من أكثر من عنصر؟

A زئبق الألمنيوم

B المسار الحديدي

C الماء المالح



11

السؤال

في الشكل أدناه ، أي حرف مما يلي يُشير إلى جسم يعكس على عنصر الحديد؟



A



B



C

A

B

C

A

B

C

12

السؤال

أي حرف مما يلي يُشير إلى جسم يمتلك خاصية المغناطيسية في الشكل أدناه؟



A



B



C

A

B

C

A

B

C



## الجزء 2

16

## السؤال

يوضح الشكل بعض التضاريس على سطح الأرض. ابرمه وأجب عن الأسئلة التالية:



1. أي رقم في الصورة يمثل باينة تحيط بها الماء من ثلاث جهات؟  
.....
2. أي رقم في الصورة يمثل النهر؟  
.....
3. ما الذي يشير إليه الرقم (5) في الصورة؟  
.....
4. ما الذي يشير إليه الرقم (7) في الصورة؟  
.....

15

## السؤال

أي من خصائص الحجر يتم قياسها في الشكل أدناه؟



A	الكتلة
B	الوزن
C	الحجم

17

السؤال

يمثل الشكل قاع المحيط ادرسه جيدا ثم اجب عن الأسئلة التالية:



- ..... أي حرف في الصورة يمثل المنحدر القاري؟
- ..... أي حرف في الصورة يمثل أخدود في قاع المحيط؟
- ..... أي حرف في الصورة يمثل الساحل؟
- ..... أي حرف في الصورة يمثل الرف القاري؟

18

السؤال

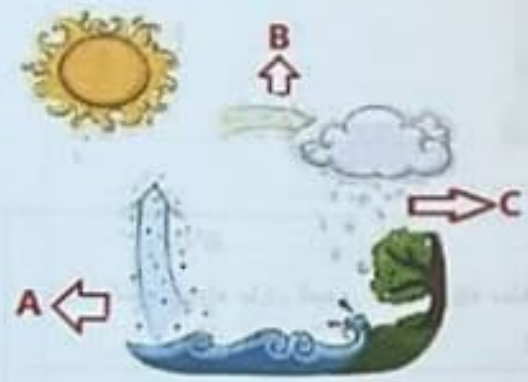
يمثل الشكل أثناء أربع أدوات مستخدم للقياس الطقس، اكتب اسم كل أداة في المربع أسفل الصورة.



19

السؤال

استخدم الشكل للإجابة على الأسئلة التالية.



1. أي حرف في الصورة يمثل تكاثف الماء؟  
.....
2. أي حرف في الصورة يمثل سقوط الماء؟  
.....
3. ما الذي يشير إليه الحرف (A) في الصورة؟  
.....
4. اذكر اسم هذه الدورة.  
.....

السؤال

الشكل يوضح قياس درجة حرارة الهواء. ادرسه جيدا ثم أجب على الأسئلة التالية:  
 1- اكتب الحرف الذي يدل على درجة الحرارة الموضحة في الجدول انشاء.



<p><b>10°C</b> الهواء بارد، ليس شترة</p>	<p><b>30°C</b> الهواء ساخن و الجو مناسب للسباحة</p>	<p><b>0°C</b> يتجمد الماء، الهواء بارد، ليس مغطا</p>
<p>.....</p>	<p>.....</p>	<p>.....</p>

2- ما هي درجة الحرارة السيليزية (°C) المبينة على مقياس الحرارة؟ .....