

شكراً لتحميلك هذا الملف من موقع المناهج الإماراتية



حل مراجعة اختبار كويز Quiz 3

[موقع المناهج](#) ⇨ [المناهج الإماراتية](#) ⇨ [الصف الثالث](#) ⇨ [علوم](#) ⇨ [الفصل الأول](#) ⇨ [الملف](#)

تاريخ نشر الملف على موقع المناهج: 20-10-2023 15:26:59

التواصل الاجتماعي بحسب الصف الثالث



روابط مواد الصف الثالث على تلغرام

[الرياضيات](#)

[اللغة الانجليزية](#)

[اللغة العربية](#)

[التربية الاسلامية](#)

المزيد من الملفات بحسب الصف الثالث والمادة علوم في الفصل الأول

حل مراجعة امتحانية للوحدة الأولى review exam 1 Unit	1
ملخص وشرح الدرس الأول Motion and Position من الوحدة الأولى	2
أسئلة امتحان الوحدة الأولى والثانية	3
أوراق عمل الدرس الثالث الحيوانات وأعضاؤها من الوحدة الثانية	4
كتاب الطالب الوحدة الأولى Motion and Forces منهج	5



المزيد من الملفات بحسب الصف الثالث والمادة علوم في الفصل الأول



[انسياب](#)

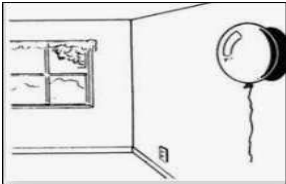

Neima C1 School Name: _____ gr3

Science Quiz 3 **REVIEW** (page52-53 ,56-57,64-65) 2022-2023

Look at  for correct ANSWERS

Question 1	
Identify: A charged balloon can hair.	
	
A	attract 
B	repel


Question 2	
Observe: Why is the girls' hair standing up?	
	
A	Her hair has magnets.
B	Her hair is charged with static electricity 

Question 3	
A charged balloon will stick on the wall	
	
A	True 
B	False

Question 4

A charged balloon will confetti (small pieces of paper)




A	repel
B	attract 

Question 5

Interpret this picture




A	The balloon is charged with static electricity 
B	The balloon is NOT charged with static electricity

Question 6

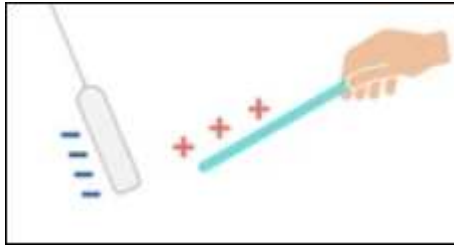
Objects that **repel** each other...




A	pull at each other
B	push at each other 

Question 7


Objects that **attract** each other...



A	pull at each other 
B	push at each other

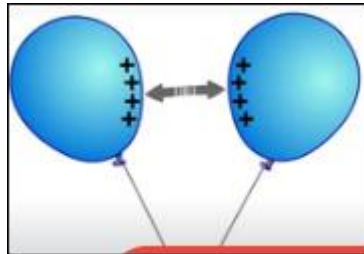
Question 8



A build-up of electrical charge is called

A	electricity
B	static electricity 

Questions 9 and 10

If you rub two balloons with a wool cloth



A	The balloons will attract each other
B	The balloons will repel each other 
C	The balloons are charged with static electricity 

..... The End

