

## شكراً لتحميلك هذا الملف من موقع المناهج الإماراتية



## نموذج تدريبي على شاكلة الامتحان النهائي متبوع بالإجابات

[موقع المناهج](#) ⇨ [المناهج الإماراتية](#) ⇨ [الصف الرابع](#) ⇨ [اجتماعيات](#) ⇨ [الفصل الثاني](#) ⇨ [الملف](#)

تاريخ نشر الملف على موقع المناهج: 18:48:59 2024-03-19

## التواصل الاجتماعي بحسب الصف الرابع



## روابط مواد الصف الرابع على تلغرام

[الرياضيات](#)

[اللغة الانجليزية](#)

[اللغة العربية](#)

[التربية الاسلامية](#)

## المزيد من الملفات بحسب الصف الرابع والمادة اجتماعيات في الفصل الثاني

|  |   |
|--|---|
| <a href="#">مراجعة على مهارات الورقة الامتحانية</a>                        | 1 |
| <a href="#">مراجعة نهائية وفق الهيكل الوزاري</a>                           | 2 |
| <a href="#">نموذج الهيكل الوزاري الجديد</a>                                | 3 |
| <a href="#">ورقة عمل درس التلوث والازدحام المروري</a>                      | 4 |
| <a href="#">ورقة عمل درس السكان في الإمارات مهارة قراءة الأشكال والصور</a> | 5 |

نموذج تدريبي لامتحان الدراسات الاجتماعية  
الصف الرابع  
الفصل الدراسي الثاني  
2024-2023

| Name الطالب    | اسم الطالب |
|----------------|------------|
| Class الصف     | الصف       |
| School المدرسة | المدرسة    |
| Subject المادة | المادة     |
|                |            |
|                |            |
|                |            |
|                |            |

**ملاحظة:**  
هذا النموذج يعد نسخة محاكية لأسئلة اختبار نهاية الفصل وفق الهيكل الخاص بالمادة، ولا يشترط أن تكون الأسئلة الواردة به مطابقة تماما لأسئلة الاختبار، فقد تختلف في الصياغة أو المحتوى، ولكنها تركز على المخرجات المتوقعة من المادة.

# الدليل الإرشادي للامتحان

## Exam Guidelines

| ملاحظات<br>Comment  | محتوى الامتحان<br>Syllabus  | المادة<br>Subject   | اليوم والتاريخ<br>Day & Date  |
|---|---|---------------------|---|
| تم تصميم محتوى هذا النموذج حسب الهيكل المعتمد من إدارة المناهج. | <a href="#">هيكل اختبار الدراسات الاجتماعية للصف الرابع.</a><br> | الدراسات الاجتماعية | الأربعاء<br>20 - مارس - 2024<br><br>التوقيت:<br>9:00 - 11:00 صباحاً |

اقرأ النصّ الآتي بعنوان " الازدحام المروري "، ثم أجب عن الأسئلة التي تليه:



تُعَدُّ مُشْكِلَةُ الازْدِحَامِ المُرورِيِّ مُشْكِلَةً عَالَمِيَّةً لَا تَقْتَصِرُ عَلَى بَلَدٍ دُونَ آخَرَ، وَلَا عَلَى مَدِينَةٍ دُونَ أُخْرَى، لَكِنَّهَا تَتَفَاوَتْ فِي حَدِّهَا حَسَبَ قُدْرَةِ الْجِهَاتِ ذَاتِ الْعَلَاقَةِ فِي التَّعَامُلِ الصَّحِيحِ مَعَ تِلْكَ الظَّاهِرَةِ، وَكَمَا هُوَ مَعْلُومٌ فَإِنَّهُ لِعِلَاجِ مُشْكِلَةِ مَا لَا بُدَّ مِنْ مَعْرِفَةِ مُسَبِّبَاتِهَا وَعَلَى ضَوْءِ ذَلِكَ يَتِمُّ وَضْعُ الْحُلُولِ الْمُنَاسِبَةِ لِحَلِّهَا .

وَيُقْصَدُ بِالازْدِحَامِ المُرورِيِّ عَدَمُ قُدْرَةِ مُسْتَعْمِلِي الطَّرِيقِ مِنَ الْمَشَاةِ أَوْ السَّائِقِينَ أَوْ الرُّكَّابِ مِنَ الْإِنْتِقَالِ مِنْ مَكَانٍ إِلَى مَكَانٍ

آخَرَ، وَتَرْجِعُ أَسْبَابُ الْمَشْكِلَةِ لِيَزِيدَ الْحَرَكَةَ اليَوْمِيَّةَ وَكَثْرَةَ السِّيَّارَاتِ وَضَيْقِ الطَّرِيقِ بِالإِضَافَةِ إِلَى سُلُوكِ مُسْتَعْمِلِي الطَّرِيقِ الْمُخَالَفِ لِقَوَاعِدِ المُرورِ، وَتَسْعَى دَوْلَةُ الإِمَارَاتِ العَرَبِيَّةِ الْمُتَّحِدَةِ لَوْضْعِ حُلُولٍ لِنَفَادِي أضرارِ الازْدِحَامِ المُرورِيِّ المُتَمَثِّلَةِ فِي تَلَوُّثِ الهَوَاءِ وَتَأخُّرِ المُوَظَّفِينَ وَالْعَامِلِينَ عَنِ أَعْمَالِهِمْ وَكَثْرَةَ الحَوَادِثِ المُرورِيَّةِ، وَمِنْ بَيْنِ هَذِهِ الحُلُولِ بِنَاءُ الجُسُورِ وَتَوْسِيعِ الطَّرِيقِ وَتَطْوِيرِ النُّقْلِ الجَمَاعِيِّ لِلتَقْلِيلِ مِنْ عَدَدِ السِّيَّارَاتِ فِي الطَّرِيقِ.

إنَّ مُعَالَجَةَ الوَضْعِ المُرورِيِّ يُعَدُّ أَمْرًا فِي غَايَةِ الأَهْمِيَّةِ لِمَا لَهُ مِنْ آثَارٍ اِقْتِصَادِيَّةٍ وَصِحِيَّةٍ وَاجْتِمَاعِيَّةٍ وَبِئْسِيَّةٍ مُبَاشِرَةٍ عَلَى الأَفْرَادِ وَالْمُجْتَمَعَاتِ.

**ارسم دائرة حول الإجابة الصحيحة لكل مما يلي:**

25

**1. يناقش النص السابق مشكلة:**

أ. الحوادث المرورية.

ب. الازدحام المروري.

ت. النقل الجماعي.

**2. من أسباب المشكلة التي يناقشها النص السابق:**

أ. توسيع الطرق.

ب. انقراض الحيوانات.

ت. سلوك السائقين المخالف لقواعد المرور.

**3. (عدم قدرة مستعملي الطريق من المشاة أو السائقين أو الركاب من الانتقال من مكان الى مكان آخر) يقصد به:**

أ. الازدحام المروري.

ب. النقل الجماعي.

ت. تلوث الهواء.

**4. من الحلول التي وضعتها دولة الإمارات العربية المتحدة لمشكلة الازدحام المروري:**

أ. تضيق الطريق.

ب. بناء الجسور.

ت. تأخر الموظفين.

**5. من أضرار المشكلة الواردة في النص:**

أ. تطوير النقل الجماعي للتقليل من عدد السيارات.

ب. كثرة الحوادث المرورية.

ت. زيادة الحركة اليومية وكثرة السيارات.

اقرأ النصّ الآتي بعنوان "تلوث البيئة"، ثم أجب عن الأسئلة التي تليه:



البيئة هي كل ما يحيط بنا من كائنات حيّة وغير حيّة، وواجبنا المحافظة عليها من التلوث الذي تتعدّد أنواعه ومنها: تلوث الهواء والماء والتربة.

وتنقسم أسباب تلوث البيئة لقسمين: أسباب طبيعية مثل الزلازل والبراكين والعواصف الترابية، وأسباب بشرية مثل عوادم السيّارات والمبيدات الحشرية وإلقاء مياه الصرف الصحي في مياه البحر.

ويؤثر التلوث البيئي على حياة الإنسان، حيث يؤدي إلى انتشار الأمراض مثل: أمراض الجهاز التنفسي، ويؤثر سلباً على الحيوانات والنباتات حيث يؤدي إلى موتها وانقراضها، ويؤثر تلوث مياه البحار على هلاك أعداد لا حصر لها من الثروة السمكية والكائنات البحرية.

إن تلوث البيئة مشكلة خطيرة تهدد صحة الكائنات الحيّة، وبالتعاون معاً يمكننا الحد من تلوث البيئة والمحافظة عليها، مما يعزّز واجب الاستدامة الذي تدعو إليه دولة الإمارات العربية المتحدة.

**السؤال: ارسم دائرة حول الإجابة الصحيحة لكل مما يلي:**

6. يناقش النص السابق مشكلة:

أ. التلوث البيئي.

ب. الأمراض المعدية.

ت. تلوث الهواء.

7. من الأسباب البشرية للتلوث:

أ. الزلازل والبراكين.

ب. المبيدات الحشرية.

ت. العواصف الترابية.

8. (كل ما يحيط بنا من كائنات حية وغير حية) يقصد به:

أ. تلوث الماء.

ب. تلوث التربة.

ت. البيئة.

9. من أنواع التلوث التي لم تذكر في النص السابق:

أ. تلوث الهواء.

ب. تلوث التربة.

ت. التلوث السمعي.

10. من أضرار تلوث البيئة:

أ. انتشار الأمراض.

ب. الصحة والسلامة.

ت. تعزيز الاستدامة.

اقرأ النصّ الآتي بعنوان " المهلب بن أبي صفرة "، ثم أجب عن الأسئلة التي تليه:

وُلِدَ الْمُهَلَّبُ بْنُ أَبِي صِفْرَةَ الْأَزْدِيُّ الْقَحْطَانِيُّ فِي مَدِينَةِ دَبَا الَّتِي تَقَعُ عَلَى السَّاحِلِ الشَّرْقِيِّ لِدَوْلَةِ الْإِمَارَاتِ الْعَرَبِيَّةِ الْمُتَّحِدَةِ عَامَ (7) لِلْهِجْرَةِ، وَكُنْيَتُهُ أَبُو سَعِيدٍ، وَكَانَ يَتَمَتَّعُ بِالكَرَمِ وَالْحُلْمِ وَالشَّجَاعَةِ وَالْقِيَادَةِ وَحِسِّ النَّدْبِيرِ، وَكَانَ هَادِنًا مُتَزَنًا، وَيُؤْمِنُ بِالْعَمَلِ الْجَمَاعِيِّ.

ظَهَرَتْ عَلَى الْمُهَلَّبِ عَلَامَاتُ الشَّجَاعَةِ وَالذِّكَاةِ وَأَعْجَبَ الْخَلِيفَةُ عُمَرُ بْنُ الْخَطَّابِ- رَضِيَ اللَّهُ عَنْهُ- بِذِكَائِهِ وَتَقْوَاهُ لَمَّا رَأَاهُ مَعَ وَالِدِهِ وَقَالَ هَذَا " سَيِّدٌ وَلِذَلِكَ". دَخَلَ الْمُهَلَّبُ بْنُ أَبِي صِفْرَةَ التَّارِيخَ الْإِسْلَامِيَّ كَقَائِدٍ مُلْهِمٍ، وَخَاضَ حُرُوبًا فِي بِلَادِ فَارِسَ وَالْهِنْدَ، وَكَانَتْ أُولَى مَعَارِكِهِ فِي التَّارِيخِ الْإِسْلَامِيِّ فِي بِلَادِ السَّنْدِ حَيْثُ حَقَّقَ نَصْرًا عَظِيمًا.

عَاشَ الْمُهَلَّبُ بْنُ أَبِي صِفْرَةَ حَيَاةً حَافِلَةً بِالْإِنجَازَاتِ وَمِنْهَا: اشْتِرَاكُهُ فِي الْحَرْبِ ضِدَّ الْفُرسِ، وَكَانَ وَالِيًا عَلَى خَرَسَانَ، وَسَاهَمَ فِي فُتُوحَاتِ فِي بِلَادِ السَّنْدِ وَتُرْكِسْتَانَ، وَحَارَبَ الْخَوَارِجَ وَانْتَصَرَ عَلَيْهِم.

جَمَعَ الْمُهَلَّبُ بْنُ أَبِي صِفْرَةَ أبنَاءَهُ وَأَعْطَى لِكُلِّ وَاحِدٍ مِنْهُمْ حُرْمَةً مِنَ الْعِصِيِّ، وَطَلَبَ مِنْهُمْ كَسْرَهَا، فَلَمْ يَسْتَطِعْ أَيُّ مِنَ الْأبنَاءِ كَسْرَ الْحُرْمَةِ، ثُمَّ فَرَّقَ الْحُرْمَةَ إِلَى أَعْدَادٍ بَسِيطَةٍ وَطَلَبَ مِنْهُمْ كَسْرَهَا، فَكَسَرُوهَا بِسُهُولَةٍ.



**السؤال: ارسم دائرة حول الإجابة الصحيحة لكل مما يلي:**

25

11. وُلِدَ الْمُهَلَّبُ بْنُ أَبِي صَفْرَةَ فِي مَدِينَةٍ؟

أ. دبا.

ب. خرسان.

ت. الفجيرة.

12. مِنْ أَبْرَزِ إِنْجَازَاتِ الْمُهَلَّبِ بْنِ أَبِي صَفْرَةَ؟

أ. حارب الخوارج.

ب. فتح طرابلس.

ت. فتح القسطنطينية.

13. فِي أَيِّ عَامٍ وُلِدَ الْمُهَلَّبُ بْنُ أَبِي صَفْرَةَ؟

أ. 8 للهجرة.

ب. 7 للهجرة.

ت. 15 للهجرة.

14. تَقَعُ مَدِينَةُ دَبَا عَلَى السَّاحِلِ.....

أ. الغربي.

ب. الشمالي.

ت. الشرقي.

15. مَا الرَّابِطُ بَيْنَ قِصَّةِ الْمُهَلَّبِ مَعَ أَبْنَائِهِ وَقِيَامِ الْإِتِّحَادِ؟

أ. التفرق ضعف.

ب. الإتحاد قوة.

ت. عدم التعاون.

أ: اقرأ النَّصَّ الآتي بِعُنْوَانِ " السياحة في بلادي "، ثم أجب عَن الأسئلة التي تليهِ:

تتمتع دولة الإمارات بِغنى وتتنوع في معالمها السياحية حيث تستقطب السياح من أنحاء العالم على مدار السنة.



السياحة تعني: السفر والانتقال من دولة إلى أخرى بهدف الترفيه، والسياحة أنواع هي: سياحة تاريخية – سياحة رياضية – سياحة علاجية – سياحة ترفيهية – سياحة تسويقية. وتعتبر الإمارات من الدول الأكثر جذبًا للسياح على الصعيد العربي والعالمي. ومن مقومات السياحة في دولة الإمارات: وجود الخدمات الراقية في المطارات ووسائل النقل والفنادق، وتوفير مراكز التسوق، والأمن والاستقرار.



ومن أهم المعالم السياحية في الإمارات: مسجد الشيخ زايد في أبوظبي، وبرج خليفة في دبي، وقناة القصباء في الشارقة، وجزيرة المرجان في رأس الخيمة.

**السؤال: ارسم دائرة حول الإجابة الصحيحة لكل مما يلي:**

25

16. السفر والانتقال من دولة إلى دولة أخرى بهدف الترفيه هو :

أ.الصناعة.

ب.السياحة.

ج.التجارة.

17.السياحة بهدف مشاهدة البطولات الرياضية تُسمى:

أ.سياحة علاجية.

ب.سياحة تسويقية.

ت. سياحة رياضية.

18.من مقومات السياحة في دولة الإمارات.

أ.وجود الخدمات الراقية.

ب. انعدام الأمن والأمان.

ت.انتشار الجرائم.

19.من أهم المعالم السياحية في إمارة أبو ظبي.

أ. القرية العالمية.

ب . مسجد الشيخ زايد.

ت. جزيرة المرجان.

20.قناة القصباء من أهم معالم إمارة.

أ. دبي.

ب. الشارقة.

ت. رأس الخيمة.

ب: اقرأ معلومات الشكل ومدلولات الصور، ثم أجب عن الأسئلة التي تليها:



لأَبَدٍ مِنَ الحِفاظِ عَلَى تراثِنا: لَأَنَّهُ الأَصْلُ وَالجُذورُ،  
وَعَلَيْنَا أَنْ نَتَمَسَّكَ بِأصولِنا وَجُذورِنا العَميقة.

### مَسْجِدُ البُديَّةِ

يَقَعُ هَذَا المَسْجِدُ التَّاريخيُّ بِالقُرْبِ مِنْ تَلِّ حَجْرِيِّ صَغِيرٍ بَيْنَ مَدِينَةِ خورفكان وَدِبا الفُجيرة، وَيُعْتَبَرُ أَقدمَ مَسْجِدٍ فِي الدَّولةِ، إِذْ يَعودُ تاريخُ بِنائِهِ إِلى عامِ 1446م، وَيَتَميَّزُ بِطرازِ مِعماريِّ فَرِيدٍ يَشْمَلُ أربَعِ قِبابٍ، وَيُشكِلُ مَقْصدًا سِياحيًّا لِلكَثيرِ مِنَ المُقيمينِ وَالسَّائِحِينَ الَّذِينَ يَتوافَدونَ عَلَيْهِ لِتَأمُلِ رُوعَةِ هَذَا الصَّرْحِ المَهيِّبِ .



### قَصْرُ الحِصنِ

أَعْرَقَ نِظامُ تاريخيِّ قائِمٍ فِي أبوظَبي، تَحولَ إِلى مُتحَفٍ وَطَنيِّ فِي عامِ 2018م لِيحكي قِصَّةَ المَاضي العَريقِ، وَيَبيرُزُ القِصرُ كَأيقونَةٍ وَطَنيَّةٍ تَروي تَطوُّرَ المَدِينَةِ مِنْ مَنطِقَةٍ عاشتَ عَلَيْها قِبايلُ بني ياسِ فِي القَرنِ الثَّامِنِ عَشرَ إِلى واحِدَةٍ مِنْ أَجْمَلِ المُدنِ العالَميَّةِ العَصرِيَّةِ .



**السؤال الأول: ارسم دائرة حول الإجابة الصحيحة لكل مما يلي:**

21. ما العبارة التي تصف اهتمام الشيخ زايد بن سلطان آل نهيان – رحمه الله – بالتراث؟

أ. لا بُدَّ مِنْ الحِفاظِ عَلَى التُّراثِ لِأنه الأَصْلُ والجذور .

ب. علمتنا الصحراء أن نصبر .

ت. أعطوني زراعة ، أعطكم حضارة .

22. أعرق بناءً تاريخي قائم في إمارة أبوظبي ، يُسمى :

أ. قلعة الفهيدي .

ب. قصر الحصن .

ت. قصر المويجعي .

23 . يعود تاريخ بناء مسجد البديّة إلى عام:

أ. عام 1445م .

ب. عام 1446م .

ت. عام 1447م .

24. يتمييز بطراز معماري فريد ويشمل على أربع قبابٍ :




أ. مسجد الشيخ زايد رحمه الله .

ب. مسجد فلج المعلّ .

ت. مسجد البديّة .

**السؤال الثاني: ارسم دائرة حول الإجابة الصحيحة لكل مما يلي:**

25. الصورة التي تعبر عن (قصر الحصن) هي:

|  |    |
|--|----|
|    | أ. |
|  | ب. |
|  | ج. |

ت: اقرأ النّصّ الآتي بعنوان " القائد الملمهم"، ثم أجب عن الأسئلة التي تليه:

(فخر الإمارات الشيخ محمد بن زايد بن سلطان آل نهيان - حفظه الله)



دولة الإمارات العربية المتحدة من الدول التي حباها الله بقيادة حكيمة سخرت كافة إمكانياتها في خدمة الشعب والمواطنين في معظم أمور حياتهم، منطلقين من نهج -المغفور له- الشيخ زايد بن سلطان آل نهيان - رحمه الله - متفرّبين من شخصية أحبها الصغير قبل الكبير، وهذه الشخصية هي الشيخ محمد بن زايد بن سلطان آل نهيان - حفظه الله - حيث وُلد في مدينة العين عام 1961 م، وهو الابن الثالث للمغفور له الشيخ زايد بن سلطان آل نهيان - رحمه الله - المؤسس لدولة الإمارات العربية المتحدة .

وقد نشأ سموه تحت رعاية والده ووالدته الشيخة فاطمة بنت مبارك - حفظها الله - وكان يتصف بالعطف والمحبة لمن حوله، والرحمة والشجاعة والقوة والحكمة والنظرة السبسية الثاقبة، وكان أيضا رياضيا وعسكريا. ومنذ شبابه كانت حياته مليئة بالمهام الوطنية والإنجازات، وهي: في عام 1979م تخرج من أكاديمية ساند هيرست الملكية العسكرية، وفي عام 1993م ترأس أركان القوات المسلحة لدولة الإمارات العربية المتحدة، وفي عام 2004م تولى سموه منصب ولاية العهد في إمارة أبو ظبي، و عام 2005م تم تعيينه نائبا للقائد الأعلى للقوات المسلحة، و عام 2013م تم اختيار سموه ضمن أفضل عشر شخصيات هي الأكبر نفوذا في العالم الإسلامي، و عام 2019م تم اختيار سموه ضمن أكثر قادة العالم تأثيرا، و عام 2022م تسلم سموه رئاسة دولة الإمارات العربية المتحدة، واهتم سموه بجعل دولة الإمارات العربية المتحدة من الدول المتقدمة، مع حرصه الدائم على أن تكون الدولة هي الرّقم واحد في جميع المجالات. أحببه الشعب، وأحبه العالم فهو خير خلف لخير سلف.

**السؤال: ارسم دائرة حول الإجابة الصحيحة لكل مما يلي:**

26. ترتيب الشيخ محمد بن زايد آل نهيان - حفظه الله - بين إخوته هو :

أ. الرابع.

ب. الثالث.

ت. الأول.

27. وُلد صاحب السمو الشيخ محمد بن زايد آل نهيان - حفظه الله - في مدينة:

أ. أبوظبي.

ب. دبي.

ت. العين.

28. من صفات سموه:

أ. العطف والرحمة.

ب. الشجاعة والقوة.

ت. جميع ما سبق.

29. ترأس الشيخ محمد بن زايد آل نهيان - حفظه الله - أركان القوات المسلحة لدولة الإمارات العربية المتحدة عام:

أ - 1993 م .

ب - 1979 م .

ت - 2004 م .

30. مرَّ على اختيار الشيخ محمد بن زايد آل نهيان - حفظه الله - على حكمه لدولة الإمارات العربية المتحدة:

أ. سنه.

ب. سنتان.

ت. ثلاث سنوات.



# دليل الإجابة

## Answer Guideline

| الإجابة<br>Answer | رقم السؤال<br>Item |
|-------------------|--------------------|
| ب.                | 1                  |
| ت.                | 2                  |
| أ.                | 3                  |
| ب.                | 4                  |
| ب.                | 5                  |
| أ.                | 6                  |
| ب.                | 7                  |
| ت.                | 8                  |
| ت.                | 9                  |
| أ.                | 10                 |
| أ.                | 11                 |
| أ.                | 12                 |
| ب.                | 13                 |
| ت.                | 14                 |
| ب.                | 15                 |
| ب.                | 16                 |
| ت.                | 17                 |
| أ.                | 18                 |
| ب.                | 19                 |
| ب.                | 20                 |
| أ.                | 21                 |
| ب.                | 22                 |
| ب.                | 23                 |
| ت.                | 24                 |
| ب.                | 25                 |
| ب.                | 26                 |
| ت.                | 27                 |
| ت.                | 28                 |
| ت.                | 29                 |
| ب.                | 30                 |