

تم تحميل هذا الملف من موقع المناهج الإماراتية



حل أسئلة الامتحان النهائي القسم الورقي منهج بريدج

[موقع المناهج](#) ⇨ [المناهج الإماراتية](#) ⇨ [الصف الرابع](#) ⇨ [علوم](#) ⇨ [الفصل الثالث](#) ⇨ [الملف](#)

تاريخ إضافة الملف على موقع المناهج: 2024-06-10 07:55:31

التواصل الاجتماعي بحسب الصف الرابع



اضغط هنا للحصول على جميع روابط "الصف الرابع"

روابط مواد الصف الرابع على تلغرام

[الرياضيات](#)

[اللغة الانجليزية](#)

[اللغة العربية](#)

[التربية الاسلامية](#)

المزيد من الملفات بحسب الصف الرابع والمادة علوم في الفصل الثالث

[أسئلة الامتحان النهائي القسم الورقي منهج بريدج](#)

1

[حل نموذج تدريبي نهائي وفق الهيكل الوزاري](#)

2

[حل النموذج التدريبي للامتحان النهائي](#)

3

[النموذج التدريبي للامتحان النهائي](#)

4

[حل أسئلة الامتحان النهائي منهج بريدج القسم الورقي](#)

5



امتحان نهاية الفصل الدراسي الثالث 2024/2023

End of Term 3 Exam 2023/ 2024

	Student Number	رقم الطالب
	Student Name	اسم الطالب
	School	المدرسة
4	Class	الصف
General / العام	Stream	المسار
Science / العلوم	Subject	المادة
Bridge / بريدج		

	Total	الدرجة الكلية
100		

المراجع Reviewer	المقَدِّر Marker	Name	الاسم
		Sign	التوقيع





Dear Students

أعزائنا الطلبة

Important Guidelines

إرشادات هامة

1

Check the number of pages in the question booklet is correct

2

Read the questions carefully and organize your thoughts before starting to answer

2

اقرأ الأسئلة جيداً
ورتب أفكارك
قبل البدء
بالإجابة

1

تأكد من عدد
أوراق كتيب
الأسئلة

3

Use the blue pen to answer the question booklet

4

Review your answers before submitting and leaving the examination hall

4

راجع إجابتك
جيداً قبل
التسليم ومغادرة
القاعة الامتحانية

3

استخدم القلم
الجاف الأزرق في
الإجابة على
كتيب الأسئلة



ضع دائرة حول رمز الإجابة الصحيحة.

الجزء 1

السؤال	1
أي مما يلي يحوي أكثر المياه العذبة على سطح الأرض؟	
A	البحار
B	المحيطات
C	الأنهار الجليدية و القمم الجليدية
D	الآبار

N3DXR201371AR04GFNSCIX13P078

السؤال	2
ماذا تُسمى المياه التي تملأ الشقوق وفراغات الصخور تحت الأرض؟	
A	البحيرات
B	الأنهار
C	البحار
D	المياه الجوفية





3

السؤال

الجدول يُبين حركة أربع مركبات مختلفة. بناءً على الجدول، ما سرعة المركبة المشار إليها برقم 4؟

المركبة	المسافة المقطوعة	الزمن
1	54 km	10 h
2	64 km	10 h
3	74 km	10 h
4	84 km	10 h

km/h 8.4

A

m/h 8.4

B

km/s 8.4

C

km/h/s 8.4

D

4

السؤال

القمر على عكس النجوم لا يولد ضوءه الخاص. لماذا يلمع القمر؟



لأنه يعكس ضوء الشمس

A

لأنه يعكس ضوء الأرض

B

لأنه يمتص ضوء النجوم

C

لأنه يعكس ضوء الكواكب

D

5

السؤال

أي مما يلي يشير إلى الماء الذي يتدفق على الأرض دون أن يتبخر أو يفوس في الأرض؟



الخزان A

الآبار B

البحار C


الجريان السطحي D

N1DX13201371AR04GENSCIX13P078

6

السؤال

الشكل يوضح القمر. ما الذي يشير إليه الحرف X؟




الكوكب A

الشمس B

الأرض C


الفوهة D

السؤال	7
استناداً للشكل ماذا يُسمى الشهاب بعد وصوله سطح الأرض؟	
	
A	نيزك
B	مُذنب
C	كويكب
D	نجمة

N3DXB201371AR04GENSCIXT3P078

السؤال	8
كيف يكون المناخ بالقرب من القطبين؟	
A	رطب
B	دافئ
C	بارد
D	حار



9	السؤال
بناءً على الشكل الذي يُبين ظل حيوان الظبي في الصحراء. ما هو موقع الشمس في السماء؟	
 <p>ظل طويل</p>	
A	منخفضة
B	مرتفعة
C	وراء الجبال
D	وراء السحاب


10	السؤال
أي مما يلي يُمثل الترتيب الصحيح لعملية معالجة المياه في محطات المعالجة؟	
A	إضافة المواد الكيميائية ← مرور المياه عبر مرشح ← قتل الجراثيم الضارة
B	مرور المياه عبر مرشح ← إضافة المواد الكيميائية ← قتل الجراثيم الضارة
C	قتل الجراثيم الضارة ← مرور المياه عبر مرشح ← إضافة المواد الكيميائية
D	مرور المياه عبر مرشح ← قتل الجراثيم الضارة ← إضافة المواد الكيميائية



11

السؤال

الشكل يوضح طبقات الغلاف الجوي للأرض.
أي طبقة من طبقات الغلاف الجوي تعتبر الأقل سُمكاً؟



التروبوسفير

A

الإستراتوسفير

B

الميزوسفير


C

الترموسفير

D

السؤال	12
أي مما يلي يُعبر عن وحدة قياس المسافة؟	
A	نيوتن (N)
B	لتر (L)
C	كيلومتر (Km)
D	كيلوجرام (Kg)



السؤال	13
أي مما يلي يُسبب تعاقب الليل والنهار؟	
	
A	دوران الأرض حول محورها
B	دوران الشمس حول الأرض
C	دوران القمر حول الأرض
D	دوران الأرض حول الشمس



14

السؤال

عملية توفير المياه إلى التربة من خلال الأنابيب أو القنوات تسمى



التكثيف

A

التبخير

B

الري

C

التخزين


D



15

السؤال

الشكل يبيّن خريطة طقس دولة الإمارات العربية المتحدة.
أي مما يلي يصف طقس دولة الإمارات العربية المتحدة كما يوضحه الشكل؟



N3DXB201371AR04GENSCIX1T3P078

	مطر	A
	حار	B
	صاف	C
	شمس	D

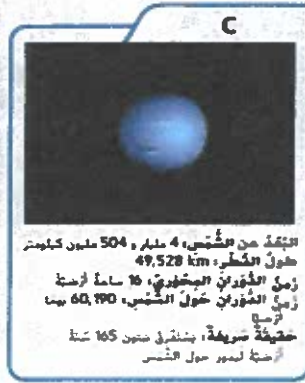


الجزء 2

16

السؤال

يُظهر الشكل الكواكب العملاقة .
أدرسه ثم أجب عن الأسئلة التالية:



• ما الحرف الذي يُشير إلى كوكب المشتري؟

.....

• ما الحرف الذي يُشير إلى كوكب نبتون؟

.....

• ما الحرف الذي يُشير إلى كوكب أورانوس؟

.....

• ما الحرف الذي يُشير إلى كوكب زحل؟

.....





17

السؤال

استنادا الى الشكل الذي يوضح أطوار القمر.

1. اختر المصطلح الصحيح مما يلي ثم أجب على الأسئلة الآتية :-

البدر- الأحدب المتناقص - الهلال المتناقص



• إلى ماذا يشير الحرف (A) ؟

• إلى ماذا يشير الحرف (B) ؟

• إلى ماذا يشير الحرف (C) ؟

2. عندما يقطع القمر ثلاث أرباع دورته حول الأرض ، فسينتقل التمر من طور المهباق

ويصل الى طور.....



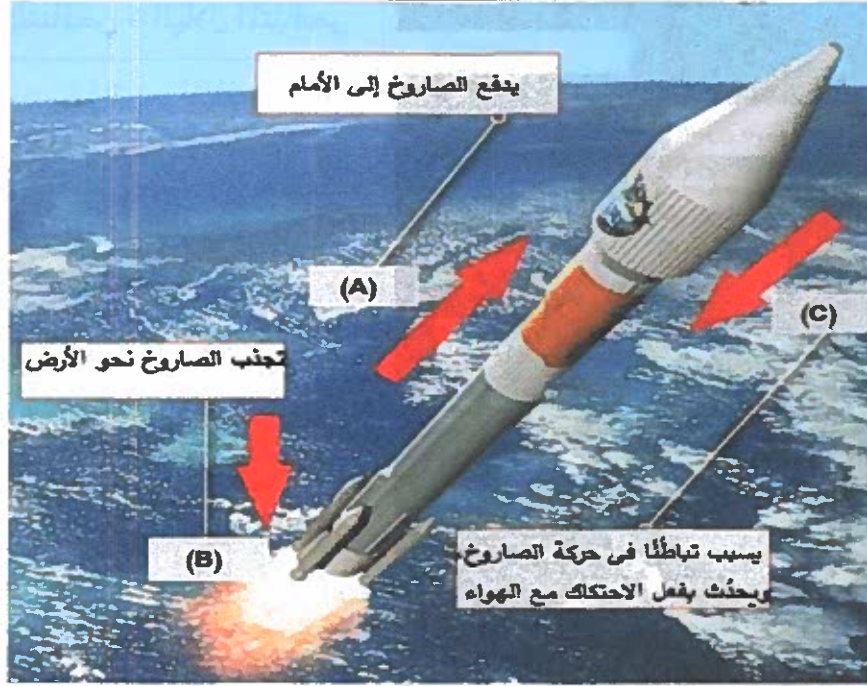
18

السؤال

الشكل يوضح كيف يطير الصاروخ في الفضاء.

1. استخدم المصطلحات أدناه للإجابة على الأسئلة التالية.

الدَّفْع - السَّحْب - الجاذبية



• إلى ماذا يشير الحرف (A) ؟

.....

• إلى ماذا يشير الحرف (B) ؟

.....

• إلى ماذا يشير الحرف (C) ؟

.....

2. لا يوجد هواء في الفضاء، وتوجد جاذبية ضعيفة، فكيف يؤثر ذلك على حركة الصاروخ؟

.....

.....

دفع حثيبي

سحب

السرعة يمكن

19

السؤال

استنادا الى الشكل الذي يوضح ثلاثة فصول من السنة.

1. اختر المصطلح الصحيح مما يلي ثم اكتبه في موقعه المناسب.

الصيف - الشتاء - الخريف



1. يُشير الحرف (A) الى فصل
2. يُشير الحرف (B) الى فصل
3. يُشير الحرف (C) الى فصل

2. لماذا يسقط ضوء الشمس على سطح الأرض بزوايا مختلفة؟

ميل محور الأرض





20

السؤال

استنادًا إلى الشكل الذي يوضح أدوات قياس الطقس.
اختر المصطلح الصحيح مما يلي ثم اكتبه في موقعه المناسب داخل الشكل.

الهيجروميتر - الثيرموميتر - الباروميتر - مقياس المطر



جهاز
لقياس درجة الرطوبة. ▲

..... لقياس درجة
حرارة الجو بالسيلسي (°C)
أو بالفهرنهايت (°F).



..... لقياس
ضغط الهواء. ▲

..... أنبوب يُجمع فيه
الماء. يُظهر كمية هطول المطر.

