


شكراً لتحميلك هذا الملف من موقع المناهج الإماراتية



حل أسئلة درس خطوط الدول ودوائر العرض

[موقع المناهج](#) ← [المناهج الإماراتية](#) ← [الصف الرابع](#) ← [اجتماعيات](#) ← [الفصل الثالث](#) ← [الملف](#)

التواصل الاجتماعي بحسب الصف الرابع



روابط مواد الصف الرابع على تلغرام

[الرياضيات](#)

[اللغة الانجليزية](#)

[اللغة العربية](#)

[التربية الاسلامية](#)

المزيد من الملفات بحسب الصف الرابع والمادة اجتماعيات في الفصل الثالث

دليل الاختبار الوزاري الحديدي المنهج المتكامل	1
أوراق مراجعة مصطلحات ومفاهيم سلسلة سلامة المنهج المتكامل	2
أسئلة امتحان التقويم المستمر الأول	3
أوراق عمل مراجعة درس سلطات الإتحاد	4
حل مراجعة أوراق عمل درس خطوط الطول ودوائر العرض	5

كتاب الطالب - المجلد السادس

حل أسئلة درس :



تم تحميل هذا الملف من

موقع المناهج الإماراتية

alManahj.com/ae

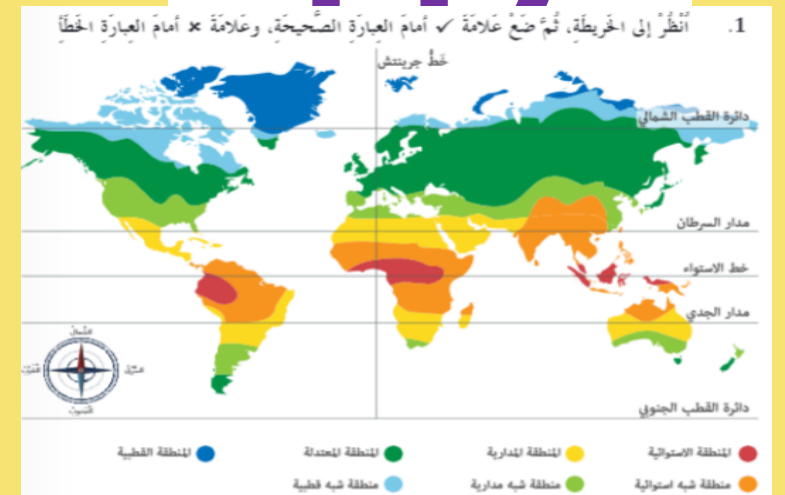
الصفحات

117- 120

الصفحة

117

117



أ. يُعبرُ خطُ جرينتش بقارة أمريكا الشمالية وقارة أمريكا الجنوبية.



ب. يُعبرُ خطُ الاستواء بقارة آسيا وإفريقيا وأمريكا الجنوبية.



ت. تقع قارة أستراليا في النصف الجنوبي الشرقي من الكرة الأرضية.
تم تحميل هذا الملف من



ث. تقع دولة الإمارات العربية المتحدة شمال خط الاستواء، وغرب خط جرينتش.



ج. يُعبرُ مدارُ الجدي بقارة أستراليا وقارة إفريقيا فقط.



alManahj.com/ae

الصفحة

ة

118

2. أكمل الفراغ بالمصطلح الصحيح:

أ. (.....) خط وهمي يقسم الكرة الأرضية إلى نصفين: شمالي وجنوبي.

خط الإستواء

ب. (.....) خط وهمي يقسم الكرة الأرضية إلى نصفين: شرقي وغربي.

خط جرينتش

ت. (.....) خط وهمي يقع شمال خط الاستواء، عند درجة عرض $23,5^{\circ}N$.

مدار السرطان

الصفحة

ة

118

3. اِخْتَرِ الإِجَابَةَ الصَّحِيحَةَ لِكُلِّ سُؤَالٍ فِيمَا يَأْتِي:

01. ما القارّةُ التي يَمُرُّ بها خَطُّ الاسْتِواءِ وَخَطُّ جَرِينْتش؟

أ. قارّةُ آسيا

ب. قارّةُ أوروبا

ت. قارّةُ إفريقيا

ث. قارّةُ أمريكا الجنوبيّة

تم تحميل هذا الملف من

02. أين تقع المنطقة التي رُفِعَ إحداثياتها: $50^\circ \text{N } 90^\circ \text{W}$ ؟

أ. شمال خطّ الاستواء، غرّب خطّ جرينتش.

ب. جنوب خطّ الاستواء، غرّب خطّ جرينتش.

ت. شمال خطّ الاستواء، شرّق خطّ جرينتش.

ث. جنوب خطّ الاستواء، شرّق خطّ جرينتش.

الصفحة 110

01. اكتب اسم الدولة الغربية التي يمرُّ بها خطُّ الاستواء.
جمهورية الصومال

02. اكتب أسماء الدول الغربية التي يمرُّ بها مدارُ السرطانِ
سلطنة عمان - دولة الإمارات - السعودية

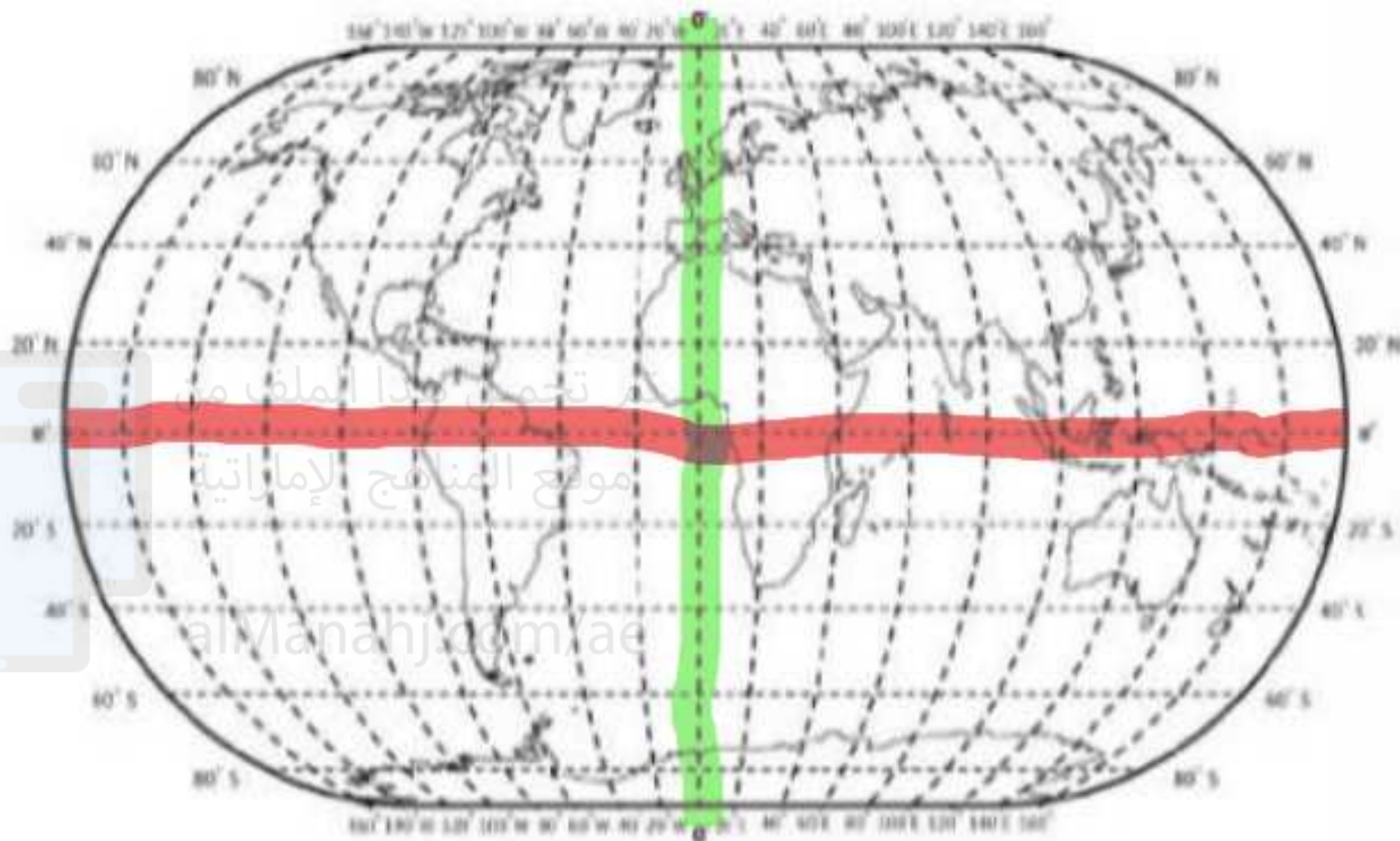
03. اكتب أسماء الدول الغربية التي يمرُّ بها خطُّ جرينتش.
مصر - الجزائر - ليبيا - مورتانيا - المغرب

تم تحميل هذا الملف من موقع المفاهج الإماراتية

الجزائر/ae



السؤال الأول: نفذ الخطوتين 1 و 2 ثم اكتب إجابات الأسئلة من 3 إلى 10 (يُمكنك التعاون مع زميلك)



تحميل هذا الملف من
موقع المناهج الإماراتية

alManahj.com/ae

الصفحة

120



01. لَوْنُ حَظِّ الاسْتِواءِ باللُّونِ الأَحْمَرِ.
02. لَوْنُ حَظِّ غَرِبتش باللُّونِ الأَخْضَرِ.
03. حَدِّدْ أَيْنَ تَقَعُ الإِخْدائِيَّاتُ الآتِيَةُ: 20N, 40W ؟
- المحيط (الأطلسي / الأطلنطي)
04. فِي أَيِّ قَارَةِ تَقَعُ الإِخْدائِيَّاتُ الآتِيَةُ: 40N, 100W ؟
- قارة أمريكا الشمالية
05. فِي أَيِّ قَارَةِ تَقَعُ الإِخْدائِيَّاتُ الآتِيَةُ: 20S, 120E ؟
- قارة إستراليا
06. اكْتُبْ أَيَّ إِخْدائِيَّاتٍ تَمُرُّ بِقَارَةِ إِفْرِيقِيَا
- 20N . 20E
07. مَا اسْمُ المُحِيطِ الَّذِي تَمُرُّ بِهِ الإِخْدائِيَّاتُ الآتِيَةُ 20S, 80E ؟
- المحيط الهندي
08. مَا القَارَةُ الَّتِي تَمُرُّ بِهَا الإِخْدائِيَّاتُ 20S, 60W ؟
- قارة أمريكا الجنوبية
09. اكْتُبْ أَيَّ إِخْدائِيَّاتٍ تَمُرُّ بِقَارَةِ آسِيَا
- N . 80E 40
10. فِي أَيِّ قَارَةِ تَقَعُ الإِخْدائِيَّاتُ الآتِيَةُ: 60N, 20E ؟
- قارة أوروبا