

تم تحميل هذا الملف من موقع المناهج الإماراتية



*للحصول على أوراق عمل لجميع الصفوف وجميع المواد اضغط هنا

<https://almanahj.com/ae>

* للحصول على أوراق عمل لجميع مواد الصف الرابع اضغط هنا

<https://almanahj.com/ae/4>

* للحصول على جميع أوراق الصف الرابع في مادة اجتماعيات ولجميع الفصول, اضغط هنا

<https://almanahj.com/ae/4>

* للحصول على أوراق عمل لجميع مواد الصف الرابع في مادة اجتماعيات الخاصة بـ اضغط هنا

<https://almanahj.com/ae/4>

* لتحميل كتب جميع المواد في جميع الفصول للـ الصف الرابع اضغط هنا

<https://almanahj.com/ae/grade4>

للتحدث إلى بوت المناهج على تلغرام: اضغط هنا

https://t.me/almanahj_bot

اقرا الفقرة الآتية، ثم اجب:

25.00 علامة

5 - 3

تسمى الآثار التي تركها الأجداد منذ القدم:

a. الحضارة

b. الابتكارات

c. الاختراعات

واقف أثرية عديدة وأثارتدل على قيام حضارات عريقة نتيجة تفاعله مع البيئة، لتحسين ظروف حياته، وقد قام، الذي ساعد على سهولة التواصل بين سكان الإمارات جانب توفر المياه وعبقرية الإنسان الإماراتي، ومن أشهر رقة، وأم النار في أبوظبي.

لاحظ الأشكال، واقرأ الحقائق التي تميز دولة الإمارات العربية المتحدة، ثم أجب:

5 - 5 25.00 علامة

يسهل اتصال دولة الإمارات بدول العالم بسبب:

موقعها الاستراتيجي .a

تعدد الجنسيات .b

تنوع الطبيعة فيها .c

أنشطة ترفيهية



- موقع استراتيجي يربط بين الشرق والغرب.
- التسامح الديني والثقافي، لجميع الجنسيات والثقافات.

مشاريع اقتصادية



لاحظ الأشكال، واقرأ الحقائق التي تميز دولة الإمارات العربية المتحدة، ثم أجب:

5 - 3
25.00 علامة

تتميز دولة الإمارات بمشاريعها الاقتصادية الرائدة، والتي من أهمها:

a. مسجد الشيخ زايد

b. الجزر الاصطناعية

c. عالم مدهش

أنشطة ترفيهية



تتبع استراتيجية يربط بين

الديني والثقافي،

السياسات والثقافات.

مع اقتصادية



85%

١٠:٥٩ م
٢٠٢١/٠٦/٠٨

٤



الصف الرابع - الدراسات الاجتماعية - اختبار نهاية الفصل الدراسي الثالث - 2021

السؤال التالي

اقرأ الفقرة الآتية، ثم أجب:

25.00 علامة 3 - 5

تسمى الآثار التي تركها الأجداد منذ القدم:

- a. الحضارة
- b. الابتكارات
- c. الاختراعات

دلت التنقيبات التي أجرتها دولة الإمارات، على وجود مواقع أثرية عديدة وأثار تدل على قيام حضارات عريقة منذ القدم. فالحضارة ثمار لأي جهد يقوم به الإنسان، نتيجة تفاعله مع البيئة، لتحسين ظروف حياته. وقد ساعد على ازدهار حضارة الإمارات، الموقع الجغرافي الهام، الذي ساعد على سهولة التواصل بين سكان الإمارات والمناطق المجاورة، في العراق ومصر وبلاد الشام، إلى جانب توفر المياه وعبقريّة الإنسان الإماراتي، ومن أشهر المناطق الأثرية في دولتنا، جبل الفاية والمليحة في الشارقة، وأم النار في أبوظبي.

على موارد المياه العذبة، ويحتوي من تسواك ما لديهم من موارد طبيعية لتوفير احتياجات الأحياء،
لشركاء بعلمهم المبرعة من حصولهم، إلى راحة عموماً، فتلزم من هذا المورد، الخالية من
الخطر، لشركاء، لتولوا فرصاً الحصول على المياه العذبة من باطن الأرض طوال السنة، بعد ذلك لا تسمى
الغمرية)، استخدموا كرمي الأسمدة الزراعية، على حدائقهم اليومية، ومن ثم لنشاطهم التي تكثر في الأقاليم في
بؤلة الأبدان، فمع العمل الذي يقع في إدارة الملقون، والتي يحكمها أن الغطاء من كرمي عديدة.

اقرأ الفقرة الآتية، ثم أجب:

5 - 5

25.00 علامة

تتميز المياه التي تستخرج
من باطن الأرض، بأنها:

- a. مالحة
- b. عذبة
- c. ملوثة



اقرأ الفقرة الآتية، ثم أجب:

5 - 1 25.00 علامة

من العوامل التي ساعدت سكان الإمارات منذ القدم على التواصل مع الحضارات المجاورة:

a. توفر المياه العذبة

b. ابتكار الأدوات المتنوعة

c. الموقع الجغرافي

د مواقع أثرية عديدة وأثارتدل على قيام حضارات عريقة
ان، نتيجة تفاعله مع البيئة، لتحسين ظروف حياته، وقد
لهام، الذي ساعد على سهولة التواصل بين سكان الإمارات
جانبا توفر المياه وعبقرية الإنسان الإماراتي، ومن أشهر
رقة، وأم النار في أبوظبي.

وَالَّتِي تُعَدُّ سِمَةً مُمَيِّزَةً فِي الْهَنْدَسَةِ الْمِعْمَارِيَّةِ
كَوْنَهُ مِنْ 7850 نَجْمًا، تَسْمَحُ بِأَنْسِيَابِ أَشِعَّةِ
بِالتَّقْوِبِ الْمَوْجُودَةِ فِي الْقُبَّةِ لِخَلْقِ مَا يُسَمَّى بِ"شُعَاعِ النُّورِ".

لِهَنْدَسِيٍّ لِلْقُبَّةِ دَوْرًا كَبِيرًا فِي الْحَدِّ مِنْ اسْتِهْلَاكِ الطَّاقَةِ، وَالَّذِي يَدْوِرُهُ يُتِيحُ لِلزَّائِرِ التَّنَقُّلَ
ذَاتِيًّا. إِذْ تَمَّ تَوْفِيرُ الظِّلِّ ذَاتِيًّا مِنَ الْمَبَانِي الْمَجَاوِرَةِ، وَدُخُولِ الضُّوءِ مِنْ خِلَالِ تَخْرِيْمَاتِ
أَلْوَانٍ خَفِيفَةٍ بَاهِتَةٍ وَمَوَادِّ عَاكِسَةٍ لِلضُّوءِ وَغِلَافٍ عَازِلٍ يَبْقَى الْمَبْنَى مِنَ الْحَرَارَةِ الْخَارِجِيَّةِ،
بِنِيَابٍ بَيْئِيَّةٍ حَدِيثَةٍ تُسَاعِدُ فِي تَخْفِيزِ الْاِمْتِصَاصِ الْحَرَارِيِّ وَاسْتِهْلَاكِ الطَّاقَةِ وَالْمِيَاهِ.

مِنْ مَجْمُوعَةٍ مِنَ الْقَاعَاتِ الْمُنْتَوَعَةِ وَتَبْلُغُ اثْنَيْ عَشَرَ قَاعَةً. وَيَبْلُغُ عَدَدُ الْقِطْعِ الْمَعْرُوضَةِ
يَفُوقُ (600) قِطْعَةً فَنِيَّةً تَتَنَوَّعُ بَيْنَ آثَارِ عُصُورٍ مَا قَبْلَ التَّارِيخِ وَحَتَّى إِبْدَاعَاتِ الْفَنَانِينَ
بِجَانِبِ عَدَدٍ مِنَ الْقِطْعِ الْفَنِيَّةِ الْمُمَيِّزَةِ الْمُعَاوَزَةِ مِنْ أُبْرَزِ مَتَاحِفِ فَرَنْسَا.

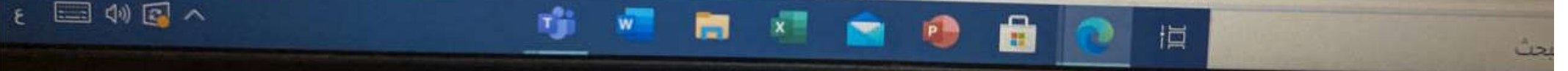
ما الفكرة الرئيسية من نص "متحف اللوفر-أبو
ظلي"؟

a. التعريف بمتحف اللوفر - أبو ظلي
ومصممه.

b. التعريف بمتحف اللوفر-أبو ظلي وسبب
بنيته.

c. التعريف بالشكل الهندسي لقبة متحف
اللوفر-أبو ظلي.

التعريف بمتحف اللوفر-أبو ظلي وتصميمه



اقرأ الفقرة الآتية، ثم أجب:

5 - 5 25.00 علامة

اجاتهم الضرورية، للغذاء والمسكن،
وافرته لهم الطبيعة من موارد لتوفير
البن والنخيل، فعملوا في حرف ومهن
من باطن الأرض، مثل (اليازرة)، إلى
تخدم لحفظ التمر والرطب.

اشتهر أجدادنا بالتجارة منذ القدم، بسبب:

a. توفر المراعي

b. خصوبة التربة

c. الموقع الجغرافي

45%

١٠:٥٣ م
٢٠٢١/٠٦/٠٨

٤



اقرأ الفقرة الآتية، ثم أجب:

25.00 علامة 5 - 4

وفرت الطبيعة لأجدادنا مواد خام طبيعية ساعدتهم على الابتكار، مثل:

a. العربات

b. النخيل

c. السفن

لحصول على احتياجاتهم الضرورية، للغذاء والمسكن، واستغلوا ما وفرت لهم الطبيعة من موارد لتوفير ياد الخام، كالطين والنخيل، فعملوا في حرف ومهن للحصول على الماء من باطن الأرض، مثل (اليازرة)، إلى رُود الجفير المستخدم لحفظ التمر والرطب.

No Limit

4 - 3



امتحانات الاجتماعية - اختبار نهائي ..

اقرأ الفقرة الآتية، ثم أجب:

5 - 4

25.00 علامة

3:07

واجبنا نحو كل ما تركه
أجدادنا:

- a. التخلص منه
- b. عدم الاهتمام به
- c. المحافظة عليه

كل ما لنسجم من موارد طبيعية لتوفير احتياجاتهم الأساسية،
كواحدة عناصر، فبالرغم من قلة الموارد المائية بسبب قلة
ماء العذبة من باطن الأرض طوال السنة، يخترق قناة لتسهي
في حياتهم اليومية، ومن أشهر المناطق التي تكثر فيها الأباراج في
بومون، والتي يحكمها آل الخلام منذ قرون عديدة.

65%



اقراء النص الآتي (متحف اللوفر: أبو ظبي)، ثم
أجب عن الأسئلة التي تليه:

10 - 7 50.00 علامة

أي من الجمل الآتية تعدُّ خطأ، حسب فهمك للنص؟


a. تُساعد تقنيات المبنى الحديثة على زيادة
الامتصاص الحراري.

b. تسمَح الثقوب الموجودة في القبة بمرور
شعاع النور.

c. يُسهم البناء الهندسي للقبة في توفير
الطاقة.

d. يحمي الغلاف العازل المبنى من الحرارة.

قر-أبو ظبي عام 2017. وأنشئ المتحف بموجب الاتفاقية الموقعة بين
الفرنسية، والمتداولة لمدة ثلاثين عاماً على مساحة تصل لـ 24 ألف متر مُربع
ت. ووفقاً لمسؤولي المشروع فإن هذا المتحف سوف يكون معرضاً للأثار الفنية
عالم؛ والهدف الأساسي من المشروع هو أن يكون حلقة وصل بين الفن الشرقي



أبو ظبي-المصمم العالمي الفرنسي "جان
"نوفيل" على تصميم قبة عائمة من
ألي 7500 طن. وهذه القبة مستوحاة من
تعد سمة مميزة في الهندسة المعمارية
من 7850 نجماً، تسمَح بانسياب أشعة

تقريب الموجودة في القبة لخلق ما يُسمى بـ "شعاع النور".

مبي للقبة دوراً كبيراً في الحد من استهلاك الطاقة، والذي بدوره يتيح للزائر التنقل
ياً. إذ تم توفير الظل ذاتياً من المباني المجاورة، ودخول الضوء من خلال تخريبات
خفيفة باهتة ومواد عاكسة للضوء وغلاف عازل يقي المبنى من الحرارة الخارجية،
سنة حديثة تُساعد في تخفيض الامتصاص الجوي واستهلاك الطاقة والمياه.

صح لإحدى النص الإجمالي واقرأ الحقائق التي تميز دولة الإمارات العربية المتحدة، ثم أجب:

5 - 5 25.00 علامة

يسهل اتصال دولة الإمارات بدول العالم بسبب:

- a. موقعها الاستراتيجي
- b. تعدد الجنسيات
- c. تنوع الطبيعة فيها

أنشطة ترفيهية



- موقع استراتيجي يربط بين الشرق والغرب.
- التسامح الديني والثقافي، لجميع الجنسيات والثقافات.

مشاريع اقتصادية



خدمات سياحية



لاحظ الأشكال، واقرا الحقائق التي تميز دولة الإمارات العربية المتحدة، ثم اجب:

3 - 5 علامة 25.00

تتميز دولة الإمارات بمشاريعها الاقتصادية الرائدة. والتي من أهمها:

- a. مسجد الشيخ زايد
- b. الجزر الاصطناعية
- c. عالم مدهش

أنشطة ترفيهية



- موقع استراتيجي يربط بين الشرق والغرب.
- التسامح الديني والثقافي، لجميع الجنسيات والثقافات.

مشاريع اقتصادية



خدمات سياحية





No Limit



4 - 3



الصف الرابع - الدراسات الاجتماعية - اختبار نهائي ..



اقرأ الفقرة الآتية، ثم أجب:



5 - 3



25.00 علامة

2:47

يقع فلج المعلا في إمارة:



الشارقة

.a



عجمان

.b



أم القيوين

.c

تعدى أجدادنا بيتهم الفاسية، وتمكنوا من تسخير كل ما لديهم من موارد طبيعية لتوفير احتياجاتهم الأساسية، فتمكنوا بفولهم المبدعة من تحويل الصحراء إلى واحة خضراء، فبالرغم من قلة الموارد المائية بسبب قلة الأمطار، ابتكروا أسلوباً فريداً للحصول على المياه العذبة من باطن الأرض طوال السنة، بحفر قناة تسمى (الشرية). استخدموه لري الأراضي الزراعية، وفي حياتهم اليومية، ومن أشهر المناطق التي تكثر فيها الأفلاج في دولة الإمارات، فلج المعلا الذي يقع في إمارة أم القيوين، والتي يحكمها آل المعلا منذ قرون عديدة.

اقرأ الفقرة الآتية، ثم أجب:

5 - 2

25.00 علامة



السد

a.



الجب

b.



الجفر

c.

تعدي أجدادنا بيئتهم القاسية، وتكثروا من تسخير كل ما لديهم من موارد طبيعية لتوفير احتياجاتهم الأساسية. فتكثروا بطولهم المندفعة من بصون الضخام إلى واحدة ضخام، فبالرغم من قلة الموارد المائية بسبب قلة الأمطار، ابتكروا أسلوباً فريداً للتصديق على الماء العذبة من باطن الأرض طوال السنة، يعرف قديماً باسم (السد). استخدموه لري الأراضي الزراعية، وفي حواميم اليومية، ومن أشهر المناطق التي تكثر فيها الأباريق في دولة الإمارات، قبح الخفلا الذي يقع في إمارة أم القيوين، والتي يحكمها أن الخفلا منذ قرون عديدة.

اقرأ الفقرة الآتية، ثم أجب:

5 - 2

25.00 علامة



الشرعة

a.



الجِبِّ

b.



الجَافِر

c.

تعدي أجدادنا بيئتهم القاسية، وتكثروا من تسخير كل ما لديهم من موارد طبيعية لتوفير احتياجاتهم الأساسية. فتسكنوا بطوليم الجبلية من تصون الصحراء إلى واحة حضراء، فبالرغم من قلة الموارد المائية بسبب قلة الأمطار، ابتكروا أسلوباً فريداً للتصديق على الماء العذبة من باطن الأرض طوال السنة، يعرف قديماً باسم (الشرعة). استخدموه لري الأراضي الزراعية، وفي حواميم اليومية، ومن أشهر المناطق التي تكثر فيها الأقاليم في دولة الإمارات، قحج الجبل الذي يقع في إمارة أم القيوين، والتي يحكمها أن الجبل منذ قرون عديدة.

الصف الرابع - الدراسات الاجتماعية - اختبار نهاية الفصل الدراسي الثالث - 2021

اقرأ الفقرة الآتية، ثم اجب:

5 - 4 25.00 علامة

ابتكر أجدادنا في الماضي، وسائل وأدوات مكنهم من الحصول على احتياجاتهم الضرورية، للغذاء والمسكن، فأبدعوا في إنتاج وسائل متعددة رغم ظروف حياتهم القاسية، واستغلوا ما وفرت له الطبيعة من موارد لتوفير احتياجاتهم مثل الموقع الجغرافي المائل على البحر، والمواد الخام، كالطين والنخيل، فعملوا في حرف ومهن ارتبطت بهذه الموارد، وتمكنوا من اختراع أدوات تسهل لهم الحصول على الماء من باطن الأرض، مثل (الهاجرة)، إلى جانب بعض الصناعات البسيطة الأخرى مثل، العجّ والسروّود الجفيري المستخدم لحفظ التمر والرطب.

وفرت الطبيعة لأجدادنا مواد خام طبيعية ساعدتهم على الابتكار، مثل:

- a. العريبات
- b. النخيل
- c. السفن



اقرأ الفقرة الآتية، ثم أجب:



5 - 1



25.00 علامة

5:53

الاجابة
من كتاب الامتحان مادة الاجتماعيات الصف الرابع الفصل الثاني

سبب قلة المياه في دولة الإمارات منذ القدم:

- a. وجود النخيل
- b. كثرة الواحات
- c. قلة الأمطار

تحدى أجدادنا بيتهم القاسية، وتمكنوا من تسخير كل ما لديهم من موارد طبيعية لتوفير احتياجاتهم الأساسية. فتمكنوا بحلولهم المبتدعة من تحويل الصحراء إلى واحة خضراء، فبالرغم من قلة الموارد المائية بسبب قلة الأمطار، ابتكروا أسلوبياً فريداً للحصول على المياه العذبة من باطن الأرض طوال السنة. بهجر قناة تسمى (الشريعة)، استخدموه لري الأراضي الزراعية، وفي حياتهم اليومية، ومن أشهر المناطق التي تكثر فيها الأفلاج في دولة الإمارات، فلج المعلا الذي يقع في إمارة أم القيوين، والتي يحكمها آل المعلا منذ قرون عديدة.

اقرأ الفقرة الآتية، ثم أجب:

5 - 3 25.00 علامة

استخدم الأجداد (اليازرة):

a. لصيد الأسماك

b. لحفظ المياه

c. لاستخراج الماء من باطن الأرض

ابتكر أجدادنا في الماضي، وسائل وأدوات مكنهم من الحصول على احتياجاتهم الضرورية، للغذاء والمسكن، فأبدعوا في إنتاج وسائل متعددة رغم ظروف حياتهم القاسية، واستغلوا ما وفرت لهم الطبيعة من موارد لتوفير احتياجاتهم مثل الموقع الجغرافي المطل على البحر، والمواد الخام، كالطين والنخيل، فعملوا في حرف ومهن ارتبطت بهذه الموارد، وتمكنوا من اختراع أدوات تسهل لهم الحصول على الماء من باطن الأرض، مثل (اليازرة)، إلى جانب بعض الصناعات البسيطة الأخرى مثل، الجبّ والسرود الجفير المستخدم لحفظ التمر والرطب.

25.00 علامة

5 - 1

تنبيه

على الطالب مراعاة الزمن المحدد، لقراءة الفقرة كاملة، ثم الإجابة عن السؤال الوارد

سبب قلة المياه في دولة الإمارات
منذ القدم:



a. قلة الأمطار



b. وجود النخيل



c. كثرة الواحات

No Limit



4 - 2



الدراسي الثالث - 20... ل

اقرأ الجدول الآتي، لتتعرف كيف تنفق عائشة مصروفها الشخصي، ثم أجب:

25.00 علامة

5 - 5

2:50

تعتبر القصة من حاجات عائشة:



a. التي لا تستغني عنها



b. الأساسية



c. الثانوية

مجموع ما
اختره عائشة

.....؟



تنبيه

على الطالب مراجعة الزمن المحدد، لقراءة الشكل كاملاً، ثم الإجابة عن السؤال الوارد

تتكون دولة الإمارات العربية المتحدة من إمارات عددها:



5

.a



6

.b



7

.c



25%



السؤال
التالي

اقرأ الجدول الآتي، لتتعرف كيف عائلته مصروفها الشخصي، ثم أجب:

5 - 4 25.00 علامة

تعرف النقود التي توفرها من الدخل لإنفاقها عند الحاجة الضرورية، بنقود:

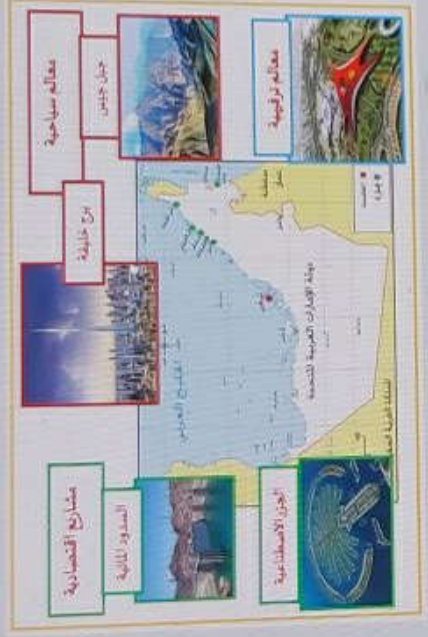
- a. المصروف
- b. الادخار
- c. الدخل



الصف الرابع - الدراسات الاجتماعية - اختبا...

لاحظ خريطة
المتحدة والأ

5 - 1



المتحدة من إ

- a.
- b.
- c.



No Limit

4 - 2



سات الاجتماعية - اختبا...

لاحظ خريطة دولة الإمارات العربية المتحدة والأشكال المرفقة، ثم أجب:

25.00 علامة

5 - 1



4:50



تنبيه
على الطالب مراعاة الزمن المحدد للجزء المكمل كإكمال ثم الإجابة عن السؤال الآتية.

تتكون دولة الإمارات العربية المتحدة من إمارات عددها:



.a



.b



.c



25%



No Limit

4 - 1



اختبار نهار ..

i

اقرأ الجدول الآتي، لتتعرف
كيف تتفق عائشة مصروفها
الشخصي، ثم أجب:

5 - 5

25.00 علامة

تعتبر القصة من حاجات
عائشة:

- a. التي لا تستغني عن
- b. الأساسية
- c. الثانوية

20%



اقرأ الجدول الآتي، لتتعرف كيف تنفق
عائشة مصروفها الشخصي، ثم أجب:



5 - 3
علامة 25.00

كم تبلغ القيمة المالية التي تتدخرها
عائشة من مصروفها الشخصي؟



a. 10 دراهم



b. 5 دراهم



c. 15 درهم

اقرأ الجدول الآتي، لتتعرف
كيف تنفق عائشة مصروفها
الشخصي، ثم أجب:

5 - 5

25.00 علامة

تعتبر القصة من حاجات
عائشة:

- a. التي لا تستغني عنها
- b. الأساسية
- c. الثانوية

20%

للإجابة عمّا يلي:

50.00 علامة

10 - 4

ما الكثافة السكانية للهند؟

a. 150.51 شخصًا لكل 2 كم.

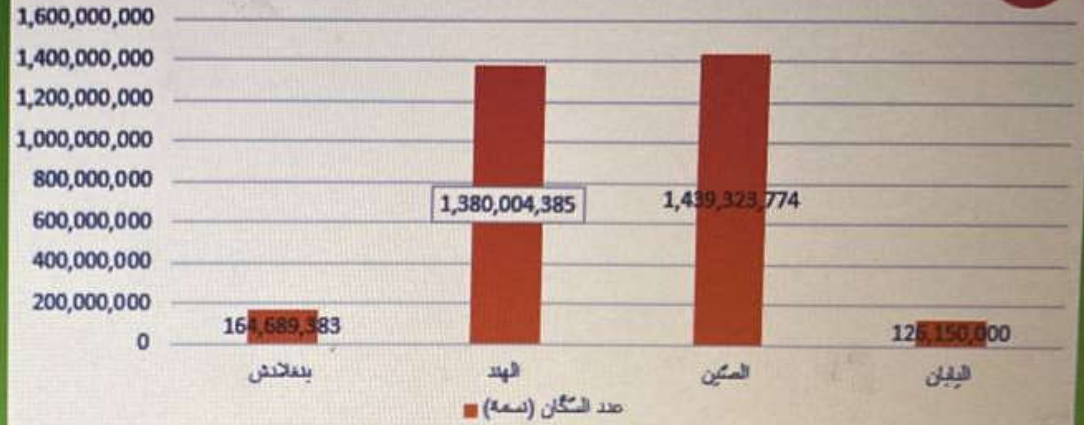
b. 115.55 شخصًا لكل 2 كم.

c. 334.63 شخصًا لكل 2 كم.

d. 419.8 شخصًا لكل 2 كم.

عدّد السكّان

1



المساحة (كم2)

2



اكتب هنا للبحث

اقرأ الجدول الآتي، لتتعرف كيف تنفق عائشة مصروفها الشخصي، ثم أجب:

5 - 1
25.00 علامة

تنبيه

على الطالب مراعاة الزمن المحدد، لقراءة الجدول كاملاً، ثم الإجابة عن السؤال الوارد

يقصد بالدخل:

- a. النقود التي نخصصها للصدقة
- b. النقود التي نحصل عليها لشراء ما نحتاج إليه
- c. النقود التي ننفقها لشراء ما نحتاج إليه