

تم تحميل هذا الملف من موقع المناهج الإماراتية



أسئلة الامتحان النهائي القسم الورقي منهج انسابير العام 2024-2025

موقع المناهج ← المناهج الإماراتية ← الصف الرابع ← علوم ← الفصل الأول ← ملفات متنوعة ← الملف

تاريخ إضافة الملف على موقع المناهج: 2024-11-27 12:19:49

ملفات اكتب للمعلم اكتب للطالب | اختبارات الكترونية | اختبارات | حلول | عروض بوربوينت | أوراق عمل
منهج انجليزي | ملخصات وتقارير | مذكرات وبنوك | الامتحان النهائي للمدرس

المزيد من مادة
علوم:

التواصل الاجتماعي بحسب الصف الرابع



صفحة المناهج
الإماراتية على
فيسبوك

الرياضيات

اللغة الانجليزية

اللغة العربية

التربية الاسلامية

المواد على تلغرام

المزيد من الملفات بحسب الصف الرابع والمادة علوم في الفصل الأول

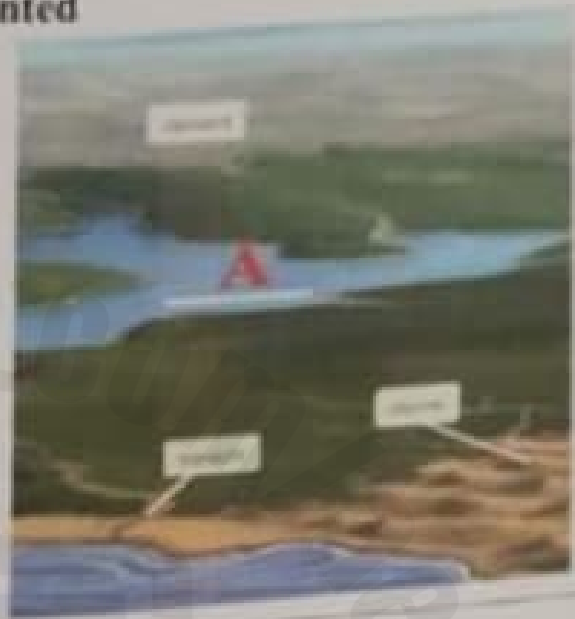
أسئلة الامتحان النهائي القسم الورقي منهج انسابير العام 2024-2025	1
أسئلة الامتحان النهائي القسم الورقي منهج بريدج العام 2024-2025	2
تجميعه أسئلة وفق الهيكل الوزاري استعداد للامتحان	3
مراجعة نهائية وفق الهيكل الوزاري منهج بريدج	4
أسئلة اختبار تجريبي وفق الهيكل الوزاري منهج انسابير متبوعه بالإجابات	5

120247

Question

1

The figure illustrates landforms.
Which of the following is represented
by the letter (A)?



A

Ocean

C

Coast

B

Valley

D

Lake



Question

2

Which feature is an underwater mountain that rises from the
ocean floor?

A

Seamount

C

Continental Shelf

B

Abyssal Plain

D

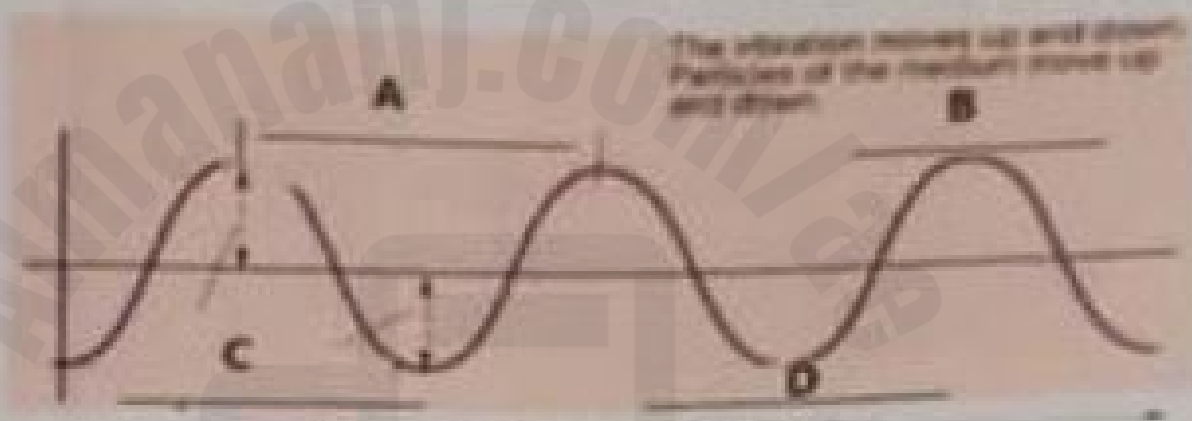
Coral Reef

Question

17

The figure shows a type of waves, study it well then answer the following questions using the terms in the box below.

transverse - wavelength - amplitude - trough - crest



- Letter A is
- Letter C is
- Letter D is
- What is the type of the wave?
.....



Question

Use the figure to identify the fastest animal.



A	Dolphin	C	Horse
B	Giraffe	D	Cheetah

Question

12

Which of the following is the average velocity of a plane flying 1200 kilometers north in 2 hours?

A	600 km/h south	C	600 km/h north
B	600 km/m south	D	600 km/m north

Question

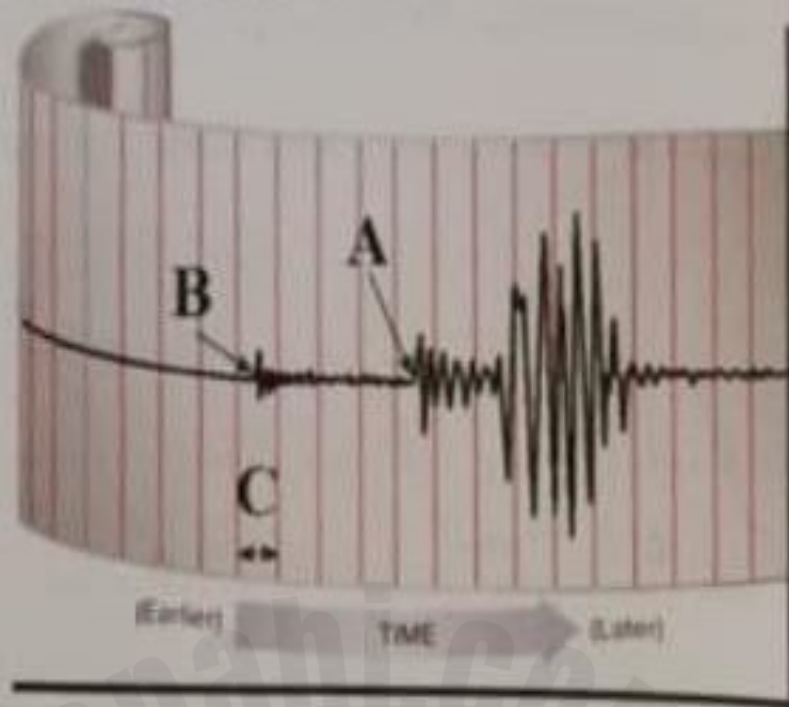
13

If the drag forces are increased, then an object will fall.....

A	more slowly	C	at the same speed
B	faster	D	rapidly and then slow down



Use the figure to answer the below questions:



1. Which letter represents the first transverse wave?

.....

2. Which letter represents the first longitudinal wave?

.....

3. Fill in the blanks.

- The name of the device is

.....

- The function of the device is to

.....



G04

7

Question

Which of the following happens during a volcanic eruption?



A	Rivers dry up	C	Water is released from the volcano
B	Lava is released from the volcano	D	Mountains are flattened

Question

8

Which of the following causes the s-shaped folds in the rock layer as shown in the figure?



A	Erosion	C	Volcanic activity
B	Earthquakes	D	River flow



Question

19

Use the figure to answer the below questions.



1. Fill in the blanks.

- The transverse wave is labeled by the letter.....
- The longitudinal wave is labeled by the letter.....
- Which letter indicates the sensors?.....

2. Circle the correct answer.

Which kind of waves causes more damage?

(Transverse waves – Longitudinal waves)

2024



001107

Question		9	
Which of the following is an example of physical weathering?			
A	Rust forming on a metal fence	C	Acid rain dissolving rocks
B	Water freezing and expanding in rock cracks	D	Rocks changing color due to chemicals

Question		10	
Which of the following is represented by the letter (A) shown in the figure?			
A	gases	C	acids
B	water	D	bases



اسم الطالب	رقم الجلوس	التاريخ	الوقت	الدرجة
------------	------------	---------	-------	--------

Science - English 11 - 2024/2025

Question	20
What are the 4 types of erosion and deposition?	
1.
2.
3.
4.



Almanahj.com/lae

2025

2024



موقع المناهج الإلكترونية

End of Questions

