

تم تحميل هذا الملف من موقع المناهج الإماراتية



*للحصول على أوراق عمل لجميع الصفوف وجميع المواد اضغط هنا

<https://almanahj.com/ae>

* للحصول على أوراق عمل لجميع مواد الصف الرابع اضغط هنا

<https://almanahj.com/ae/4>

* للحصول على جميع أوراق الصف الرابع في مادة رياضيات ولجميع الفصول, اضغط هنا

<https://almanahj.com/ae/4math>

* للحصول على أوراق عمل لجميع مواد الصف الرابع في مادة رياضيات الخاصة بـ الفصل الثالث اضغط هنا

<https://almanahj.com/ae/4math3>

* لتحميل كتب جميع المواد في جميع الفصول للـ الصف الرابع اضغط هنا

<https://almanahj.com/ae/grade4>

للتحدث إلى بوت المناهج على تلغرام: اضغط هنا

https://t.me/almanahj_bot

أبعاد المستطيل

A rectangle has an area of 30 m^2 and a perimeter of 34 m .

مستطيل مساحته 30 m^2 ومحيطه 34 m .
ما أبعاد المستطيل؟

What are the dimensions of the rectangle?

a. $3 \text{ m} \times 10 \text{ m}$

b. $5 \text{ m} \times 6 \text{ m}$

c. $2 \text{ m} \times 15 \text{ m}$

d. $1 \text{ m} \times 30 \text{ m}$

2 x 15

0%

الصف الرابع - الرياضيات - اختبار ختامي قصير 2 - 2020

الكتلة بالجرامات

A suitcase has a mass of 15 kg.

تبلغ كتلة حقيبة ما 15 kg .

How many grams is the mass of the suitcase?

بالجرامات؟

150 g

a.

1,500 g

b.

15,000 g

c.

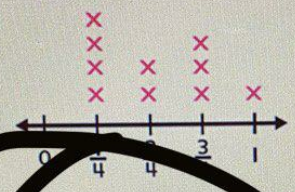
15 g

d.

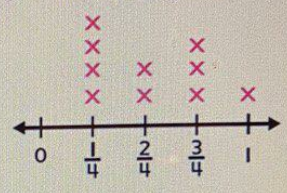
50%



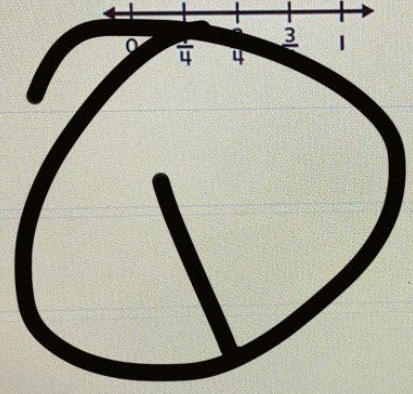
Study Time (hr)



وقت المذاكرة (hr)



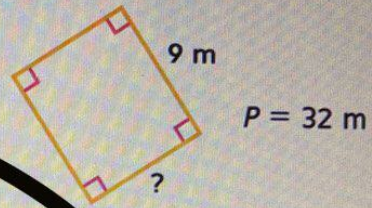
- a. $\frac{2}{4}$
- b. $\frac{1}{4}$
- c. 1




10%



side of the rectangle?



- a. 14 m
- b. 23 m
- c. 5 m
- d. 7 m

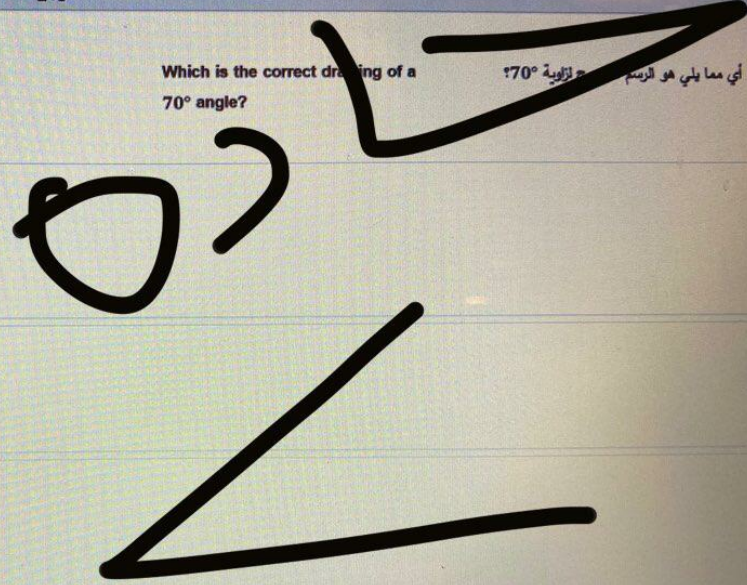

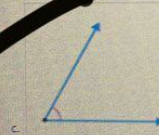
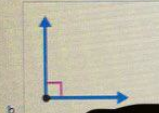



30%



Which is the correct drawing of a 70° angle?

أي مما يلي هو الرسم لزاوية 70°؟



90%

التقدير الأفضل لطول

Choose the best estimate for the length of a river.

اختر التقدير الأفضل لطول نهر.

a. 270 mm

b. 7 m

c. 27 km

d. 170 cm

27 km

40%



الصف الرابع - الرياضيات - اختبار ختامي قصير 2 - 2020

Choose the most reasonable estimate for the capacity of the spoon.

اختر التقدير الأكثر منطقية لسعة المعلقة.



a. 4 L

b. 400 L

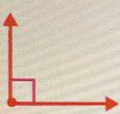
c. 4 mL


d. 400 mL


4 mL


60%

Smart Learning G - المقررات Viewer | SwiftAssess
cluster2-6.moe.gov.ae/viewer/main.html?ek=991fa390#
الصف الرابع - الرياضيات - اختبار ختامي قصير 2020 3 - 10

a. 

b. 


c. 

d. 

20%

3:31 PM 6/10/20

من زبون



الصف الرابع - الرياضيات - اختبار ختامي قصير - 2020

What is the measure of the angle below in degrees?

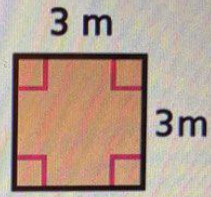
ويرة أفناه بالدرجات؟



- a. 360°
- b. 90°
- c. 180°
- d. 0°

180

80%



a. $A = 6 \text{ m}^2$

b. $A = 12 \text{ m}^2$

c. $A = 9 \text{ m}^2$

d. $A = 1 \text{ m}^2$

9 m²

