

تم تحميل هذا الملف من موقع المناهج الإماراتية



أسئلة مراجعة الاختبار القصير الأول

موقع المناهج ← المناهج الإماراتية ← الصف الرابع ← اجتماعيات ← الفصل الثاني ← اختبارات ← الملف

تاريخ إضافة الملف على موقع المناهج: 10:52:28 2025-02-18

ملفات اكتب للمعلم اكتب للطالب | اختبارات الكترونية | اختبارات | حلول | عروض بوربوينت | أوراق عمل
منهج انجليزي | ملخصات وتقارير | مذكرات وبنوك | الامتحان النهائي للمدرس

المزيد من مادة
اجتماعيات:

التواصل الاجتماعي بحسب الصف الرابع



الرياضيات



اللغة الانجليزية



اللغة العربية



التربية الاسلامية



المواد على تلغرام

صفحة المناهج
الإماراتية على
فيسبوك

المزيد من الملفات بحسب الصف الرابع والمادة اجتماعيات في الفصل الثاني

الهيكل الامتحاني الوزاري الجديد كافة المسارات

1

أسئلة الاختبار التكويني الأول

2

عرض بوربوينت درس السكان في دولة الإمارات العربية المتحدة

3

عرض بوربوينت حل درس المهلب بن أبي صفرة

4

عرض بوربوينت درس بيئتي مسؤوليتي (الازدحام المروري)

5

الشعبة:.....

الصف : الرابع

الاسم:.....

الصف الرابع

الاسم

من أنا



أولا «سكان بلادي»

YEAR OF
ZAYED

اختار الإجابة الصحيحة فيما يلي :

ظهر التنمية في دولة الإمارات بعد اكتشاف :

(المترو - النفط - الشوارع)

عدد السكان في دولة الإمارات في حالة :

(تراجع مستمر - ثابت - زيادة مستمرة)

أرض جافة قاحلة قليلة المطر

فمن أنا؟؟

.....

امتداد لليابسة محاطة بالماء من

ثلاث جهات


فمن أنا؟؟

.....

عملية التغير نحو الأحسن والأفضل

فمن أنا؟؟

.....



ماذا ينتج عن قلة الأمطار وارتفاع
درجات الحرارة في المناطق الصحراوية؟

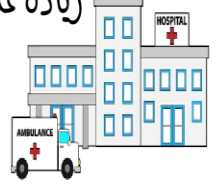
.....

.....



زيادة عدد الواليد وقله عدد الوفيات؟

علل؟



.....


.....

.....

ما هي أسباب النمو السكاني في دولة الإمارات



ارتفاع مستوى المعيشة



الاسم

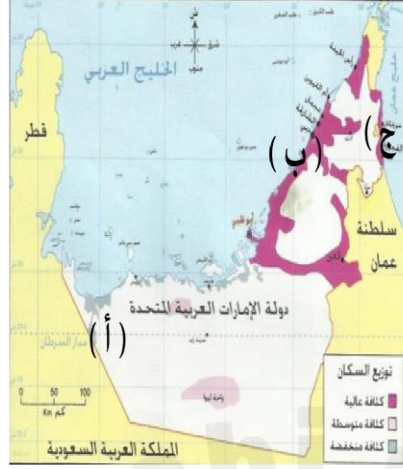
ثانيا «توزيع السكان»



من خلال الخريطة أجب عما يلي :

العوامل المؤثرة في توزيع السكان في دولة الإمارات؟

- لماذا يقل السكان في المنطقة المشار إليها بـ (أ) :



اذكر اسم مناطق التركز السكاني والمشار إليهم بـ :

(ب) السهل الساحلي

(ج) السهل الساحلي

● يتركز 70% من السكان في دولة الإمارات في :

السهول الحصوية الساحل الشرقي الساحل الغربي

● السهول الحصوية تضم بعض المدن الصغيرة مثل :

الفجيرة حتا واحة ليوا

● تقع مدينة أم القيوين في :

السهول الحصوية الساحل الغربي الإقليم الصحراوي

● تقع مدينة كلباء في :

الساحل الشمالي الساحل الشرقي الإقليم الصحراوي

● تقع مدينة العين في :

الساحل الغربي الساحل الشرقي الإقليم الصحراوي

اختار الإجابة الصحيحة فيما يلي :

● توفر فرص العمل.

رؤية المدرسة : بناء جيل ريادي مبدع مبتكر آمن متميز محقق للرؤية الوطنية مواكب للعالمية - قادر على التفاعل بإيجابية مع متطلبات العصر الحديث القائم على التكنولوجيا عبر بيئة تربوية في ظل المشاركة المجتمعية.



الاسم ثالثا «تعداد السكان في بلادي»



من هي الجهة الرسمية في دولة الإمارات العربية المتحدة التي



أنجزت مشروع بطاقة الهوية الذكية؟

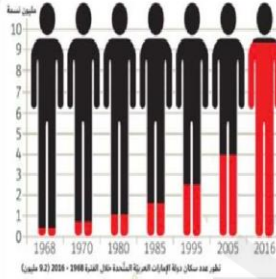
أكمل

الخطا التالي

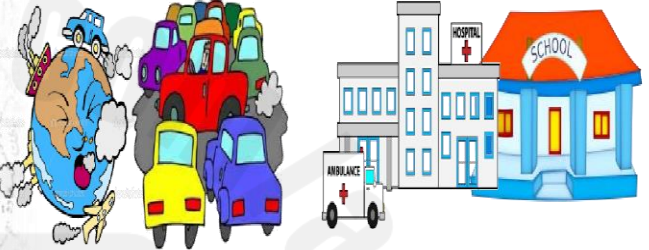
أهمية التعداد السكاني

.....
.....

.....
.....



**الشكل في الكتاب
الدرسي ص (25)**



ضع الإفاهيم التالية في مكانها المناسب:

(التلوث - التعداد السكاني - بطاقة الهوية)

• عملية يقوم بها جهاز مختص داخل الدولة بهدف تسجيل عدد السكان المتواجدين

في الدولة في يوم محدد وتاريخ محدد. (.....)

• إلحاق الضرر بالبيئة ناجم عن زيادة في عدد السكان. (.....)

• هي بطاقة إلكترونية تصدرها الدولة وترجع أهميتها إلى أنها تسهل لحاملها

الحصول على الخدمات الحكومية جميعها وثبتت هويته. (.....)

من خلال الشكل الذي أفاكك أحب عما يلي:

- يبلغ عدد السكان في عام 1980 م

- يبلغ عدد السكان في عام 2016 م


- اكتب حقيقة:

.....

- أيهما أكثر الذكور أم الإناث في المجتمع الإماراتي

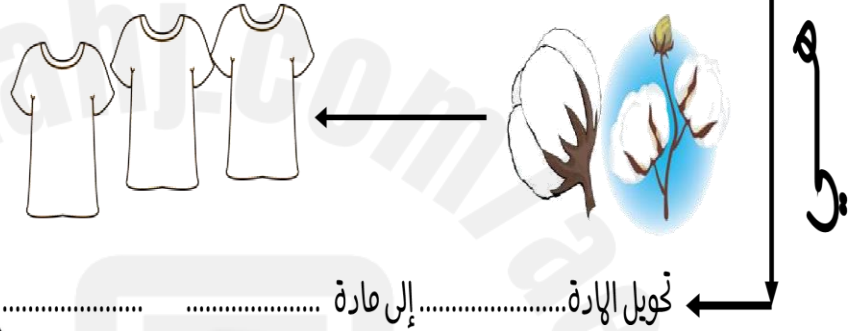
رؤية المدرسة : بناء جيل ريادي مبدع مبتكر آمن متميز محقق للرؤية الوطنية مواكب للعالمية - قادر على التفاعل بإيجابية مع متطلبات العصر الحديث القائم على التكنولوجيا عبر بيئة تربوية في ظل المشاركة المجتمعية.

الأنشطة الاقتصادية في دولة الإمارات العربية المتحدة



اهتمام دولة الإمارات العربية المتحدة
بتنوع مصادر الدخل؟

علل؟



صنف الصناعات التالية حسب معطيات الجدول

صناعة استخراجية	صناعة تحويلية	الصناعة
		الألمونيوم
		استخراج النفط
		الملابس
		استخراج الغاز
		الأدوية

تنقسم الصناعة إلى نوعين

الصناعة

هي تحويل المواد
الخام إلى منتجات
مفيدة

الصناعة

هي استخراج المعادن
والنفط والغاز من
باطن الأرض

أنواع الصناعة

من أنا

حفر الأرض للحصول على موارد نافعة كالمعادن أو الفلزات أو الوقود

الاسم

أولا «الصناعة والتجارة»



ضع دائرة على البضائع التي تستوردها بلادنا من الخارج

من أنا

نشاط يقوم به

الإنسان من أعمال

البيع والشراء

للحصول على الأموال



وتنقسم إلى قسمين


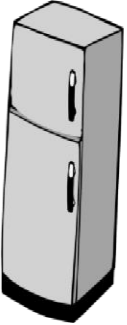




1 (.....)

هي السلع والبضائع
التي تباع خارج
الدولة .

2 (.....)

السلع والبضائع التي
تشتري من خارج
الدولة

ضع علامة (✓) أسفل صورة وسائل النقل المستخدمة
قديما في التجارة :



الاسم : الصف الرابع : (.....)



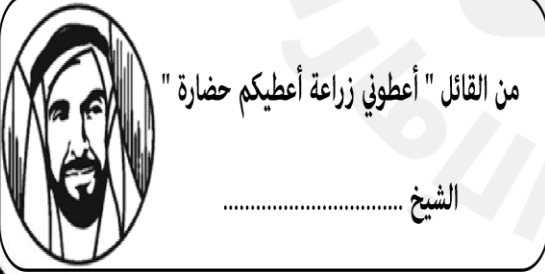


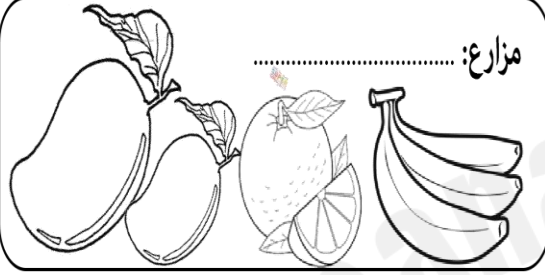
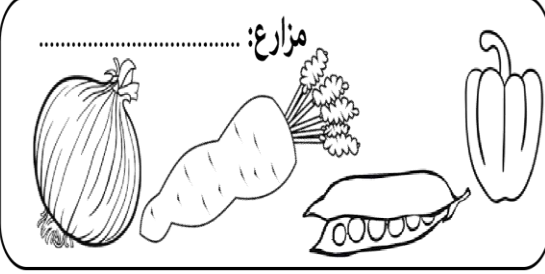
YEAR OF
ZAYED

عام
زايد
واستمع بالتلويح

ثانياً < الثروة الزراعية والثروة السمكية والحيوانية >

أكمل
المخطط التالي


أكمل بطاقة الهوية لأنواع المزروعات في دولة الإمارات:



الشيخ

في الدردشة أثناء الألعاب الالكترونية أخطر أن تجب على أي رسالة من شخص غريب
يسألك عن أسمك عمرك مدرستك عنوان بيتك

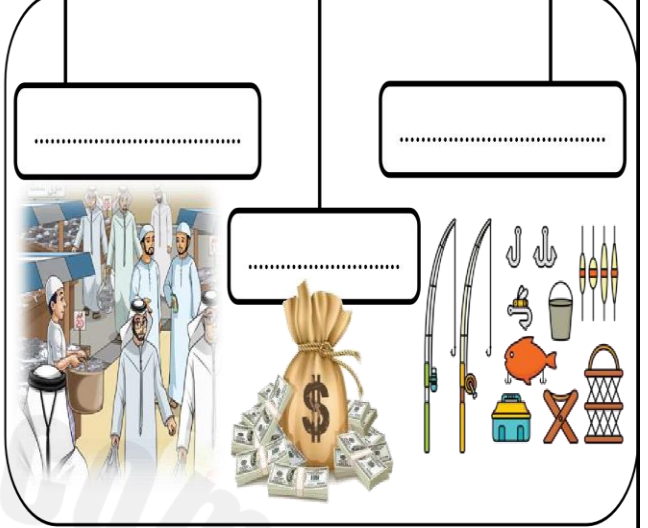
اكتب أسماء
أشهر
الأسماك في
بلادنا




#الانترنت_افضل_استخداما
_في_الامارات



جهود الإمارات للنهوض بالثروة السمكية



من جهود دولة الإمارات للنهوض بالثروة الحيوانية



ضع الكلمات المساعدة التالية في مكانها المناسب

الصحراء / سويحان / الأمن الغذائي

- من أهم مناطق زراعة الزهور في دولة الإمارات
- توفير الغذاء بدون نقص هو
- يلقب الشيخ زايد بالرجل الذي روض

رؤية المدرسة : بناء جيل ريادي مبدع مبتكر آمن متميز محقق للرؤية الوطنية مواكب للعالمية - قادر على التفاعل
بإيجابية مع متطلبات العصر الحديث القائم على التكنولوجيا عبر بيئة تربوية في ظل المشاركة المجتمعية.

أنواع السياحة



السياحة




السياحة



السياحة



السياحة



السياحة