

تم تحميل هذا الملف من موقع المناهج الإماراتية



\*للحصول على أوراق عمل لجميع الصفوف وجميع المواد اضغط هنا

<https://almanahj.com/ae>

\* للحصول على أوراق عمل لجميع مواد الصف الرابع اضغط هنا

<https://almanahj.com/ae/4>

\* للحصول على جميع أوراق الصف الرابع في مادة اجتماعيات وجميع الفصول, اضغط هنا

<https://almanahj.com/ae/4social>

\* للحصول على أوراق عمل لجميع مواد الصف الرابع في مادة اجتماعيات الخاصة بـ الفصل الثالث اضغط هنا

<https://almanahj.com/ae/4social3>

\* لتحميل كتب جميع المواد في جميع الفصول للـ الصف الرابع اضغط هنا

<https://almanahj.com/ae/grade4>

للتحدث إلى بوت المناهج على تلغرام: اضغط هنا

[https://t.me/almanahj\\_bot](https://t.me/almanahj_bot)

أوراق عمل- الميزانية الشخصية

الفصل الثالث- العام الدراسي 2018-  
2019

الشعبة: .....

الصف: الرابع

الاسم: .....

- علل ما يلي:

1. أهمية الادخار في حياتنا .

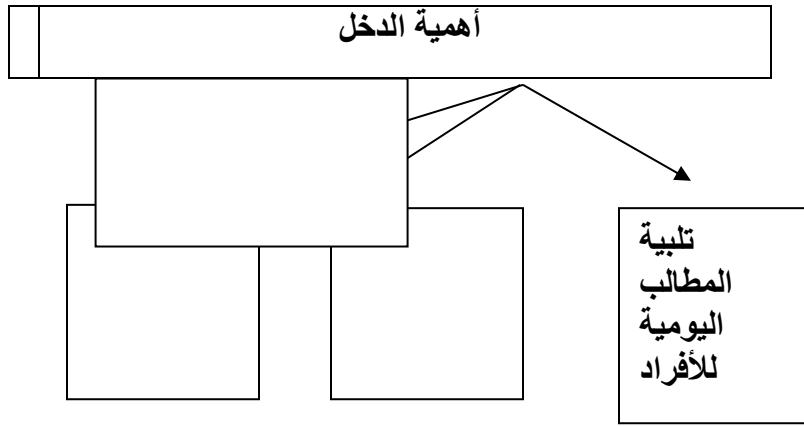
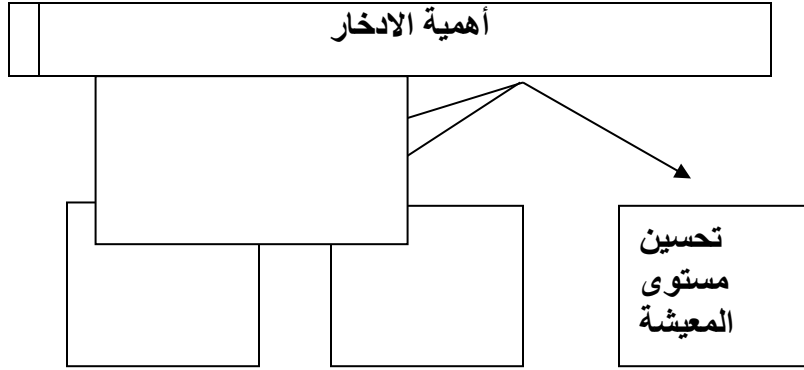
2. يعتبر الدخل مصدرا للرزق وأساس الحياة التي نعيش ونحيا عليها .

- اختر الإجابة الصحيحة من بين البدائل التالية.

1. من الحاجات الثانوية التي يمكن الاستغناء عنها .  
أ- الغذاء      ب- الملابس      ج- الترفيه      د - الماء
2. من الحاجات الأساسية التي يجب أن نحصل عليها .  
أ- النقل والمواصلات      ب - السفر      ج- الالكترونيات      د- المسكن
3. أصدرت حكومة الإمارات العربية المتحدة أول عملة وطنية خاصة بالدولة عرفت باسم الدرهم  
أ - 1973 م      ب - 1972 م      ج- 1975 م      د - 1979 م
4. مقدار من المال يحصل عليه الفرد مقابل عمل أو خدمة .  
أ- الإنفاق      ب- الدخل      ج- الادخار      د- الميزانية
5. يعمل بعض الناس في أعمال تقدم المساعدة للناس تسمى بالخدمات .  
أ- الزراعة      ب - الطب      ج- الصناعة      د - الصيد

- أكمل ما يلي

أ\_ أكمل المخطط الذهني التالي



بج- قدم مقترحات لإدارة المصروف الشخصي .

1. شراء ما تحتاجه

2. ....

3. ....

- عرف المفاهيم التالية :

- الدخل:

.....

.....

- الإنفاق :

.....

.....

- الادخار :

.....

.....

أوراق عمل- إنجازات اقتصادية في  
بلادي

الفصل الثالث- العام الدراسي 2018-  
2019

الشعبة: .....

الصف: الرابع

الاسم: .....

علل ما يلي: -

1. نجاح المشروعات الاقتصادية في بلادي .

2. أهمية الجزر الصناعية في دولة الإمارات العربية المتحدة .

3. اتجاه دولة الإمارات العربية المتحدة للزراعة المائية .

- اختر الإجابة الصحيحة من بين البدائل التالية.

1. من العوامل الطبيعية التي ساهمت في نجاح المشروعات الاقتصادية .

أ- الأيدي العاملة      ب- التكنولوجيا      ج- الموقع الجغرافي      د- توفر المال

2. من المشروعات الاقتصادية التي تعتمد على الطاقة الشمسية لتوليد الطاقة الكهربائية .

أ- مدينة مصدر      ب- مسبار الأمل      ج- ترام دبي      د- كل ما سبق

3. من النباتات التي تزرع بأسلوب الزراعة المائية .

- أ- النخلة      ب- التفاح      ج- المانجا      د - الطماطم

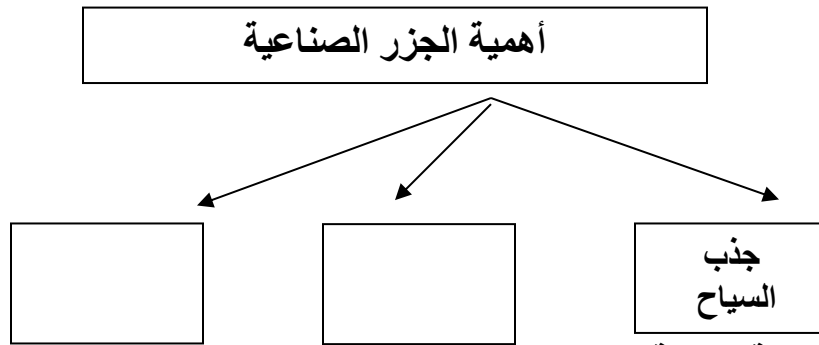
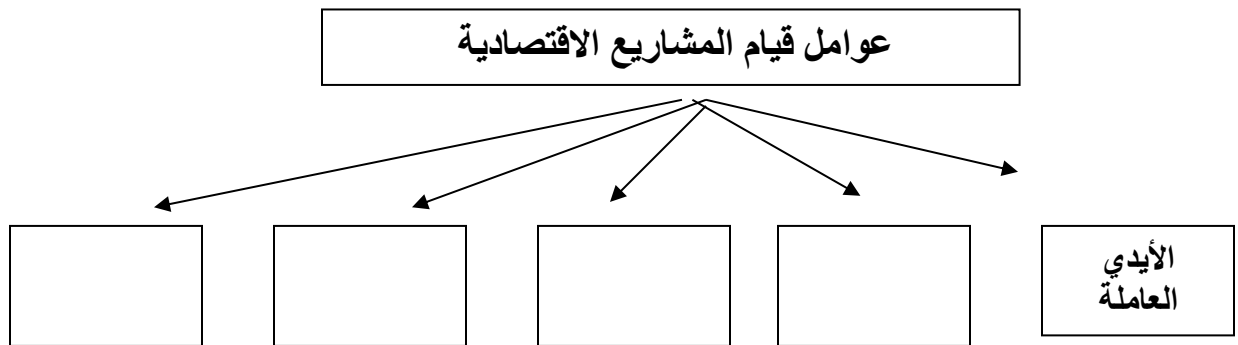
4. من مزايا الزراعة المائية .

- أ - تقلل من استهلاك الأسمدة      ب - إنتاج غذاء صحي      ج- التقليل من استهلاك المياه      د - كل ما سبق

5. تتبع جزيرة المرجان الصناعية التي تقع في دولة الإمارات العربية المتحدة .

- أ- أم القيوين      ب - عجمان      ج- الفجيرة      د - رأس الخيمة

\_ أكمل المخطط الذهني التالي



بج - من مزايا الزراعة المائية .

1. التقليل من استنزاف المياه

2. ....

3. ....

- عرف المفاهيم التالية :

الجزر

الصناعية:

.....

.....

.....

- الزراعة المائية :

.....

.....

.....