

تم تحميل هذا الملف من موقع المناهج الإماراتية



نموذج أسئلة الامتحان التجريبي منهج بريدج

موقع المناهج ← المناهج الإماراتية ← الصف الرابع ← علوم ← الفصل الأول ← ملفات متنوعة ← الملف

تاريخ إضافة الملف على موقع المناهج: 2024-11-21 11:40:02

ملفات اكتب للمعلم اكتب للطالب الاختبارات الكترونية | اختبارات | حلول | عروض بوربوينت | أوراق عمل
منهج انجليزي | ملخصات وتقارير | مذكرات وبنوك | الامتحان النهائي للمدرس

المزيد من مادة
علوم:

إعداد: رندة سفيان

التواصل الاجتماعي بحسب الصف الرابع



صفحة المناهج
الإماراتية على
فيسبوك

الرياضيات

اللغة الانجليزية

اللغة العربية

التربية الاسلامية

المواد على تلغرام

المزيد من الملفات بحسب الصف الرابع والمادة علوم في الفصل الأول

حل الكراسة التدريبية للاختبار النهائي وفق الهيكل الوزاري

1

الكراسة التدريبية للاختبار النهائي وفق الهيكل الوزاري

2

ملخص الدرس الثاني دورة حياة الحيوان من الوحدة الثالثة مملكة الحيوان

3

أوراق عمل الدرس الثاني دورة حياة الحيوان من الوحدة الثالثة مملكة الحيوان

4

حل أسئلة مراجعة اختبار الوحدة الثالثة مملكة الحيوان

5



الاختبار التجريبي لنهاية الفصل الدراسي الأول لسنة - 2025/2024

	اسم الطالب
4	الصف
	الشعبة
العام	المسار
العلوم-بريدج	المادة

الدرجة المستحقة	الدرجة	السؤال
	60	الأول
	40	الثاني
	100	المجموع

	الاسم
	التوقيع

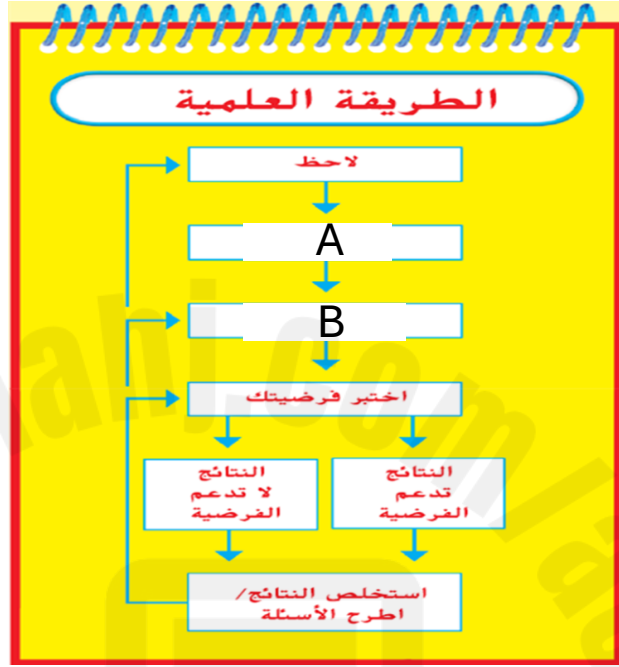


الدرجة

60

اختر الإجابة الصحيحة وضع عليها دائرة.

السؤال الأول



1	يوضح الشكل خطوات الطريقة العلمية ، أي مما يلي يدل عليه الحرف A:
A	اختبار الافتراض
B	طرح الأسئلة
C	تكوين الافتراض
D	المتغير

2	أي مما يلي يمثل الجزء الذي يتحكم في جميع أنشطة الخلية ويكون مثل دماغك تقريباً ؟
A	الميتوكوندريا
B	النواة
C	السيتوبلازم
D	غشاء الخلية



3	ما هي وظيفة الكروموسوم في الخلية؟
A	التحكم بنشاطات الخلية
B	التحكم في نمو الخلية وتشكلها
C	حماية الخلية
D	يوفر الطاقة للخلية



4	ما اسم الجزء الموجود في الخلية النباتية والمسؤول عن صنع الغذاء:
A	النواة
B	الفجوة
C	البلاستيدات الخضراء
D	الميتوكوندريا

5	يتكون القلب من أنواع مختلفة من -----.
A	الخلايا
B	الأجهزة
C	الأنسجة
D	الأعضاء



6	أي من العبارات التالية صحيحة فيما يتعلق بالنباتات:
A	تصنع الخلايا الجذرية الغذاء
B	لا تحتوي الخلايا الجذرية على بلاستيدات خضراء
C	لا تمتص الخلايا الجذرية الماء والغذاء
D	كل النباتات لا تحتوي على خلايا جذرية

7	من الحشرات التي تمر بطور التحول الناقص :
A	النمل الأبيض
B	الفراشات
C	الخنافس
D	الذباب

8	في هذا النوع من التحول ، يصعب مشاهدة الفرق بين مراحل النمو المختلفة :
A	التحول الكامل
B	التحول الناقص
C	الانسلاخ
D	دورة الحياة



تعرف عملية اندماج البويضة من الأنثى مع الحيوان المنوي من الذكر باسم :	9
الجنين	A
الاخصاب	B
الوراثة	C
التجدد	D

مجموعة من التصرفات تنتقل من الآباء الى صغارهم :	10
الغريزة	A
سلوك موروث	B
سلوك مكتسب	C
تكاثر	D

من الكائنات الحية التي تتسم بتأثيرها النافع على النظام البيئي من خلال تكوين جحور :	11
الجراد والتماسيح	A
الطيور	B
التماسيح	C
الجراد	D



12	أي من الأحداث هي أحداث طبيعية تغير من الأنظمة البيئية ؟
A	الزلازل
B	التكديس السكاني
C	إعادة التدوير
D	التلوث

13	عملية إضافة مواد ضارة الى الهواء والماء والتربة تسمى :
A	إعادة التدوير
B	التلوث
C	التكديس السكاني
D	قطع الغابات

14	المصدر الرئيس للطاقة في الجسم هو:
A	البروتينات
B	الكربوهيدرات
C	الفيتامينات
D	المعادن



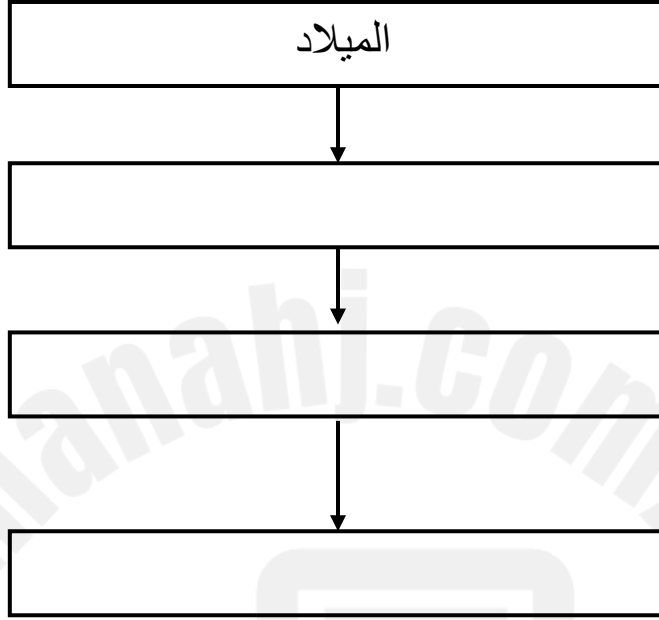
يعتبر السمك من المواد الغذائية الغنية ب :	15
الفيتامينات	A
الكربوهيدرات	B
البروتينات	C
الدهون	

الدرجة	السؤال الثاني	حل كل مما يلي :
40		

1- أكمل الجدول التالي بوضع إشارة صح أمام العبارة الصحيحة وإشارة خطأ أمام العبارة الخاطئة .

هل هذا كائن حي ؟		
سيارة	سحلية	الوظيفة الحيوية
		هل يستخدم الوقود للحصول على الطاقة ؟
		هل ينمو؟
		هل يتكاثر؟
		هل يتخلص من الفضلات ؟
		هل يستجيب للتغيرات التي تحدث في بيئته ؟

2- أ- أكمل المراحل الأساسية في حياة الحيوان .



ب- تسمى الفترة التي يعيشها الكائن الحي ----- .

3- أكمل الجدول التالي الذي يوضح طرق التكاثر وعدد الآباء للحيوانات .

عدد الآباء	الطريقة	
1	<input type="text"/>	 <p>هيدرا</p>
<input type="text"/>	تجدد	 <p>نجم البحر</p>
2	<input type="text"/>	 <p>بيض السمك</p>

4- أنظر الى الصورة أدناه التي تبين مظاهر تكيف الحيوانات وأجب عن الأسئلة التي تليها :




أ- أي ثعلب تكيف للعيش في الصحراء الحارة ؟ ولماذا ؟



ب- يحصل الجرذ الكنغري على الماء من ----- التي يأكلها .

5- قارن بين شجرة المسكيت و صبار السجوار من خلال اكمال الجدول التالي:



صبار السجوار	شجرة المسكيت	وجه المقارنة
		الأوراق
		الجنور
		مكان العيش

مع أمنياتنا للجميع بالنجاح والتوفيق
انتهت الأسئلة
المعلمة رندة سفيان