

تم تحميل هذا الملف من موقع المناهج الإماراتية



الملف أسئلة امتحان نهاية الفصل الثالث 2021-2022

[موقع المناهج](#) ⇨ [المناهج الإماراتية](#) ⇨ [الصف الرابع](#) ⇨ [علوم](#) ⇨ [الفصل الثالث](#)

روابط مواقع التواصل الاجتماعي بحسب الصف الرابع



روابط مواد الصف الرابع على تلغرام

[الرياضيات](#)

[اللغة الانجليزية](#)

[اللغة العربية](#)

[التربية الاسلامية](#)

المزيد من الملفات بحسب الصف الرابع والمادة علوم في الفصل الثالث

<a href="#">مقررات الفصل الثالث</a>	1
<a href="#">تلخيص الدرس الأول من الوحدة الثامنة (المادة وتغيراتها).</a>	2
<a href="#">تدريبات الدرس الاول (كيف تتغير المادة).</a>	3
<a href="#">ملخص الدرس الثاني من الوحدة الثامنة (المخاليط)</a>	4
<a href="#">ملزمة مراجعة شاملة</a>	5


الشكل التالي يمثل



A	barometer	باروميتر
B	thermometer	ثيرموميتر
C	anemometer	أنيموميتر
D	Hygrometer	هيجروميتر

Question	10	10	السؤال
Which of the following is <b>not</b> considered type of precipitation?			أي من التالي لا يعتبر شكل من أشكال الهطول ؟
A	rain		المطر
B	humidity		الرطوبة
C	snow		الجليد
D	sleet		الصقيع

Question	7	7	السؤال
In which layer of the atmosphere do we experience weather?			في طبقة من الغلاف الجوي نشهد مناخنا؟
A	thermosphere		الثيرموسفير
B	mesosphere		الميزوسفير
C	stratosphere		الستراتوسفير
D	troposphere		التروبوسفير

Question	8	8	السؤال
The following tool is used in measuring .....			الأداة التالية تستخدم في قياس .....
			
A	air temperature		درجة الحرارة
B	air pressure		ضغط الهواء
C	amount of rainfall		كمية المطر
D	wind speed		سرعة الرياح



Question	1	1	السؤال
Which of the following slows down the movement of a plane?			أي مما يلي يبطئه من حركة الطائرة ؟
A thrust			الرفع
B drag			السحب
C buoyancy			الطفو
D lift			الرفع

Question	2	2	السؤال
Engineers are trying to fix a problem with the brakes of a train. Which of the of following should they change?			يحاول المهندسون إصلاح مشكلة في مكابح (فرامل) قطار . أي مما يلي ينبغي تعديله ؟
A thrust			الرفع
B heat			الحرارة
C friction			الاحتكاك
D electricity			الكهرباء



Question	25	25	السؤال
Milky Way is a (an).....			درب التبانة.....
A asteroid			كوكب صخري
B cosmos			كون
C Star			نجم
D galaxy			مجرة

almanahj.com/ae  
المنهج الإماراتية


انتهت الأسئلة  
End of Exam

Question	23	23	السؤال
The lunar eclipse occurs when.....			يحدث خسوف القمر عندما.....
A Earth's shadow falls on the moon.			يسقط ظل الأرض على القمر
B The sun lies between the Earth and the moon.			تقع الشمس بين الأرض والقمر
C The moon stops pivoting.			يتوقف القمر عن الدوران المحوري
D The moon is located between the Earth and the sun.			يلعب القمر بين الأرض والشمس

Question	24	24	السؤال
What is the largest planets in the solar system?			ما أكبر الكواكب عمدا في المجموعة الشمسية؟
A Mars			المريخ
B Jupiter			المشتري
C Saturn			زحل
D Earth			الأرض



Question	17	17	السؤال
Where does the storm usually occur?			أين تحدث العاصفة عادة؟
A inside an air mass			داخل كتلة هوائية
<b>B next to the front</b>			<b>بمحاذاة جبهة</b>
C top of tallest buildings			أعلى المباني المرتفعة
D top of the river			أعلى نهر

Question	18	18	السؤال
The climate in Al Ain is considered.....			المناخ في العين يعتبر .....
			
A moderate			معتدل
B polar			قطبي
<b>C dry</b>			<b>جاف</b>
D tropical			استوائي

Question	15	15	السؤال
When does thunder occur?			متى يحدث الرعد؟
A when air masses collide			عندما تصادم كتل الهواء
<b>B when lightning heats the air quickly</b>			<b>عندما يسخن البرق الهواء سريعاً</b>
C when warm air hits the ground			عندما يلامس الهواء الدافئ بالأرض
D when a warm front forms			عندما تتشكل جبهة دافئة

Question	16	16	السؤال
Where does a sea hurricane form?			أين يتشكل الإعصار البحري؟
A over dry land			فوق أرض جافة
B above the cold ocean waters			فوق مياه المحيطات الباردة
C over warm lakes and streams			فوق البحيرات الدافئة والجداول المائية
<b>D above the warm ocean waters</b>			<b>فوق مياه المحيطات الدافئة</b>

Question	5	5	السؤال
The scientist who designs new cars is called.....			العالم الذي يصمم سيارة جديدة يسمى .....
A Doctor			طبيب
B Gardner			بستاني
<input checked="" type="radio"/> C Engineer			مهندس
D Teacher			معلم

Question	6	6	السؤال
What is the force that prevents the sinking of ships?			ما هي القوة التي تحول دون غرق السفن؟
A thrust			الدفع
B drag			المسحب
<input checked="" type="radio"/> C buoyancy			الطفو
D lift			الرفع

Question	3	3	السؤال
Which of the following forces does the roller coaster trolley rely on to accelerate on slopes?			ما هي القوة التي تعتمد عليها عربات قطار الملاهي لتتسارع على المنحدرات؟
A gravity			الجاذبية
B buoyancy			الطفو
C heat			الحرارة
<input checked="" type="radio"/> D friction			الاحتكاك

Question	4	4	السؤال
If you apply the same force to a larger weight body, the acceleration of this body becomes ..... compared to a lighter object.			إذا قمت بتطبيق نفس القوة على جسم ذي وزن أكبر ، فإن تسارع هذا الجسم يصبح ..... مقارنة بجسم أخف وزناً.
A faster			أسرع
B accelerates at twice			يتسارع بمعدل الضعف
C doesn't change			لا يتغير
<input checked="" type="radio"/> D slower			أبطأ



Question	21	21	السؤال
What causes the seasons to change on Earth?			ما الذي يسبب تغير الفصول على الأرض؟
<input checked="" type="radio"/> A Earth's rotation around the sun			دوران الأرض حول الشمس
<input type="radio"/> B the sun's rotation around Earth			دوران الشمس حول الأرض
<input type="radio"/> C Earth's tilted axis and its revolution around the Moon			ميل محور الأرض ودورانها حول القمر
<input type="radio"/> D Earth Rotation and moon's rotation around the sun			دوران الأرض ودوران القمر حول الشمس

Question	22	22	السؤال
Which of the following produces moonlight?			أي من التالي ينتج ضوء القمر؟
<input type="radio"/> A Burning gases on the moon			الغازات المحترقة على سطح القمر
<input type="radio"/> B Reflection of earth's light on the moon			انعكاس ضوء الأرض على سطح القمر
<input type="radio"/> C Reflection of water on the moon			انعكاس المياه على سطح القمر
<input checked="" type="radio"/> D Reflection of sunlight on the moon			انعكاس ضوء الشمس على سطح القمر


Question	19	19	السؤال
Global winds move air _____			تتحرك الرياح العالمية الهواء _____
<input checked="" type="radio"/> A between the equator and the poles			بين خط الاستواء والقطبين
<input type="radio"/> B around the equator			حول خط الاستواء
<input type="radio"/> C from the ground to the air			من الأرض إلى الهواء
<input type="radio"/> D from land to the ocean			من اليابسة إلى المحيط

Question	20	20	السؤال
When does the sun rise to the highest point in the sky in the northern hemisphere?			متى يشرق ارتفاع الشمس في أعلى نقطة في السماء في نصف الكرة الشمالي؟
<input type="radio"/> A March			شهر مارس
<input checked="" type="radio"/> B June			شهر يونيو
<input type="radio"/> C September			شهر سبتمبر
<input type="radio"/> D December			شهر ديسمبر

Question	13	13	السؤال
When does a cold front form?			متى تتشكل جبهة هوائية باردة؟
A when a cold air mass pushes under a warm air mass			عندما تندفع كتلة هوائية باردة أسفل كتلة هوائية دافئة
<b>B</b> when a warm air mass pushes under a cold air mass			عندما تندفع كتلة هوائية دافئة أسفل كتلة هوائية باردة
C when the boundary between two air masses stops moving			عندما يتوقف الحد بين الكتلتين الهوائيتين عن التحرك
D when two cold air masses collide			عندما تصطدم كتلتان هوائيتان باردتان

Question	14	14	السؤال
Which of the following increases as water vapor in the air increases?			أي مما يلي يزداد مع زيادة بخار الماء في الهواء؟
A air temperature			درجة حرارة الهواء
<b>B</b> humidity			الرطوبة
C air pressure			ضغط الهواء
D wind speed			سرعة الرياح

Question	11	11	السؤال
Where is the most of Earth's fresh water found?			أين توجد معظم المياه العذبة على سطح الأرض؟
A in lakes, rivers			في البحيرات والأنهار
B in the atmosphere			في الغلاف الجوي
<b>C</b> in glaciers and ice caps			في الأنهار الجليدية والقمم الجليدية
D underground			تحت الأرض

Question	12	12	السؤال
Which of the following is <b>not</b> a use of water dams?			أي مما يلي ليس من الاستخدامات المعتادة للمسدود المائية؟
			
A Irrigation			ري
B generat electricity			توليد الكهرباء
C water storage			تخزين الماء
<b>D</b> transport goods			نقل البضائع