

تم تحميل هذا الملف من موقع المناهج الإماراتية



حل أسئلة مراجعة الاختبار القصير الأول

موقع المناهج ← المناهج الإماراتية ← الصف الرابع ← اجتماعيات ← الفصل الثاني ← حلول ← الملف

تاريخ إضافة الملف على موقع المناهج: 10:55:01 2025-02-18

ملفات اكتب للمعلم اكتب للطالب الاختبارات الكترونية الاختبارات حلول عروض بوربوينت أوراق عمل
منهج انجليزي ملخصات وتقارير مذكرات وبنوك الامتحان النهائي للمدرس

المزيد من مادة
اجتماعيات:

إعداد: مدرسة الرؤية الخاصة

التواصل الاجتماعي بحسب الصف الرابع



صفحة المناهج
الإماراتية على
فيسبوك

الرياضيات

اللغة الانجليزية

اللغة العربية

التربية الاسلامية

المواد على تلغرام

المزيد من الملفات بحسب الصف الرابع والمادة اجتماعيات في الفصل الثاني

أسئلة مراجعة الاختبار القصير الأول

1

الهيكل الامتحاني الوزاري الجديد كافة المسارات

2

أسئلة الاختبار التكويني الأول

3

عرض بوربوينت درس السكان في دولة الإمارات العربية المتحدة

4

عرض بوربوينت حل درس المهلب بن أبي صفرة

5



أرض جافة قاحلة قليلة المطر

فمن أنا؟؟

.....**الصحراء**.....

امتداد لليايسة محاطة بالماء من

ثلاث جهات

فمن أنا؟؟

.....**شبه الجزيرة**.....

عملية التغير نحو الأحسن والأفضل

فمن أنا؟؟

.....**التنمية**.....

اختار الإجابة الصحيحة فيما يلي:

ظهر التنمية في دولة الإمارات بعد اكتشاف:

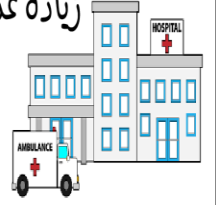
(المترو - **النفط** - الشوارع)

عدد السكان في دولة الإمارات في حالة:

(تراجع مستمر - ثابت - **زيادة مستمرة**)

زيادة عدد الواليد وقلة عدد الوفيات؟

.....**بناء المستشفيات**.....



.....**التطعيم**.....



.....**توفير الأطباء**.....



ما هي أسباب النمو السكاني في دولة الإمارات



الزراعة

ارتفاع مستوى المعيشة



زيادة عدد المواليد

وقلة عدد الوفيات



استقدام العاملين

ماذا ينتج عن قلة الأمطار وارتفاع درجات الحرارة في المناطق الصحراوية؟

.....**قلة عدد السكان**.....



الاسم

ثانيا «توزيع السكان»



علل؟

عن خلال الخريطة أجب عما يلي :

العوامل المؤثرة في توزيع السكان في دولة الإمارات؟

- لماذا يقل السكان في المنطقة المشار إليها بـ (أ) :

قلة فرص العمل.....

اذكر اسم مناطق التركز السكاني والمشار إليهم بـ :

(ب) السهل الساحلي...**الغربي**.....

(ج) السهل الساحلي...**الشرقي**.....



● الموقع على الساحل.....



● توفر المياه الجوفية والتربة.....



● سهولة المواصلات.....



● توفر الموارد الطبيعية.....



● توفر فرص العمل.....

● يتركز 70% من السكان في دولة الإمارات في :

الساحل الغربي

الساحل الشرقي

السهول الحصوية

● السهول الحصوية تضم بعض المدن الصغيرة مثل :

واحة ليوا

حما

الفجيرة

● تقع مدينة أم القيوين في :

الإقليم الصحراوي

الساحل الغربي

السهول الحصوية

● تقع مدينة كلباء في :

الإقليم الصحراوي

الساحل الشرقي

الساحل الغربي

● تقع مدينة العين في :

الإقليم الصحراوي

الساحل الشرقي

الساحل الغربي

اختار الإجابة الصحيحة فيما يلي ..

رؤية المدرسة : بناء جيل ريادي مبدع مبتكر آمن متميز محقق للرؤية الوطنية مواكب للعالمية - قادر على التفاعل بإيجابية مع متطلبات العصر الحديث القائم على التكنولوجيا عبر بيئة تربوية في ظل المشاركة المجتمعية.



الاسم
ثالثا «تعداد السكان في بلادي»



من هي الجهة الرسمية في دولة الإمارات العربية المتحدة التي



أنجزت مشروع بطاقة الهوية الذكية؟

الهيئة الاتحادية

للهوية والجنسية....



أكل

المخطط التالي

أهمية التعداد السكاني

تجنب المشكلات السكانية
كالازدحام والتلوث.....

توفير الخدمات الصحية
والتعليمية والمرافق كافة



ضع المفاهيم التالية في مكانها المناسب:

(التلوث - التعداد السكاني - بطاقة الهوية)

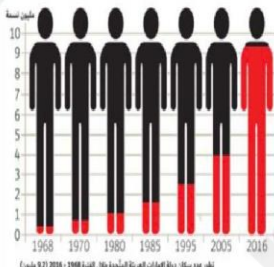
عملية يقوم بها جهاز مختص داخل الدولة بهدف تسجيل عدد السكان المتواجدين

في الدولة في يوم محدد وتاريخ محدد. (التعداد السكاني)

إلحاق الضرر بالبيئة ناجم عن زيادة في عدد السكان. (.....التلوث.....)

هي بطاقة إلكترونية تصدرها الدولة وترجع أهميتها إلى أنها تسهل لحاملها

الحصول على الخدمات الحكومية جميعها وتثبت هويته. (بطاقة الهوية.....)



الشكل في الكتاب
الدرسي ص (25)

إحصائية سكان الإمارات

العدد الفعلي لسكان دولة الإمارات العربية المتحدة
9,121,167
لغاية 31 ديسمبر 2016



من خلال الشكل الذي أمامك أجب عما يلي:

- يبلغ عدد السكان في عام 1980 م .. مليون نسمة

- يبلغ عدد السكان في عام 2016 م .. 9.1 مليون نسمة

اكتب حقيقة:

يبلغ عدد سكان دولة الإمارات في 2016 م .. 9.1 مليون نسمة

- أيهما أكثر الذكور أم الإناث في المجتمع الإماراتي الذكور....


رؤية المدرسة : بناء جيل ريادي مبدع مبتكر آمن متميز محقق للرؤية الوطنية مواكب للعالمية - قادر على التفاعل بإيجابية مع متطلبات العصر الحديث القائم على التكنولوجيا عبر بيئة تربوية في ظل المشاركة المجتمعية.

الاسم

أولا «الصناعة والتجارة»



الأنشطة الاقتصادية في دولة الإمارات العربية المتحدة



اهتمام دولة الإمارات العربية المتحدة بتنوع مصادر الدخل؟

لبناء اقتصاد قوي

علل؟



تحويل الادة.....الخام... إلى مادة..... جديدة أكثر نفعاً للإنسان

صنف الصناعات التالية حسب معطيات الجدول

الصناعة	صناعة تحويلية	صناعة استخراجية
الألمونيوم	✓	
استخراج النفط		✓
الملابس	✓	
استخراج الغاز		✓
الأدوية	✓	

تنقسم الصناعة إلى نوعين

الصناعة التحويلية

هي تحويل المواد الخام إلى منتجات مفيدة

الصناعة الاستخراجية

هي استخراج المعادن والنفط والغاز من باطن الأرض

أنواع الصناعة

من أنا

حفر الأرض للحصول على موارد نافعة كالمعادن أو الفلزات أو الوقود


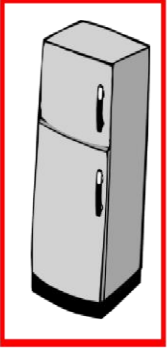
التعدين

رؤية المدرسة : بناء جيل ريادي مبدع مبتكر آمن متميز محقق للرؤية الوطنية مواكب للعالمية - قادر على التفاعل بإيجابية مع متطلبات العصر الحديث القائم على التكنولوجيا عبر بيئة تربوية في ظل المشاركة المجتمعية.

الاسم

أولا «الصناعة والتجارة»

ضع دائرة على البضائع التي تستوردها بلادي من الخارج



من أنا

نشاط يقوم به
الإنسان من أعمال
البيع والشراء
للحصول على الأموال



وتنقسم إلى قسمين

1. (الصادرات...)

هي السلع والبضائع
التي تباع خارج
الدولة.

2. (الواردات...)

السلع والبضائع التي
تشتري من خارج
الدولة





عام
زايد



YEAR OF
ZAYED

ضع علامة (✓) أسفل صورة وسائل النقل المستخدمة
قديمًا في التجارة :



الاسم : الصف الرابع : (.....)



عام زايد



YEAR OF ZAYED

واستمتع بالتلوين

ثانيا « الثروة الزراعية والثروة السمكية والحيوانية »

أكمل الخطط التالي

جهود الإمارات للنهوض بالثروة السمكية

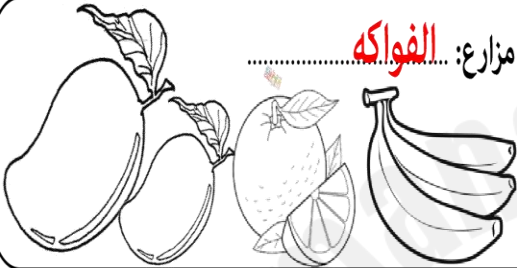
أكمل بطاقة الهوية لأنواع المزروعات في دولة الإمارات:

مزارع: **الخضراوات**.....



اكتب أسماء
أشهر
الأسماك في
بلادي


مزارع: **الفواكه**.....



مزارع: **الزهور**.....



مزارع: **النخيل**.....



من القائل " أعطوني زراعة أعطيكم حضارة "

الشيخ **زايد**.....



#الانترنت_افضل_استخداما

_في_الإمارات



في الدردشة أثناء الألعاب الالكترونية أخطر أن تجب على أي رسالة من شخص غريب
يسألك عن أسمك عمرك مدرستك عنوان بيتك

إقامة أسواق مخصصة لبيع الأسماك


توفير أدوات الصيد الحديثة



تقديم المساعدات المالية



من جهود دولة الإمارات للنهوض بالثروة الحيوانية



الرعاية البيطرية

توفير الأعلاف

ضع الكلمات المساعدة التالية في مكانها المناسب

الصحراء / سويحان / الأمن الغذائي

• من أهم مناطق زراعة الزهور في دولة الإمارات... **سويحان**.....

• توفير الغذاء بدون نقص هو **الأمن الغذائي**.....

• يلقب الشيخ زايد بالرجل الذي روض **الصحراء**.....

رؤية المدرسة : بناء جيل ريادي مبدع مبتكر آمن متميز محقق للرؤية الوطنية مواكب للعالمية - قادر على التفاعل
بإيجابية مع متطلبات العصر الحديث القائم على التكنولوجيا عبر بيئة تربوية في ظل المشاركة المجتمعية.

أنواع السياحة

المخطط التالي



رؤية المدرسة : بناء جيل ريادي مبدع مبتكر آمن متميز محقق للرؤية الوطنية مواكب للعالمية - قادر على التفاعل بإيجابية مع متطلبات العصر الحديث القائم على التكنولوجيا عبر بيئة تربوية في ظل المشاركة المجتمعية.