

شكراً لتحميلك هذا الملف من موقع المناهج الإماراتية



حل أسئلة الامتحان النهائي التعويضي ماجروهيل

[موقع المناهج](#) ← [المناهج الإماراتية](#) ← [الصف الرابع](#) ← [علوم](#) ← [الفصل الثالث](#) ← [الملف](#)

التواصل الاجتماعي بحسب الصف الرابع



روابط مواد الصف الرابع على تلغرام

[الرياضيات](#)

[اللغة الانجليزية](#)

[اللغة العربية](#)

[التربية الاسلامية](#)

المزيد من الملفات بحسب الصف الرابع والمادة علوم في الفصل الثالث

أسئلة الامتحان النهائي الورقي انسابير	1
أسئلة الامتحان النهائي الورقي بريدج	2
تدريبات امتحانية وفق الهيكل الوزاري الجديد	3
مراجعة امتحانية ملخص وحلول وفق الهيكل الوزاري الجديد انسابير	4
حل أسئلة الامتحان النهائي التعويضي ماجروهيل	5



Grade

4

الامتحان التعويضي لنهاية الفصل الدراسي الثالث 2021/2022

		اسم الطالب / Student Name
		المدرسة / School
4		الصف / Class
Science	العلوم	المادة / Subject
منهاج ماجروهيل McGrawHill		

Grade		الدرجة
	100	

	اسم المعلم / Teacher Name
	التوقيع / sign

- يحظر تصوير أو تداول الورقة الامتحانية قبل أو أثناء أو بعد الامتحان من خلال البريد الالكتروني أو وسائل التواصل الاجتماعي أو أي وسيلة أخرى ومن يخالف ذلك سيتخذ في حقه الإجراءات القانونية المتبعة.
- على إدارت المدارس ولجان الامتحانات ومراكز التقدير مراعاة ذلك و رصد أي مخالفات والعمل على اتخاذ الإجراءات اللازمة.



- It is prohibited to photocopy or circulate the exam paper before / during and after the exam through e-mail, social media or any other means; and whoever violates this will be subject to the followed legal proceedings.
- School Administrations, Exam Committees and Marking Centers shall take this into account, monitor violations and take necessary measures.

Question	1	1	السؤال
Which of the following carries a body in the air?		أي مما يلي يحمل الجسم في الهواء ؟	
A	thrust		الدفع
B	drag		السحب
C	buoyancy		الطفو
D	lift		الرفع

Question	2	2	السؤال
Engineers are trying to fix a problem with the train's speed. Which of the following should be modified?		يحاول المهندسون إصلاح مشكلة في سرعة القطار . أي مما يلي ينبغي تعديله؟	
A	thrust		الدفع
B	heat		الحرارة
C	Change menu food in train		تغيير قائمة الطعام بالقطار
D	buoyancy		الطفو


Question	3	3	السؤال
What is the force that train cars depend on to stop?			ماهي القوة التي تعتمد عليها عربات القطار لتتوقف ؟
A	gravity		الجاذبية
B	buoyancy		الطفو
C	heat		الحرارة
D	friction		الاحتكاك


Question	4	4	السؤال
If you apply the same force to a small weight body, the acceleration of this body becomescompared to a higher object.			إذا قمت بتطبيق نفس القوة على جسم ذي وزن أقل ، فإن تسارع هذا الجسم..... مقارنة بجسم أكثر وزناً.
A	faster		أسرع
B	slows down twice		يتباطئ بمعدل الضعف
C	doesn't change		لا يتغير
D	slower		أبطأ

Question	5	5	السؤال
The scientist who designs new plane is called.....			العالم الذي يصمم طائرة جديدة يسمى
A	Doctor		طبيب
B	Gardner		بستاني
C	Engineer		مهندس
D	Teacher		معلم

Question	6	6	السؤال
What is the force that sinking of ships?			ما هي القوة التي تغرق السفن ؟
A	thrust		الدفع
B	drag		السحب
C	buoyancy		الطفو
D	lift		الرفع


Question	7	7	السؤال
Which layer of the atmosphere has few air particles ?		أي طبقة من الغلاف الجوي التي توجد بها جسيمات هواء قليلة؟	
A	thermosphere		الثيرموسفير
B	mesosphere		الميزوسفير
C	stratosphere		الإستراتوسفير
D	troposphere		التروبوسفير

Question	8	8	السؤال
The following tool is used in measuring		الأداة التالية تستخدم في قياس	
			
A	air temperature		درجة الحرارة
B	air pressure		ضغط الهواء
C	amount of rainfall		كمية المطر
D	wind speed		سرعة الرياح

Question	9	9	السؤال
<p>The figure below represents الشكل التالي يمثل</p> <p>.....</p>			
			
A	barometer		باروميتر
B	thermometer		ثيرموميتر
C	anemometer		أنيموميتر
D	Hygrometer		هيجروميتر

Question	10	10	السؤال
<p>Which of the following is considered type of precipitation? أي من التالي يعتبر شكل من أشكال الهطول ؟</p>			
A	air temperature		درجة الحرارة
B	humidity		الرطوبة
C	snow		الجليد
D	wind		الرياح

Question	11	11	السؤال
Where is the most of Earth's salt water found?		أين توجد معظم المياه المالحة على سطح الأرض؟	
A	in lakes, rivers	في البحيرات والأنهار	
B	in the atmosphere	في الغلاف الجوي	
C	In oceans and seas	في المحيطات والبحار	
D	underground	تحت الأرض	

Question	12	12	السؤال
Which of the following is a use of water dams?		أي مما يلي من استخدامات السدود المائية ؟	
			
A	passenger transport	نقل الركاب	
B	generat electricity	توليد الكهرباء	
C	ship movement	حركة السفن	
D	transport goods	نقل البضائع	


Question	13	13	السؤال
When does a warm front form?		متى تتشكل جبهة هوائية دافئة؟	
A	when a cold air mass pushes under a warm air mass	عندما تندفع كتلة هوائية باردة أسفل كتلة هوائية دافئة	
B	When a warm air mass is pushed into a cold air mass	عندما تندفع كتلة هوائية دافئة الى كتلة هوائية باردة	
C	when the boundary between two air masses stops moving	عندما يتوقف الحد بين الكتلتين الهوائيتين عن التحرك	
D	when two cold air masses collide	عندما تصطدم كتلتان هوائيتان باردتان	

Question	14	14	السؤال
Which of the following describes how hot or cold an object is?		أي مما يلي يصف مدى سخونة أو برودة جسم ما ؟	
A	temperature	درجة الحرارة	
B	humidity	الرطوبة	
C	air pressure	ضغط الهواء	
D	wind speed	سرعة الرياح	

Question	15	15	السؤال
When does lightning occur?		متى يحدث البرق؟	
A	when clouds collide	عندما تتصادم السحب	
B	When the air heats up	عندما يسخن الهواء	
C	when warm air hits the ground	عندما يرتطم الهواء الدافئ بالأرض	
D	when humidity forms	عندما تتشكل الرطوبة	

Question	16	16	السؤال
The long rotating air mass, similar to the quell, is called?		الكتلة الهوائية الدوارة الطويلة وتشبه القمع تسمى ؟	
A	still air	هواء ساكن	
B	small moving air	هواء قليل الحركة	
C	medium moving air	هواء متوسط الحركة	
D	hurricane	إعصار	

Question	17	17	السؤال
Which of the following places should you go to when a thunderstorm strikes?		أي من الأماكن التالية يجب أن تذهب إليها عند حدوث عاصفة رعدية ؟	
A	under a tree	تحت شجرة	
B	downstairs	الطابق السفلي	
C	top of tallest buildings	أعلى المباني المرتفعة	
D	top of the river	أعلى النهر	

Question	18	18	السؤال
The climate in the Antarctica is considered.....		المناخ في أنتاركتيكا يعتبر	
			
A	moderate	معتدل	
B	polar	قطبي	
C	warm	دافئ	
D	tropical	استوائي	

Question	19	19	السؤال
Which of the following does not determine the climate?		أي مما يلي لا يحدد المناخ؟	
A	latitudes	خطوط العرض	
B	longitudes	خطوط الطول	
C	winds	الرياح	
D	ocean currents	تيارات المحيط	

Question	20	20	السؤال
What's the coldest month in the northern hemisphere?		ما هو أبرد شهر في نصف الكرة الشمالي؟	
A	July	شهر يوليو	
B	June	شهر يونيو	
C	September	شهر سبتمبر	
D	December	شهر ديسمبر	

Question	21	21	السؤال
How many days does it take for the Earth to rotate around the sun?		كم يوماً يستغرق دوران الأرض حول الشمس؟	
A	165		
B	265		
C	365		
D	465		

Question	22	22	السؤال
Moonlight is reflected light?		ضوء القمر هو ضوء المنعكس؟	
A	Sun		الشمس
B	Earth		الأرض
C	Mars		المريخ
D	Venus		الزهرة

Question	23	23	السؤال
The solar eclipse occurs when.....		يحدث كسوف الشمس عندما.....	
A	Moon shadow falls on the earth.	يسقط ظل القمر على الأرض	
B	The sun lies between the Earth and the moon.	تقع الشمس بين الأرض والقمر	
C	The moon stops pivoting.	يتوقف القمر عن الدوران المحوري	
D	The earth is located between the moon and the sun.	تقع الأرض بين الشمس والقمر	

Question	24	24	السؤال
What is the smallest planets in the solar system?		ما هو أصغر الكواكب حجما في المجموعة الشمسية؟	
A	Mars	المريخ	
B	Mercury	عطارد	
C	Saturn	زحل	
D	Earth	الأرض	

Question	25	25	السؤال
The Sun is a		تعتبر الشمس	
A	asteroid	كويكب	
B	cosmos	كون	
C	Star	نجم	
D	galaxy	مجرة	

انتهت الأسئلة

End of Exam