

شكراً لتحميلك هذا الملف من موقع المناهج الإماراتية



أسئلة الامتحان التعويضي انسابير

[موقع المناهج](#) ← [المناهج الإماراتية](#) ← [الصف الرابع](#) ← [علوم](#) ← [الفصل الثالث](#) ← [الملف](#)

التواصل الاجتماعي بحسب الصف الرابع



روابط مواد الصف الرابع على تلغرام

[الرياضيات](#)

[اللغة الانجليزية](#)

[اللغة العربية](#)

[التربية الاسلامية](#)

المزيد من الملفات بحسب الصف الرابع والمادة علوم في الفصل الثالث


أسئلة الامتحان النهائي الورقي انسابير	1
أسئلة الامتحان النهائي الورقي بريدج	2
تدريبات امتحانية وفق الهيكل الوزاري الجديد	3
مراجعة امتحانية ملخص وحلول وفق الهيكل الوزاري الجديد انسابير	4
حل أسئلة الامتحان النهائي التعويضي ماحروهيل	5


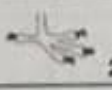










Question	7	7	السؤال
Which of the following is an internal structure in animals?			أي مما يلي يُعتبر من التراكيب الداخلية للحيوانات؟
A	Fur		الفرو
B	Brain		الدماغ
C	Scales		الحراشيف
D	Claws		المخالب

تم تحميل هذا الملف من
موقع المناهج الإماراتية

Question	8	8	السؤال
Which of the following adaptation will help to get warm?			أي من أنماط التكيف التالية يُساعد الكائن الحي في الحصول على الدفء؟
A	Sense of smell		حاسة الشم
B	Thick fur		الفرو الغليظ
C	Strong jaws		الفكوك القوية
D	A shell		الصدفة





Question	9	9	السؤال
How do animals use mimicry to survive?			كيف تستخدم الحيوانات التقليد للبقاء على قيد الحياة؟
A Standing out from their environment			التميز عن بيئتهم
B Imitating other animals			التشبه بالحيوانات الأخرى
C Blending into their environment			الاندماج في بيئتهم
D Making warning calls			إجراء نداءات تحذيرية

Question	10	10	السؤال
The Grizzly bears prepare for Hibernation around November. Which of the following processes not happens for the bear during hibernation?			الدببة الرمادية تستعد للسبات الشتوي حوالي شهر نوفمبر. أي من العمليات التالية لا تحدث للدب أثناء السبات؟
			
A Eating			الأكل
B Sleeping			النوم
C Breathing			التنفس
D Heart movement			حركة القلب

Question	11	11	السؤال					
In the figure below, which number represents the shape of foot that better catch prey ?			في الشكل أدناه، ما هو الرقم الذي يُمثل شكل القدم الذي يُساعد الطيور على الإمساك بالفريسة بشكل أفضل ؟					
			<table border="1"> <thead> <tr> <th>Shape of Foot شكل القدم</th> </tr> </thead> <tbody> <tr> <td> 1</td> </tr> <tr> <td> 2</td> </tr> <tr> <td> 3</td> </tr> <tr> <td> 4</td> </tr> </tbody> </table>	Shape of Foot شكل القدم	 1	 2	 3	 4
Shape of Foot شكل القدم								
 1								
 2								
 3								
 4								
A		1						
B		2						
C		3						
D		4						


Question	12	12	السؤال
Which of the following is a sense animals use to survive in their environment?			أي مما يلي إحساسًا تستخدمه الحيوانات للبقاء على قيد الحياة في بيئتها؟
A	Sleeping		النوم
B	Movement		الحركة
C	Growing		النمو
D	Vision		الرؤية

Question	13	13	السؤال
Which of the following best describes Camouflage ?			أي مما يلي يصف التمويه بشكل أفضل؟
A	An animal sleeps during the day and activates at night		ينام الحيوان خلال النهار وينشط في الليل
B	An organism can adapt to the environment		يُمكن للكائن الحي التكيف مع البيئة
C	An organism needs food, oxygen, water, space, and shelter to survive		يحتاج الكائن الحي إلى الغذاء والأكسجين والماء والمكان والمأوى للبقاء على قيد الحياة
D	One organism imitates another organism		كائن حي واحد يُقلد كائن حي آخر

Question	14	14	السؤال
Which animal in the images below use their weight to defend herself ?			أي من الحيوانات في الصور أدناه تستخدم وزنها للدفاع عن نفسها ؟
	<div style="display: flex; justify-content: space-around; align-items: center;"> <div style="text-align: center;"> <p>A</p>  </div> <div style="text-align: center;"> <p>B</p>  </div> <div style="text-align: center;"> <p>C</p>  </div> <div style="text-align: center;"> <p>D</p>  </div> </div>		
A		A	
B		B	
C		C	
D		D	


Question	15	15	السؤال
The Spinal cord is part of which system?			أي من الأجهزة التالية يتبعها الحبل الشوكي؟
A	Circulatory system		الجهاز الدوراني
B	Central nervous system		الجهاز العصبي المركزي
C	Peripheral nervous system		الجهاز العصبي الطرفي
D	Digestive system		الجهاز الهضمي

Question	16	16	السؤال
Which of the following animals can use the Echoes?			أي من الحيوانات التالية يُمكنها استخدام الصدى؟
A	Whales		الحيتان
B	Snakes		الثعابين
C	Monkeys		القرود
D	Chickens		الدجاج

Question	17	17	السؤال
In the figure below. which of the following letters represents the Peripheral nerves in human body?			في الصورة أدناه، أي حرف مما يلي يُمثل الأعصاب الطرفية؟
			
A		A	
B		B	
C		C	
D		D	

Question	18	18	السؤال
Which of the following organs is directly connected to the Central nervous system ?			أي من الأعضاء التالية يرتبط مباشرة بالجهاز العصبي المركزي ؟
A Skin			الجلد
B Tongue			اللسان
C Brain			الدماغ
D Nose			الأنف

Question	19	19	السؤال
	What is the structure in the human eye that sends signals to the brain?		ما هو التركيب الموجود في عين الانسان و الذي يقوم بنقل الإشارات الى الدماغ ؟
A	Retina		الشبكية
B	Cornea		القرنية
C	Iris		القرحية
D	Pupil		البؤبؤ

Question	20	20	السؤال
	Which property of light does the picture below represent?		ما خاصية الضوء التي تبينها هذه الصورة؟
			
A	Refraction		الانكسار
B	Absorption		الامتصاص
C	Reflection		الانعكاس
D	Translucence		الشفافية

Question	21	21	السؤال
----------	----	----	--------

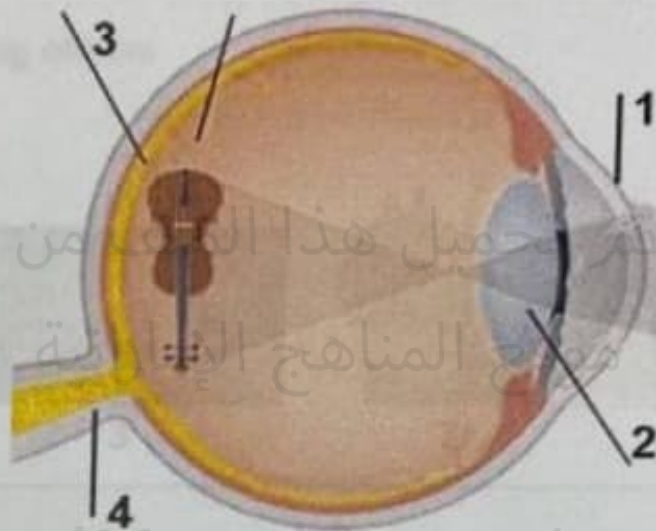
Which of the following numbers

أي من الأرقام التالية يُمثل العدسة في الشكل

represents the lens in the following

التالي؟

diagram ?



A

1

B

2




C

3

D

4

alManahj.com/ae

Question	22	22	السؤال
Which of the following numbers represents the eyes to see prey at night in the following animal pictures?			أي من الأرقام التالية يُمثل العيون التي تشاهد الفريسة في الظلام في صور الكائنات التالية؟
			
	4	3	2
A			1
B			2
C			3
D			4

Question	23	23	السؤال
The passage of waves through clear glass is called			يُسمى مرور موجات عبر الزجاج الصافي
A	Refraction		الانكسار
B	Absorption		الامتصاص
C	Reflection		الانعكاس
D	Translucence		الشفافية

Question	24	24	السؤال
Which of the following can be used for information transfer using digital communication ?			أي مما يلي يُمكن استخدامه لنقل المعلومات باستخدام التكنولوجيا الرقمية ؟
A	Flags		الأعلام
B	Telegraph		التلغراف
C	Sundial		المزولة (الساعة الشمسية)
D	Cell phone		الهاتف المتحرك

Question	25	25	السؤال
The 0 and 1 is a technonlogy system called			0 و 1 هو نظام تكنولوجي يسمى
A	Binary code		الرمز الثنائي
B	Telegraph		التلغراف
C	Sundial		المزولة (الساعة الشمسية)
D	Morse code		شفرة موريس

انتهت الأسئلة

End of Exam