


شكراً لتحميلك هذا الملف من موقع المناهج الإماراتية



كتيب دبلوم الصغار (الأعداد) للصفوف من الأول حتى السابع

[موقع المناهج](#) ← [المناهج الإماراتية](#) ← [ملفات مدرسية](#) ← [رياضيات](#) ← [الفصل الثالث](#) ← [الملف](#)

التواصل الاجتماعي بحسب ملفات مدرسية



روابط مواد ملفات مدرسية على تلغرام

[الرياضيات](#)

[اللغة الانجليزية](#)

[اللغة العربية](#)

[التربية الاسلامية](#)

المزيد من الملفات بحسب ملفات مدرسية والمادة رياضيات في الفصل الثالث

[كل ما يخص مادة الرياضيات ليوم الاثنين 12 يونيو لجميع الصفوف](#)

1

[كتيب دبلوم الصغار \(الأعداد\) للصفوف من الأول حتى السابع](#)

2

[كتيب دبلوم الصغار \(الهندسة\) للصفوف من الثاني حتى السابع](#)

3

[كتيب دبلوم الصغار \(العمليات\) للصفوف من الأول حتى السابع](#)

4

[موجهات التقييم التكويني لمادة الرياضيات من الصف الأول إلى الثاني عشر](#)

5



دبلوم الصفار
حين يكون التعلم ممتعاً

أولاً



الأعداد

$$2+3=5$$

$$2+2=4$$

$$x+y$$

$$a+b$$

=



90°

برنامج محمد بن راشد
للإعلام الإلكتروني
Mohammed Bin Rashid
Smart Learning Program



N.I.I الناتج

1-7 الصفوف

الأعداد

المحور

4

3

2

1

المستوى

/

/

التاريخ:

الصف:

الاسم:

عُدْ الأشياء، وانطقْ عددها، ثمَّ خُطِّ فوق الأعداد، وَاكْتُبْها.

1.

1



واحد

2.

2



اثنان

3.

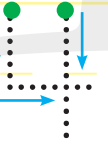
3



ثلاثة

4.

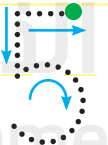
4



أربعة

5.


5



خمسة

6.

6



ستة



N.I.I الناتج

1-7 الصفوف

الأعداد

المحور

4

3

2

1

المستوى

/

/

التاريخ:

الصف:

الاسم:

7.

7



سبعة

8.

8



ثمانية

9.

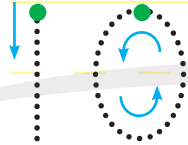
9



تسعة

10.

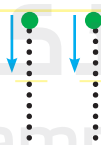
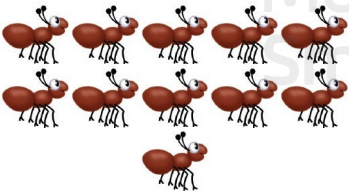
10



عشرة

11.

11



أحد عشر

برنامج محمد بن راشد
للتعلم الإلكتروني
Mohammed Bin Rashid
Smart Learning Program




N.I.I الناتج
1-7 الصفوف

المحور
الأعداد
4 3 2 1
المستوى

الاسم: الصف: التاريخ: / /

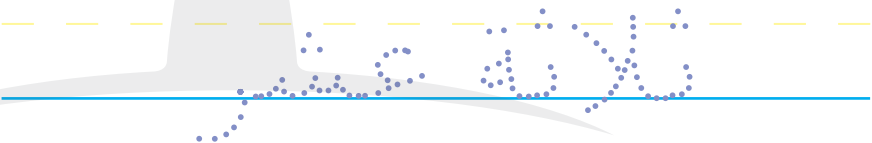


12.

12





13.

13



14.

14





N.I.I الناتج

1-7 الصفوف

الأعداد

المحور

4

3

2

1

المستوى

/

/


التاريخ:

الصف:

الاسم:

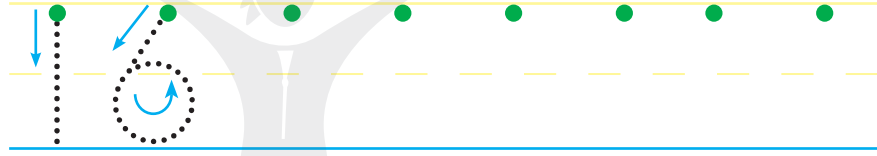
15.

15



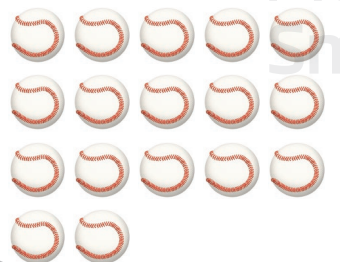
16.

16



17.

17





N.I.I الناتج
I-7 الصفوف

المحور			
الأعداد			
4	3	2	1

المستوى

الاسم: الصف: التاريخ: / /

18.


18



ثمانية عشر

19.

19



تسعة عشر

20.

20



عشرون




N.I.2 الناتج
2-7 الصفوف


المحور			
الأعداد			
4	3	2	1

الاسم: الصف: التاريخ: / /

اكتب عدد العشرات، ثم اكتب العدد.




.22




.21

عشرون = عشرات = ثمانون = عشرات




.24



.23

خمسون = عشرات = تسعون = عشرات



.26



.25

ستون = عشرات = ثلاثون = عشرات



N.I.2 الناتج
2-7 الصفوف

المحور الأعداد
المستوى 4 3 2 1

الاسم: الصف: التاريخ: / /

اكتب الآحاد والعشرات في مخطط القيمة المكانية، ثم اكتب العدد.

27.

العشرات	الآحاد	العشرات	الآحاد

اثنان وستون

28.

العشرات	الآحاد	العشرات	الآحاد

ثمانية وخمسون

29.

العشرات	الآحاد	العشرات	الآحاد

خمسة وثمانون

30.

العشرات	الآحاد	العشرات	الآحاد

ثلاثة وسبعون



N.I.2 الناتج

2-7 الصفوف

الأعداد

المحور

4

3

2

1

المستوى

/

/

التاريخ:

الصف:

الاسم:

31.

العشرات	الآحاد	العشرات	الآحاد

تسعة وأربعون

32.

العشرات	الآحاد	العشرات	الآحاد

ثلاثة وثلاثون

33.

العشرات	الآحاد	العشرات	الآحاد

ثلاثة وتسعون

34.

العشرات	الآحاد	العشرات	الآحاد

سبعون



N.I.2 الناتج
2-7 الصفوف

المحور الأعداد
المستوى 4 3 2 1

الاسم: الصف: التاريخ: / /

اكتب الآحاد والعشرات والمئات في مخطط القيمة المكانية، ثم اكتب العدد.

35.

المئات	العشرات	الآحاد	المئات	العشرات	الآحاد
		 123			

مئة وأربعة عشر

36.

المئات	العشرات	الآحاد	المئات	العشرات	الآحاد

مئة وأحد عشر

37.

المئات	العشرات	الآحاد	المئات	العشرات	الآحاد

مئة وثمانية عشر



N.I.2 الناتج
2-7 الصفوف

المحور الأعداد
المستوى 4 3 2 1

الاسم: الصف: التاريخ: / /

اُكْتُبِ الأَعْدَادَ النَّاقِصَةَ فِي جَدُولِ الأَعْدَادِ، ثُمَّ اِقْرَأِ الأَعْدَادَ.

38.

1	2	3		5	6	7	8	9	10
11		13	14	15	16		18	19	20
21	22	23	24		26	27	28	29	
31	32		34	35		37	38	39	40
	42	43	44	45	46	47		49	50
51	52		54		56	57	58		60
61		63	64	65	66		68	69	70
	72	73	74	75	76	77	78	79	80
81	82	83		85	86	87	88	89	
91	92	93	94	95		97		99	100
101		103	104		106	107		109	110
	112		114	115	116	117		119	

اُكْتُبِ العَدَدَ.

39.

ثلاثة وثمانون

40.

سبعة وثلاثون

41.

مئة وتسعة عشر

42.

مئة وخمسة



N.I.2 الناتج
2-7 الصفوف

المحور الأعداد
المستوى 4 3 2 1

الاسم: الصف: التاريخ: / /

اُكْتُبِ الأَعْدَادَ الناقِصَةَ. اِقْرَأِ الأَعْدَادَ.

43. 85, _____, 87, 88, _____, 90

44. _____, 101, 102, _____, _____

45. 71, 72, _____, 74, 75, _____, 77

46. 114, _____, 116, 117, 118, _____, 120

اُكْتُبِ الأَعْدَادَ.

47.

سبعةٌ وعشرون

48.

ثلاثةٌ عشر

49.

تسعون

50.

أربعةٌ وسبعون

51.

اثنان وستون

52.

مئةٌ وأحد عشر



N.I.3 الناتج

2-7 الصفوف

الأعداد

المحور

4

3

2

1

المستوى

/

/

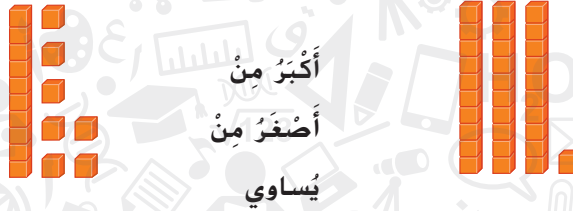
التاريخ:

الصف:

الاسم:

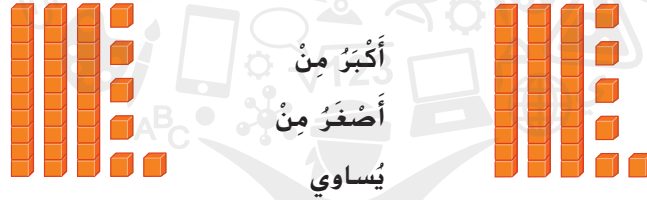
اُكْتُبْ كُلَّ عَدَدٍ حَوْطَ أَكْبَرَ مِنْ أَوْ أَصْغَرَ مِنْ أَوْ يُسَاوِي.

.53



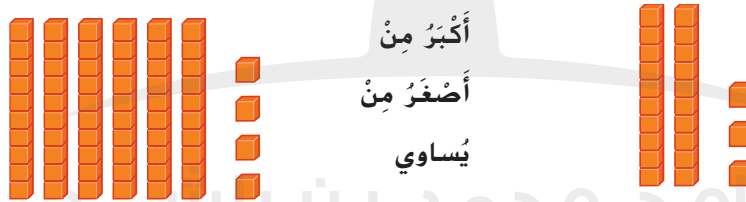
أَكْبَرُ مِنْ
أَصْغَرَ مِنْ
يُسَاوِي

.54



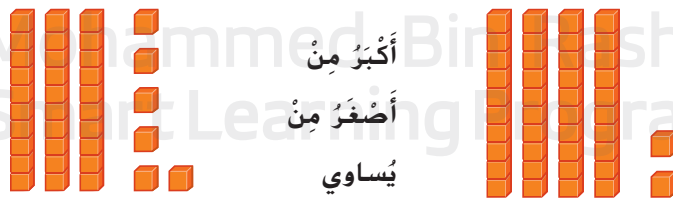
أَكْبَرُ مِنْ
أَصْغَرَ مِنْ
يُسَاوِي

.55



أَكْبَرُ مِنْ
أَصْغَرَ مِنْ
يُسَاوِي

.56



أَكْبَرُ مِنْ
أَصْغَرَ مِنْ
يُسَاوِي



N.I.3 الناتج
2-7 الصفوف

المحور الأعداد
المستوى 4 3 2 1

الاسم: الصف: التاريخ: / /

قارن. اكتب > أو < أو =.

57.

العشرات	الآحاد
6	5
5	4

65 ○ 54

58.

العشرات	الآحاد
3	3
3	3

33 ○ 33

59. 45 ○ 75

60. 80 ○ 26

61. 12 ○ 12

62. 95 ○ 59

63. 85 ○ 85

64. 60 ○ 98

65. 62 ○ 67

66. 49 ○ 90

67. 96 ○ 69

68. 42 ○ 24

69. 53 ○ 57

70. 41 ○ 41

حَوِّطِ الْعَدَدَ الْأَصْفَرَ مِنَ الْعَدَدِ الْمُحَدَّدِ بِاللَّوْنِ الْأَخْضَرِ.

71. 80
84

72. 95
100

73. 23
9 99

حَوِّطِ الْعَدَدَ الْأَكْبَرَ مِنَ الْعَدَدِ الْمُحَدَّدِ بِاللَّوْنِ الْأَخْضَرِ.

74. 65
61 71

75. 38
52 25

76. 6
10 0



الناجح N.2.1

الصفوف 3-7

الأعداد

المحور

4

3

2

1

المستوى

/

/

التاريخ:

الصف:

الاسم:

اقْرَأِ الْعَدَدَ. اُكْتُبِ الْعَدَدَ.

77. مِئَةٌ وَتِسْعَةٌ وَتِسْعُونَ 78. سَبْعُمِئَةٌ وَثَمَانِيَةٌ وَعِشْرُونَ

79. ثَلَاثُمِئَةٌ وَعِشْرَةٌ 80. مِئَتَانِ وَخَمْسَةٌ وَثَمَانُونَ

81. تِسْعُمِئَةٌ وَسَبْعَةٌ وَسَبْعُونَ 82. أَرْبَعُمِئَةٌ وَأَرْبَعَةٌ وَسِتُّونَ

اُكْتُبِ الْعَدَدَ بِالْكَلِمَاتِ. اِقْرَأِ الْعَدَدَ.

83. 1,000

84. 718

85. 614

86. 244

87. 321



N.2.2 الناتج
3-7 الصفوف

المحور			
الأعداد			
4	3	2	1

الاسم: الصف: التاريخ: / /

قارن الأعداد. اكتب < أو > أو =.

88. 150 ○ 150

89. 132 ○ 213

90. 689 ○ 627

91. 425 ○ 425

92. 907 ○ 899

93. 533 ○ 533

94. 207 ○ 210

95. 697 ○ 667

96. 411 ○ 421

97. 619 ○ 621

98. 729 ○ 729

99. 325 ○ 300

حَوِّطِ الْعَدَدَ الْأَصْفَرَ مِنَ الْعَدَدِ الْمُحَدَّدِ بِاللُّونِ الْبُنْفَسَجِيِّ.

100. 568

101. 409

588 464

410 406

حَوِّطِ الْعَدَدَ الْأَكْبَرَ مِنَ الْعَدَدِ الْمُحَدَّدِ بِاللُّونِ الْبُنْفَسَجِيِّ.

102. 311

103. 653

313 211

610 655



N.3.1 الناتج
3-7 الصفوف

المحور			
الأعداد			
4	3	2	1

الاسم: الصف: التاريخ: / /

اكتب كل عدد بالصيغة الموسعة والصيغة الكلامية.

104. 2,368

$$2,000 + \underline{\hspace{2cm}} + 60 + \underline{\hspace{2cm}}$$

و وثمانية وستون

105. 6,204

$$\underline{\hspace{2cm}} + \underline{\hspace{2cm}} + \underline{\hspace{2cm}}$$

و وآلاف و أربعة

اكتب كل عدد بالصيغة القياسية.

106. 5,000 + 500 + 3

107. 2,000 + 300 + 20 + 9

108. 4,000 + 600 + 8

109. 9,000 + 300 + 70 + 2

110. 4,000 + 600 + 70 + 8

111. 3,000 + 20 + 1

اكتب كل عدد بالصيغة القياسية.

112. سبعة آلاف وستمئة وواحد وأربعين

113. ثمانية آلاف وسبعمئة وستون.

اكتب كل عدد بالصيغة الموسعة والصيغة الكلامية.

114. 4,332

$$\underline{\hspace{2cm}} + \underline{\hspace{2cm}} + \underline{\hspace{2cm}}$$

115. 6,503

$$\underline{\hspace{2cm}} + \underline{\hspace{2cm}} + \underline{\hspace{2cm}}$$



N.3.2 الناتج
3-7 الصفوف

المحور			
الأعداد			
4	3	2	1

الاسم: الصف: التاريخ: / /

قارن. اسْتَخْدِمِ < أَوْ > أَوْ =.

116. 604 ○ 592 117. 188 ○ 198 118. 1,000 ○ 850

119. 999 ○ 999 120. 1,121 ○ 1,112 121. 6,573 ○ 7,650

122. 2,644 ○ 2,464 123. 1,000 ○ 1,000 124. 3,039 ○ 3,019

حَوِّطِ العَدَدَ الأَكْبَرَ، ثُمَّ اكْمِلِ العِبَارَةَ.

125. 555 725 126. 800 700 127. 998 989
_____ > _____ _____ > _____ _____ > _____

128. 931 8,310 129. 8,008 8,080 130. 2,753 2,735
_____ > _____ _____ > _____ _____ > _____

حَوِّطِ العَدَدَ الأَصْغَرَ، ثُمَّ اكْمِلِ العِبَارَةَ.

131. 2,456 1,456 132. 3,052 3,050 133. 6,358 6,759
_____ < _____ _____ < _____ _____ < _____

134. 5,317 5,318 135. 2,099 1,099 136. 1,321 1,231
_____ < _____ _____ < _____ _____ < _____



N.3.2 الناتج
3-7 الصفوف

المحور			
الأعداد			
4	3	2	1

الاسم: الصف: التاريخ: / /

رَتِّبِ الأَعْدَادِ مِنَ الأَكْبَرِ إِلَى الأَصْغَرِ.

137. 303; 30; 3,003

138. 4,404; 4,044; 4,040

139. 1,234; 998; 2,134

140. 2,673; 2,787; 2,900

141. 4,134; 897; 3,987

142. 1,683; 1,687; 1,680

143. 5,567; 435; 7,567

144. 1,738; 1,732; 1,735

رَتِّبِ الأَعْدَادِ مِنَ الأَصْغَرِ إِلَى الأَكْبَرِ.

145. 60; 600; 6,006

146. 349; 343; 560

147. 3,587; 875; 2,435

148. 999; 1,342; 2,000

149. 5,456; 765; 8,456

150. 789; 7,678; 8,990



N.4.1 الناتج
4-7 الصفوف

المحور			
الأعداد			
4	3	2	1

الاسم: الصف: التاريخ: / /

اُكْتُبْ كُلَّ عَدَدٍ بِالصِّيغَةِ الْقِيَاسِيَّةِ.

151. ثَلَاثُمِئَةٌ وَتِسْعَةٌ وَأَرْبَعُونَ أَلْفًا وَخَمْسَةٌ وَعِشْرُونَ

152. $4 + 10 + 800 + 2,000 + 90,000 + 400,000$

اُكْتُبْ كُلَّ عَدَدٍ بِالصِّيغَةِ الْمَوْسَّعَةِ وَالصِّيغَةِ الْكَلَامِيَّةِ.

153. 492,032

154. 3,028,002

155. 9,000,165

اُكْتُبْ كُلَّ عَدَدٍ بِالصِّيغَةِ الْقِيَاسِيَّةِ.

156. خَمْسَةٌ وَعِشْرُونَ أَلْفًا وَأَرْبَعُمِئَةٌ وَثَمَانِيَةٌ

157. أَرْبَعُونَ أَلْفًا وَثَمَانِمِئَةٌ وَأَحَدٌ عَشَرَ

158. سَبْعُمِئَةٌ وَوَاحِدٌ وَسِتُّونَ أَلْفًا وَثَلَاثُمِئَةٌ وَسِتَّةٌ وَخَمْسُونَ

159. خَمْسَةُ مَلَايِينٍ وَسَبْعُمِئَةٌ وَاثْنَانِ وَسِتُّونَ أَلْفًا وَمِئَةٌ وَأَحَدٌ عَشَرَ

160. $600,000 + 80,000 + 4$

161. $20,000 + 900 + 70 + 6$

162. $9,000,000 + 200,000 + 1,000 + 500 + 2$



N.4.2 الناتج
4-7 الصفوف

المحور			
الأعداد			
4	3	2	1

الاسم: الصف: التاريخ: / /

اِسْتِخْدِمْ خُطُوطَ الأَعْدَادِ لِلْمُقَارَنَةِ. اِسْتِخْدِمْ > أَوْ < أَوْ =.

163. 45,526 ○ 48,873



164. 31,748 ○ 31,521



165. 126,532 ○ 129,321



قَارِنْ، اِسْتِخْدِمْ > أَوْ < أَوْ =.

166. 3,030 ○ 3,030

167. 76,101 ○ 77,000

168. 12,683 ○ 12,638

169. 229,214 ○ 300,142

170. 701,000 ○ 701,000

171. 342,646 ○ 34,646

172. 398,421 ○ 389,421

173. 605,310 ○ 605,310

174. 840,515 ○ 845,015

175. 655,543 ○ 556,543

176. 720,301 ○ 720,031

177. 333,452 ○ 333,452



N.4.2 الناتج
4-7 الصفوف

المحور			
الأعداد			
4	3	2	1

الاسم: الصف: التاريخ: / /

رَتِّبِ الأَعْدَادَ مِنْ الأَكْبَرِ إِلَى الأَصْغَرِ.

178. 59,919; 95,509; 59,909

179. 2,993; 9,239; 2,393

180. 112,443; 114,324; 112,344

181. 642,063; 642,036; 642,306

182. 12,378; 12,783; 12,873

183. 258,103; 248,034; 285,091

184. 138,032; 138,023; 139,006

185. 252,264; 625,264; 652,462

رَتِّبِ الأَعْدَادَ مِنْ الأَصْغَرِ إِلَى الأَكْبَرِ.

186. 225,625; 335,432; 325,745

187. 357,925; 329,053; 356,035

188. 385,127; 385,227; 385,172

189. 703,733; 703,713; 703,723

190. 219,115; 219,119; 119,115

191. 423,105; 433,053; 432,035

192. 801,810; 801,854; 810,745

193. 900,925; 900,021; 900,031