

تم تحميل هذا الملف من موقع المناهج الإماراتية



*للحصول على أوراق عمل لجميع الصفوف وجميع المواد اضغط هنا

<https://almanahj.com/ae>

* للحصول على أوراق عمل لجميع مواد الصف الخامس اضغط هنا

<https://almanahj.com/ae/5>

* للحصول على جميع أوراق الصف الخامس في مادة اجتماعيات وجميع الفصول, اضغط هنا

<https://almanahj.com/ae/5social>

* للحصول على أوراق عمل لجميع مواد الصف الخامس في مادة اجتماعيات الخاصة بـ الفصل الأول اضغط هنا

<https://almanahj.com/ae/5social1>

* لتحميل كتب جميع المواد في جميع الفصول للـ الصف الخامس اضغط هنا

<https://almanahj.com/ae/grade5>

* لتحميل جميع ملفات المدرس أنور حسن اضغط هنا

للتحدث إلى بوت المناهج على تلغرام: اضغط هنا

https://t.me/almanahj_bot



مادة الدراسات الاجتماعية والتربية الوطنية



الصف الخامس

تدريبات إثرائية

Almanahj.com/ae

الفصل الدراسي الأول للعام 2017-2018 م

إعداد

أ/ عائشة عامس

مدرسة سمية بنت خياط

أ/ أنور حسن محمد

مدرسة حتا لتعليم الأساسي



الوحدة الأولى: حضارتنا العريقة

1- اكتب المصطلح المناسب أمام كل عبارة من العبارات التالية في الجدول :

السنع - الخروفة - الحضارة - الشادوف - المثل الشعبي

المصطلح	التعريف
	ثمرة كل جهد يقوم به الإنسان لتحسين ظروف حياته ، سواء كانت مادية أو معنوية
	القواعد التي تنظم سلوك الأفراد في الحياة اليومية مثل : احترام الأكبر سناً وآداب المجالس وكرم الضيافة
	الحكاية الشعبية التي ترويها الجدات والأمهات للأبناء قبل النوم .
	التعبير اللفظي المختصر والمتداول بغير تبديل أو تغيير في لفظه الحرفي .
	وسيلة لرفع الماء من النهر



2- من الحضارات القديمة في الوطن العربي:

Almanahj.com/ae

1-

2-

3-

4-

3- أكمل ما يلي :

التربة الخصبة + وفرة المياه =

4- عوامل قيام الحضارات في الوطن العربي :

1-

2-

3-

4-

5- من الأدوات الزراعية التي استخدمها المصريون القدماء :

و

و

6- من المحاصيل الزراعية التي انتجها المصريون القدماء :

و

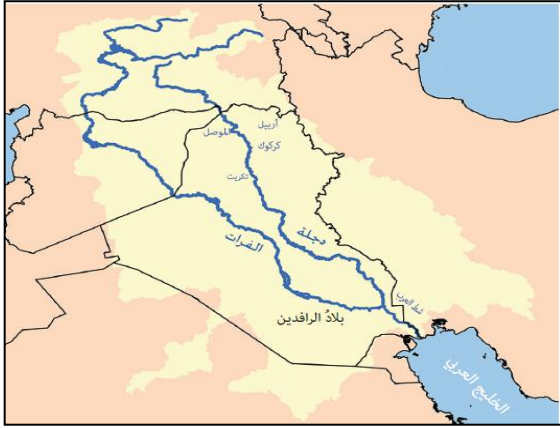
و

و

7- اهتم المصريون القدماء بالزراعة و



- 8- جمع المصريون القدماء الأشهر في ثلاثة فصول هي : و و
 9- كان المصريون القدماء يحررون النصوص الدينية باستخدام اللغة
 10- من الحضارات القديمة التي قامت على أرض بلاد الشام :
 و و
 11- تفوق الفينيقيون في صناعة و
 و هم من أول الشعوب في التاريخ .



- 12- تعد حضارة بلاد الرافدين من أقدم الحضارات
 الإنسانية وهي تقع في دولة
 بين نهري و
 13- من الممالك القديمة التي قامت في بلاد الرافدين :
 و و
 14- من أهم إنجازات الحضارة في بلاد الرافدين :

Almanahj.com/ae

- 15- أكمل الفراغ أسفل كل صورة مما يلي بما يناسب :

أ	ب	ج	د	هـ	و
ز	ح	ط	ي	ك	ل
ش	م	ن	ظ	ع	ف
س	ق	ص	غ	ط	ظ
ث	ج	د	هـ	و	ز

الكتابة



الكتابة

- 16- من أهم الحضارات التي نشأت في جنوب شبه الجزيرة العربية حضارة مملكة
 وارتبط اسمها بدولة اليمن وعُرفت ببناء السدود أشهرها سد
 وفي الشمال قامت حضارة دولة الأنباط التي اتخذت من مدينة عاصمة لهم
 17- (من لا يعرف ماضيه لا يستطيع أن يعيش حاضره ولا مستقبله)
 قائل هذه العبارة الشيخ



18- انظر خريطة شبه الجزيرة العربية المقابلة واكتب أهم الحضارات التي ظهرت فيها:

..... و و

19- تقع حضارة ماجان حالياً في دولة و

20- تمتد حضارة من جزيرة فيلكا في الكويت حتى حدود حضارة

21- أهم الأنشطة الاقتصادية التي مارسها سكان حضارة ماجان ودلمون :

..... و و

22- يرجع اكتشاف موقع [ساروق الحديد] إلى صاحب السمو الشيخ

23- من الأدلة على تواصل حضارة ماجان ودلمون مع حضارة بلاد الرافدين :

..... و

24- عرف : (التراث الثقافي) :

25- عرف : (وادي النيل) Almanahj.com/ae

26- عرف : (العادات والتقاليد) :

27- أهم أقسام التراث الثقافي في دولتنا الحبيبة الإمارات العربية المتحدة :

..... و و

28- من أهم الفعاليات التراثية التي تقام في دولتنا الحبيبة للحفاظ على التراث :

..... -1 -2 -3

-29

ألاحظُ الصور الآتية وأسجّل عاداتٍ وتقاليدَ شعبِ دولةِ الإماراتِ العربيّةِ المتّحدة.



.....

.....

.....



الوحدة الثانية: روح الاتحاد

١- اكتب رقم المفهوم أمام المعنى المناسب :

المعنى	المفهوم
يومٍ وطنيٌّ تعبّرُ فيه دولة الإمارات العربية المتّحدة عن تقديرها لتضحيات شهدائها الذين ضحوا بأرواحهم دفاعاً عن الوطن، ()	١ الدستور
إعادة بناء اليمن وتوفير الخدمات الأساسية و تقديم المساعدات الإنسانية للشعب اليمني ()	٢ الخدمة الوطنية
وثيقة وطنية توضح القواعد الأساسية للنظام السياسي في الدولة والاختصاصات التشريعية والتنفيذية والقضائية ()	٣ يوم الشهيد
تحالف عربي تقوده المملكة العربية السعودية لحماية الشعب اليمني من الحوثيين الذين سلبوا شرعية الدولة. ()	٤ اعادة الامل
التزام المواطن بتحمل مسؤوليته اتجاه وطنه، وليكون قادراً على المشاركة في بناء الوطن والدفاع عنه والمساهمة في التنمية ونشر الخير والسلام في العالم. ()	٥ عاصفة الحزم

٢- ضع علامة أمام العبارات الصحيحة و علامة أمام الجمل العبارات غير الصحيحة :

- ١- () أول استعمار وصل منطقة الخليج العربي هو الاستعمار البرتغالي .
- ٢- () ظهرت قوة القواسم كقوة برية لها تأثير كبير في المنطقة .
- ٣- () أكثر المدن تضرراً من الاحتلال البرتغالي كانت مدينة رأس الخيمة .
- ٤- () بعد حملة ١٨١٩ استطاعت بريطانيا فرضت سيطرتها على منطقة الخليج العربي .
- ٥- () أول خطوة في اتحاد دولة الامارات هي اجتماع دبي الأول .
- ٦- () قامت بريطانيا بثلاث حملات ضد القواسم .

٣- أذكر الأسباب . (علل لما يلي) :

١- محاولة الاحتلال البرتغالي السيطرة على منطقة الخليج العربي ؟

.....

٢ - تعرض خور فكان مصيراً قاسياً خلال الاحتلال البرتغالي ؟

.....

٣ - الحملات البريطانية المستمرة ضد القواسم ؟

.....

٤- رتب خطوات قيام اتحاد دولة الامارات .

الحدث	الرقم
انضمام رأس الخيمة	
اجتماع دبي الأول	
اجتماع عرقوب السديرة	
اعلان قيام دولة الإمارات العربية المتحدة	
اجتماع دبي الثاني	

٥- من الصور حدد مؤسسي كل ما يلي :

٢- مؤسسي دول مجلس التعاون الخليجي

١- مؤسسي دولة الامارات العربي المتحدة



..... الشيخ

..... الشيخ

..... الشيخ

..... الشيخ

٦- من الصور استنتج واجباتي اتجاه الوطن :



..... ٣-

..... ٢-

..... ١



٧- اذكر أهمية الخدمة الوطنية :

.....
.....

٨- من الحقوق التي كفلها القانون للطفل :

- 1-
2-
3-
4-

٩- أكمل الجدول التالي :

السؤال	الإجابة
١- سبب الاحتفال بيوم الشهيد	
٢- سبب اختيار ٣٠ نوفمبر يوماً للشهيد	
٣- أول شهيد إماراتي هو	
٤- وظيفته	
٥- استشهد في جزيرة	
٦- الجزر الاماراتية المحتلة هي	
٧- الدولة التي احتلت الجزر الاماراتية	

Almanahj.com/ae

١٠- وضع الشيخ زايد رحمه الله حجر الأساس لترميم سد في اليمن .

١١- الهدف من ترميم السد :

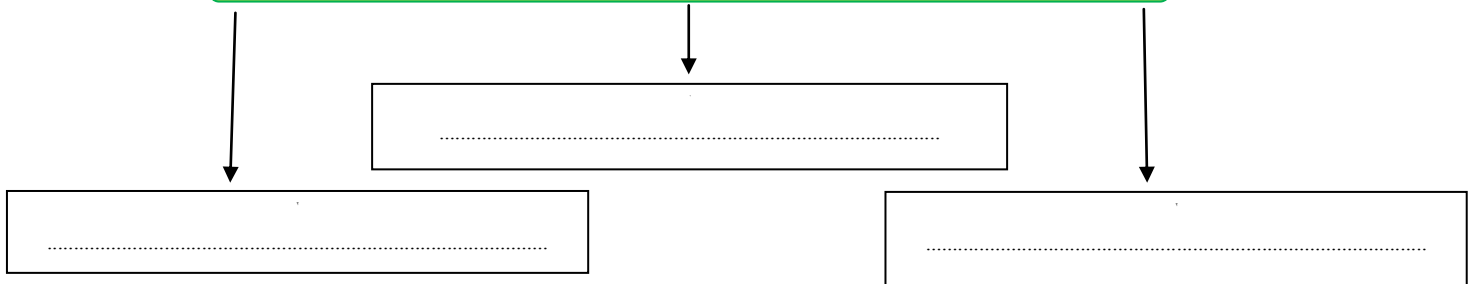
١٢- ما الهدف من مشاركة دولة الإمارات في عاصفة الحزم ؟

.....

١٣- في ابريل ٢٠١٥ توقفت عاصفة الحزم لتبدأ عملية إعادة

١٤- أكمل المخططات التالية :

من المساعدات التي تقدمها دولة الإمارات العربية المتحدة للشعب اليمني



من مظاهر دعم دولة الإمارات لأسر الشهداء

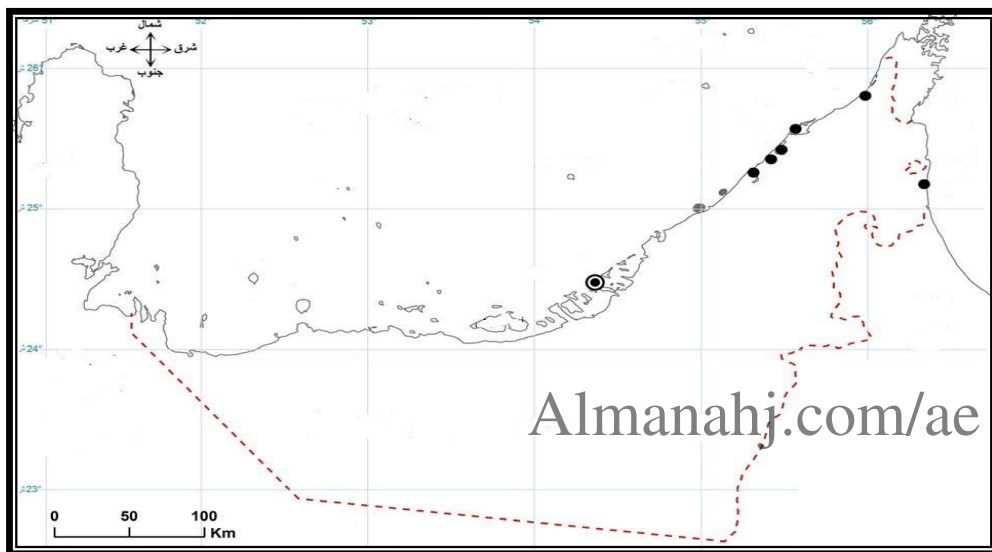
.....

.....

.....

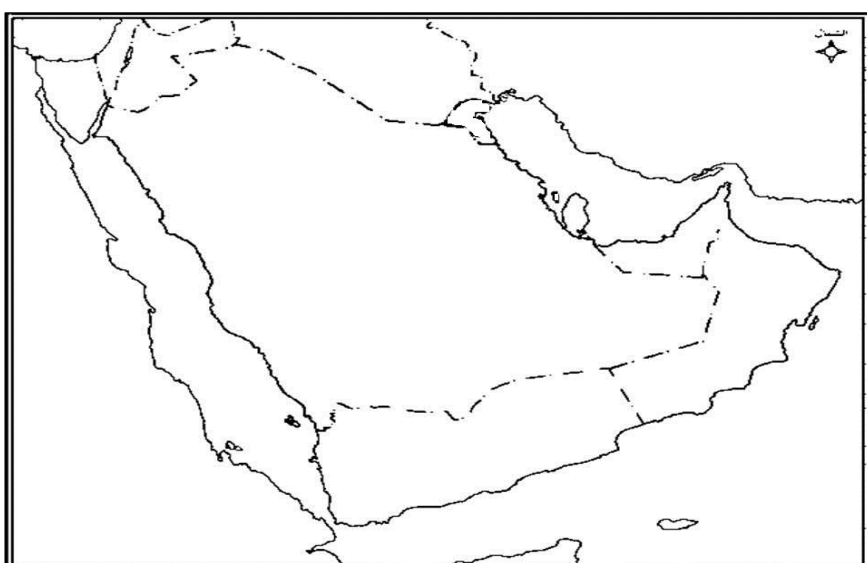
.....

١٥ - على خريطة دولة الإمارات العربية المتحدة حدد التالي :



- ١- مضيق هرمز
- ٢- الخليج العربي
- ٣- بحر عمان
- ٤- دولة الإمارات
- ٥- المملكة العربية السعودية
- ٦- سلطنة عمان
- ٧- المدن الإماراتية السبع .

١٦ - على خريطة شبه الجزيرة العربية التالية حدد الظواهر الآتية وأكتب رقمها في المكان الصحيح:



- ١- دولة الإمارات ٢- دولة الكويت
- ٣- المملكة العربية السعودية
- ٤- سلطنة عمان ٥- دولة قطر
- ٦- المملكة البحرينية
- ٧- الجمهورية اليمنية
- ٨- البحر الأحمر
- ٩- بحر العرب ١٠- خليج عدن
- ١١- مضيق باب المندب

انتهت التدريبات ،،،، مع ثنينا للجمع بالرفيق ،،،،،،،،