

تم تحميل هذا الملف من موقع المناهج الإماراتية

الملف أوراق عمل اختيار من متعدد

[موقع المناهج](#) ⇨ [المناهج الإماراتية](#) ⇨ [الصف الخامس](#) ⇨ [علوم](#) ⇨ [الفصل الأول](#)

روابط مواقع التواصل الاجتماعي بحسب الصف الخامس

--	--	--	--

روابط مواد الصف الخامس على تلغرام

الرياضيات	اللغة الانجليزية	اللغة العربية	التربية الاسلامية
---------------------------	----------------------------------	-------------------------------	-----------------------------------

المزيد من الملفات بحسب الصف الخامس والمادة علوم في الفصل الأول

حل تدريبات الكتاب الوحدة الأولى طبيعة العلم والتكنولوجيا	1
ملخص مفيد لدروس الوحدة الأولى	2
أوراق عمل	3
تحميل دليل المعلم	4
ورقة عمل عن قياس الحجم	5

الاسم /..... الصف/الخامس . الشعبة / التاريخ /... /... / 2022 م

السؤال الاول : اختر الاجابة الصحيحة من بين البدائل

1- سلسلة من الخطوات يتبعها العلماء عند اجراء تحقيق علمي:

A – الاستقصاء العلمي B- الطريقة العلمية C- الملاحظة

2- ما الخطوتان اللتان يتبعهما العلماء بعد اختبار الفرضية:

A - الملاحظة ووضع الفرضيات B- وضع الفرضية واستخلاص النتائج C- تحليل البيانات واستخلاص النتائج

أيام الأسبوع	درجة الحرارة
الاثنين	40 درجة سيليزية
الثلاثاء	43 درجة سيليزية
الأربعاء	45 درجة سيليزية
الخميس	50 درجة سيليزية
الجمعة	55 درجة سيليزية

3- ما الوسيط للبيانات الموضحة بالجدول التالي:

50 -C

45 -B

15 -A

4- أي مما يلي أمثلة للبيانات النوعية:

A- اللون والكتلة والحجم B- اللون والكتلة والرائحة C- اللون والرائحة والملس

5- أي مما يلي مثال على بيانات كمية:

A- لون المحلول أحمر B- حجم المحلول 250 ml C- رائحة المحلول نفاذة




6- أي من القياسات يصف الصورة التالية :

A- دقيقة ومضبوطة B- غير دقيقة ومضبوطة C- غير دقيقة وغير مضبوطة



75 مليلتر



50 مليلتر

7- ما حجم الجسم الصلب الغير منتظم الشكل:

C- 75 سنتيمتر مكعب

B- 125 سنتيمتر مكعب

A- 25 سنتيمتر مكعب

8- أي من التمثيلات البيانية يجب استخدامه لعرض تركيب غازات الغلاف الجوي؟:

C- رسم بياني خطي

B- رسم بياني دائري

A- رسم بياني بالأعمدة

9- ما المدى الصحيح للبيانات التالية؟: (6 - 10 - 5 - 7)

C- 10

B- 7

A- 5


10- أي صفة تتغير بتغير قوة الجاذبية؟:

C- الحجم

B- الكتلة

A- الوزن

السؤال الثاني:- صل الأداة المناسبة لكل جملة:-



أداة قياس حجم السوائل

مقياس حرارة ذات بلورات

مقياس زجاجي مزود بسائل

مقياس حرارة مزود بقرص

انتهت الاسئلة مع تمنياتنا بالتوفيق والنجاح

8- فيم تختلف النظريات العلمية والقوانين العلمية؟:

- A- النظرية العلمية التي تفسر سبب حدوث شيء ما
- B- القانون العلمي هو فكرة لم يتم اثباتها
- C- النظرية شرح سبب حدوث نمط ما وتوضح القوانين الأنماط دون شرحها

9- أي التحقيقات العلمية يمكنك تنفيذها للتعرف على أنواع النباتات الصحراوية المختلفة في دولة الامارات العربية المتحدة

- A- تجربة ضابطة
- B- زيارة ميدانية
- C- نموذج

10- طرح العالم السؤال التالي : (كيف تبدو أجزاء الخلية الحيوانية) ما نوع التحقيق المناسب ؟:


- A- نموذج لأنه يستخدم لفهم الأجسام الصغيرة جدا
- B- تجربة ضابطة . السبب لأنها صممت لإختبار متغير واحد
- C- دراسة ميدانية . السبب لأن المعلومات جمعت من الطبيعة

السؤال الثاني:-صل الصورة بنوع التحقيق العلمي المناسب:-

تفسير المخططات وصل لتحديد الانواع الثلاثة للتحقيقات العلمية الى المكان المناسب



دراسة ميدانية



تجربة ضابطة



نموذج