

شكراً لتحميلك هذا الملف من موقع المناهج الإماراتية



أسئلة الامتحان النهائي - بريدج

[موقع المناهج](#) ← [المناهج الإماراتية](#) ← [الصف الخامس](#) ← [علوم](#) ← [الفصل الثاني](#) ← [الملف](#)

التواصل الاجتماعي بحسب الصف الخامس



روابط مواد الصف الخامس على تلغرام

[الرياضيات](#)

[اللغة الانجليزية](#)

[اللغة العربية](#)

[التربية الاسلامية](#)

المزيد من الملفات بحسب الصف الخامس والمادة علوم في الفصل الثاني


أسئلة الامتحان النهائي - بريدج	1
مراجعة هامة وفق الهيكل الوزاري	2
المراجعة النهائية استعداداً للامتحان	3
مراجعة الوحدة الخامسة مع نموذج الإجابة	4
تجميع أسئلة مراجعة وفق الهيكل الوزاري	5

p2: مؤشرات حدوث التغيرات الكيميائية

استنادا إلى الشكل أدناه، أي مما يلي ليس من مؤشرات حدوث التغيرات الكيميائية؟



(1)



(2)



(3)



(4)

alManahj.com/ae

p1: الفلزات واللافلزات وأشباه الفلزات

أي من العناصر التالية يزيدُ احتمالُ توصيلها للحرارة والكهرباء؟

تم تحميل هذا الملف من

موقع المناهج الإماراتية

alManahj.com/ae

a. النيتروجين

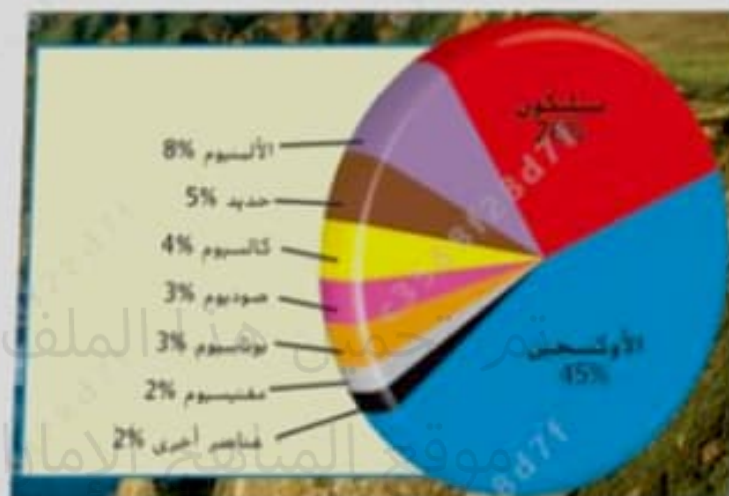
b. الهيليوم

c. الألمنيوم

d. الأكسجين

المخطط البياني أدناه يوضح كميات العناصر في القشرة الأرضية.

أي عنصر مما يلي أكثر شيوعاً؟

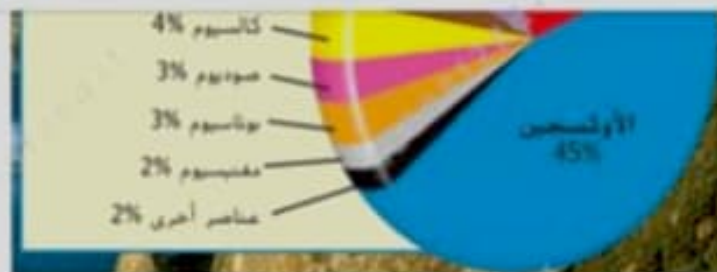


كميات العناصر في القشرة الأرضية

alManahj.com/ae

أ. الأوكسجين

ب. المغنسيوم



كميات العناصر في القشرة الأرضية

تم تحميل هذا الملف من
موقع المناهج الإماراتية

alManahj.com/ae

a. الأوكسجين

b. المغنسيوم

c. الألمنيوم

d. السيليكون

الشكل أدناه يبين أنواع مختلفة من المخاليط، ادرسه ثم أجب عن السؤال:

أي من الأحرف التالية تشير إلى **غروي**؟



Snack mix وجبة خفيفة

(A)



mayonnaise مايونيز

(B)



Smoke دخان

(C)



Steel alloy سبيكة فولاذ

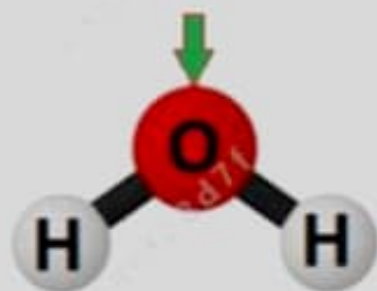
(D)

alManahj.com/ae

a. B و C

b. A و C

الشكل ادناه، يوضح تركيب جزيء الماء، اي معا يلي يشير إليه السهم؟



تم تحميل هذا الملف من

موقع المناهج الإماراتية

alManahj.com/ae

a. جزيء هيدروجين

b. ذرة أكسجين

c. ذرة هيدروجين

d. جزيء أكسجين

في الشكل أدناه، يخزن الصوديوم تحت الزيت أو الكيروسين. أي مما يلي التفسير الصحيح لذلك؟



يتميل هذا الملف من
موقع المناهج الإماراتية

alManahj.com/ae

a. لأن له سطح لامع

b. لأنه فلان النحاس والطايف



تم تحميل هذا الملف من
موقع المناهج الإماراتية

alManahj.com/ae

a لأن له سطح لامع

b لأنه قابل للسحب والطرق

c للحفاظ عليه من التفاعل بسرعة مع أكسجين الهواء

d لأنه يتفاعل مع الزيت

استنادا للشكل أدناه، ما القوة الإجمالية للدراجة والراكب؟



الملف من
الإماراتية

alManahj.com/ae

120 N .a

60 N .b

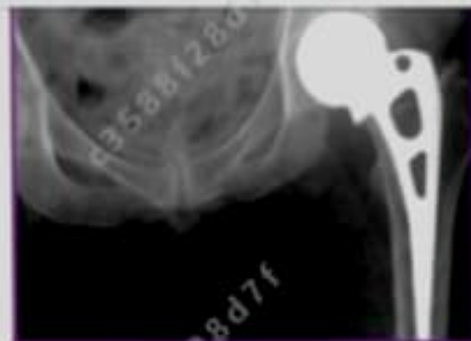
يُستخدم مفصل الورك (الفخذ) الصناعي لاستبدال الأوراك الغتصّرة داخل جسم الإنسان.

أي مما يلي يستخدم لصناعة المفصل المبين في الشكل أدناه؟



هذا الملف من
مناهج الإماراتية

alManahj.com/ae



تم تحميل هذا الملف من
موقع المناهج الإماراتية

alManahj.com/ae

a. بعض الفلزات

b. المعطاط

c. اللافلزات

d. انبعاث الفلزات