

شكراً لتحميلك هذا الملف من موقع المناهج الإماراتية



أسئلة الامتحان النهائي الالكتروني بريدج

[موقع المناهج](#) ← [المناهج الإماراتية](#) ← [الصف الخامس](#) ← [علوم](#) ← [الفصل الثالث](#) ← [الملف](#)

التواصل الاجتماعي بحسب الصف الخامس



روابط مواد الصف الخامس على تلغرام

[الرياضيات](#)

[اللغة الانجليزية](#)

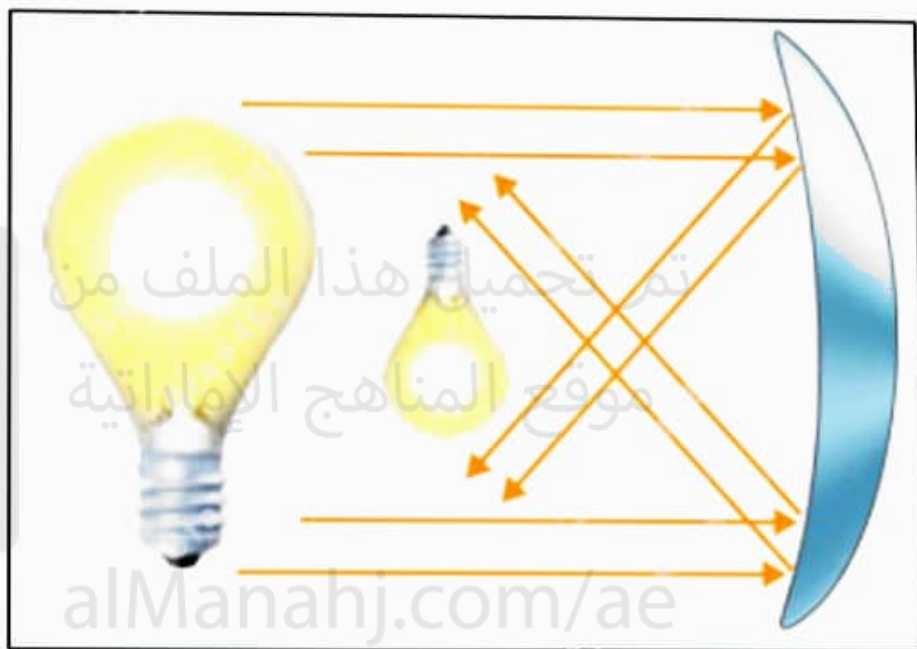
[اللغة العربية](#)

[التربية الاسلامية](#)

المزيد من الملفات بحسب الصف الخامس والمادة علوم في الفصل الثالث

حل أسئلة الامتحان النهائي الالكتروني انسابير	1
أسئلة الامتحان النهائي الورقي انسابير	2
أسئلة الامتحان النهائي الالكتروني بريدج	3
أسئلة الامتحان النهائي الورقي بريدج	4
حل مراجعة نموذجية وفق الهيكل الوزاري	5

أي مما يلي من صفات الصورة المتكونة في الشكل أدناه؟





a. خلف المرآة مكبرة

b. أمام المرآة معتدلة

c. خلف المرآة مصغرة

d. أمام المرآة مقلوبة

تم تحميل هذا الملف من
موقع المناهج الإماراتية

alManahj.com/ae

أي مما يلي يُعبر عن حزمة دقيقة من الطاقة ينتقل من خلالها الضوء؟

تم تحميل هذا الملف من
موقع المناهج الإماراتية

alManahj.com/ae

a. المنشور

b. الموجة

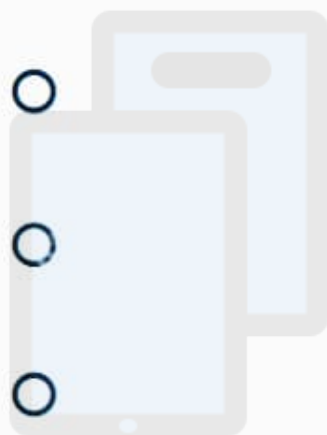
c. الفوتون

d. الطيف



سبب عدم انتقال الصوت في الفراغ: P1

لماذا لا ينتقل الصوت في الفضاء الخارجي؟



تم تحميل هذا الملف من
موقع المناهج الإماراتية

alManahj.com/ae

a. لأن الفضاء الخارجي لا يحتوي على وسط

b. لأن الفضاء الخارجي لا يحتوي على كائنات حية

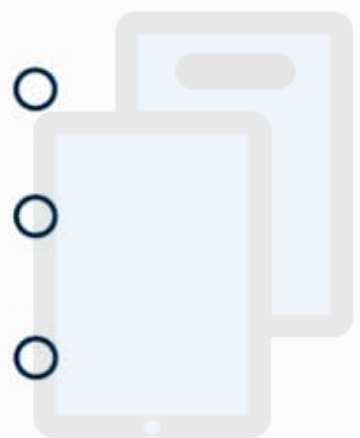
c. للارتفاع الشديد في درجة حرارة الفضاء الخارجي

d. لأن الفضاء الخارجي يحتوي على الجسيمات



الموجة الصوتية: P1

ماذا تسمى المادة التي تنتقل الموجة من خلالها؟



تم تحميل هذا الملف من

موقع المناهج الإماراتية

alManahj.com/ae

a. القمة

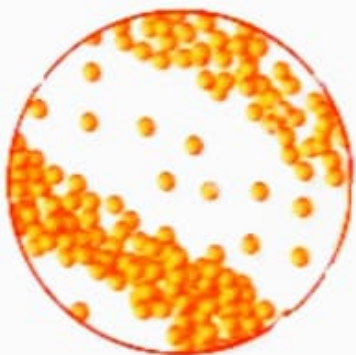
b. الوسط

c. الفراغ

d. القاع

الشكل المجاور يوضح انتقال موجة صوتية.

ماذا تسمى المناطق الهوائية التي تشمل على عدد قليل من الجسيمات؟



a. الانضغاطات

b. القاع

c. التخلُّلات

تم تحميل هذا الملف من

موقع المناهج الإماراتية

alManahj.com/ae

الشكل المجاور يبين نوع من أنواع المعادن التي تجذب المغناطيس.

ما هو اسم هذا المعدن؟



تم تحميل هذا الملف من
موقع المناهج الإماراتية

alManahj.com/ae

a. الكالسيوم

b. الزرنيخ

c. الماجنتيت

مادة يبدو السهم وكأنه منحرف.



تم تحميل هذا الملف من
موقع المناهج الإماراتية

alManahj.com/ae

- a. لأن الضوء ينحرف عند مروره من مادة إلى أخرى
- b. لأن الضوء يعكس القلم على سطح الماء
- c. لأن الضوء ينعكس من الكوب الزجاجي
- d. لأن الضوء ينتقل دائمًا في خط مستقيم

أي حرف مما يلي يشير إلى صخر يستخدم في صناعة الأدوات الحادة والأسلحة؟



الأوبسيديان
(A)



البازلت
(B)



الجرانيت
(C)



الرايولايت
(D)



الأوبسيديان
(A)



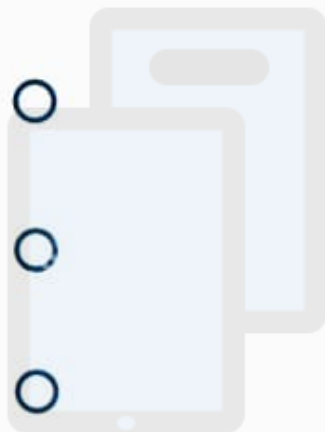
البازلت
(B)



الجرانيت
(C)



الرايولايت
(D)



تم تحميل هذا الملف من
موقع المناهج الإماراتية

alManahj.com/ae

B

D

A

C

أي حرف مما يلي يُشير إلى قلب اصطناعي؟



A



B



C



D

تم تحميل هذا الملف من
موقع المناهج الإماراتية

alManahj.com/ae

D

A

👁️

أي مما يلي يُعبر عن الشكل البلوري لمعدن الأميثيست
المبين في الشكل المجاور؟



تم تحميل هذا الملف من

موقع المناهج الإماراتية

alManahj.com/ae

a. على شكل مكعبات صغيرة

b. سداسي الأضلاع

c. متوازي المستطيلات



ما اللون الذي ينتج عن مزج الضوء الأخضر والأحمر معاً؟

a. الأرجواني

b. الأصفر

c. الأزرق

d. الأبيض

تم تحميل هذا الملف من
موقع المناهج الإماراتية

alManahj.com/ae

أي حرف (أحرف) مما يلي يشير إلى الجسم الذي يعمل على **تشويش الضوء أثناء مروره**؟



A



B



C

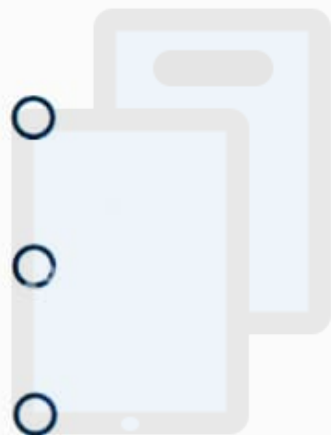
alManahj.com/ae

.a A و B

.b فقط B



أي مما يلي يُعتبر مجالاً من مجالات التكنولوجيا الطبية؟



تم تحميل هذا الملف من
موقع المناهج الإماراتية

alManahj.com/ae

a. الهواتف المحمولة

b. إشارات الدخان

c. القطارات المغناطيسية

d. الهندسة الوراثية

في الشكل المجاور، أي مما يلي يمثل مساراً صحيحاً في دورة الصخور؟



alManahj.com/ae

الرسوبيات ← الصهارة



a. الرواسب ← الصهارة

b. الصخور المتحولة ← الصخور الرسوبية


c. الرواسب ← الصخور النارية

d. الصهارة ← الصخور النارية

تم تحميل هذا الملف من
موقع المناهج الإماراتية

alManahj.com/ae

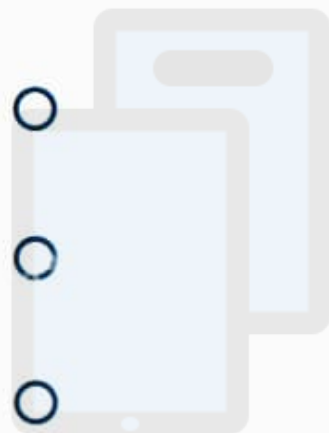
أي مما يلي يُشير إليه الشكل أدناه؟



alManahj.com/ae

a. مرآة مقعرة

b. مرآة محدبة



تم تحميل هذا الملف من
موقع المناهج الإماراتية

alManahj.com/ae

a. مرآة مقعرة

b. مرآة محدبة

c. عدسة محدبة

d. عدسة مقعرة