

تم تحميل هذا الملف من موقع المناهج الإماراتية



ملزمة مهارات قراءة النصوص والصور والخرائط والجداول والأشكال

موقع المناهج ← المناهج الإماراتية ← الصف الخامس ← اجتماعيات ← الفصل الأول ← ملفات متنوعة ← الملف

تاريخ إضافة الملف على موقع المناهج: 2024-12-15 16:16:10

ملفات اكتب للمعلم اكتب للطالب الاختبارات الكترونية | اختبارات | حلول | عروض بوربوينت | أوراق عمل
منهج انجليزي | ملخصات وتقارير | مذكرات وبنوك | الامتحان النهائي للمدرس

المزيد من مادة
اجتماعيات:

إعداد: مدرسة الطيبت

التواصل الاجتماعي بحسب الصف الخامس



الرياضيات



اللغة الانجليزية



اللغة العربية



التربية الاسلامية



المواد على تلغرام

صفحة المناهج
الإماراتية على
فيسبوك

المزيد من الملفات بحسب الصف الخامس والمادة اجتماعيات في الفصل الأول

مراجعة مهارية استعداداً للامتحان

1

أسئلة الامتحان النهائي القسم الورقي للعام 2024-2025

2

نموذج اختبار نهائي وفق الهيكل الوزاري

3

نموذج اختبار تجريبي وفق الهيكل الوزاري

4

حل مراجعة اختبار وفق الهيكل الوزاري

5



مذكرة مهارات مادة الدراسات الاجتماعية للحلقة الثانية

مهارات قراءة
النصوص والصور والخرائط

اقرأ الصورة والنص المصاحب لها ثم أجب عن الأسئلة التي تليه :



الحضارة البابلية :

تقع بابل على ضفاف نهر الفرات، وهي أكبر مدن العالم القديم، وعاصمة الإمبراطورية البابلية.

(بابل تعني بوابة الإله)

يعتبر حمورابي أعظم ملوك بابل، طور مدينة بابل القديمة، ونال محبة شعبه، لعدالة حكمه وحسن إدارته.

من إنجازاته أنه عدل النظام القضائي فسميت القوانين الجديدة بشرعية (قوانين) حمورابي، حيث سجل قوانينه المكتوبة باللغة البابلية على مسلة كبيرة مصنوعة من حجر الديورايت الأسود.

1 - يتحدث النص عن الحضارة

- أ - الفارسية.
ب - البابلية.
ج - الفرعونية.
د - الخليج العربي.

2 - تقع بابل على ضفاف نهر

- أ - الفرات.
ب - دجلة.
ج - النيل.
د - الأمازون.

3 - يعتبر حمورابي أعظم ملوك

- أ - سومر.
ب - الحضارة الفينيقية.
ج - بابل.
د - آشور.

4 - سجل حمورابي قوانينه على مسلة مصنوعة من

- أ - المعدن.
ب - الخشب.
ج - الزجاج.
د - حجر الديورايت الأسود.

5 - سميت حضارة بلاد الرافدين لأنها تقع بين نهري

- أ - دجلة والفرات.
ب - النيل والنيجر.
ج - الراين والأمزون.
د - الدانوب و العاصي.

6 - حمورابي ملك نال محبة شعبة لـ

- أ - لعدالته.
ب - حكمه.
ج - لحسن إدارته.
د - جميع ما سبق.

7 - ما معنى بابل؟

- أ - بوابة الإله.
ب - قرص الشمس.
ج - إله الأرض.
د - معبد الآلهة.

8 - قوانين حمورابي مكتوبة

- أ - باللغة العربية.
ب - باللغة المسمارية.
ج - باللغة البابلية.
د - باللغة الهيروغليفية.

اقرأ النص وأجب عن الأسئلة التي تليه :

تصارعت الدول الاستعمارية للسيطرة على منطقة الخليج العربي، وأول استعمار وصل للمنطقة هو الاستعمار البرتغالي، وكان هدفهم من القدوم احتكار تجارة الشرق بغرض سيطرتهم على سواحل شبه الجزيرة العربية والتوغل في منطقة الخليج العربي والبحر الأحمر، وشجعهم على ذلك التفكك السياسي الذي كان سائد في المنطقة آنذاك.

وفي عام 1507م استولى ألبوكيرك على جزيرة سوقطرة، لتصبح قاعدة برتغالية، ومن ثم حول كل اهتمامه إلى هرمز، التي تسيطر على مدخل الخليج العربي، بعد أن سيطر البرتغاليون على عدة موانئ ومدن تجارية هامة في الخليج، مثل : جلفار (رأس الخيمة)، بالإضافة إلى المدن الساحلية خورفكان ودبا، وقد لقيت مدينة خورفكان مصيراً قاسياً فقد تم حرقها، بحيث لم يتبق فيها أي مبانٍ قائمة.

1 - أول استعمار وصل لمنطقة الخليج هو الاستعمار

- أ - البريطاني .
ب - الفرنسي .
ج - البرتغالي .
د - الهولندي .

2 - كان هدف الدول الاستعمارية :

- أ - الاحتلال دون هدف.
ب - احتكار تجارة الشرق.
ج - زعزعة الأمن.
د - ليس شيء مما ذكر.

3- هو الذي شجع البرتغاليين على سهولة الدخول للمنطقة .

- أ - الوحدة والترابط.
ب - كثرة الأسلحة.
ج - قوة عرب الخليج.
د - التفكك السياسي.

4 - جلفار اسم يطلق على رأس الخيمة قديماً .

- أ - صح .
ب - خطأ .

- 5 - جزيرة تم ذكرها في النص واتخذتها البرتغال قاعدة لجنودها.
- أ - جزيرة طناب الكبرى.
- ب - جزيرة طناب الصغرى.
- ج - جزيرة سوقطرة.
- د - جزيرة أبو موسى.

6 - اسم قائد الحملات البرتغالية هو

- أ - هتلر.
- ب - ألبوكيرك.
- ج - نلسون.
- د - أديسون.

7 - سيطر البرتغاليون على عدة مدن وموانئ في الخليج العربي منها :

- أ - جلفار.
- ب - دبا.
- ج - خورفكان.
- د - جميع ما سبق.

8 - هي المدينة التي لاقت أشد أنواع التعذيب من قبل البرتغاليين.

- أ - دبا.
- ب - هرمز.
- ج - خورفكان.
- د - جلفار.

9 - هرمز هو مضيق يربط بين :

- أ - الخليج العربي وبحر عمان.
- ب - بحر العرب والبحر الأحمر.
- ج - البحر الأحمر و البحر المتوسط.
- د - بحر عمان وخليج عدن.

10 - استولت بريطانيا على جزيرة سوقطرة في عام 1507م.

- أ - صح.
- ب - خطأ

اقرأ الصورة والنص المصاحب لها ثم أجب عن الأسئلة التي تليه :



1 - يعد مجمع محمد بن راشد للطاقة

الشمسية أكبر مجمع على مستوى.....

أ - الدولة.

ب - العالم.

ج - الوطن العربي.

د - الشرق الأوسط.

2 - يمر مشروع الطاقة بـ :

أ - مرحلتين.

ب - ثلاث مراحل.

ج - أربع مراحل.

د - خمس مراحل.

3 - مصدر المعلومات :

أ - هيئة كهرباء ومياه الشارقة.

ج - هيئة كهرباء ومياه أبوظبي.

ب - هيئة كهرباء ومياه رأس الخيمة.

د - هيئة كهرباء ومياه دبي.

4 - الصحيفة التي أعلنت هذا الموضوع :

أ - الاتحاد.

ج - البيان.

ب - الخليج.

د - زهرة الخليج.

5 - يبدأ التشغيل للمرحلة الثالثة في

- أ - عام 2013 م.
ب - عام 2017 م.
ج - عام 2018 م.
د - عام 2020 م.

6 - في أي عام وضع حجر الأساس لمشروع الطاقة في المرحلة الثانية؟

- أ - عام 2013 م.
ب - عام 2015 م.
ج - عام 2017 م.
د - عام 2020 م.

7 - من فوائد هذا المشروع :

- أ - تخفيض نسبة انبعاث غاز ثاني أكسيد الكربون.
ب - ليس له فوائد.
ج - يزيد نسبة غاز ثاني أكسيد الكربون.
د - جميع ما سبق.

8 - بلغت القدرة الإنتاجية في عام 2021 م :

- أ - 300 ميغاوات.
ب - 200 ميغاوات.
ج - 800 ميغاوات.
د - 5000 ميغاوات.

9 - في أي عام اكتملت جميع أقسام مركز البحوث والتطوير:

- أ - 2030 م.
ب - 2020 م.
ج - 2017 م.
د - 2015 م.

10 - يعتبر أكبر مشروع للطاقة الشمسية المركزة في العالم بنظام المنتج المشترك.

- أ - صح.
ب - خطأ.

اقرأ الصورة والنص المصاحب لها ثم أجب عن الأسئلة التي تليه :



1 - الإمارات تحتل المركز

عالمياً باحتياطي النفط والغاز.

أ - الأول.

ب- الرابع.

ج - السادس.

د - السابع.

2- تبلغ حصة الإمارات من احتياطيات النفط العالمية :

أ - 10 %.

ب- 7.6 %.

ج - 7 %.

د - 1.5 %.

3 - أرتفع احتياطي النفط في الإمارات ليصل إلى :

أ - 105 مليار برميل.

ج - 7 مليار برميل.

ب - 1381.5 مليار برميل.

د - ليس مما ذكر.

4 - الصورة تتحدث عن احتياطي النفط والغاز.

أ - صح.

ب - خطأ.

اقرأ النص وأجب عن الأسئلة التي تليه :

متحف ساروق الحديد الأثري :

يعد متحف ساروق الحديد في إمارة دبي ملتقى الأصالة والحداثة، ويضم (890) قطعة أثرية من ضمن (12) ألف قطعة تم اكتشافها في موقع ساروق الحديد، والذي يحتوي على مكتشفات أثرية وتعود إلى قبل (4000) عام.

إن متحف ساروق الحديد الذي افتتحه صاحب السمو الشيخ محمد بن راشد آل مكتوم، نائب رئيس الدولة، رئيس مجلس الوزراء، حاكم دبي - رعاه الله - في دبي، يمثل حقبةً من تاريخ أبناء الإمارات، كما أنه يقترب من المستقبل بجعل ساروق الحديد شعاراً لإكسبو 2020 م.

- 1 - يقع متحف ساروق الحديد في إمارة
 - أ - أبوظبي.
 - ب - دبي.
 - ج - الشارقة.
 - د - الفجيرة.
- 2 - بلغ عدد القطع الأثرية المكتشفة في موقع ساروق الحديد :
 - أ - 890 قطعة أثرية.
 - ب - 4000 قطعة أثرية.
 - ج - 12 ألف قطعة أثرية.
 - د - 2020 قطعة أثرية.
- 3 - عنوان الفقرة هو :
 - أ - المتحف الأثري.
 - ب - متحف المستقبل.
 - ج - متحف ساروق الحديد.
 - د - متحف ساروق الحديد الأثري.
- 4 - من الذي افتتح متحف ساروق الحديد الأثري؟
 - أ - الشيخ محمد بن راشد حفظه الله.
 - ب - الشيخ محمد بن زايد حفظه الله.
 - ج - الشيخ زايد بن سلطان رحمه الله.
 - د - الشيخ سلطان القاسمي حفظه الله.

اقرأ الصورة والنص المصاحب لها ثم أجب عن الأسئلة التي تليه :



1 - ما المنصب الذي يتولاه الشيخ محمد بن

زايد حفظه الله حالياً

أ - رئيس دولة الإمارات.

ب - نائب رئيس دولة الإمارات.

ج - ولي عهد أبوظبي.

د - رئيس أركان.

2 - يعد أول رئيس في تاريخ البلاد :

أ - صح. ب - خطأ.

3 - المدينة التي ولد فيها هي مدينة

أ - أبوظبي.

ب - دبي.

ج - العين.

د - رأس الخيمة.

4 - تخرج من أكاديمية ساندهيرست العسكرية الملكية في المملكة المتحدة عام

أ - 1961 م.

ب - 1979 م.

ج - 2005 م.

د - 1971 م.

اقرأ جدول الحملات وأجب عن الأسئلة التي تليه :

حملة 1819م	حملة 1809م	حملة 1805م
<p>أسبابها: معاودة القواسم لنشاطهم البحري، وتدعيم مركزهم على سواحل الخليج العربي.</p> <p>أهدافها: تحطيم قوة القواسم البحرية.</p> <p>النتائج: انتهت الحملة بإجبار شيخ المنطقة على توقيع معاهدة السلام العامة 1820م.</p>	<p>أسبابها: عاود القواسم نشاطهم البحري ضد السفن البريطانية و السفن المتحالفة معها.</p> <p>أهدافها:</p> <ol style="list-style-type: none"> 1. تدمير القوة البحرية للقواسم. 2. احتلال رأس الخيمة باعتبارها أقوى معاقل القواسم. 3. اختيـار جزيرة مناسبة في الخليج العربي لتصبح قاعدة بحرية لهم. <p>نتائجها: عجزت الحملة عن إلحاق ضربة قاصمة بالقواسم.</p>	<p>أسبابها: اتخذت بريطانيا من مهاجمة القواسم لبعض السفن الإنجليزية وأسرها سبباً لحملتهم.</p> <p>أهدافها: فرض سيطرتها الاستعمارية على الخليج العربي بالقوة الحربية.</p> <p>النتائج: وقع القواسم معاهدة تعهدوا فيها باحترام السفن التي تحمل الراية البريطانية.</p>

- 1 - عنوان الجدول هو
 أ - الحملات البريطانية ضد القواسم.
 ب - البريطانيين.
 ج - القواسم.
 د - القوات المتصارعة.
- 2 - بلغ عدد الحملات البريطانية
 أ - 3 حملات.
 ب - 4 حملات.
 ج - 5 حملات.
 د - 6 حملات.
- 3 - تعتبر قوة القواسم قوة
 أ - برية.
 ب - جوية.
 ج - بحرية.
 د - أرض جو.
- 4 - احتلال رأس الخيمة كان هدف من أهداف حملة
 أ - 1805 م.
 ب - 1809 م.
 ج - 1819 م.
 د - 1971 م.

5 - وقع شيوخ الخليج مع بريطانيا معاهدة السلام العامة في عام
أ - 1805 م.
ب - 1820 م.

ج - 1805 م.
د - 1819 م.

6 - بدأت أول حملة بريطانية ضد عرب الخليج عام

أ - 1802 م.
ب - 1819 م.

ج - 1809 م.
د - 1805 م.

7 - الهدف من حملة 1805 م هو فرض السيطرة على الخليج العربي بالقوة الحربية.

أ - صح.
ب - خطأ.

8 - في الحملة الثانية تمكنت بريطانيا من القضاء على قوة القواسم وتحقيق أهدافها الاستعمارية.

أ - صح.
ب - خطأ.

9 - أي من الحملات التي ارتبطت عرب الخليج فيها بمعاهدة مع البريطانيين.

أ - الأولى والثانية.
ب - الأولى فقط.

ج - الثانية والثالثة.
د - الأولى والثالثة.

10 - جميع القيم المستخرجة من الجدول سلبية ما عدا:

أ - الاستعمار.
ب - الهجوم.

ج - التحالف.
د - التدمير.

اقرأ النص وأجب عن الأسئلة التي تليه :

عاش الإنسان منذ ملايين السنين وكون له حضارات عريقة (فالحضارة هي كل جهد يقوم به الإنسان لتحسين ظروف حياته)، فلا تقوم الحضارة إلا إذا توفرت عواملها (ماء، تربة خصبة، مناخ مناسب، موقع استراتيجي)، كما نشأت في الوطن العربي العديد من الحضارات منها حضارة بلاد الرافدين أطلق عليها هذا الاسم نسبة لتكونها على ضفاف نهري دجله والفرات، وأهم إنجازاتها الكتابة المسمارية، أما حضارة وادي النيل فتميزت بالزراعة واستخدام اللغة الهيروغليفية، ومن الحضارات والممالك التي نشأت في شمال شبه الجزيرة العربية مملكة الأنباط وعاصمتها مدينة البتراء في الأردن، حيث لقبتم البتراء بالمدينة الوردية، ومن الممالك التي نشأت في جنوب شبه الجزيرة العربية مملكة سبأ التي اشتهرت ببناء السدود أهمها سد مأرب في اليمن.

1 - الحضارة هي كل جهد يقوم به الإنسان لتحسين ظروف حياته.

أ- صح. ب- خطأ.

2 - استكمل عوامل نشوء الحضارات (ماء،، مناخ مناسب، موقع استراتيجي).

أ- جبال. ب- هواء.
ج - صخور. د - تربة خصبة.

3 - سميت بحضارة بلاد الرافدين لأنها تكونت على ضفاف

أ- نهري دجله والفرات. ب - نهر النيل.
ج - نهر الأمازون. د - نهر الراين.

4- لقبتم البتراء ب-

أ - المدينة البيضاء. ب - المدينة الوردية.
ج - المدينة الصفراء. د - المدينة الخضراء.

5 - من أهم إنجازات حضارة بلاد الرافدين الكتابة الهيروغليفية:

أ - صح. ب - خطأ.

- 6 - مملكة نشأت في جنوب شبه الجزيرة العربية واشتهرت ببناء السدود وأهمها سد مأرب .
أ - مملكة الأنباط.
ب- مملكة معين.
ج - مملكة سبأ.
د - مملكة حمير.

- 7 - استنتج القيمة الإيجابية من بين البدائل التالية :
أ - العمل.
ب - البناء.
ج - الإنجاز.
د - جميع ما ذكر.

- 8 - تقع مدينة البتراء في
أ - مصر .
ب - العراق.
ج - الأردن.
د - السعودية.

- 9 - يقصد بحضارة جنوب شبه الجزيرة العربية، الحضارة التي نشأت في
أ - الخليج العربي.
ب - اليمن.
ج - مصر.
د - البحرين.


اقرأ الخريطة والنص المصاحب لها وأجب عن الأسئلة التي تليها :



حضارة وادي النيل : من أشهر الحضارات التي نشأت في الوطن العربي، تركزت على ضفاف نهر النيل، حيث تتوفر المياه والتربة الخصبة، اهتم المصريون بالزراعة واستخدموا الشادوف وهو وسيلة لرفع الماء من النهر، كما استخدموا وسائل عدة مثل المنجل والمحراث.

اهتم المصريون بالتقويم وعلم الفلك وجمعوا الأشهر في ثلاث فصول وهي (الفيضان، البذر، الحصاد).

- 1 - تدل الخريطة المصاحبة للنص على حضارة
 - أ - الخليج العربي.
 - ب - وادي الرافدين.
 - ج - وادي النيل.
 - د - بلاد الشام.
- 2 - تركزت هذه الحضارة على ضفاف نهر
 - أ - دجلة والفرات.
 - ب - دجلة.
 - ج - الفرات.
 - د - النيل.
- 3 - نشأت هذه الحضارة في
 - أ - العراق.
 - ب - مصر.
 - ج - بلاد الشام.
 - د - الخليج العربي.
- 4 - جمع المصريون الأشهر في فصول.
 - أ - ثلاثة.
 - ب - أربعة.
 - ج - خمسة.
 - د - ستة.



5 - الصورة تدل على احدى الوسائل التي استخدمها المصريون في الزراعة.

أ - المحراث.

ب - المنجل.

ج - الشادوف.

د - الحبال.

6 - حضارة وادي النيل من أشهر الحضارات التي نشأت في العراق.

أ - صح.

ب - خطأ.

7 - تتميز حضارة وادي النيل (حضارة مصر الفرعونية) بوجود :

أ - الكعبة.

ب - الأهرامات.

ج - السودان.

د - جميع ما ذكر.

اقرأ الصورة والنص المصاحب لها ثم أجب عن الأسئلة التي تليه :

الشهيد

سالم سهيل بن زعيل



يوم الشهيد 30 نوفمبر

قبر سالم سهيل

لقد قُتل الشرطي الأول سالم سهيل خميس مسنول المركز وقبره شاهد تاريخي، وقد كُرمت وزارة الداخلية أسرته عرفاناً بدفاعه عن جزيرة طنب، إحدى الجزر الإماراتية الثلاث المحتلة من قبل الإيرانيين

سالم بن زعيل

يعتبر أول شهيد في تاريخ دولة الإمارات العربية المتحدة أحد منتسبي شرطة رأس الخيمة المكلف بحراسة جزيرة طنب الكبرى التابعة لإمارة رأس الخيمة

يوم الشهيد

أمر الشيخ خليفة بن زايد آل نهيان رئيس دولة الإمارات العربية المتحدة بتحديد يوم 30 نوفمبر من كل عام يوماً رسمياً لجميع شهداء الدولة تحت اسم (يوم الشهيد) والذي يصادف مقتل سالم سهيل

حياته

ولد بإمارة رأس الخيمة منطقة المبيعي، انضم في البداية إلى فرقة الموسيقى العسكرية في الشارقة لينتقل بعدها إلى شرطة رأس الخيمة حيث تم تكليفه بحراسة مركز شرطة طنب الكبرى.

إستشهاده

في الساعة الخامسة والنصف من صباح يوم الثلاثاء 30 نوفمبر 1971 كان أفراد الشرطة الستة يترأسهم الشرطي الأول سالم سهيل خميس يقفون على أهبة الاستعداد لأداء تدريبات الصباح المعتادة أثناء ذلك لاحظ الشرطي المكلف بالحراسة وجود مدمرات حربية تدور حول الجزيرة

1 - أول شهيد إماراتي هو :

أ - الشهيد طارق الشحي.

ب - الشهيد سالم سهيل.

ج - الشهيد محمد البستكي.

د - الشهيد جمعة الكعبي.

2 - عنوان الصورة هو:

أ - يوم الاتحاد.

ب - يوم العلم.

ج - يوم العمل الإنساني.

د - يوم الشهيد.

3 - ولد سالم سهيل في :

أ - إمارة رأس الخيمة.

ب - إمارة عجمان.

ج - إمارة دبي.

د - إمارة الشارقة.

4 - استشهد سالم سهيل في

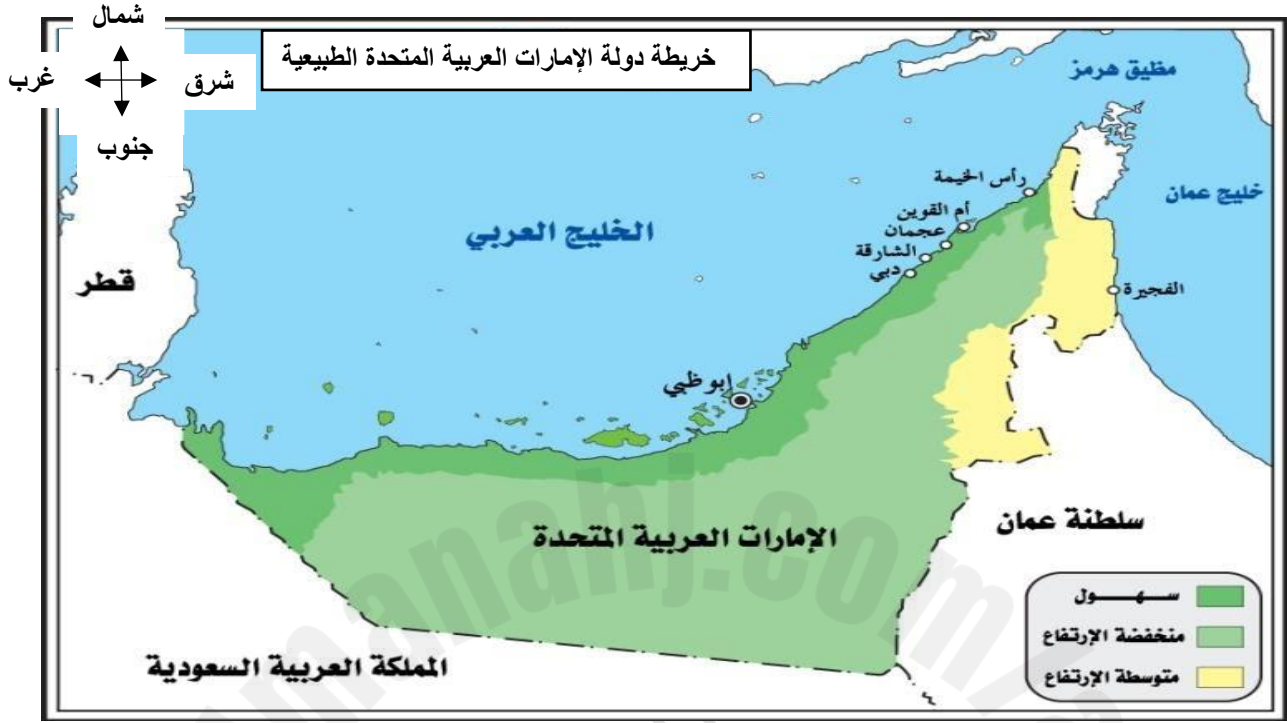
أ - 2 / ديسمبر / 1071م.

ج - 10 / فبراير / 1971م.

ب - 30 / نوفمبر / 1971م.

د - 25 / مايو / 1981م.

انظر للخريطة وأجب عن الأسئلة التي تليها :



- 1 - عنوان الخريطة هو
 - أ - السهول.
 - ب - خريطة سلطنة عمان.
 - ج - خريطة دولة الإمارات العربية المتحدة الطبيعية.
 - د - خريطة دولة قطر.
- 2- نوع الخريطة (خريطة طبيعية).
 - أ - صح.
 - ب - خطأ.
- 3 - عاصمة دولة الإمارات العربية المتحدة :
 - أ - المنامة.
 - ب - الدوحة.
 - ج - الرياض.
 - د - أبوظبي.

4 - ما الذي يحد دولة الإمارات من جهة الجنوب ؟

- أ - الخليج العربي.
ب - دولة قطر.
ج - سلطنة عمان.
د - المملكة العربية السعودية.

5 - تعد هذه الخريطة (خريطة طبيعية) والدليل على ذلك :

- أ - وجود السهول.
ب - حدود سياسية.
ج - تحديد العاصمة.
د - ليس مما سبق.

6 - تطل دولة الإمارات العربية المتحدة على مسطحين مائيين هما :

- أ - الخليج العربي والبحر الأحمر.
ب - الخليج العربي وبحر عمان.
ج - بحر عمان وخليج عدن.
د - بحر عمان وبحر العرب.

7 - تتكون دولة الإمارات من إمارات.

- أ - 6
ب - 7
ج - 8
د - 9

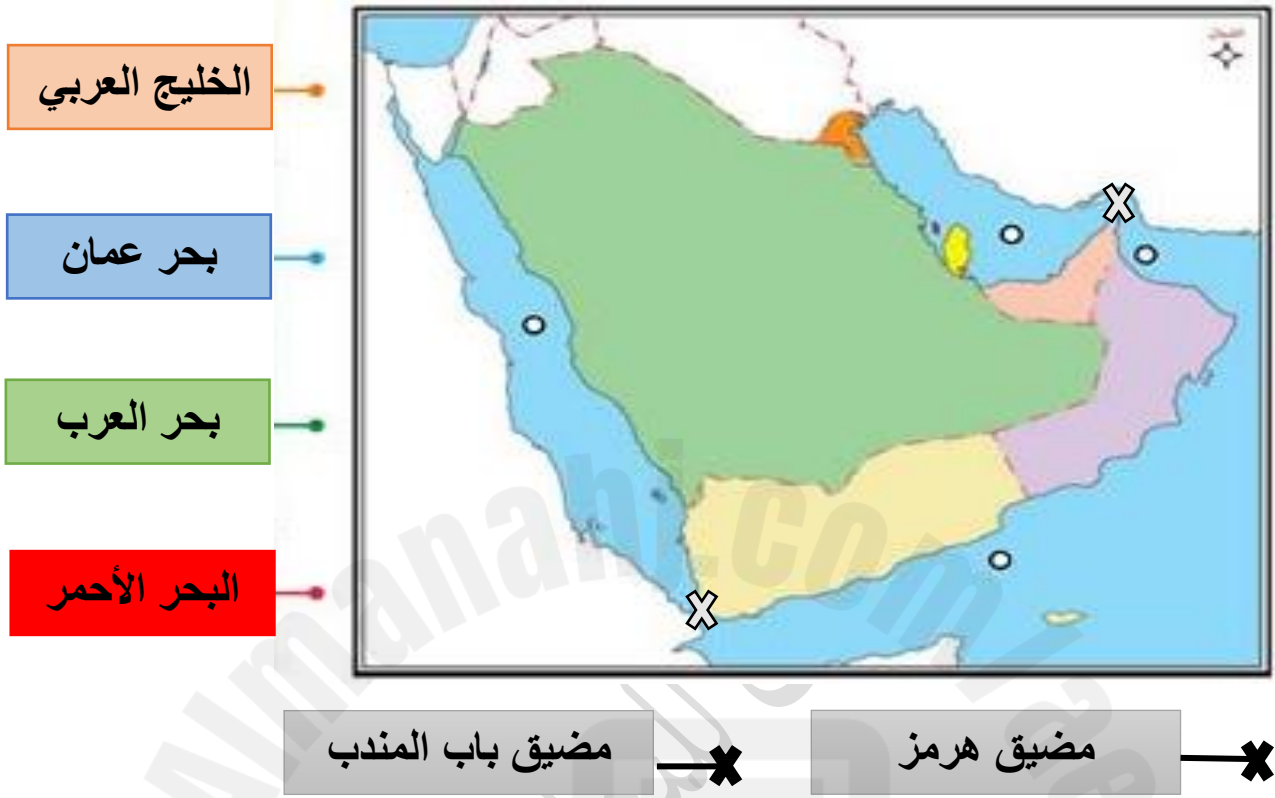
8 - إمارة من الإمارات الدولة تقع جهة الساحل الشرقي هي إمارة

- أ - دبي.
ب - عجمان.
ج - الفجيرة.
د - رأس الخيمة.

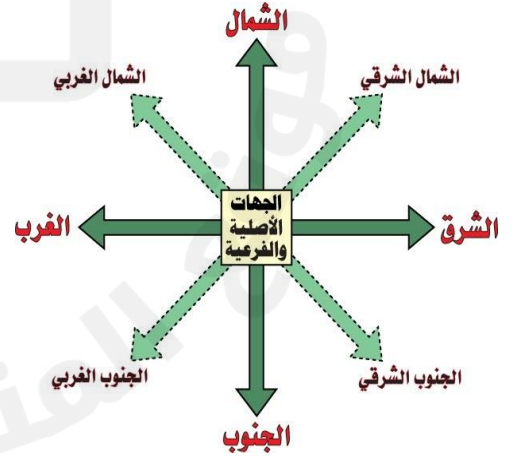
9 - مضيق يربط بين الخليج العربي وبحر عمان هو

- أ - مضيق هرمز.
ب - مضيق باب المندب.
ج - مضيق جبل طارق.
د - مضيق البسفور.

أمامك خريطة شبه الجزيرة العربية صل بين اسم المسطح المائي والمكان الدال عليه :



في النهاية أتمنى من الطلاب التركيز ومعرفة الجهات الأصلية والجهات الفرعية ..



انتهت الأسئلة موفقين بإذنه تعالى