

تم تحميل هذا الملف من موقع المناهج الإماراتية



أسئلة الامتحان النهائي القسم الورقي منهج بريدج العام 2024-2025

موقع المناهج ← المناهج الإماراتية ← الصف الخامس ← علوم ← الفصل الأول ← ملفات متنوعة ← الملف

تاريخ إضافة الملف على موقع المناهج: 2024-11-27 11:25:15

ملفات اكتب للمعلم اكتب للطالب | اختبارات الكترونية | اختبارات | حلول | عروض بوربوينت | أوراق عمل
منهج انجليزي | ملخصات وتقارير | مذكرات وبنوك | الامتحان النهائي | للمدرس

المزيد من مادة
علوم:

التواصل الاجتماعي بحسب الصف الخامس



صفحة المناهج
الإماراتية على
فيسبوك

الرياضيات

اللغة الانجليزية

اللغة العربية

التربية الاسلامية

المواد على تلغرام

المزيد من الملفات بحسب الصف الخامس والمادة علوم في الفصل الأول

حل أسئلة اختبار تجريبي وفق الهيكل الوزاري منهج بريدج

1

أسئلة اختبار تجريبي وفق الهيكل الوزاري منهج بريدج

2

حل أسئلة المراجعة النهائية الجزء الأول والثاني

3

أسئلة المراجعة النهائية الجزء الأول والثاني

4

حل أسئلة مراجعة استعداد للامتحان وفق الهيكل الوزاري منهج بريدج

5



امتحان نهاية الفصل الدراسي الأول 2025/2024 – الجزء الورقي

End of Term 1 Exam 2024 /2025 – Paper Part

رقم الطالب	Student Number
اسم الطالب	Student Name
المدرسة	School
الصف	Class
المسار	Stream
المادة	Subject
الخامس / 5	
العام / General	
العلوم / Science	
بريدج / Bridge	

This table must be filled in accurately by the marking committee

يملأ هذا الجدول بدقة تامة من قبل لجنة التقدير

المراجع Reviewer		المقّدر 2 Marker 2		المقّدر 1 Marker 1		رقم السؤال Question No.
الاسم	الدرجة	الاسم	الدرجة	الاسم	الدرجة	
Name	Mark	Name	Mark	Name	Mark	
						Q.(1)
						Q.(2)
						Q.(3)
						Q.(4)
						Q.(5)

المراجع Reviewer		المقّدر Marker		المجموع Total
التوقيع Signature	الاسم Name	التوقيع Signature	الاسم Name	
				40



N1DXB201371AR05GENSCIXT1P014



يحظر تصوير أو تداول الورقة الامتحانية قبل أو أثناء أو بعد الامتحان من خلال البريد الالكتروني أو وسائل التواصل الاجتماعي أو أي وسيلة أخرى ومن يخالف ذلك سيتخذ في حقه الإجراءات القانونية المتبعة.

- It is prohibited to photocopy or circulate the exam paper before / during and after the exam through e-mail, social media or any other means; and whoever violates this will be subject to the followed legal proceedings.
- School Administrations, Exam Committees and Marking Centers shall take this into account, monitor violations and take necessary measures.



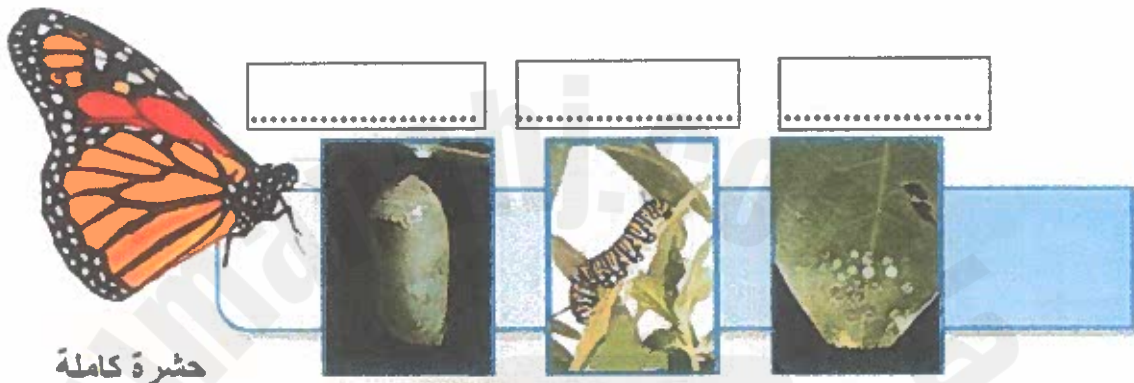
1

السؤال

الشكل المرفق يُبين دورة حياة الفراشة. ادرسه جيداً ثم أجب على الأسئلة التالية.

ا. املاً الفراغات على الرسم باستخدام المصطلحات في الجدول أدناه.

يرقة – شرنقة - البيض



حشرة كاملة

ا. ما نوع التحول الذي تمر به الفراشة؟

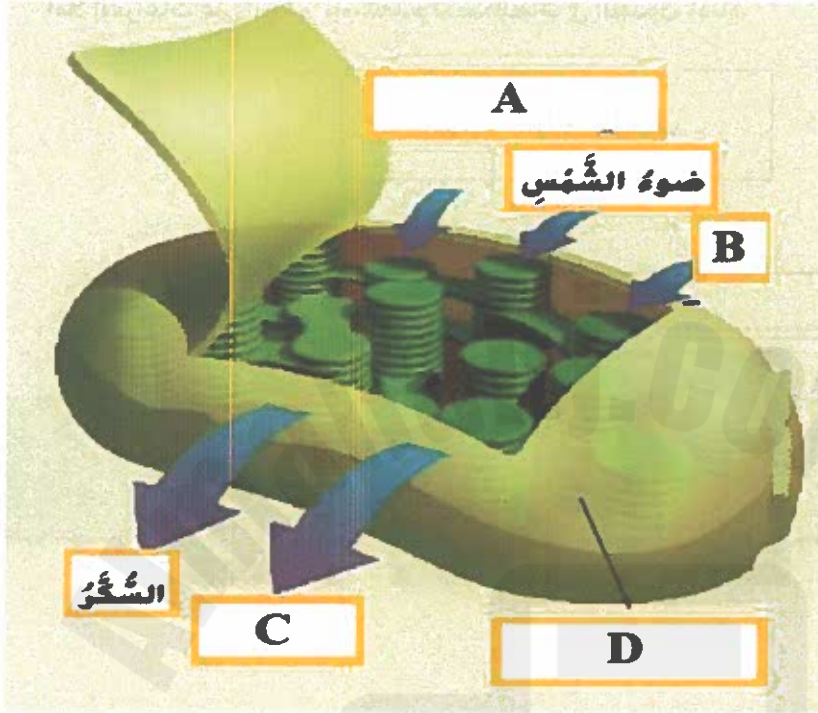


2

السؤال

أكمل العبارات التي تصف الشكل أدناه بأحد المصطلحات التالية:

الأكسجين - الماء - ثاني أكسيد الكربون - بلاستيكة خضراء - ورقة خضراء



- الحرف A يُمثل 2025
- الحرف B يُمثل
- الحرف C يُمثل
- الحرف D يُمثل



3

السؤال



للحيوانات طرائق تكيف تُساعدُها على البقاء على قيد الحياة في بيئات مُعينة.
طيور البوم، على سبيل المثال، لديها العديد من طرائق التكيف التي تُعزز نجاحها في الصيد.
صل طريقة تكيف طيور البوم في العمود (أ) مع الجزء الصحيح المسؤول عنه من العمود (ب).

عمود (ب)
الأذان
العيون
الأجنحة
السيقان

عمود (أ)
تمكنها من مطاردة الفرائس بسرعة.
تساعدُها لاقتناص الفريسة بدقة والتقاط فرائس أكبر.
تساعدُها على المطاردة و تزيد من قدرتها على تمييز مصادر الأصوات وتقدير المسافة.
تساعدُها على رؤية الفريسة الصغيرة في الظلام.




4

السؤال

الشكل المرفق يوضح سلسلة غذائية في البيئة.
املا الفراغات على الرسم باستخدام المصطلحات في الجدول المرفق.

المحلل - مستهلك أولي - المنتج - مستهلك ثانوي



5

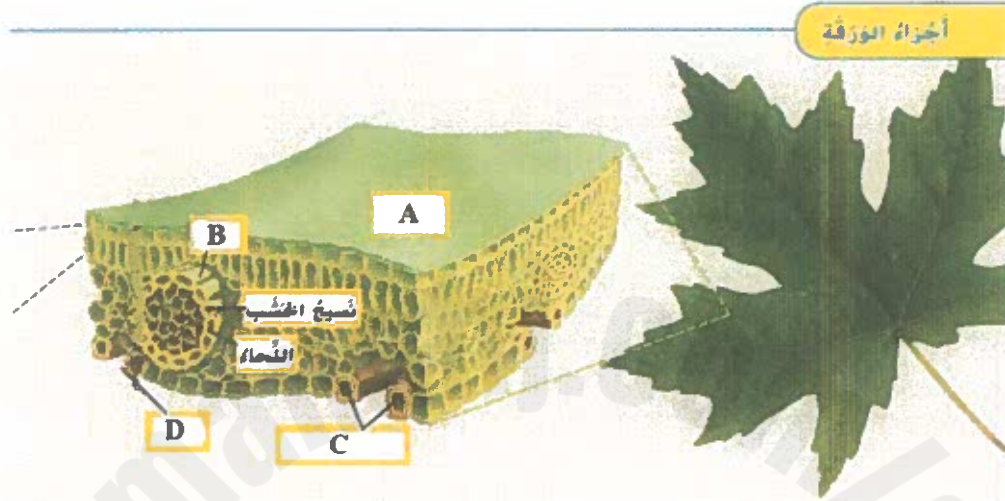
السؤال



الشكل يوضح أجزاء الورقة.

استخدم الشكل والمصطلحات التالية للإجابة على الأسئلة الآتية.

الخلايا الحارسة - العرق - القشرة - الثغور



- الحرف (A) يُمثل
- الحرف (B) يُمثل
- الحرف الذي يشير إلى الجزء المسؤول عن فتح الثغور وإغلاقها هو
- الحرف الذي يشير إلى الجزء المسؤول عن دخول ثاني أكسيد الكربون إلى النبات لتنفيذ عملية البناء الضوئي هو

انتهت الأسئلة





ورقة إضافية

ورقة إضافية

