

تم تحميل هذا الملف من موقع المناهج الإماراتية



almanahj.com

موقع
المناهج الإماراتية

*للحصول على أوراق عمل لجميع الصفوف وجميع المواد اضغط هنا

<https://almanahj.com/ae>

* للحصول على أوراق عمل لجميع مواد الصف الخامس اضغط هنا [5/ae/com.almanahj//:https](https://almanahj.com/ae/5)

* للحصول على جميع أوراق الصف الخامس في مادة اجتماعيات ولجميع الفصول, اضغط هنا [5social/ae/com.almanahj//:https](https://almanahj.com/ae/social/5)

* للحصول على أوراق عمل لجميع مواد الصف الخامس في مادة اجتماعيات الخاصة بـ الفصل الأول اضغط هنا

<https://almanahj.com/ae/5social1>

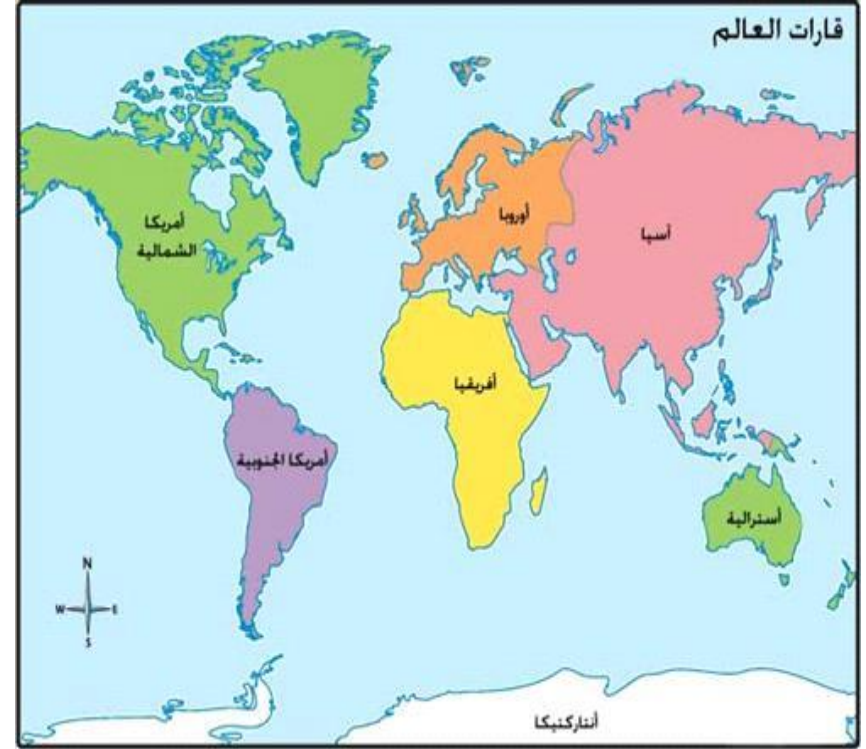
* لتحميل كتب جميع المواد في جميع الفصول للـ الصف الخامس اضغط هنا [grade5/ae/com.almanahj//:https](https://almanahj.com/ae/grade5)

للتحدث إلى بوت المناهج على تلغرام: اضغط هنا [bot_almanahj/me.t//:https](https://t.me/bot_almanahj)



المحيطات

- 1 المحيط الهادي
- 2 المحيط الهندي
- 3 المحيط الأطلسي



قارات العالم القديم

- 1 اسيا
- 2 افريقيا
- 3 أوروبا

قارات العالم

- 1 اسيا
- 2 افريقيا
- 3 أوروبا
- 4 أمريكا الشماليه
- 5 أمريكا الجنوبيه
- 6 استراليا



22 عدد دول الوطن العربي

12 من الدول العربية في الجناح الآسيوي

(المملكة العربية السعودية-الكويت-قطر-الامارات-البحرين-سلطنة عمان-اليمن-فلسطين-الأردن-لبنان-سوريا-العراق)

من الدول العربية في الجناح الأفريقي يبلغ عددها 10

(مصر-ليبيا-السودان-الجزائر-تونس-المغرب-موريتانيا-جيبوتي-الصومال-جزر القمر)



اهم محيطات والبحار في الوطن العربي

- ① المحيط الأطلسي
- ② المحيط الهندي
- ③ البحر المتوسط
- ④ البحر الأحمر
- ⑤ بحر العرب
- ⑥ بحر عمان
- ⑦ الخليج العربي



مضيق هرمز
يربط بين الخليج العربي وبحر عمان



اهم المضائق في الوطن العربي

- ① مضيق هرمز
- ② مضيق باب المندب
- ③ مضيق جبل طارق



مضيق باب المندب
يربط بين البحر الاحمر وبحر العرب



مضيق جبل طارق
يربط بين البحر المتوسط والمحيط الاطلسي

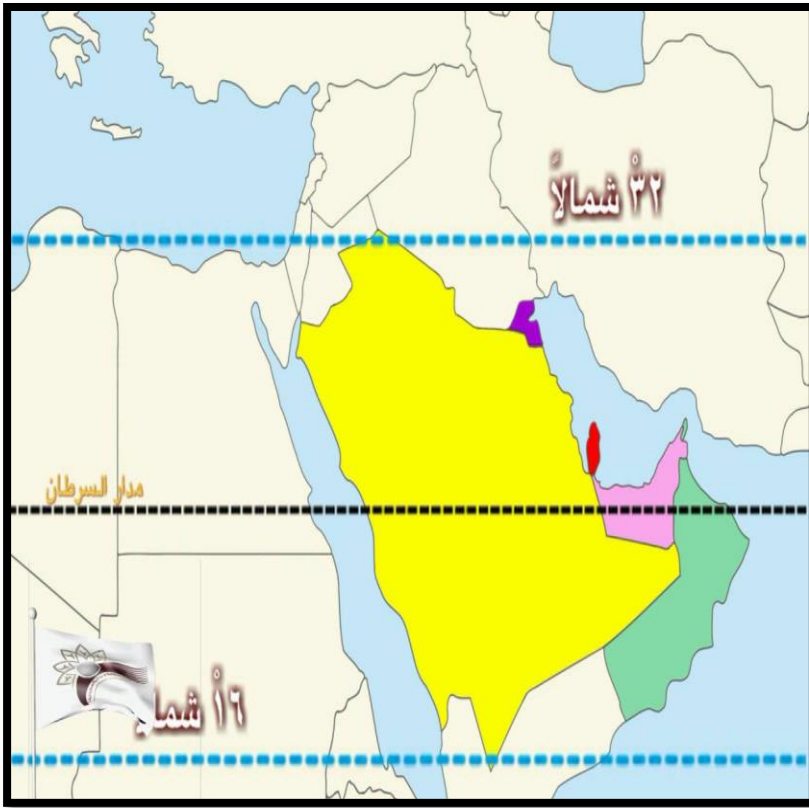


البحار والمحيطات في شبه الجزيرة العربية

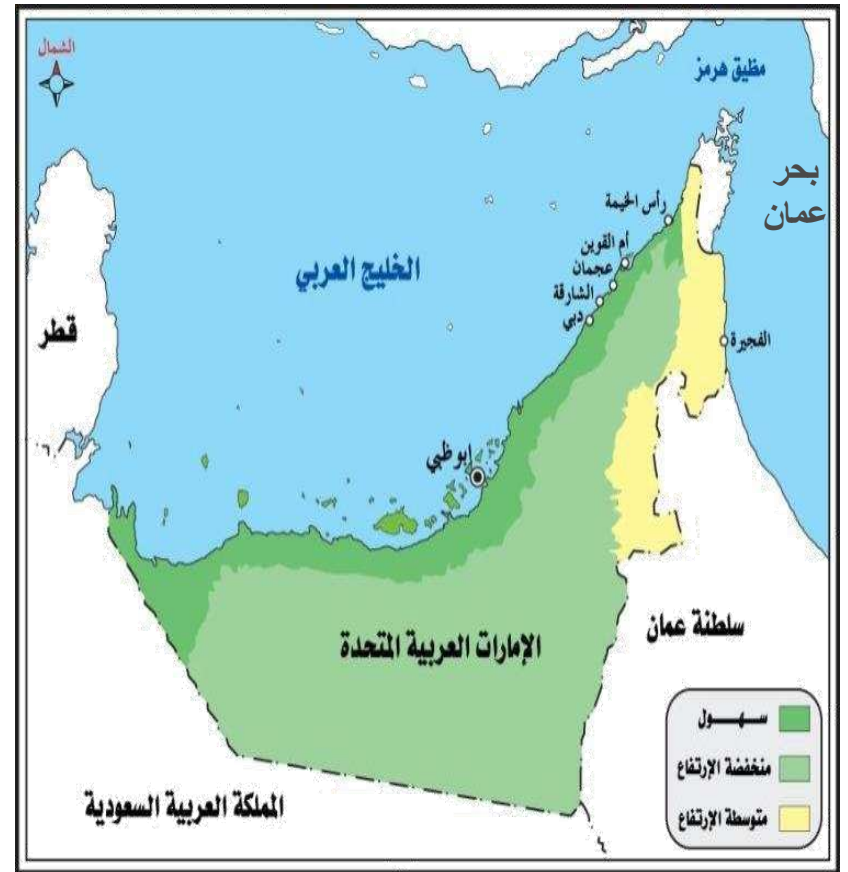
- ① المحيط الهندي
- ② الخليج العربي
- ③ بحر عمان
- ④ البحر الاحمر
- ⑤ بحر العرب
- ⑥ خليج عدن

دول شبه الجزيرة العربية

- ① دوله الامارات العربية المتحدة
- ② المملكة العربية السعودية
- ③ سلطنه عمان
- ④ اليمن
- ⑤ الكويت
- ⑥ مملكة البحرين
- ⑦ قطر



دائرة العرض الرئيسية التي تمر بدولة الإمارات ... مدار السرطان.....



- # ، تطل دولة الإمارات :
- الخليج العربي من جهة الشمال
 - بحر عمان من جهة الشرق
- # تقع المملكة العربية السعودية جنوب والجنوب الغربي الإمارات
- سلطنه عمان في شرق دوله الامارات.
- قطر تقع في غرب دوله الامارات

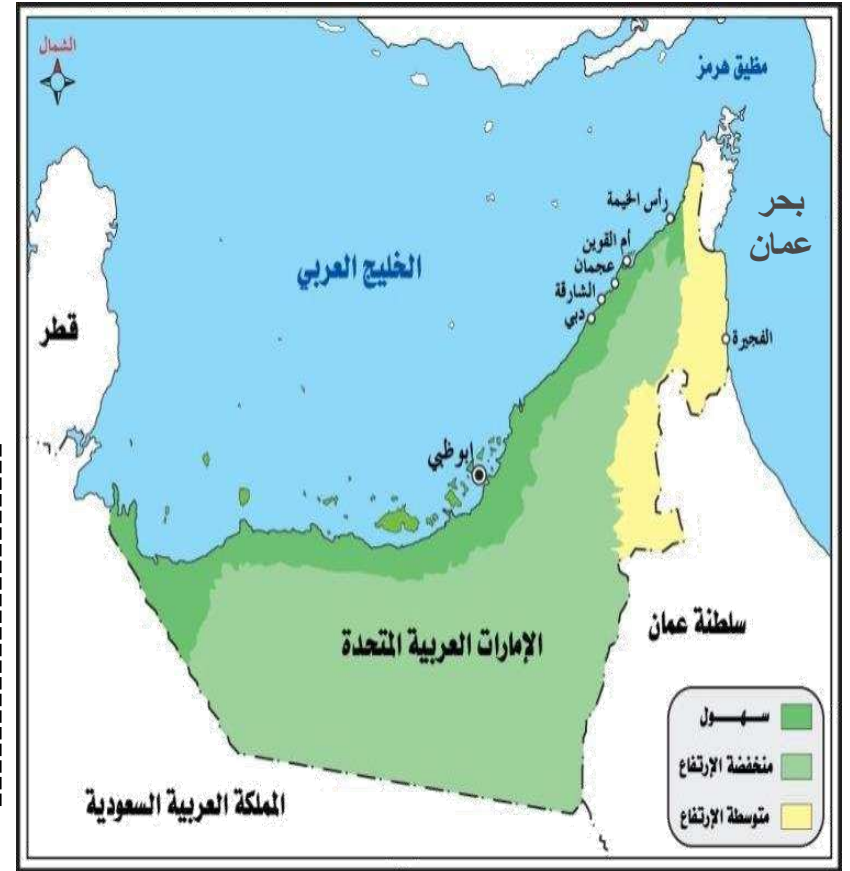
تبلغ مساحة الإمارات

83,600 كم²

تم إعلان قيام
دولة الإمارات في

2 ديسمبر 1971 م

- تقع دولة الإمارات في قلب العالم القديم.
- قارات العالم القديم هي آسيا و أفريقيا و أوروبا
- تقع دولة الإمارات في جنوب غرب قارة آسيا
- تقع دوله الامارات في شرق الوطن العربي
- تقع دوله الامارات في شرق شبه الجزيرة العربية
- تقع دوله الامارات في قاره آسيا



،، من خلال الخريطة التي أمامك حوط البحر والخليج
الذي تطل عليها دولة الإمارات ثم اكتبها :
- الخليج
- بحر
ارسم دائرة حول المضيق الموجود في الخريطة.

اكتب مدلاولات الأرقام :

1.قارة-----

2.قارة-----

3.قارة-----

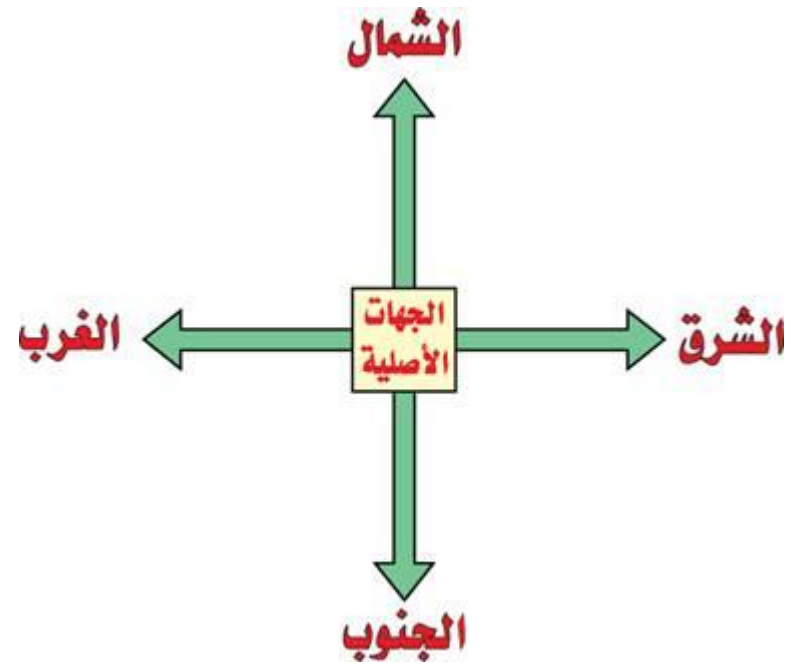
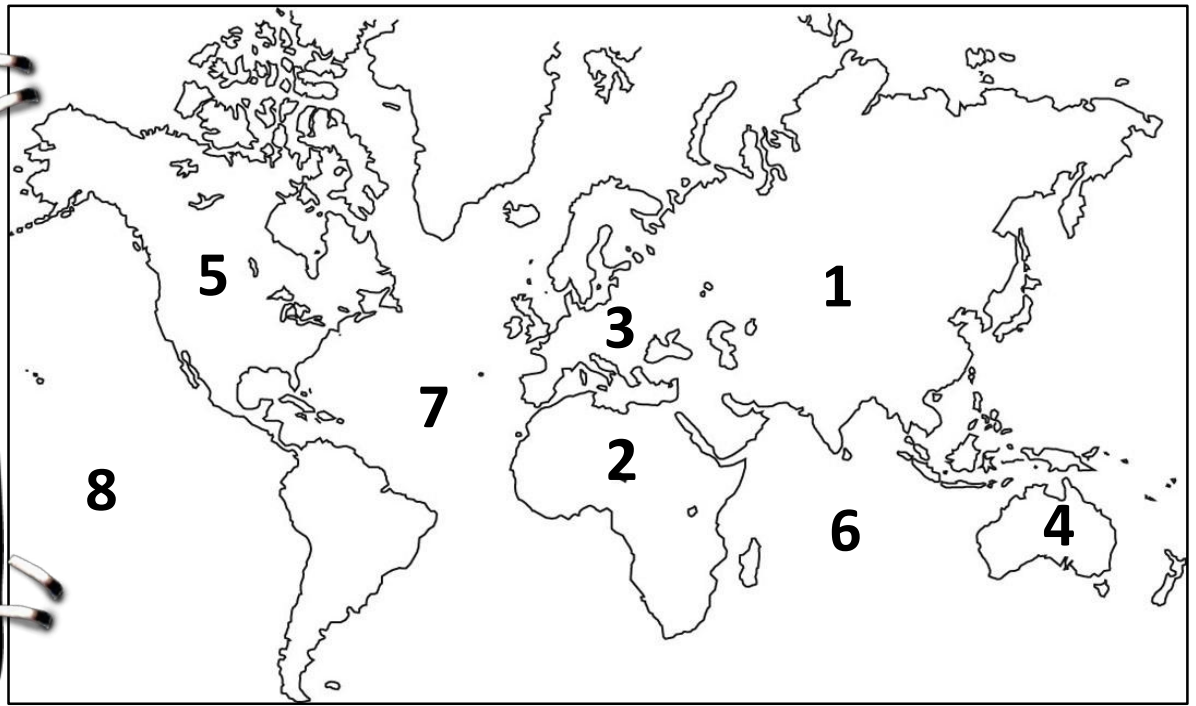
4.قارة-----

5.قارة-----

6.المحيط-----

7.المحيط-----

8.المحيط-----



تبلغ مساحة الإمارات

تم إعلان قيام
دولة الإمارات في

كم²

دائرة العرض الرئيسية التي تمر بدولة الإمارات

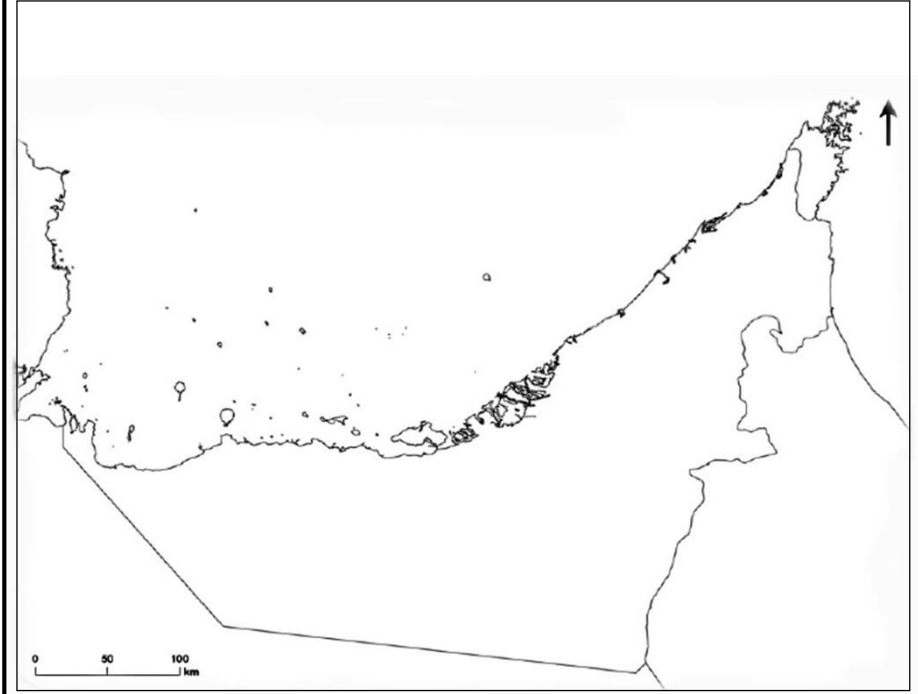


تقع دولة الإمارات في قارة
حوظ دولة الإمارات على الخريطة



تقع دولة الإمارات في الوطن العربي
لون دولة الإمارات على الخريطة

تقع دولة الإمارات في الجهة من شبه الجزيرة العربية
لون الإمارات على الخريطة



اكتب على الخريطة دول شبه الجزيرة العربية
اكتب المسطحات المائيه
اكتب المضائق المائيه

في الخريطة الصماء التي أمامك اكتب عليها
الدول المجاورة والمسطحات المائية
ودائرة العرض الرئيسة
ثم لون الخريطة

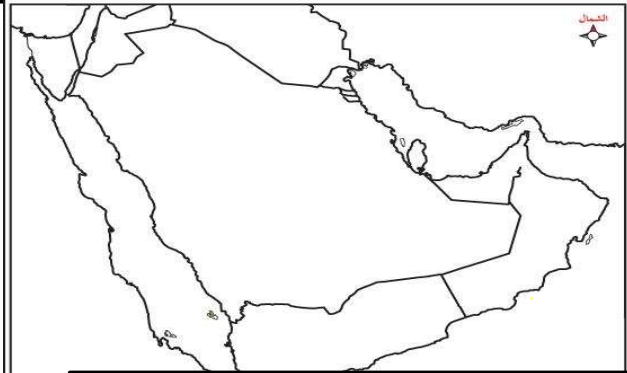


دول شبه الجزيرة العربية
اهم المضائق في شبه الجزيرة العربية



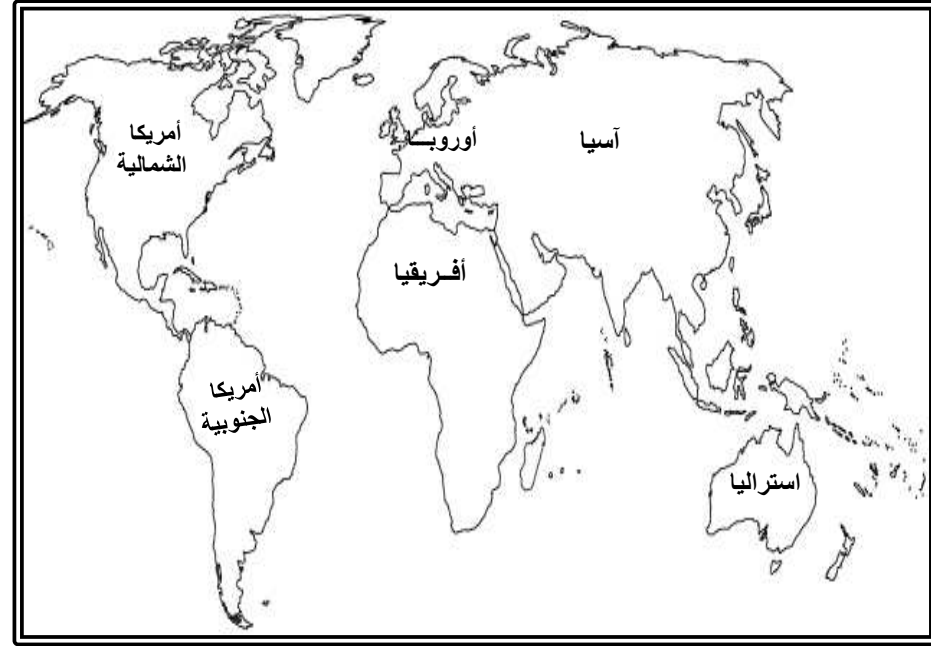
أقرأ خريطة ثم أستكمل الآتي

- تقع دولة الإمارات في الوطن العربي
- لون دولة الإمارات على الخريطة.



أقرأ خريطة ثم أستكمل الآتي

- تقع دولة الإمارات في الجهة من شبه الجزيرة العربية
- لون الإمارات على الخريطة



أقرأ خريطة ثم أستكمل الآتي

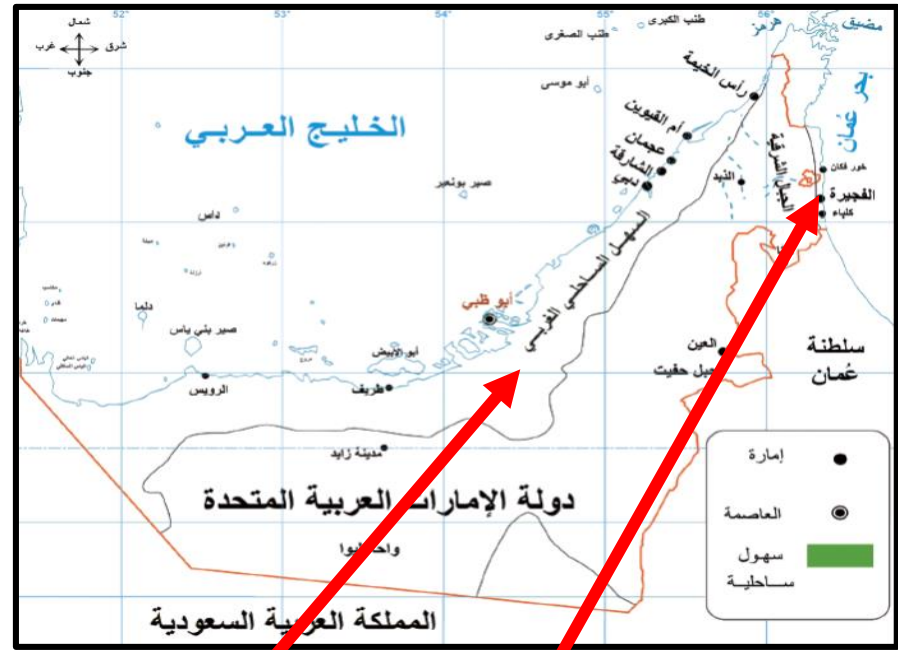
- تقع دولة الإمارات في العالم القديم.
- قارات العالم القديم هي و و
- تقع دولة الإمارات في جنوب غرب قارة
- حوط دولة الإمارات على الخريطة
- اكتب المحيطات التالية على الخريطة :
(المحيط الهادي - المحيط الهندي - المحيط الأطلسي - المحيط المتجمد الشمال)

أكمل الجدول أسفل الخريطة ولون المياه التي تطل عليها دولة الإمارات

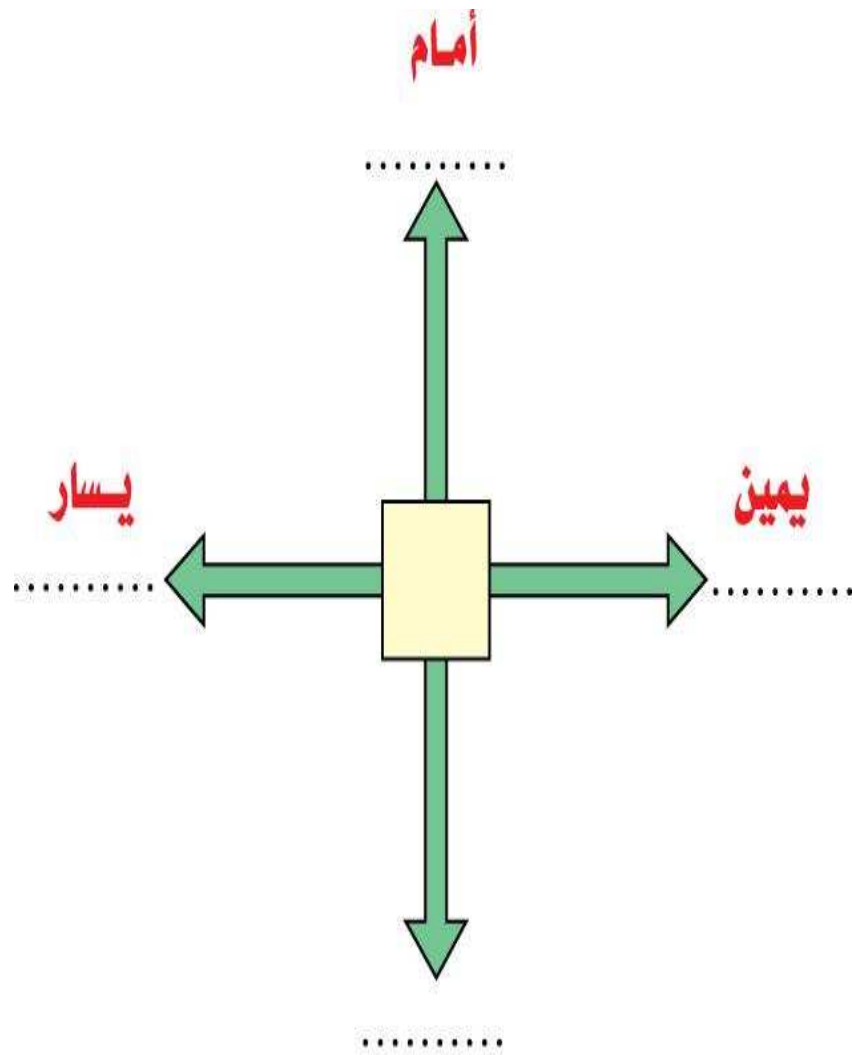
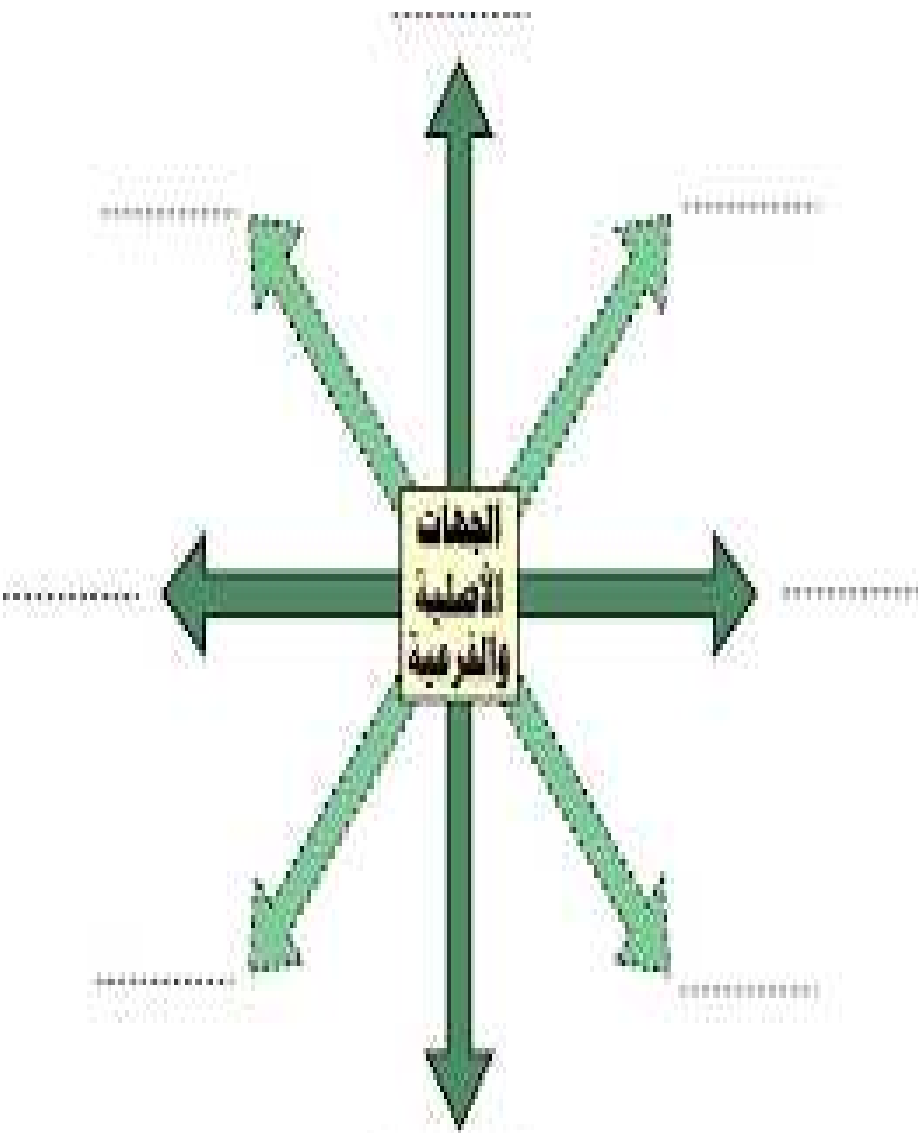


أوجه المقارنته	أنا السهل الساحلي	أنا السهل الساحلي
لون	على الخريطة	على الخريطة
الطول	-----	-----
العرض	-----	-----
اهم المدن	-----	-----
التعرج	-----	-----

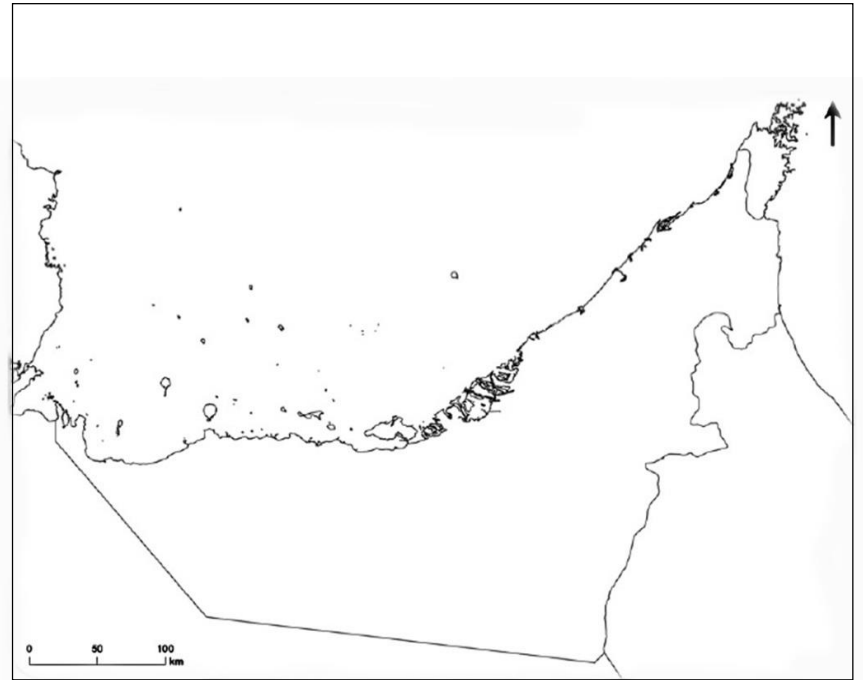
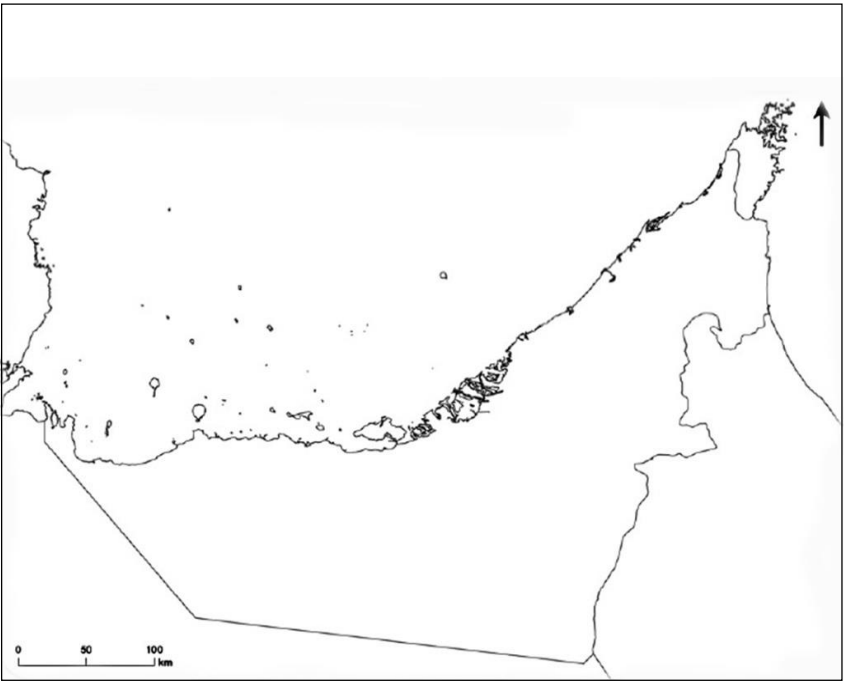
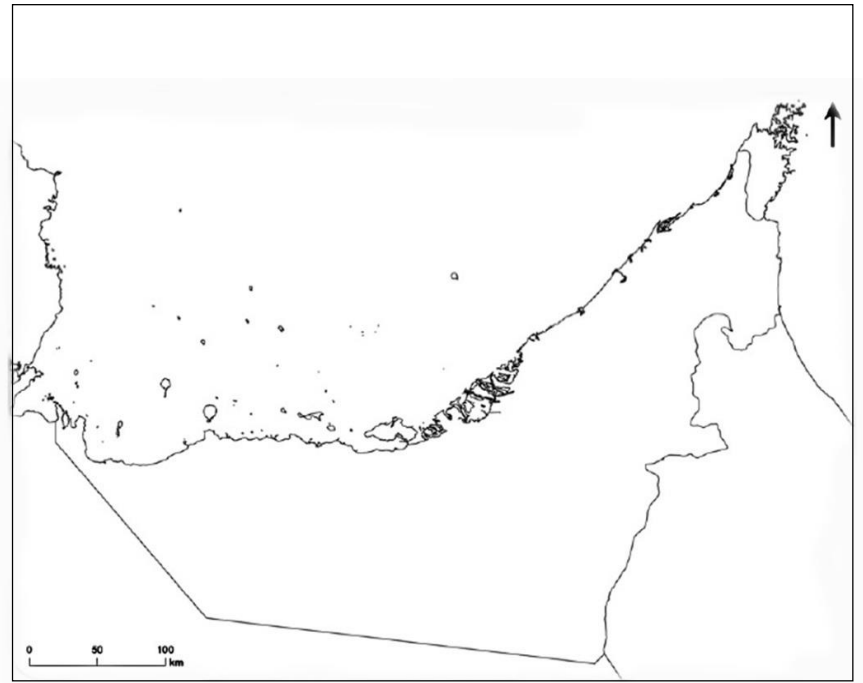
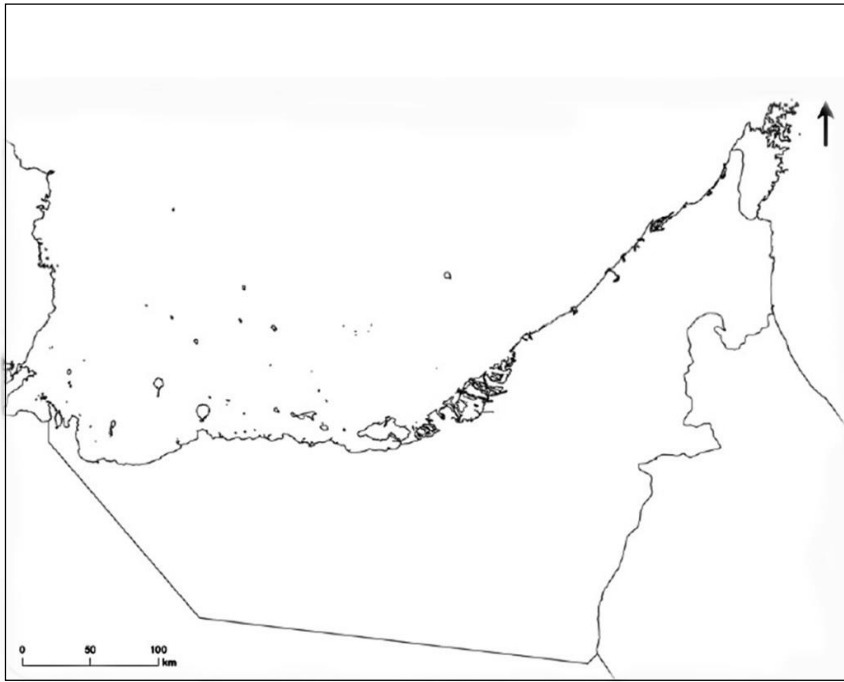
أكمل الجدول أسفل الخريطة ولون المياه التي تطل عليها دولة الإمارات



أوجه المقارنته	أنا السهل الساحلي الشرقي	أنا السهل الساحلي الغربي
لون	على الخريطة	على الخريطة
الطول	قصير	طويل
العرض	ضيق	واسع
اهم المدن	الفجيرة-خورفكان-كلبا	ابوظبي-دبي-الشارقة-عجمان-ام القيوين-راس الخيمة
التعرج	الاستقامة	كثيره التعرج - كثرة الجزر







القطب الشمالي ٩٠° شمالا

٦٦,٥° شمالا

الدائرة القطبية الشمالية

مدار السرطان

٢٣,٥° شمالا

الاستواء

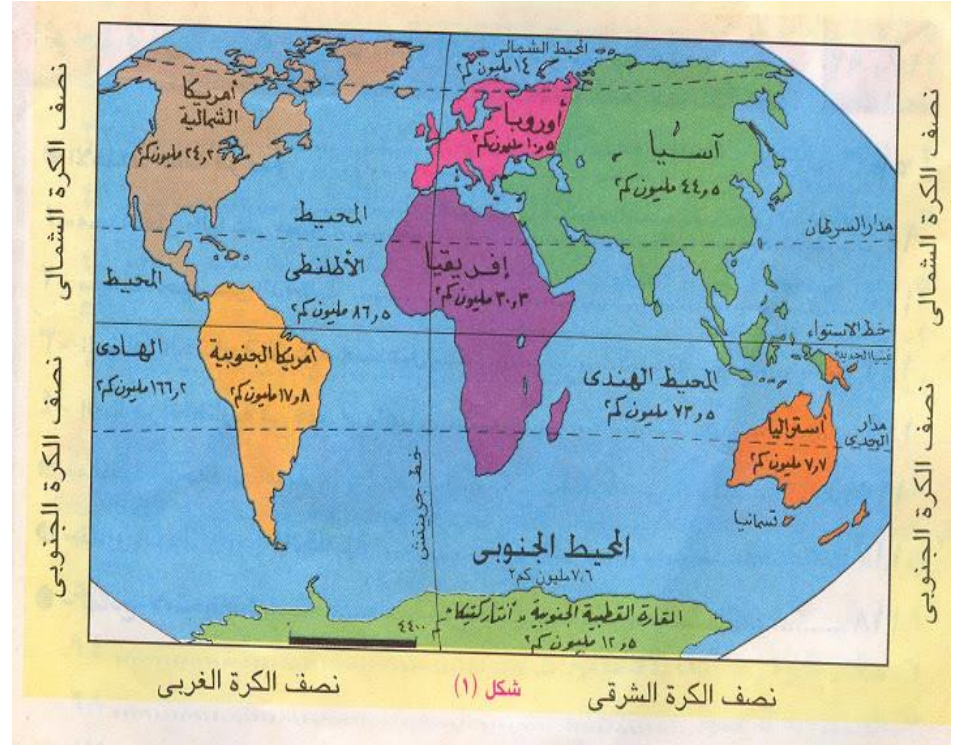
مدار الجدي

٢٣,٥° جنوبا

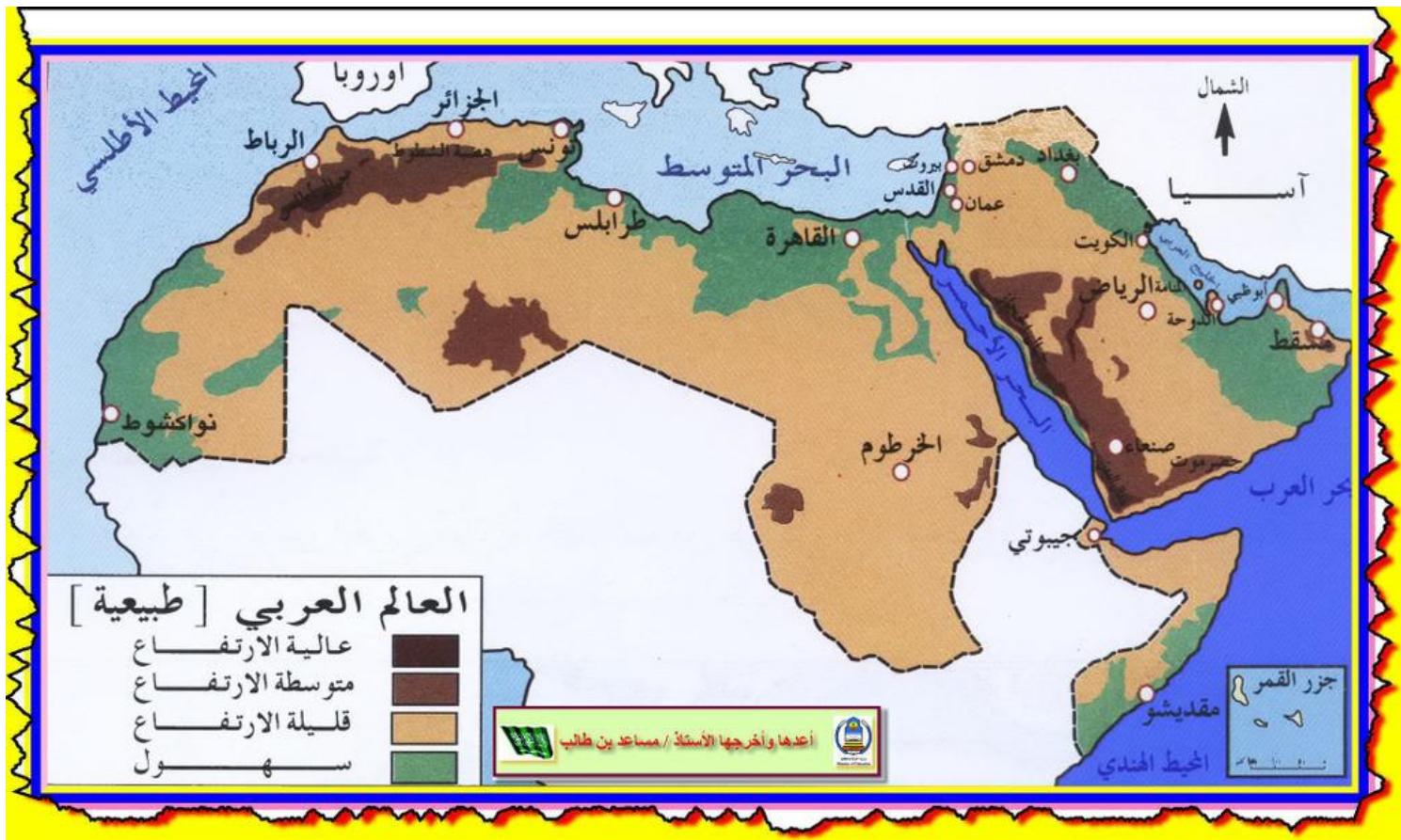
٦٦,٥° جنوبا

الدائرة القطبية الجنوبية

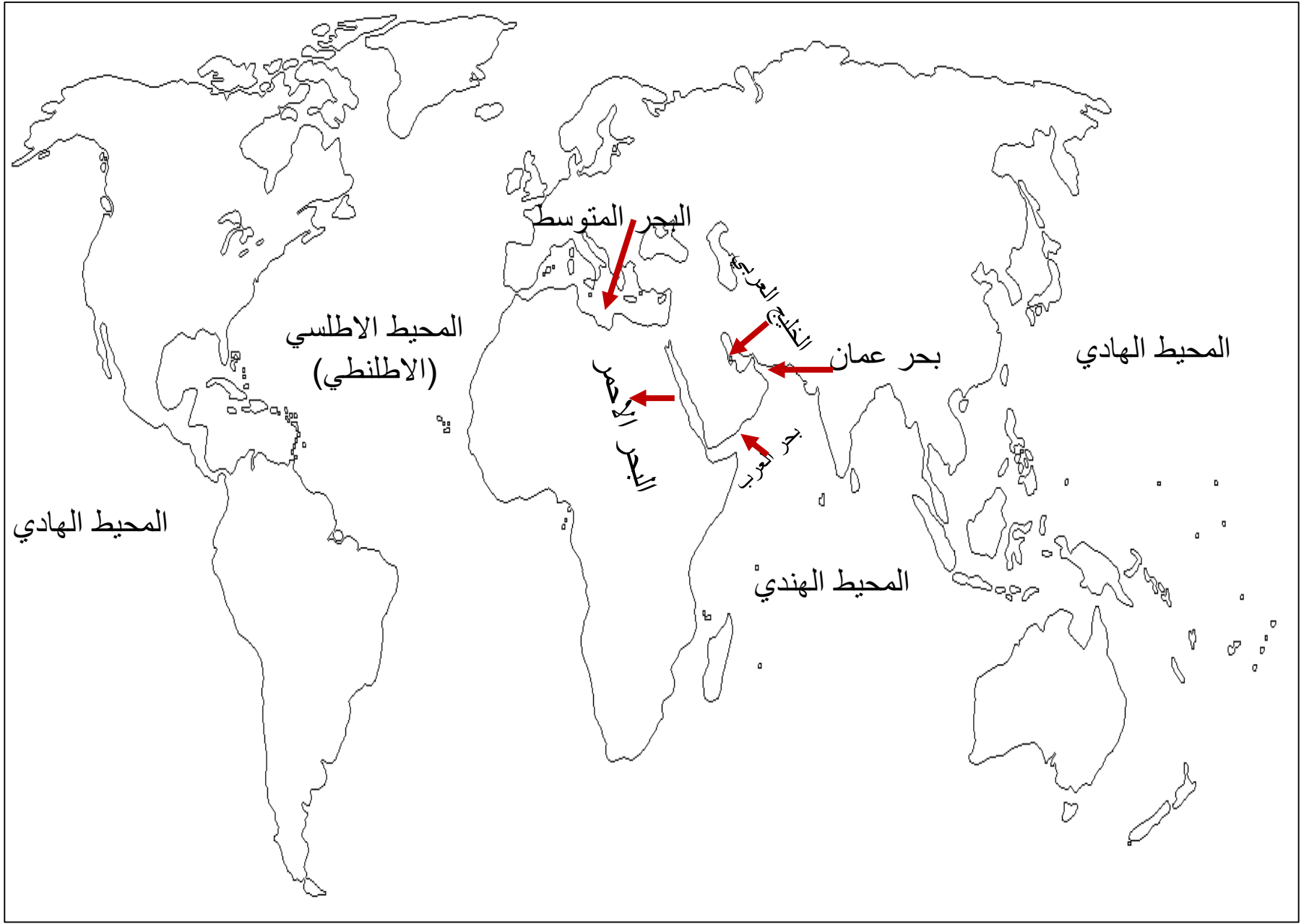
القطب الجنوبي ٩٠° جنوبا



الدولة العربية التي يمر بها خط جرينش الجزائر



البحر الذي يفصل بين جناحي الوطن العربي الافريقي والاسيوي البحر الأحمر المحيط الذي يحد الوطن العربي من الغرب المحيط الأطلسي دوله اسلاميه غير عربيه تجاور الوطن العربي من جهه الشرق ايران قناه السويس تربط البحر الأحمر والبحر المتوسط جبال اطلس تقع في الشمال الغربي للوطن العربي



البحر المتوسط

المحيط الأطلسي
(الأطلسي)

البحر الأحمر

الخليج العربي

بحر عمان

المحيط الهادي

المحيط الهادي

المحيط الهندي

