

شكراً لتحميلك هذا الملف من موقع المناهج الإماراتية



حل ورقة عمل مراجعة درس حضارات الوطن العربي

موقع المناهج ← المناهج الإماراتية ← الصف الخامس ← اجتماعيات ← الفصل الأول ← الملف

تاريخ نشر الملف على موقع المناهج: 10-18-2023 10:19:53 | اسم المدرس: أحمد بدوي

التواصل الاجتماعي بحسب الصف الخامس



روابط مواد الصف الخامس على تلغرام

[الرياضيات](#)

[اللغة الانجليزية](#)

[اللغة العربية](#)

[التربية الاسلامية](#)

المزيد من الملفات بحسب الصف الخامس والمادة اجتماعيات في الفصل الأول

اختبار التقييم الأول	1
أسئلة الاختبار التشخيصي	2
كتاب دليل المعلم	3
أسئلة الامتحان النهائي	4
مراجعة استعداداً للامتحان النهائي	5

مراجعة الصف الخامس (حضارات الوطن العربي)

الهدف : أن يحلل ويستنتج الطالب مفهوم الحضارة والحضارات التي قامت في الوطن العربي.

يخ : / ربيع الأول / 1445 هـ

الموافق : / 9 / 2023 م

السؤال الأول:

* أولاً: استكمل العبارات بما يناسبها :

1- هي من أقدم الحضارات التي عرفتها البشرية، وظهرت بها الكتابة المسمارية، وتمركزت حول نهري دجلة، والفرات.

(الموقع الجغرافي - بلاد الرافدين - الخليج العربي)

2- هي ثمرة كل جهد يقوم به الإنسان لتحسين ظروف حياته.

(مملكة سبأ - الحضارة - سد مأرب)

3- حضارة ظهرت في دولة اليمن.

(مملكة سبأ - بلاد الشام - البتراء)

4- قسم المصريون القدماء السنة إلى فصول.

(ثلاث - أربع - خمس)

5- واحدة من اهم الحضارات في دولة الإمارات العربية المتحدة حضارة

(وادي النيل - أم النار - بلاد الشام)

* ثانياً: (ماذا تعرف عن سد مأرب)

• يقع سد مأرب في دولة اليمن

• الذي أعاد بناء سد مأرب عام 1986 الشيخ زايد بن سلطان آل نهيان رحمه الله.

• قامت دولة الأنباط في صحراء النقب وسيناء والأردن وأجزاء من شمال شبه الجزيرة العربية وكانت عاصمتهم مدينة البتراء في الأردن.

• قسم المصريون القدماء السنة إلى ثلاث فصول اذكروهم .



الحصاد

البذر

الفيضان

السؤال الثاني * ضع كل مصطلح أمام التعريف الدال عليه:

الحضارة – وادي النيل – الشادوف – مملكة سبأ – الزراعة والاستقرار – الموقع الجغرافي

1- له تأثير بالغ الأهمية في قيام الحضارة، ويؤمن سهولة المواصلات، وبالتالي يضمن الاتصال الحضاري.

(الموقع الجغرافي)

2- هي ثمرة كل جهد يقوم به الإنسان لتحسين ظروف حياته.

(الحضارة)

3- وسيلة استخدمها المصريين القدماء لرفع الماء من نهر النيل

(الشادوف)

4- وادٍ ضيق يمتد من أسوان، إلى رأس الدلتا بالقرب من القاهرة.

(وادي النيل)

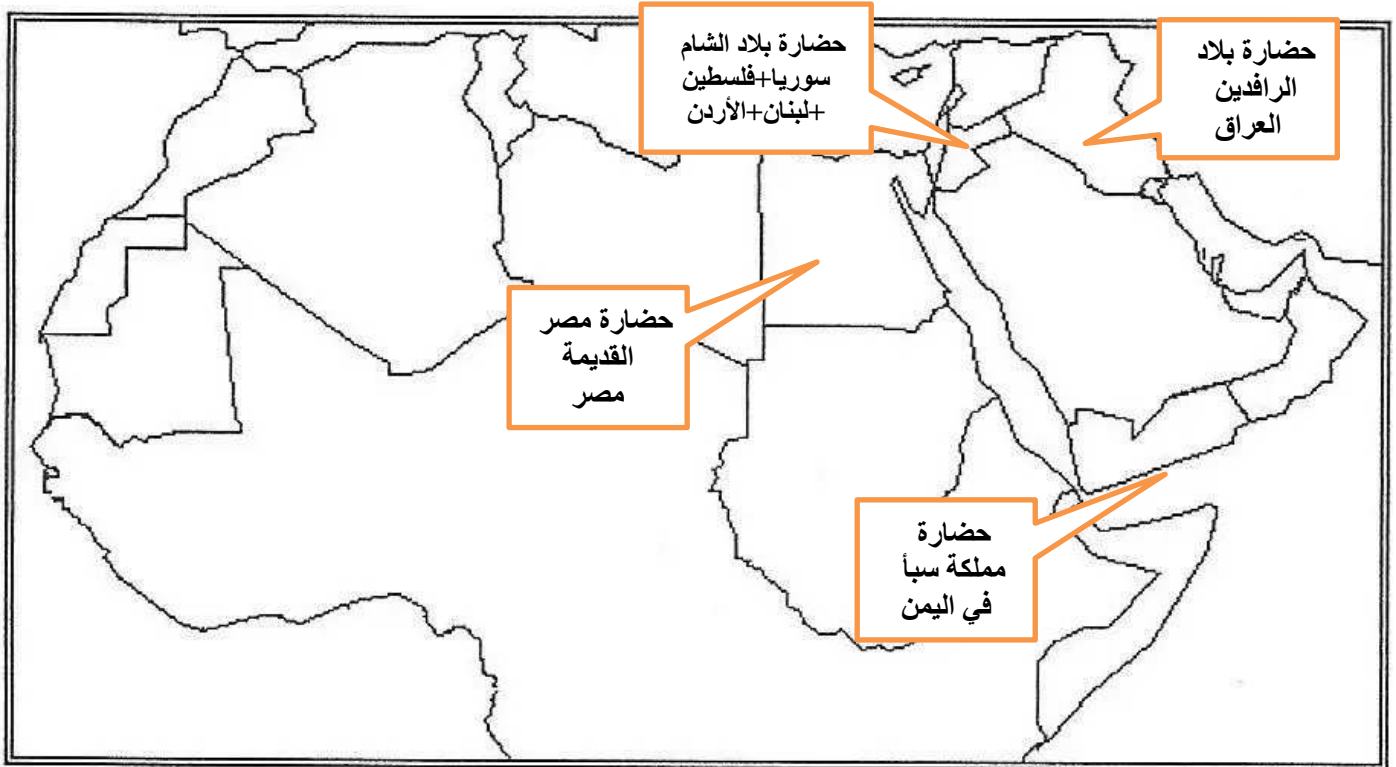
5- واحدة من أهم الحضارات في جنوب شبه الجزيرة العربية، ومن أشهر السدود سد مأرب.

(مملكة سبأ)

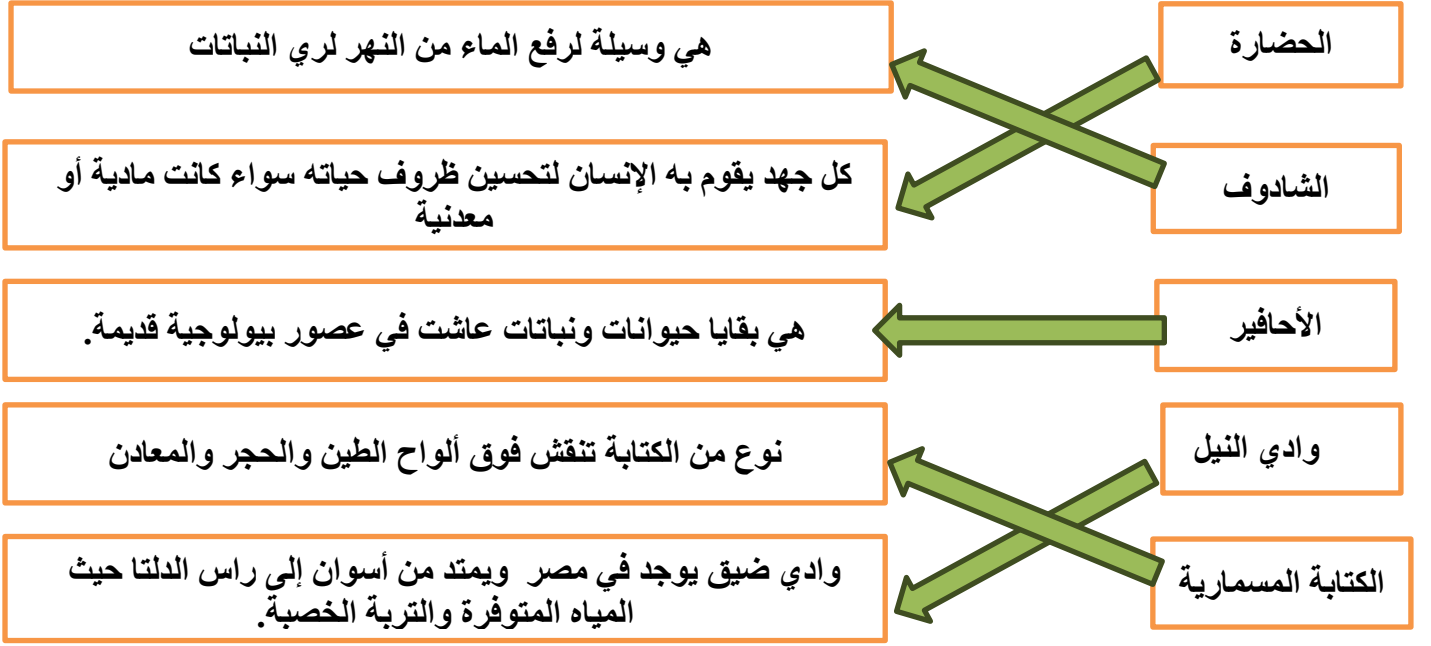
6- التربة خصبة + وفرّة المياه =

(الزراعة والاستقرار)

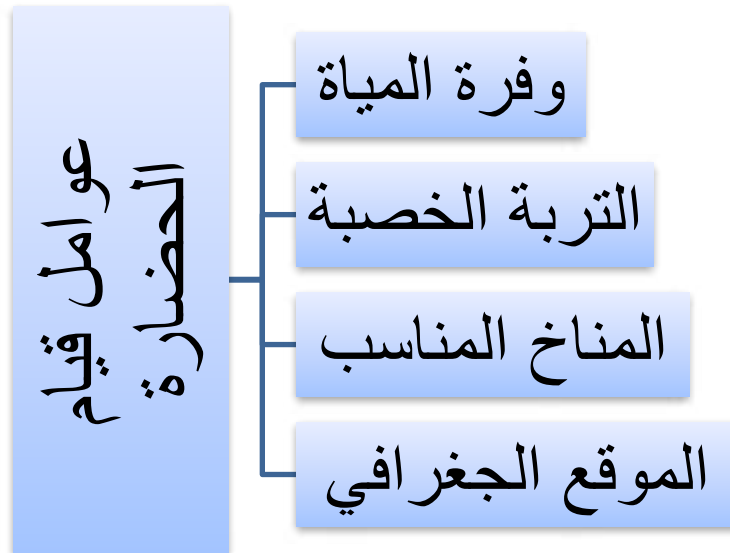
● السؤال الثالث : حدد على الخريطة التي أمامك أهم الحضارات التي قامت في الوطن العربي:



السؤال الرابع: صل بين المفهوم والعبارة المناسبة له:



وجه المقارنة	حضارة وادي النيل	حضارة بلاد الشام	حضارة بلاد الرافدين
المكان	مصر	سوريا لبنان فلسطين الأردن	العراق
النشاط الاقتصادي	الزراعة	الزراعة والصناعة والتجارة	الزراعة
الكتابة	الهيروغليفية	الأبجدية (الآرامية)	المسمارية



معلم المادة: أحمد بدوي

