

## شكراً لتحميلك هذا الملف من موقع المناهج الإماراتية



## حل مراجعة امتحانية

[موقع المناهج](#) ← [المناهج الإماراتية](#) ← [الصف الخامس](#) ← [اجتماعيات](#) ← [الفصل الأول](#) ← [الملف](#)

تاريخ نشر الملف على موقع المناهج: 05:48:40 2023-12-03

## التواصل الاجتماعي بحسب الصف الخامس



## روابط مواد الصف الخامس على تلغرام

[الرياضيات](#)


[اللغة الانجليزية](#)

[اللغة العربية](#)

[التربية الاسلامية](#)

## المزيد من الملفات بحسب الصف الخامس والمادة اجتماعيات في الفصل الأول

<a href="#">مراجعة وفق الهيكل الوزاري</a>	1
<a href="#">اختبار التقويم الأول</a>	2
<a href="#">نموذج الهيكل الوزاري</a>	3
<a href="#">حل ورقة عمل مراجعة درس حضارات الوطن العربي</a>	4
<a href="#">اختبار التقويم الأول</a>	5



مهارات  
قراءة  
النصوص  
والخرائط  
والصور

أولاً: اقرأ النص التالي، ثم أجب عما يليه من أسئلة باختيار الإجابة المناسبة من بين البدائل:

تعتبر قبيلة (شيا) أول أسرة ظهرت في الصين قديماً والتي عاشت في عام 2100 ق.م، وتبعها أسرة (شانغ) التي استقرت في منطقة النهر الأصفر خلال القرن الحادي عشر ق.م، وبدأ بعد ذلك ظهور العديد من الأسر التي حكمت الصين.

أُنشئت بعد ذلك أول دولة موحدة صينية بقيادة الإمبراطور (تشين)، ولقب نفسه بالإمبراطور الأول، وانتهى عهد الإمبراطورية بعد وفاته.



حكمت أسرة (هان) الصين بين عام 206 ق.م وحتى عام 220م، وتم توسيع

1. لقب الإمبراطور تشين نفسه بـ:

c . الإمبراطور القوي

b . الإمبراطور الأول

a . الإمبراطور العظيم

2. أول أسرة حكمت بلاد الصين قديماً:

c . شيا

b . شانغ

a . هوانغ هو

3. أبرز إنجاز حضاري تحققت في عهد أسرة هان، بناءً:

c . الأهرامات


b . القصور الجميلة

a . سور الصين العظيم

أولاً: اقرأ النص التالي، ثم أجب عما يليه من أسئلة باختيار الإجابة المناسبة من بين البدائل:

تعتبر قبيلة (شيا) أول أسرة ظهرت في الصين قديماً والتي عاشت في عام 2100 ق.م، وتبعها أسرة (شانغ) التي استقرت في منطقة النهر الأصفر خلال القرن الحادي عشر ق.م، وبدأ بعد ذلك ظهور العديد من الأسر التي حكمت الصين.

أنشئت بعد ذلك أول دولة موحدة صينية بقيادة الإمبراطور (تشين)، ولقب نفسه بالإمبراطور الأول، وانتهى عهد الإمبراطورية بعد وفاته.



حكمت أسرة (هان) الصين بين عام 206 ق.م وحتى عام 220م، وتم توسيع أراضي الإمبراطورية إلى حد كبير من خلال حملات عسكرية واسعة في

4. استقرت أسرة شانغ التي حكمت الصين بالقرب من:

a . بكين

b . النهر الأزرق

c . النهر الأصفر




أولاً: اقرأ النص التالي، ثم أجب عما يليه من أسئلة باختيار الإجابة المناسبة من بين البدائل:

5. توسعت الإمبراطورية الصينية في فترة حكم أسرة هان وشملت مناطق:

a. كوريا وفيتنام ومنغوليا وآسيا الوسطى

b. الصين واليابان وماليزيا وآسيا الوسطى

c. الهند وإندونيسيا ومنغوليا وآسيا الوسطى



حكم أسرة (هان) الصين بين عام 206 ق.م وحتى عام 220م، وتم توسيع أراضي الإمبراطورية إلى حد كبير من خلال حملات عسكرية واسعة في مناطق كوريا، وفيتنام، ومنغوليا، وآسيا الوسطى، وفي فترة حكمها شيد سور الصين العظيم، وذلك لحماية المناطق الزراعية من غارات الرعاة الرحّل في السهول الشمالية.

ثانيًا: حلّل الخريطة التالية والمعلومات المصاحبة، ثم أجب عما يلها من أسئلة باختيار الإجابة المناسبة من بين البدائل:



6. تعتبر مدينة روما عاصمة الإمبراطورية الرومانية:

a . الشمالية

b . الغربية

c . الشرقية

ثانيًا: حلّ الخريطة التالية والمعلومات المصاحبة، ثم أجب عما يليها من أسئلة باختيار الإجابة المناسبة من بين البدائل:

7. تعد المدرجات من أبرز ما خلفته الحضارة الرومانية القديمة مثل مدرج:

c . سيرميوم

b . المعبد

a . أوثينا

8. تعتبر من أهم موانئ الإمبراطورية الرومانية الشرقية:

c . قرطاج

b . صور

a . رافينا

الإمبراطورية الرومانية المنقسمة ( )

□ مدن هامة

□ الإمبراطورية الغربية

□ الإمبراطورية الشرقية



أوثينا أو (أوذنة) كانت مستعمرة رومانية في تولوس، وكانت على الطريق الرئيسي إلى قرطاج، وقد تحررت المدينة بعد دخول العرب في القرن السابع، تضم الحديقة الأثرية مدرجًا رومانيًا وهو أحد أشهر المدرجات الرومانية.

## ثانيًا: حلّ الخريطة التالية

9. عاصمة الإمبراطورية الرومانية الشرقية:

a . سرقوسة

b . الإسكندرية

c . القسطنطينية

الإمبراطورية الرومانية  
□ مدن هامة  
الإمبراطورية الغربية  
الإمبراطورية الشرقية

□

□

□

□

□

□

□

□

□

□

□

□

□

□

□

□

□

□

□

□

□

□

□

□

10. تحررت مدينة أودنة التونسية من سيطرة الرومان بعد دخول العرب المسلمين في القرن الميلادي:

a . السادس

b . السابع

c . الثامن



أوثينا أو (أودنة) كانت مستعمرة رومانية في تونس، وكانت على الطريق الرئيسي إلى قرطاج، وقد تحررت المدينة بعد دخول العرب في القرن السابع، تضم الحديقة الأثرية مدرجًا رومانيًا وهو أحد أشهر المدرجات الرومانية.



أولاً: تأمل الصور التالية، ثم أجب عما يليها من أسئلة باختيار الإجابة المناسبة من بين البدائل:



11. لعبة شعبية إماراتية يقفز فيها على رجل واحدة وتثنى الأخرى للخلف وتمسك باليد للوصول إلى الخط الثاني:

c . الكرابي

b . الغميضة

a . القبّة

12. لعبة شعبية ننحني أحد الأطفال إلى الأمام ويقوم الآخرون بالقفز من فوق ظهره:

c . المسطاع

b . الدّسيّة

a . خبزرقاق

أولاً: تأمل الصور التالية، ثم أجب عما يليها من أسئلة باختيار الإجابة المناسبة من بين البدائل:



13. (طاق طاقيّة) لعبة شعبية يقوم بممارستها الأطفال:

c . الإناث فقط

b . الذكور والإناث

a . الذكور فقط

27. صنّف الكلمات التي بين القوسين المتعلقة بمجلس التعاون الخليجي وفق الجدول التالي:

( البحر الأحمر - أبوظبي - الكويت - مكة المكرمة - الجمهورية اليمنية )

مدينة كبيرة	دولة مجاورة	مسطح مائي	دولة عضو	عاصمة
مكة	اليمن	البحر الاحمر	الكويت	ابوظبي

28. أكمل العبارات التالية بما يناسبها:

**التعاون الخليجي**

- تعتبر دولة الإمارات العربية المتحدة من الدول الأعضاء في مجلس

**مسقط**

- سلطنة عمان عضو في مجلس التعاون الخليجي، وعاصمتها

- عدد دول مجلس التعاون الخليجي ..... **6** ..... دول.



لقد انتهت حصتنا اليوم يا أحبتي الصغار  
ودمتم راتعين



مع السلامة

