

تم تحميل هذا الملف من موقع المناهج الإماراتية



*للحصول على أوراق عمل لجميع الصفوف وجميع المواد اضغط هنا

<https://almanahj.com/ae>

* للحصول على أوراق عمل لجميع مواد الصف الخامس اضغط هنا

<https://almanahj.com/ae/5>

* للحصول على جميع أوراق الصف الخامس في مادة الامتحانات وجميع الفصول, اضغط هنا

<https://almanahj.com/ae/5>

* للحصول على أوراق عمل لجميع مواد الصف الخامس في مادة الامتحانات الخاصة بـ اضغط هنا

<https://almanahj.com/ae/5>


* لتحميل كتب جميع المواد في جميع الفصول للـ الصف الخامس اضغط هنا


<https://almanahj.com/ae/grade5>

للتحدث إلى بوت المناهج على تلغرام: اضغط هنا

https://t.me/almanahj_bot


1. اوجد اثنو ال 6, 7, 8, 6, 9, 6, 8 ← 6

2. تبغ حليلة ← شبه منحرف ← 

3. صوم جمال ← متوازي مستطيلات ← 

4. اكمل $1,300\text{mm} \rightarrow \text{cm}$ ← 130cm

5. تحتفظ بنا ما الحجم ← 360cm^3

6. اي من الاشكال مربع منظم ← 

7. ما حجم الفاصل على المحور الرأسي ← 5

8. في اي وقت وجد أكبر عدد متر لجين ← 2 P.M.

9. اوجد الوسيط

78 ←


$\frac{3}{10}\text{km}$

10. ماهي النسبة المتكافئة

11. اذا قطر شجرة 24cm ← نصف القطر 12cm

12. $47\text{g} = \text{mg}$ ← $47,000\text{mg}$

13. $5\text{L} = 5,000$

14. مثلث متساوي الاضلاع ← 

15. توقع المسافة خلال 6 دقائق ← 12km

16. كم عدد السلع التي بيعت بالكامل ← 14

17. عدد حواف ثلاثي الابعاد ← 9

18. المتوسط الحسابي ← 12

19. اوجد مدى البيانات ← 9

20. حدد المركز ← C