

تم تحميل هذا الملف من موقع المناهج الإماراتية



اختبار القياس الدولي IBT متبوع بالإجابات

موقع المناهج ← المناهج الإماراتية ← الصف السادس ← علوم ← الفصل الأول ← اختبارات ← الملف

تاريخ إضافة الملف على موقع المناهج: 2024-10-29 11:37:34

ملفات اكتب للمعلم اكتب للطالب | اختبارات الكترونية | اختبارات | حلول | عروض بوربوينت | أوراق عمل
منهج انجليزي | ملخصات وتقارير | مذكرات وبنوك | الامتحان النهائي للمدرس

المزيد من مادة
علوم:

التواصل الاجتماعي بحسب الصف السادس



صفحة المناهج
الإماراتية على
فيسبوك

الرياضيات

اللغة الانجليزية

اللغة العربية

التربية الاسلامية

المواد على تلغرام

المزيد من الملفات بحسب الصف السادس والمادة علوم في الفصل الأول

حل مراجعة الدرس الثاني surface 'earth on Water منهج انسابير

1

مراجعة الدرس الثاني surface 'earth on Water منهج انسابير

2

حل مراجعة الوحدة الأولى منهج انسابير

3

اختبار قصير درس المواد وخواصها

4

حل مراجعة درس earth on energy Solar من الوحدة الثالثة منهج انسابير

5

2019

مادة العلوم

الاختبار التدريبي

نبذة عن الاختبار التدريبي

يحتوي الاختبار التدريبي على 10 أسئلة. صمم هذا الاختبار ليعطيك فكرة عن نمط أسئلة اختبار IBT الرئيسي.

أجب على الأسئلة:

كل سؤال لديه أربعة اختيارات. اختر الإجابة الأنسب من الاختيارات الأربعة : A ، B ، C ، D .
سوف تجد إجابات الأسئلة في آخر صفحة من هذا الكتيب.

الأدوات المسموح بها في هذا الاختبار

يمكن استخدام قلم رصاص في هذا الاختبار. لا يمكنك استخدام المعجم.

الزمن المخصص للاختبار :

الزمن المحدد لإكمال الاختبار هو 15 دقيقة.

1

قامت ياسمين بوضع ملعقة معدنية وأخرى بلاستيكية وعصا خشبية وقضيب زجاجي في كوب من الماء الساخن.

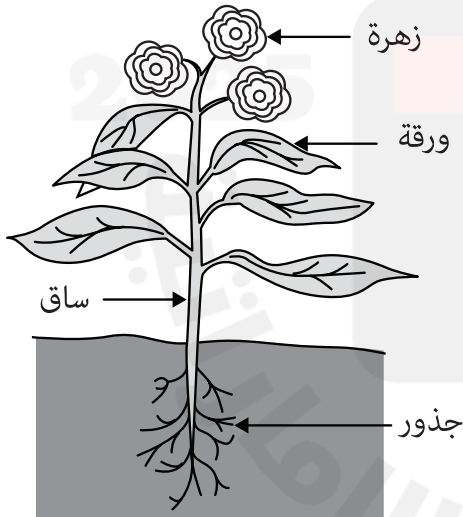


أيهما ستكون أكثر حرارة بعد دقيقة واحدة؟

- A الملعقة البلاستيكية
- B الملعقة المعدنية
- C العصا الخشبية
- D القضيب الزجاجي

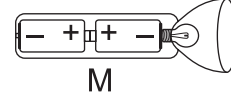
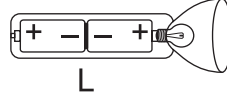
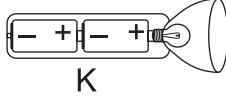
2

أين تقوم النباتات على الأغلب بصنع الغذاء الذي تحتاجه؟



- A الأوراق
- B الساق
- C الزهور
- D الجذور

يُظهر الرسم التالي مصباحًا يدويًا وثلاث طرق لوضع البطاريات بداخله.



3 أي طريقة يجب أن توضع بها البطاريات لتجعل المصباح يعمل؟

A فقط كما في K

B فقط كما في L

C فقط كما في M

D لن تعمل أي من هذه الطرق

4 يمكن لطفل أن يرث الصفات

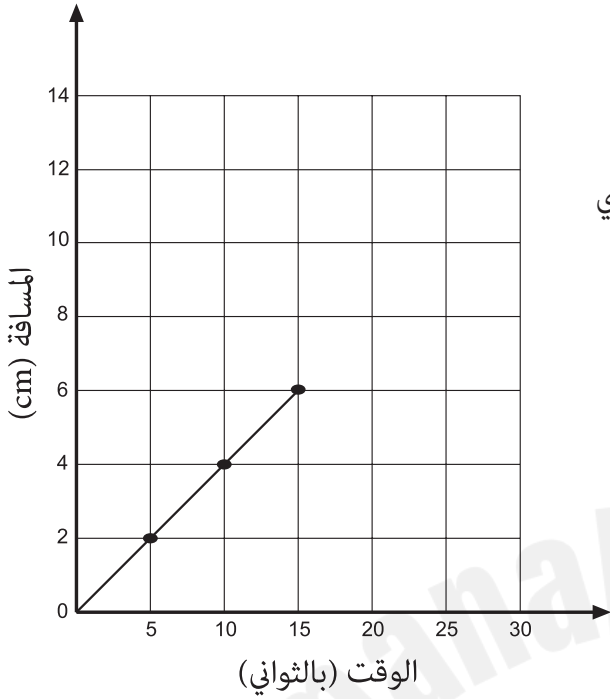
A فقط من والده.

B فقط من والدته.

C من كلا والديه.

D من والده أو من والدته، ولكن ليس من كلاهما.

يُظهر الرسم البياني التقدم الذي تحرزه خنفساء تسير بخط مستقيم.



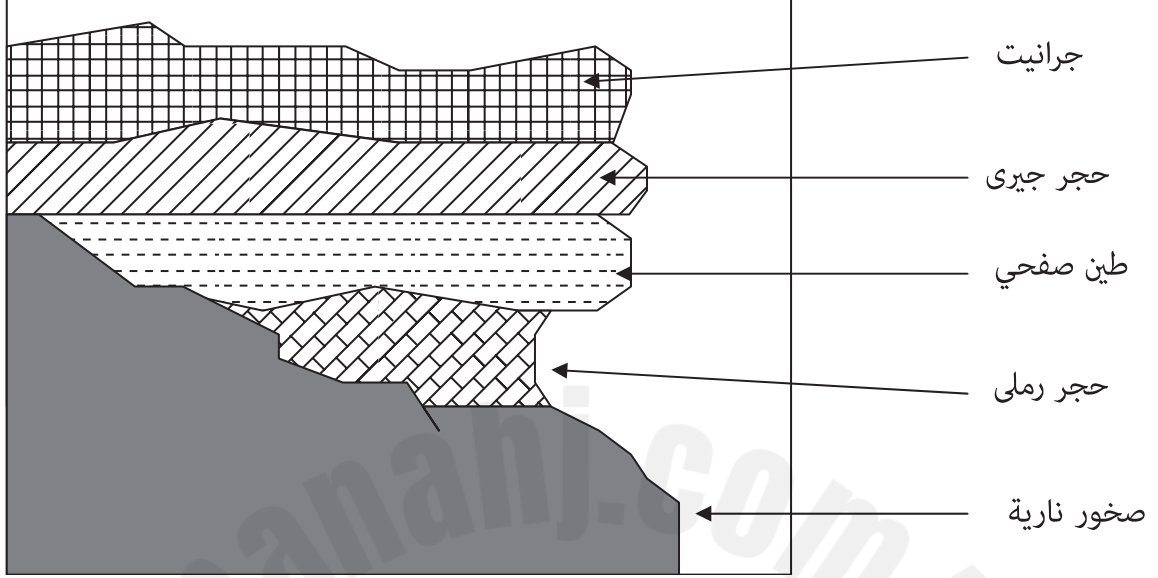
5 إذا بقيت الخنفساء تسير بنفس السرعة، فما الوقت الذي تحتاجه لقطع 10 cm؟

- A 4 ثواني
- B 6 ثواني
- C 20 ثانية
- D 25 ثانية

6 أي أعضاء السمكة التالية يعمل عمل الرئتين في الإنسان؟

- A الكلية
- B القلب
- C الخياشيم
- D الجلد

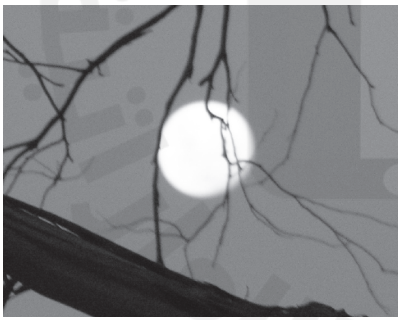
توضح الصورة أدناه مقطعاً عرضياً لجرف صخري.




7 أي الصخور تعرضت للتآكل بشكل أكبر؟

- A حجر جيرى
- B طين صفحي
- C جرانيت
- D حجر رملى

شاهد سلطان هاتين الصورتين.



القمر (ليلاً)



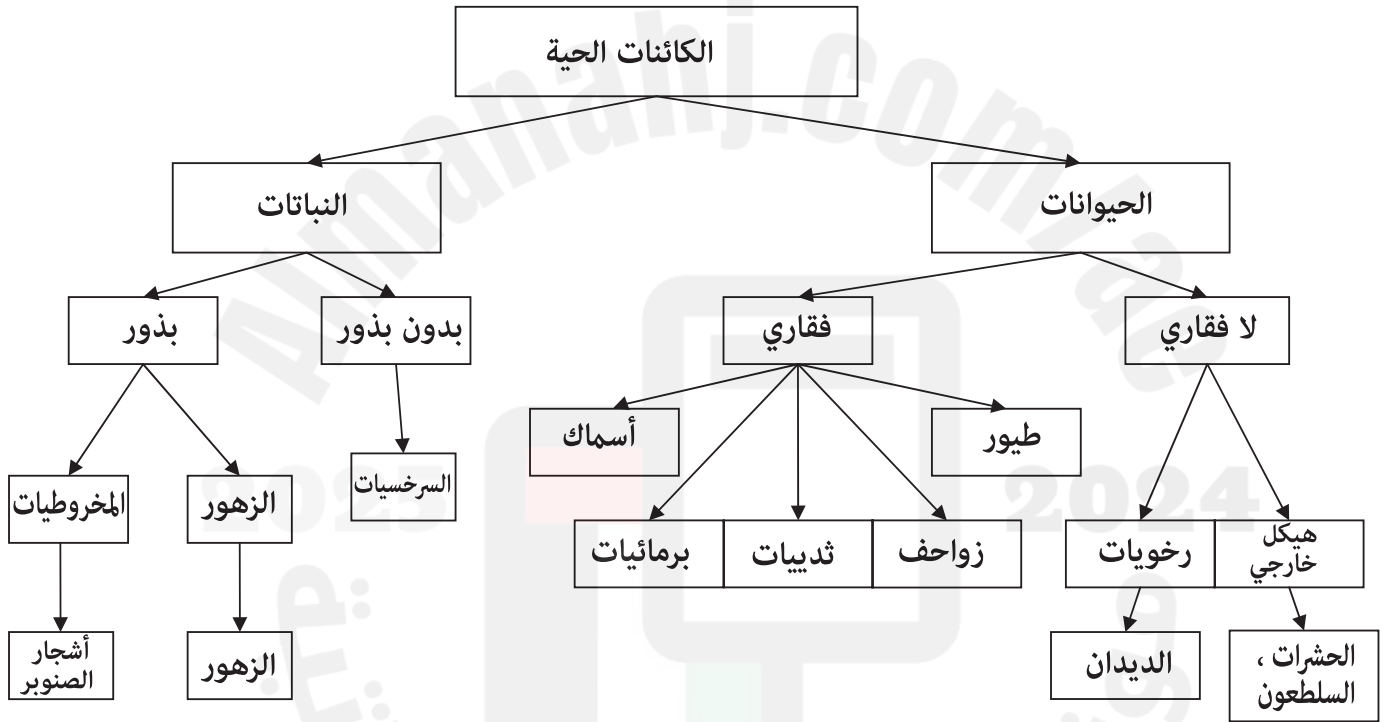
الشمس (أثناء الغيوم)

8 أي عبارة صحيحة حول القمر والشمس؟

- A كلاهما بنفس الحجم.
- B تغطية الغيوم للشمس تظهرها أصغر من حجمها.
- C كلاهما على نفس المسافة من الأرض.
- D الشمس أبعد من القمر عن الأرض.

9 أي العمليات التالية يستلزم تغيراً كيميائياً؟

- A انصهار الثلج
B خَبز الخُبز
C قص الورق
D تسخين الماء



10 حسب نظام التصنيف أعلاه فإن أفضل وصف للسلطعون هو:

- A لا فقاري ذو جسم رخو.
B فقاري ذو هيكل خارجي.
C لا فقاري ذو هيكل خارجي.
D حيوان يعيش في بيئة بحرية.



الإجابات الصحيحة

B	1
A	2
A	3
C	4
D	5
C	6
D	7
D	8
B	9
C	10



