

تم تحميل هذا الملف من موقع المناهج الإماراتية



الملف أسئلة الامتحان النهائي الورقي بريدج

[موقع المناهج](#) ← [المناهج الإماراتية](#) ← [الصف السادس](#) ← [رياضيات](#) ← [الفصل الثالث](#)

روابط مواقع التواصل الاجتماعي بحسب الصف السادس



روابط مواد الصف السادس على تلغرام

[الرياضيات](#)

[اللغة الانجليزية](#)

[اللغة العربية](#)

[التربية الاسلامية](#)

المزيد من الملفات بحسب الصف السادس والمادة رياضيات في الفصل الثالث

[حل أسئلة الاختبار التحريبي نخبة](#)

1

[حل أسئلة وفق الهيكل الوزاري نخبة](#)

2

[أسئلة الاختبار التحريبي نخبة](#)

3

[حل نموذج تدريبي للاختبار النهائي](#)

4

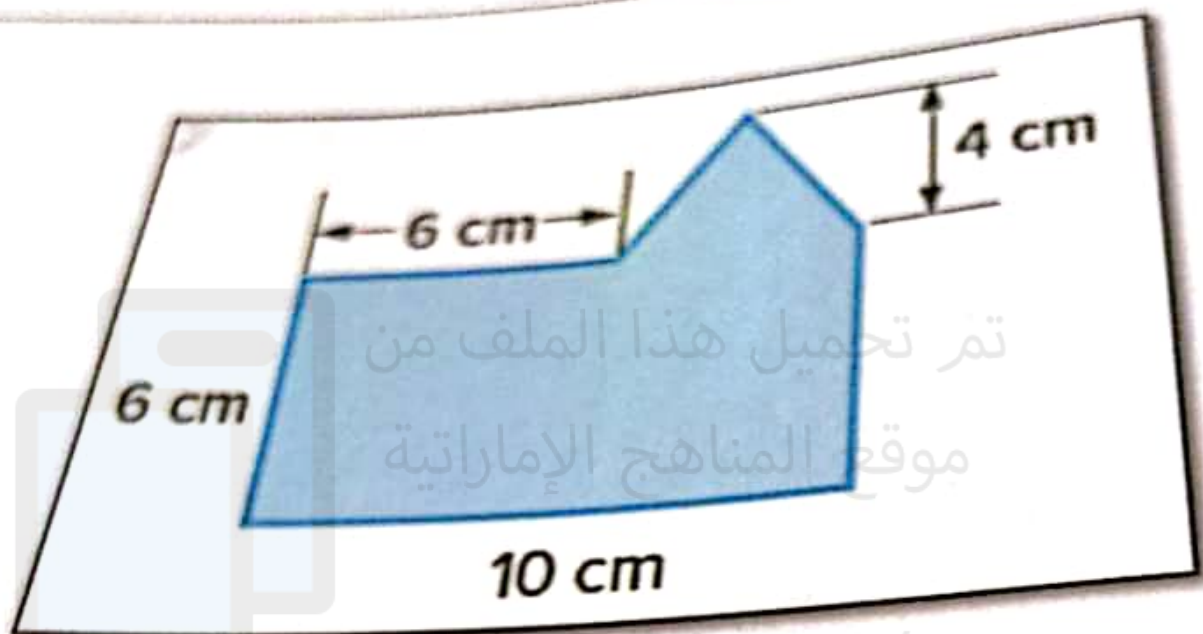
[نموذج تدريبي للاختبار النهائي](#)

5

Write all your work clearly showing your steps.

Question

Find the area of the shaded figure.



تم تحميل هذا الملف من  
موقع المناهج الإماراتية

[alManahj.com/ae](http://alManahj.com/ae)

Handwriting practice lines consisting of a solid top line, a dashed middle line, and a solid bottom line.

السؤال

2

nd Interquartile  
In the table.

أوجد الوسيط والعدد الربعي للبيانات في  
الجدول.

Number of texts per day

عدد الرسائل النصية في اليوم

30

12

36

19

25

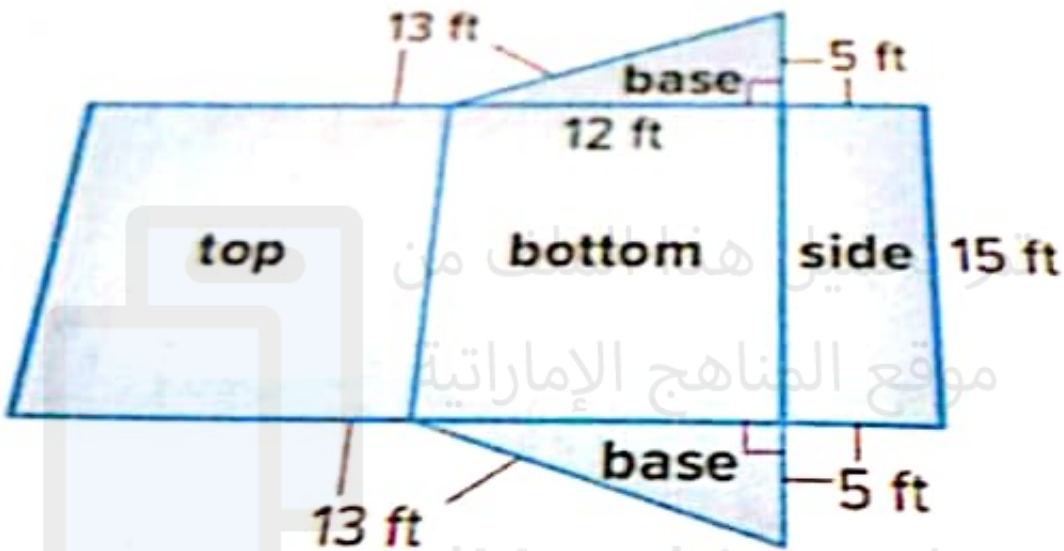
موقع المناهج الإماراتية

alMarraij.com/ae

3

المسألة

أوجد مساحة سطح المنشور الثلاثي القاعدية  
الموضح .



موقع المناهج الإماراتية  
alManahj.com/ae

## \*\*\*\*\* BONUS \*\*\*\*\*

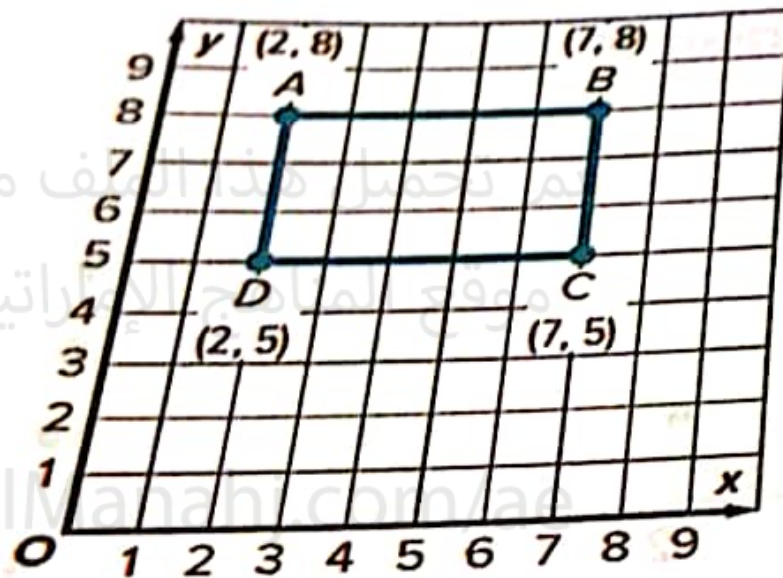
Question

4

السؤال

Use the coordinates to find the area of the rectangle.

باستخدام المستوى الإحداثي أوجد مساحة المستطيل.



## \*\*\*\*\* BONUS \*\*\*\*\*

Question

5

السؤال

The dot plot graphed below shows scores of 7 students on a short test.

Find the mean and the median of the students' scores.

يبين مخطط النقاط المجموعة الموضح أدناه درجات 7 طلاب في اختبار قصير. أوجد المتوسط الحسابي و الوسيط لدرجات الطلاب.

