

تم تحميل هذا الملف من موقع المناهج الإماراتية



*للحصول على أوراق عمل لجميع الصفوف وجميع المواد اضغط هنا

<https://almanahj.com/ae>

* للحصول على أوراق عمل لجميع مواد الصف السادس اضغط هنا

<https://almanahj.com/ae/6>

* للحصول على جميع أوراق الصف السادس في مادة اجتماعيات ولجميع الفصول, اضغط هنا

<https://almanahj.com/ae/6social>

* للحصول على أوراق عمل لجميع مواد الصف السادس في مادة اجتماعيات الخاصة بـ الفصل الثاني اضغط هنا

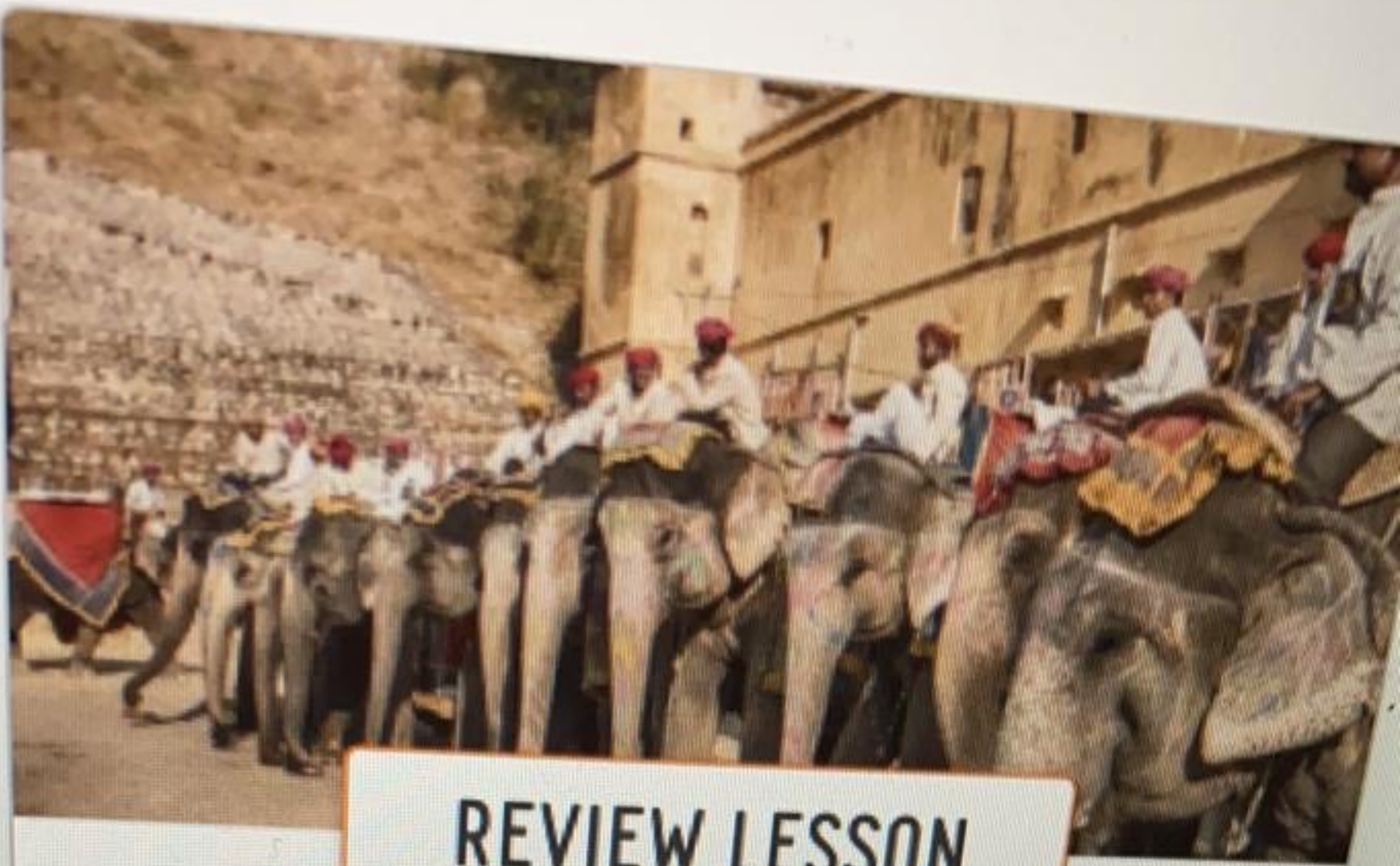
<https://almanahj.com/ae/6social2>

* لتحميل كتب جميع المواد في جميع الفصول للـ الصف السادس اضغط هنا

<https://almanahj.com/ae/grade6>

للتحدث إلى بوت المناهج على تلغرام: اضغط هنا

https://t.me/almanahj_bot



REVIEW LESSON



٢٤. جمهورية الهند

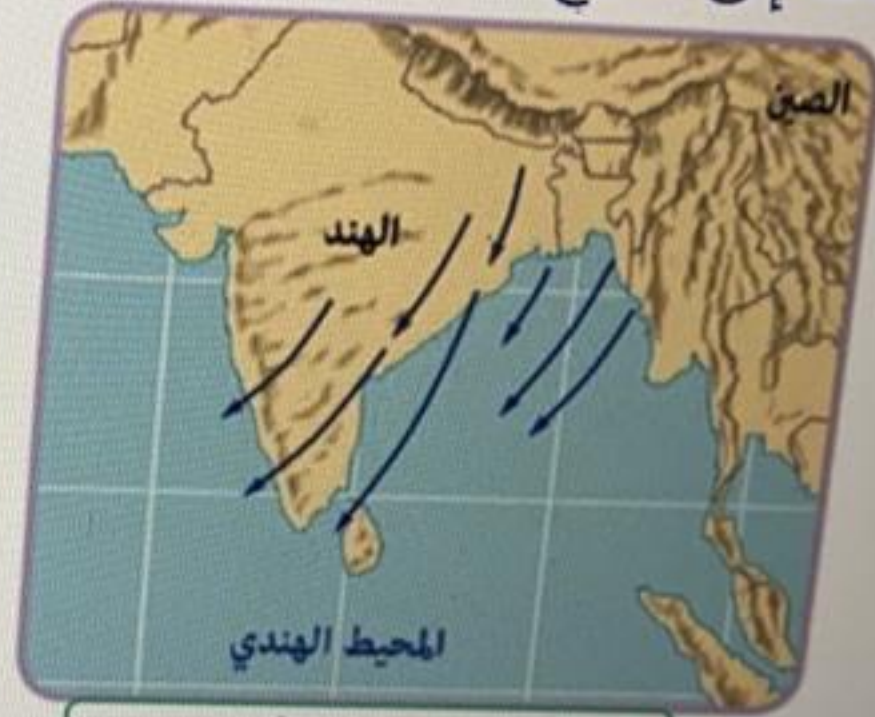


محاولة 1

اسحب الجملة الصحيحة إلى الفراغ المناسب لتبين اتجاه هبوب الرياح على الهند في فصول السنة المختلفة:



✓ 2. رياح صيفية ✓



✓ 1. رياح شتوية ✓

✘ رياح خريفية ✘

✘ رياح ربيعية ✘

✓ 1. رياح شتوية ✓

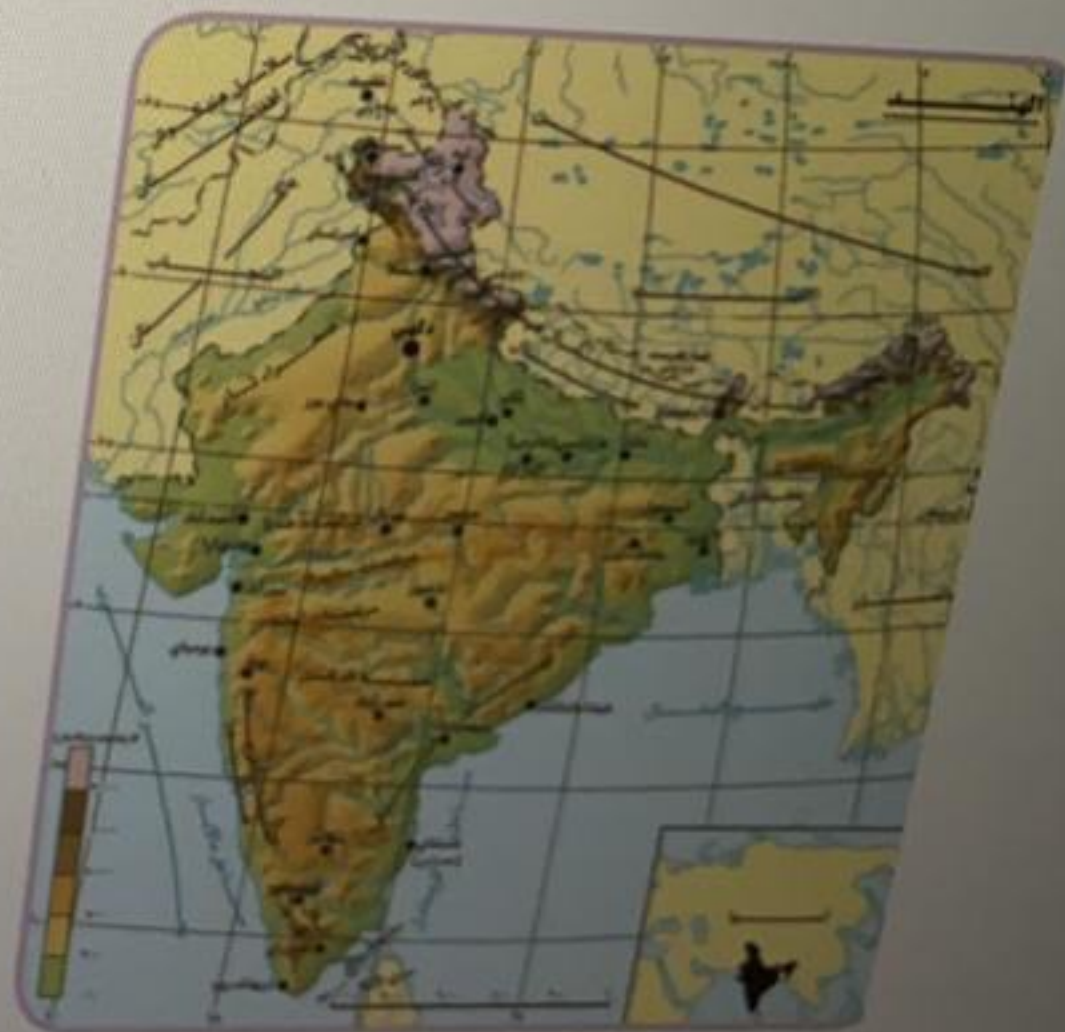


اختر الإجابة الصحيحة من القائمة المُسدلة لتُكمل المعنى:

تتميّز سهولُ هندوستان باستواءِ سطحها وخصوبةِ تربتها، وتقعُ بها أهمُّ المُدنِ مثلَ مدينةِ

ودلهي.

1. كلكتا ✓ ✓



اسحب الإجابة الصحيحة إلى الجدول لتُكْمَل المعنى:

جُمْهُورِيَّةُ الهِنْدِ	
الدَّوْلَةُ/ المُسَطَّحُ المائِيُّ الَّذِي يحدُّهَا	الآتِّجَاهُ
1. بنغلاديش ✓	مَنْ الشَّرْقِ
المُحِيْطُ الهِنْدِيُّ	مَنْ 2. الجنوب ✓

↕ الشَّمَالِ

↕ الشَّرْقِ

↕ المَحِيْطُ الهَادِي

↕ الصَّيْنُ

1. بنغلاديش ✓

2. الجنوب ✓

ثلاث إجابات صحيحة مُتتالية ✓ ✓ ✓

اختبر الإجابة الصحيحة:
قام صاحب السمو الشيخ محمد بن زايد آل نهيان ولي عهد أبوظبي - حفظه الله - بزيارة الهند كضيف شرف في
الاحتفال بيوم الجمهورية، ماذا تستنتج من ذلك؟



محاولة 1

متانة وقوة العلاقة بين البلدين منذ القدم.

قيام الهند بإطلاق يوم خاص للجمهورية.

اختير الإجابة الصحيحة
ما أقل نسبة واردات إلى الهند من دولة الإمارات العربية المتحدة



محاولة 1

المعادن الثمينة.

النحاس ومصنوعاته.

تستورد الهند من الإمارات
النفط الخام والمنتجات النفطية
والذهب والفضة واللؤلؤ
وخدمات المعادن والخردة
المعدنية والسلع والإلكترونيات
ومعدات النقل

المنتجات
النفطية



محاولة 1

الألمنيوم ومصنوعاته.

المنتجات النفطية.

استنتج من الصور أهم قطاعات التبادل التجاري بين دوله إمارات
الصحيحة إلى مكانها المناسب فيما يلي:



✓ 2. الطاقة

✓ 1. تطوير البناء والتشييد

✚ الكهرباء

✚ الاتصالات

✓ 1. تطوير البناء والتشييد

✓ 2. الطاقة

محاولة 2

انظر إلى المخطط الآتي، ثم صنّف الخيارات إلى مقوماتٍ صناعيةٍ أو مقوماتٍ سياحيةٍ مع ذكر مثالٍ يدلُّ عليها من جمهورية الهند:



✦ تطوّر تكنولوجيا علوم الفضاء

✦ النفط الخام

✦ قصر الحمراء

محاولة 1

اختر الإجابة الصحيحة من القائمة المُسدلة:

الذي يُبرز تطوّر الفنّ المعماريّ.

1. تاج محلّ ✓ ✓

يُعدُّ من أشهر المعالم السّياحيّة في الهند

✓

1. تاج محلّ

يُعتبرُ تاج محلّ أحد أهمّ المعالم السّياحيّة الموجودة في الهند، وهو مبنيّ كليّاً من الرّخام الأبيض، ويتكوّن من مجموعة من المباني التي استغرق بناؤها 22 سنة.

اختر الإجابات الصحيحة:
ما مقومات الصناعة الحديثة في الهند؟

محاولة 1

توفّر الأراضي الزراعيّة.

×

توفّر الموارد المائيّة.

✓

توفّر الخبرة الفنيّة.

خصوبة التربة الصناعيّة.

تنوع المناخ والتضاريس.



اختر الإجابات الصحيحة:
أي من الآتية يُعتَبَرُ مِنْ مُقَوِّمَاتِ السِّيَاحَةِ فِي الْهِنْدِ؟

محاولة 1

توفّر أشجار النخيل الساحرة.

توفّر العاملين على خدمات السّياح.

وجود الأماكن الأثرية والتاريخية.

وجود التربة الخصبة.

ازدهار القطاع التجاريّ فيها.

اختر الإجابة الصحيحة:
أيُّ المصطلحات الآتية يُعبَّرُ عَنْ زيادةِ أعدادِ السُّكَّانِ الكبيرةِ بالمُقارَنةِ معَ المواردِ المُتاحةِ؟



الانفجارُ السُّكَّانيُّ.

الدَّخْلُ الفرديُّ.

الناتجُ السُّكَّانيُّ.

الانفجارُ المعرفيُّ.

تحتلُّ جُمهورِيَّةُ الهندِ المرتبةَ الثَّانيةَ مِنْ حيثُ عددُ السُّكَّانِ والكثافةُ السُّكَّانيَّةُ في العالمِ.

توفّر الموارد المائية.



توفّر الخبرة الفنيّة.

خُصوبة التربة الصّناعيّة.

تنوّع المناخ والتّضاريس.



توفّر الموادّ الخام.

تمتلك الهندُ مُقوّمات الصّناعة الحديثة كالأيدي العاملة والخبرة الفنيّة والموادّ الخام اللازمة للصّناعة، ومن أهمّ الصّناعات فيها السّجّاد والملابس.

محاولة 2

انظر إلى المخطط الآتي، ثم صنّف الخيارات إلى مقوماتٍ صناعيةٍ أو مقوماتٍ سياحيةٍ مع ذكر مثالٍ يدلُّ عليها من جمهورية الهند:



✦ تطوُّرٌ تكنولوجيٌّ علوم الفضاء

✦ النفط الخام

✦ قصر الحمراء

اسحب الإجابة الصحيحة إلى الجدول لتُكْمَل المعنى:

جُمْهُورِيَّةُ الهِنْدِ	
الدَّوْلَةُ/ المُسَطَّحُ المائِيُّ الَّذِي يحدُّهَا	الآتِّجَاهُ
1. بنغلاديش ✓	مَنْ الشَّرْقِ
المُحِيْطُ الهِنْدِيُّ	مَنْ 2. الجنوب ✓

↕ الشَّمَالِ

↕ الشَّرْقِ

↕ المَحِيْطُ الهَادِي

↕ الصَّيْنُ

1. بنغلاديش ✓

2. الجنوب ✓

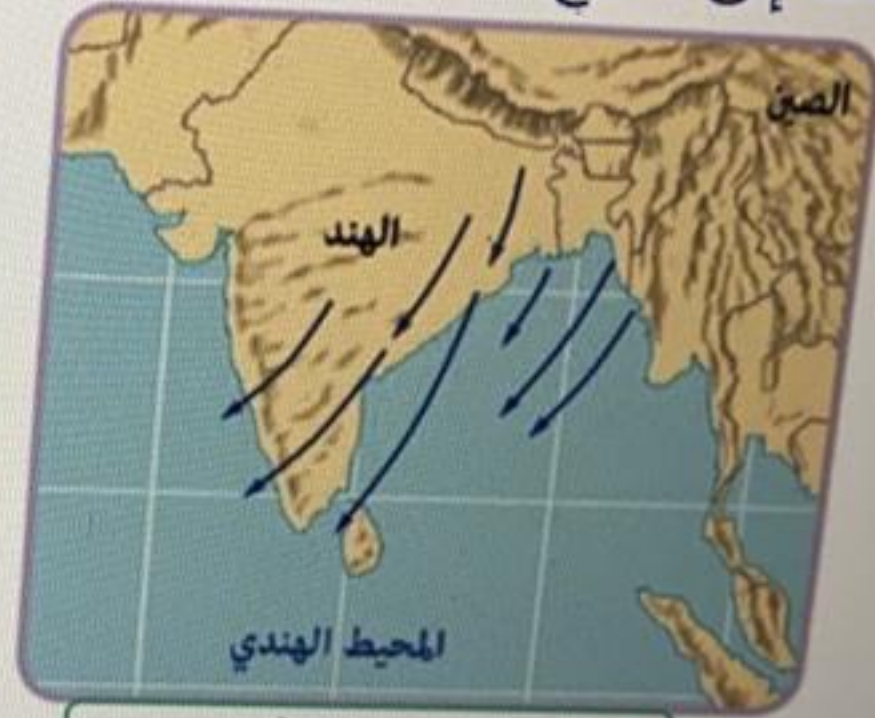
ثلاث إجابات صحيحة مُتتالية ✓ ✓ ✓

محاولة 1

اسحب الجملة الصحيحة إلى الفراغ المناسب لتبين اتجاه هبوب الرياح على الهند في فصول السنة المختلفة:



✓ 2. رياح صيفية



✓ 1. رياح شتوية

✘ رياح خريفية

✘ رياح ربيعية

✓ 1. رياح شتوية

اختر الإجابات الصحيحة:
أي من الآتية يُعتَبَرُ مِنْ مُقَوِّمَاتِ السِّيَاحَةِ فِي الْهِنْدِ؟

محاولة 1

توفّر أشجار النخيل الساحرة.

توفّر العاملين على خدمات السّياح.

وجود الأماكن الأثرية والتاريخية.

وجود التربة الخصبة.

ازدهار القطاع التجاريّ فيها.



اسحب الخيار المناسب إلى الفراغ لتُكَمَّلَ المعنى:
 يحتلُّ الاقتصادُ الهنديُّ المركزَ الرَّابِعَ مِنْ حيثُ
 تتراجعُ الهندُ مِنْ حيثُ الدَّخْلُ السَّنَوِيُّ للفردِ.

1. القُوَّةُ الشَّرَائِيَّةُ ✓

، ولكنَّ نظرًا لارتفاعِ عددِ سُكَّانِهَا

⇄ تبادلُ العُمَلَاتِ

⇄ النَّاتِجُ المحليُّ الإجماليُّ

⇄ الدَّخْلُ الفرديُّ

1. القُوَّةُ الشَّرَائِيَّةُ ✓

يُعبَّرُ مفهومُ القُوَّةِ الشَّرَائِيَّةِ عَنْ قُدْرَةِ الأَفْرَادِ عَلَى الاسْتِهْلَاكِ وإشباعِ احتياجاتِهِمْ، وَيُنْبِئُ عَنْ مُسْتَوَى معيشتِهِمْ ورفاهيتِهِمْ، ويحتلُّ الاقتصادُ الهنديُّ المركزَ العاشَرَ عالميًّا مِنْ حيثُ تبادلُ العُمَلَاتِ والرَّابِعَ مِنْ حيثُ القُوَّةُ الشَّرَائِيَّةُ.

اختر الإجابة الصحيحة من القائمة المُسدلة لتُكمل المعنى:

تتميّز سهولُ هندوستان باستواءِ سطحها وخصوبة تربتها، وتقعُ بها أهمُّ المُدنِ مثلَ مدينةِ

ودلهي.

1. كلكتا ✓ ✓

