

شكراً لتحميلك هذا الملف من موقع المناهج الإماراتية



أسئلة الامتحان النهائي الإلكتروني

[موقع المناهج](#) ⇨ [المناهج الإماراتية](#) ⇨ [الصف السادس](#) ⇨ [اجتماعيات](#) ⇨ [الفصل الثاني](#) ⇨ [الملف](#)

تاريخ نشر الملف على موقع المناهج: 20-03-2024 07:49:03

التواصل الاجتماعي بحسب الصف السادس



روابط مواد الصف السادس على تلغرام

[الرياضيات](#)

[اللغة الانجليزية](#)

[اللغة العربية](#)

[التربية الاسلامية](#)

المزيد من الملفات بحسب الصف السادس والمادة اجتماعيات في الفصل الثاني

[مراجعة امتحانية اختبار من متعدد](#)

1

[مراجعات نهائية وفق الهيكل الوزاري](#)

2

[حل مراجعة عامة وشاملة وفق الهيكل الوزاري](#)

3

[مراجعة نهائية وفق الهيكل الوزاري](#)

4

[حل نموذج تدريبي للاختبار النهائي وفق الهيكل](#)

5

اقرأ بيانات الشكل الآتي

5-1

من أبرز صادرات دولة

القطر

الزيوت المعدنية

المنسوجات

الأحجار الكريمة

العلاقات الاقتصادية

بين الإمارات والهند

• 50 **مليار** دولار سنوية
تعمل في الإمارات

• 973 **مليار** درهم سنوية بين
البلدين أسواقاً

• قيمة التبادل التجاري بين البلدين
60 **مليار** دولار سنوياً

• الاستثمارات الإماراتية في
الهند 10 **مليارات** دولار

• الهند تملك شركة اقتصاد
الإمارات هذا العام



اقرأ بيانات الشكل الآتي، ثم أجب:

5 - 1

من أبرز صادرات دولة الإمارات العربية المتحدة إلى جمهورية الهند:

- س
- a. النفط
- b. الزيوت المعدنية
- c. المنسوجات
- d. الأحجار الكريمة

50 ألف شركة هندية
تعمل في الإمارات

973 رحلة جوية بين
البلدين أسبوعياً



الأحجار الكريمة والوقود
والزيوت المعدنية والمجوهرات
والمنسوجات

الهند

بين البلدين
سنوياً



منسوجات الهند

اقرأ معلومات الخريطة والنص المصاحب، ثم أجب:

من أهم دوائر العرض التي تمر في قارة آسيا:

- a. الدائرة القطبية الجنوبية
- b. خط الإستواء
- c. مدار الحدي
- d. خط جرينتش



آسيا أكبر قارات العالم مساحة وأكثرها سكاناً، وتقع معظمها في نصف الكرة الأرضية الشمالي، وهي تغطي 8.7% من مساحة سطح الأرض الكلية، ومع ما يقرب من 4.7 مليار نسمة، وتحتضن 60% من سكان العالم بعدها من الشرق المحيط الهادي ومن الجنوب المحيط الهندي ومن الشمال المحيط المتجمد الشمالي. تنقسم آسيا إلى 50 دولة، خمسها دول عابرة للقارات أي يقطع جزء من أراضيها في قارة أوروبا وهي جورجيا وأذربيجان وروسيا وكازاخستان وتركيا، وتعتبر صحراء جوبي في منغوليا أكبر صحاري آسيا. يعتبر نهر يانغ تسي في الصين أطول أنهار القارة. وسلسلة جبال الهيمالايا بين نيبال والصين أطول سلسلة جبلية في العالم. تمتد الغابات الاستوائية المطيرة عبر معظم جنوب آسيا وتقع الغابات المسنوبة والمنتخبة في أقصى الشمال.

اقرأ معلومات الخريطة والنص المصاحب، ثم أجب:

5-1

من الدول العابرة للقارات في قارة آسيا، دولة:

- أ. فرانس
- ب. أستراليا
- ج. روسيا
- د. الهند



آسيا أكبر قارات العالم مساحة وأكثرها سكاناً، ويقع معظمها في نصف الكرة الأرضية الشمالي، وهي تغطي 7% من مساحة سطح الأرض الكلية ومع ما يقرب من 47 مليار نسمة، وتحتضن 60% من سكان العالم بعدها من الشرق المحيط الهادي ومن الجنوب المحيط الهندي ومن الشمال المحيط المتجمد الشمالي. تنقسم آسيا إلى 50 دولة، خمس منها دول عابرة للقارات أي يقع جزء من أراضيها في قارة أوروبا وهي جورجيا وأذربيجان وروسيا وكازاخستان وتركيا وتعتبر صحراء حوبي في سفوليا أكبر صحاري آسيا يعتبر نهر يانغ تسي في الصين أطول أنهار القارة. وسلسلة جبال الهمالايا بين نيبال والصين أطول سلسلة جبلية في العالم تمتد الغابات الاستوائية المعتدلة عبر معظم جنوب آسيا وتقع الغابات العشبية والسفنية في أقصى الشمال.

اقرأ بيانات الشكل الآتي ثم أجب:

5 - 2

بلغت الشركات العاملة الهندية في دولة الإمارات:

- a. ثلاثين ألف شركة
- b. سبعين ألف شركة
- c. تسعين ألف شركة
- d. خمسين ألف شركة



اقرأ معلومات الخريطة بالنص المصاحب، ثم أجب

يحد قارة آسيا من جهة الشمال المحيط:

الهندي

الأطلنطي

المتجمد الشمالي

الهادي



آسيا أكبر قارات العالم مساحة وأكثرها سكاناً، وتقع معظمها في نصف الكرة الأرضية الشمالي، وهي تغطي 8.7% من مساحة سطح الأرض الكلية، ومع ما يقرب من 4.7 مليار نسمة، وتحتضن 60% من سكان العالم. يحدّها من الشرق المحيط الهادي ومن الجنوب المحيط الهندي ومن الشمال المحيط المتجمد الشمالي. تنقسم آسيا إلى 50 دولة، خصص منها دول عابرة للقارات أي يقع جزء من أراضيها في قارة أوروبا وهي جورجيا وأذربيجان وروسيا وكازاخستان وتركيا. وتعتبر صحراء جوبي في منغوليا أكبر صحاري آسيا. يعتبر نهر يانغ تسي في الصين أطول أنهار القارة، وسلسلة جبال الهيمالايا بين نيبال والصين أطول سلسلة جبلية في العالم. تملد الغابات الاستوائية المطيرة عبر معظم جنوب آسيا وتقع الغابات الصنوبرية والتنحسية في أقصى الشمال.

إعداد تحميل السؤال

اقرأ النص الآتي، ثم أجب:

5-1

من القيم السلوكية الإيجابية في النص:

S

- a. العمل المستدرك
- b. الإنجاز
- c. التعاون
- d. الانقراض



كبيرة على أرض الواقع.

حماية البيئة وحماية الحيوان، الآتي:

الأولى من نوعها نتج عنها

لكذلك تم تجريم صيد

دولة الإمارات العربية

حافظت على حيوان المها

لحيوانات المها الموجودة

معمبة خاصة في دولة

بها من الانقراض، وهذا ما

ألاف حيوان من حيوانات

بدرحمة الله في حماية البيئة فقد قام بالعمل على تحميل دولة الإمارات العربية

بمئة وأربعين مليون شجرة.

اقرأ بيانات الشكل الآتي، ثم أجب:

5 - 1

من أبرز صادرات دولة الإمارات العربية المتحدة إلى جمهورية الهند:

س

- .a النفط
- .b الزئبق المعدنية
- .c المشروبات
- .d الأحجار الكريمة

اقرأ معلومات الخريطة والنص المصاحب، ثم أجب:

5-4

تقع شبه الجزيرة العربية بالنسبة لقارة آسيا في جهة:

- a. شمال غرب
- b. جنوب غرب
- c. شمال شرق
- d. جنوب شرق



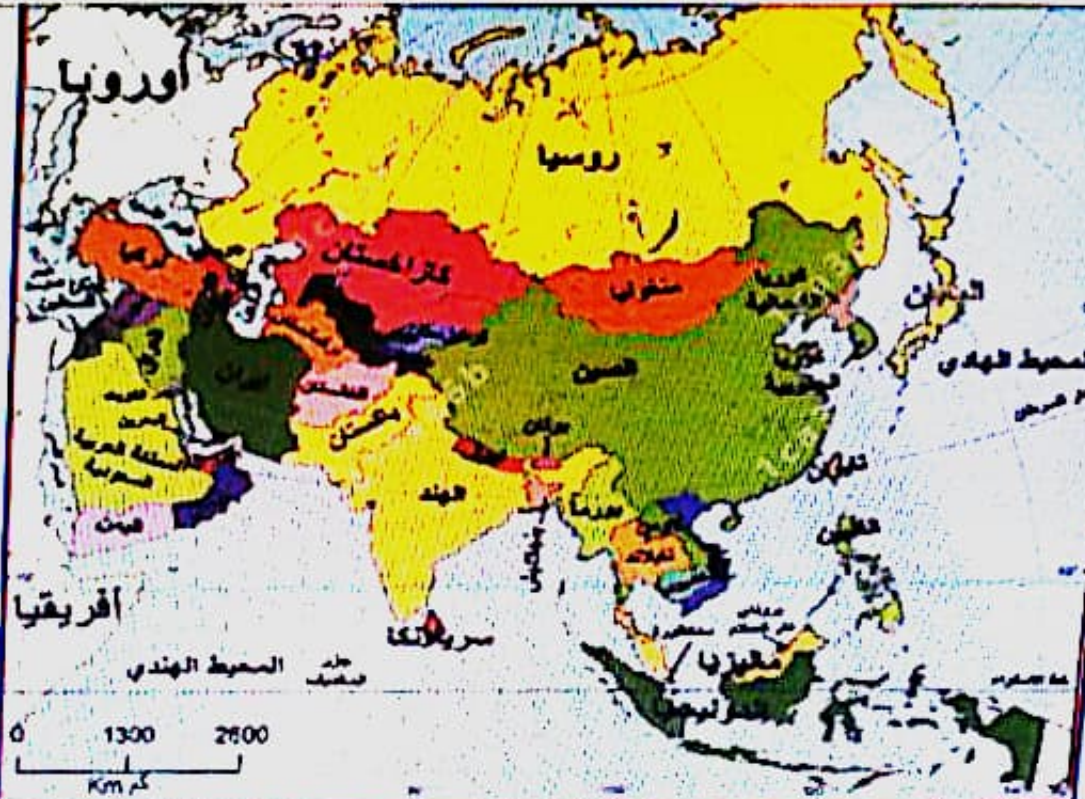
آسيا أكبر قارات العالم مساحة وأكثرها سكاناً. ويقع معظمها في نصف الكرة الأرضية الشمالي. وهي تغطي 8.7% من مساحة سطح الأرض الكلية. ومع ما يقرب من 4.7 مليار نسمة. وتحتضن 60% من سكان العالم. يحدها من الشرق المحيط الهندي ومن الجنوب المحيط الهندي ومن الشمال المحيط المتجمد الشمالي. تنقسم آسيا إلى 50 دولة، خمس منها دول عملاقة لشبهات أي يقع جزء من أراضيها في قارة أوروبا وهي جورجيا وأذربيجان وروسيا وكازاخستان وتركيا وتعتبر صحراء جوبي في منغوليا أكبر صحاري آسيا. يعتبر نهر يانغ تسي في الصين أطول أنهار القارة. وسلسلة جبال الهيمالايا بين نيبال والصين أطول سلسلة جبلية في العالم. تمتد العابات الاستوائية المعتدلة عبر معظم جنوب آسيا وتنتج الغابات الصنوبرية والفضية في أقصى الشمال.

اقرأ معلومات الخريطة والنص المصاحب، ثم أجب:

5-5

يحد قارة آسيا من جهة الشمال المحيط:

- a. الهندي
b. الأطلنطي
c. المتجمد الشمالي
d. الجليدي



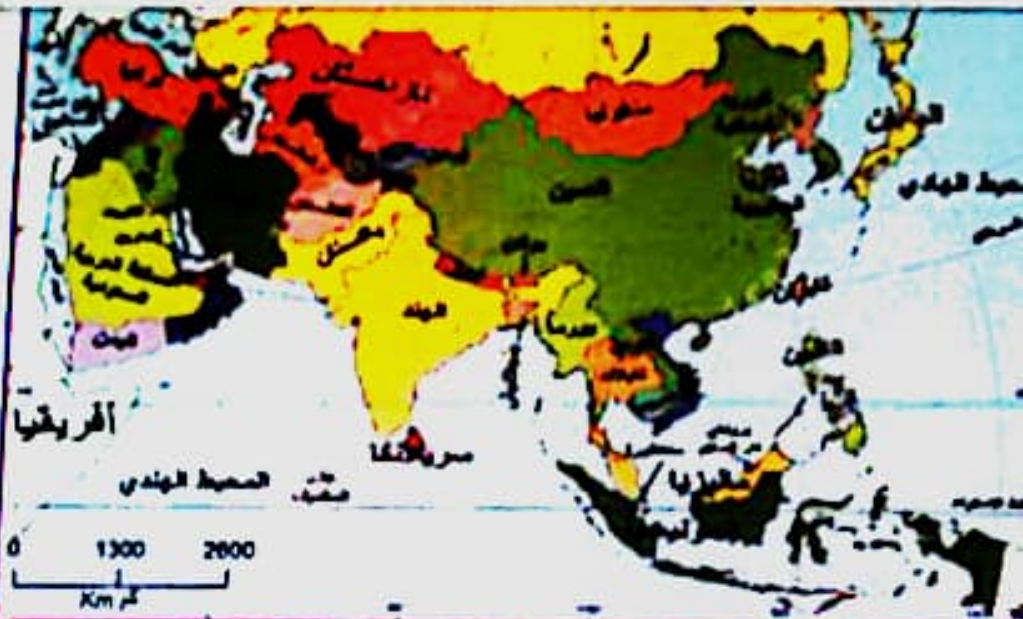
آسيا أكبر قارات العالم مساحة وأكثرها سكاناً، وتبلغ مساحتها في نصف الكرة الأرضية الشمالي وهي تعطي 8.7% من مساحة سطح الأرض الكلية. ومع ما يقرب من 4.7 مليار نسمة، وتحتضن 60% من سكان العالم. يحدّها من الشرق المحيط الهادي ومن الجنوب المحيط الهندي ومن الشمال المحيط المتجمد الشمالي. تنقسم آسيا إلى 50 دولة، خمس منها دول عابرة للقارات أي يمتد جزء من أراضيها في قارة أوروبا وهي جورجيا وأذربيجان وروسيا وكازاخستان وتركيا. وتعتبر صحراء جوبي في منغوليا أكبر صحاري آسيا.

اقرأ معلومات الخريطة والنص المصاحب، ثم أجب:

5-2

أطول أنهار قارة آسيا، نهر:

- أ - نهر الغانج
- ب - نهر الهندي
- ج - نهر اليانغتسي
- د - نهر الميكونغ



آسيا أكبر قارات العالم مساحة وأكثرها سكاناً، ويقع معظمها في نصف الكرة الأرضية الشمالي وهي تحتل 8.7% من مساحة سطح الأرض الكلية، ومع ما يقرب من 4.7 مليار نسمة، وتحتضن 60% من سكان العالم. يحدّها من الشرق المحيط الهادئ ومن الجنوب المحيط الهندي ومن الشمال المحيط المتجمد الشمالي. تنقسم آسيا إلى 50 دولة. خمس منها دول عابرة للقارات أي يقع جزء من أراضيها في قارة أوروبا وهي موريشيا وأذربيجان وروسيا وكازاخستان وتركمانيا وتعتبر صحراء حوبي في سموليا أكبر صحاري آسيا. يعتبر نهر يانغتسي في الصين أطول أنهار القارة، وسلسلة جبال الهمالايا من بينال والتسلي أطول سلسلة جبلية في العالم. تمتد العائلات الاستوائية المعتدلة عبر معظم جنوب آسيا وتقع الغابات الموسمية والسبخية في أقصى الشمال.

اقرأ معلومات الخريطة والنص المصاحب، ثم أجب

5-1

من الدول العابرة للقارات هي قارة آسيا، دولة:

- أ. فرنسا
- ب. ألمانيا
- ج. أستراليا
- د. روسيا



آسيا أكبر قارات العالم مساحة وأكثرها سكاناً وتقع معظمها في نصف الكرة الأرضية الشمالي وهي تعني 7% من مساحة سطح الأرض الكلية ومع ما يقرب من 47 مليار نسمة وتحتضن 60% من سكان العالم يحد من الشرق المحيط الهادئ ومن الجنوب المحيط الهندي ومن الشمال المحيط المتجمد الشمالي تنقسم آسيا إلى 50 دولة، خمس منها دول عابرة للقارات أي تقع جزء من أراضيها في قارة أوروبا وهي جورجيا وأذربيجان وروسيا وكازاخستان وتركيا وتهدم سد هراء حوي في سفوحها أكبر سد حجري آسيا يعتبر سد بامك في الصين أطول أنفاقها وسكة حديد البيلابا بين بيكين والتشنج أطول سلسلة جبلية في العالم تهدم القارات الاستوائية مطاراً غير معترف بهود آسيا وتقع الغابات الصنوبرية والشمسية في أقصى شمالها

اقرأ النص الاتي، ثم أجب

5-5

إنجازات الشيخ زايد بن سلطان آل نهيان - رحمه الله :-

- أ. إنشاء
- ب. محبته
- ج. خدمته
- د. ثقته

تعد إنجازات الشيخ زايد بن سلطان آل نهيان رحمه الله - الذي مؤسس لدولة الإمارات العربية المتحدة. حيث ترك إرثاً كبيراً للإماراتيين من إنجازات كبيرة على أرض الواقع.

ومن ضمن جهود الشيخ زايد في مجال حماية البيئة وحماية الحيوان، التي



- نه عمل مناقشة عامه 1967م في الأول من نوفمبر عنها اتفاقية مع صيد الحفوري. وكذلك نه تعريه صيد العيونات بالمعرفعات.

- حماية حيوان المها العربي. إذ تعد دولة الإمارات العربية المتحدة من أكثر دول العالم التي حذمت على حيوان المها العربي وذلك عن طريق تجميع كل حيوانات المها الموجودة بالدول الأخرى. نه وسعيها في عملية خاصة في دولة الإمارات العربية المتحدة لجمعها من الأقران. وهذا ما جعل الإمارات تمتلك الآن ثلاثة آلاف حيوان من حيوانات المها العربي.

- أما عن إنجازات الشيخ زايد - رحمه الله - في حماية البيئة فقد قام بالعمل على تفعيل دولة الإمارات العربية

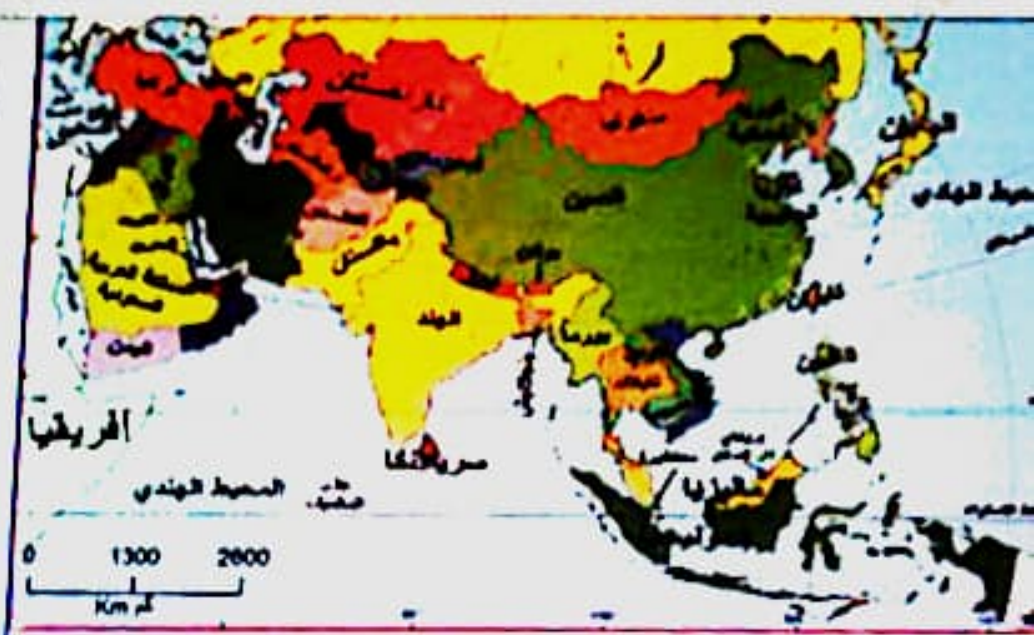
اقرأ معلومات الخريطة والنص المصاحب، ثم أجب

5-2

أطول أنهار قارة آسيا. نهر:

س

- أ. نهر
- ب. الغرابة
- ج. يانج تسى
- د. ساجان



آسيا أكبر قارات العالم مساحة وأكثرها سكاناً وتقع معظمها في نصف الكرة الأرضية الشمالي وهي تعدي 7% من مساحة سطح الأرض الكلية. ومع ما يقرب من 47 مليار نسمة، وتحتضن 60% من سكان العالم بعدها من الشرق المحيط الهادي ومن الجنوب المحيط الهندي ومن الشمال المحيط المتجمد الشمالي تنقسم آسيا إلى 50 دولة. حدها من الشمال من أوروبا من أراضيها في قارة أوروبا وهي جورجيا وأذربيجان وروسيا وكازاخستان وتركيا وتعتبر صحراء حوبي في جنوبها أكبر صحاري آسيا يعتبر نهر يانج تسى في الصين أطول أنهار القارة وسلسلة جبال الهيمالايا جبال والديس أطول سلسلة جبلية في العالم تمتد العائلات الاستوائية للقارة عبر معظم جنوب آسيا وتقع الغابات الصنوبرية والسعدية في أقصى الشمال

تقع شبه الجزيرة العربية بالنسبة لقارة آسيا في جهة:

د

أ. شمال غرب

ب. شمال شرق

ج. جنوب شرق

د. جنوب غرب



الجزيرة العربية

بحر الهندي



في الشمال وهي تعطي القارة
كان العالم

في الجنوب تقع القارة
من أراضيها في قارة أوروبا

اقرأ النص الآتي، ثم أجب:

5-3

الفكرة الرئيسية للنص، هي:

5

- a. إنجازات الشيخ زايد بن سلطان آل نهيان برحمة الله، في مجال حماية البيئة والحيوان
- b. إنجازات الشيخ زايد بن سلطان آل نهيان برحمة الله، في مجال الصحة
- c. إنجازات الشيخ زايد بن سلطان آل نهيان برحمة الله، في مجال الاقتصاد
- d. إنجازات الشيخ زايد بن سلطان آل نهيان برحمة الله، في مجال الزراعة الإقتصادية



اقرأ النص الآتي، ثم أجب:

5 - 4

نتج عن مناقشة عام 1967م تحريم صيد الحيوانات بـ :

5

- a. المرفقات
- b. الك
- c. السم
- d. السمك

اقرأ معلومات الخريطة النص المصاحب، ثم أجب:

5 - 3

من الدول العابرة للقارات في قارة آسيا، دولة:

د



a. قرغزستان



b. أفغانستان



c. أوزبكستان



d. أذربيجان



اقرأ معلومات الخريطة والنص المصاحب، ثم أجب:

5-4

أطول أنهار قارة آسيا، نهر:



a. سجون



b. يانغ تسى



c. انجرات



d. الهند



أوروبا

الهند

0 1300

كم Km

وهي تغطي 8.7% من

من المساحة التي تنقسم

حيا في قارة أوروبا

اقرأ معلومات الخريطة والنص المصاحب، ثم أجب:

5-1

يحد قارة آسيا من جهة الشمال المحيط:

- د/
- a. الهندي
- b. الهادي
- c. المتجمد الشمالي
- d. الأطلنطي

اقرأ القصة الآتية، ثم أجب

5-3

الشكوة الرئيسية للقصة هي:

5

- أ. إحداهما تسبح في البحر والآخر يحميها من خطر غرقها في البحر.
- ب. إحداهما تسبح في البحر والآخر يحميها من خطر غرقها في البحر.
- ج. إحداهما تسبح في البحر والآخر يحميها من خطر غرقها في البحر.
- د. إحداهما تسبح في البحر والآخر يحميها من خطر غرقها في البحر.



في حماية البيئة فقد قام بالفعل على تفعيل دولة الإمارات العربية
عدد الأشجار بذلك عن مائة وأربعين مليون شجرة

قصة
بنة العيون، الأثر
عنها
سبب
العربية
وان المها
الموجودة
في دولة
ش. وهذا ما
من حيوانات

اقرأ النص الآتي، ثم أجب:

5-2

من فوائد زراعة الأشجار دائمة الخضرة في دولة الإمارات العربية المتحدة:

§

a. زيادة البرق

b. المنظر الجملي

c. والحرة الأخشاب

d. زيادة الحرارة

اقرأ النص الآتي، ثم أجب:

5 - 5

إنجازات الشيخ زايد بن سلطان آل نهيان - رحمه الله:

Ⓝ



كثرة

a.



محدودة

b.



خاصة

c.



قليلة

d.

اقرأ بيانات الشكل الآتي. ثم أجب.

5-3

احتلت جمهورية الهند في مجال الشركات الاقتصادية بالنسبة لدولة الإمارات، المرتبة:

- أ. الرابعة
- ب. الأولى
- ج. الثالثة
- د. الثانية



حلل صور الألعاب الشعبية القديمة في دولة الإمارات العربية المتحدة والمعلومات المصاحبة، ثم أجب

5-3

لعبة شعبية تعارض عن طريق سحب عيني أحد الأطفال ليعوم لاحقاً بالحوي وراء الأطفال الإمساك بأحد هذين

الجواب

- أ. القوي
- ب. القوي
- ج. القوي
- د. العبيد

حل صور الألعاب الشعبية القديمة في دولة الإمارات العربية المتحدة والمعلومات المصاحبة، ثم أجب:

5-1

لعبة جماعية، يقوم فيها الفريق الذي يجلس على الأرض على شكل دائرة من يتولى عملية عد الأصابع وترديد أهزوجة خاصة:

س

- a. الشفحة
- b. النسبة
- c. خوصة واحدة
- d. الشوامة

51:47



4-2



تبار نهاية الفصل الدراسي الثاني - 2024-2023 B

اقرأ معلومات الخريطة والنص المصاحب، ثم أجب:

5-5

من أهم دوائر العرض التي تمر في قارة آسيا:



a. خط الاستواء



b. مدار الحدي



c. الدائرة القطبية الجنوبية



d. خط حرستان



الكرة الأرضية الشمالي، وهي تغطي 8.7% من
60% من سكان العالم.
الشمال المعجود المنجمد الشمالي. تنقسم
يقع جزء من أراضيها في قارة أوروبا



حلل صور الألعاب الشعبية القديمة في دولة الإمارات العربية المتحدة والمعلومات المصاحبة، ثم أجب:

5 - 4

تحتاج لعبة المسطاع من اللاعب إلى:



a. سرعة المشي



b. الوقوف في نظام



c. سف التولة



d. قوة ولياقة جسدية

م فيها

شكل

وتزويد

اللعبة.

مخرج من

من تتولى

تأنيق



اقرأ بيانات الشكل الآتي، ثم أجب:

5-4

يبلغ عدد الرحلات الجوية المتبادلة بين دولة الإمارات العربية المتحدة وجمهورية الهند:

س

- a. 973 رحلة
- b. 937 رحلة
- c. 793 رحلة
- d. 730 رحلة

حلل صور الألعاب الشعبية القديمة في دولة الإمارات المتحدة والمعلومات المتاحة، ثم أجب:

5-2

من فوائد لعبة القحيف تدريب المشاركات على:

د

- a. التركيز
- b. الحواس
- c. المشي
- d. التوازن

حلل صور الألعاب الشعبية القديمة في دولة الإمارات العربية المتحدة والمعلومات المصاحبة، ثم أجب:

5-5

لعبة شعبية إماراتية يتم فيها ربط حبال متينة في جذوع الأشجار المتقاربة، بحيث يمكن الجلوس عليها والتأرجح:

- a. التينة
- b. المريحان
- c. الصية
- d. خزر رفاق

تقوم فيها
أرض بشكل
الأصابع وترديد
عنوان اللعبة
با المعد تخرج من
من هي من تتولى
اللعبة الثانية



تأنت، حيث يرصمن

اقراء بيانات الشكل الآتي، ثم أجب:

5 - 1

من أبرز صادرات دولة الإمارات العربية المتحدة إلى جمهورية الهند:

📄

- a. النفط
- b. المسوحات
- c. الزيوت المعدنية
- d. الأحجار الكريمة

