

تم تحميل هذا الملف من موقع المناهج الإماراتية



الملف حل امتحان نهاية الفصل الأول 2021-2022

[موقع المناهج](#) ⇨ [المناهج الإماراتية](#) ⇨ [الصف السادس](#) ⇨ [اجتماعيات](#) ⇨ [الفصل الأول](#)

روابط مواقع التواصل الاجتماعي بحسب الصف السادس



روابط مواد الصف السادس على تلغرام

[الرياضيات](#)

[اللغة الانجليزية](#)

[اللغة العربية](#)

[التربية الاسلامية](#)

المزيد من الملفات بحسب الصف السادس والمادة اجتماعيات في الفصل الأول

اجتماعيات تحميل كتاب الطالب	1
تحميل دليل المعلم	2
أوراق عمل	3
مراجعة درس الحضارة تعريف الحضارة- عوامل نشوء - سبب ازدهار	4
ورقة عمل المواطنة الإيجابية	5



يأتي:

25.00 علامة

5 - 1

من قيم المواطنة الرقمية الإيجابية،
وتتمثل في تعزيز قيم التضامن
والتعاطف الاجتماعي واستخدام
المنصات بحكمة: **المنصات بحكمة:**

.a حُسن الصيت

.b حُسن الصحبة

.c حُسن الجوار

.d حُسن التعامل



i

الأرقام والألوان، أجب عما يأتي:

25.00 علامة

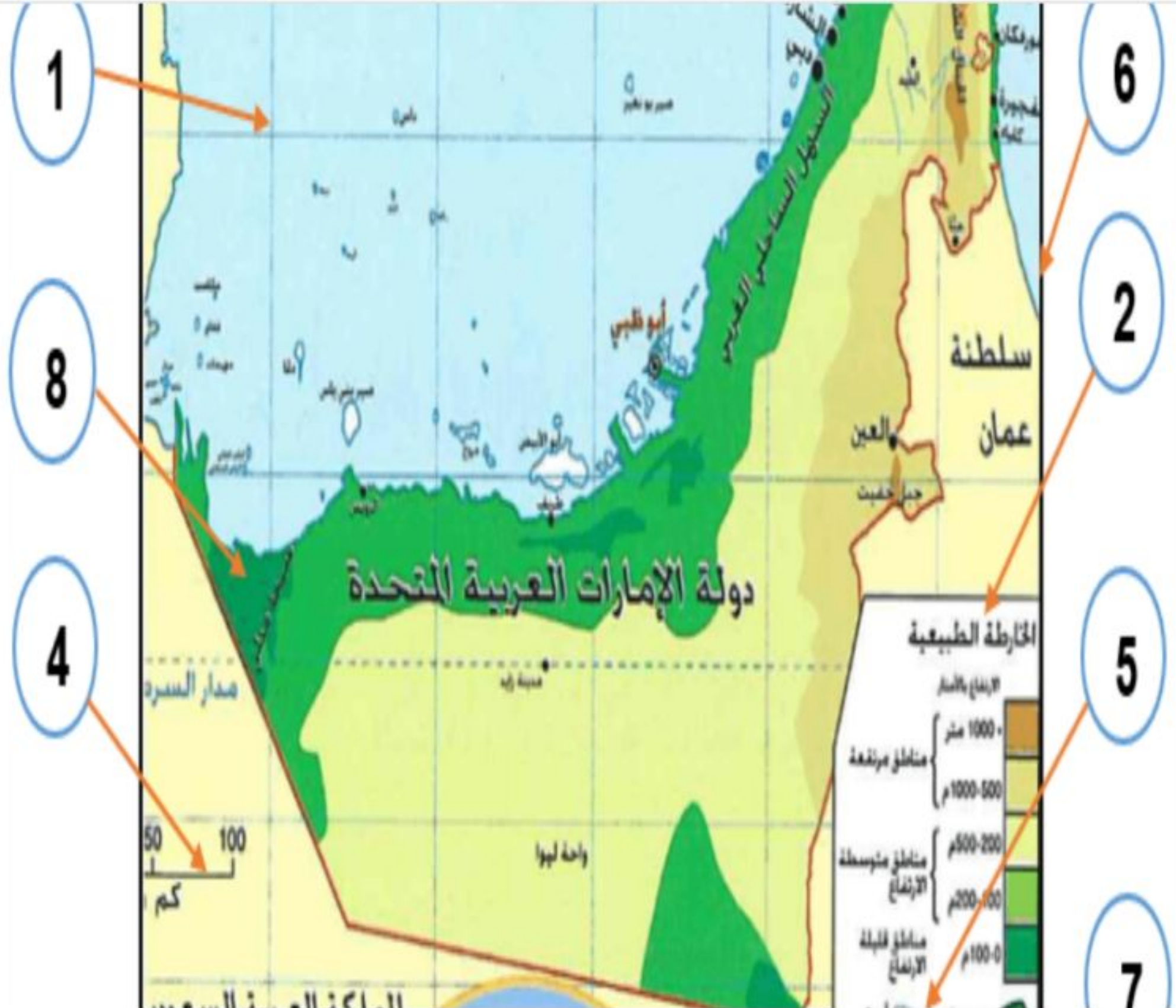
5 - 1

يشير الرقم (1) في الخريطة إلى:

 a. الأسماء الجغرافية

 b. إحداثيات الخريطة

 c. النظام الشبكي

 d. رموز الخريطة


49:03



4 - 3



الصف السادس - الدراسات الاجتماعية - امتحان نهاية الفصل الدراسي الأول - B-2022-2021



اقرأ النص، ثم أجب عن الآتي:

25.00 علامة

5 - 1

أي من الأفكار تعتبر الفكرة الرئيسية للنص:

a. إنجازات مؤسسة خليفة بن زايد آل نهيان للأعمال الإنسانية

b. مبادرات رئيس الدولة الخيرية والإنسانية

c. مساعدة الشعوب واجب إنساني

d. إغاثة المحتاجين والمتضررين في العالم

أصدر صاحب السمو الشيخ خليفة بن زايد آل نهيان، رئيس الدولة -حفظه الله- عام 2007م قانوناً بتأسيس مؤسسة خليفة بن زايد آل نهيان للأعمال الإنسانية، وترتكز استراتيجيتها في تقديم المساعدات في مجالي الصحة والتعليم محلياً وإقليمياً وعالمياً، حيث وصلت مساعدات المؤسسة منذ نشأتها لأكثر من 87 دولة حول العالم.

تسهم المؤسسة في توفير البنى التحتية الأساسية مثل المدارس، والمستشفيات، للمجتمعات الفقيرة والمحتاجة، كما تقوم المؤسسة بتمويل وتنفيذ المشاريع التنموية المستدامة التي تستهدف الدول والمجتمعات الفقيرة، كذلك تلي النداءات الإنسانية التي تصدر عن الأمم المتحدة، والمنظمات الدولية خلال الكوارث والأزمات، حيث استطاعت وخلال الثماني سنوات الأولى -منذ نشأتها- تنفيذ حوالي 40 إغاثة طارئة في العديد من الدول حول العالم. ومن أبرز إنجازات المؤسسة على الساحة العالمية:

• بناء سلسلة مستشفيات الشيخ خليفة بن زايد آل نهيان في المغرب، ولبنان، وسوقطرى، وجزر القمر، وكازاخستان وباكستان، وكذلك المساجد في القدس، وكازاخستان، والصين.

السؤال التالي

أقرأ النص، ثم
أجب عن الآتي:

5 - 3

25.00

علامة

بن زايد آل نهيان
للأعمال
الإنسانية لتقديم
المساعدات في
مجالي:

a. فقط الصحة

b. والصحة والاقتصاد

c. فقط التعليم

d. والصحة والتعليم

أصدر صاحب السمو الشيخ خليفة بن زايد آل نهيان، رئيس الدولة -حفظه الله- عام 2007م قانوناً بتأسيس مؤسسة خليفة بن زايد آل نهيان للأعمال الإنسانية، وترتكز استراتيجيتها في تقديم المساعدات في مجالي الصحة والتعليم محلياً وإقليمياً وعالمياً، حيث وصلت مساعدات المؤسسة منذ نشأتها لأكثر من 87 دولة حول العالم. تسهم المؤسسة في توفير البنى التحتية الأساسية مثل المدارس، والمستشفيات، للمجتمعات الفقيرة والمجاجة، كما تقوم المؤسسة بتمويل وتنفيذ المشاريع التنموية المستدامة التي تستهدف الدول والمجتمعات الفقيرة، كذلك تلي النداءات الإنسانية التي تصدر عن الأمم المتحدة، والمنظمات الدولية خلال الكوارث والأزمات، حيث استطاعت وخلال الثماني سنوات الأولى -منذ نشأتها- تنفيذ حوالي 40 Initiative طارئة في العديد من الدول حول العالم. ومن أبرز إنجازات المؤسسة على الساحة العالمية:

- بناء سلسلة مستشفيات الشيخ خليفة بن زايد آل نهيان في المغرب، ولبنان، وسقطري، وجزر القمر، وكازاخستان وباكستان، وكذلك المساجد في القدس، وكازاخستان، والصين.
- مساعدة الحجاج من ذوي الدخل المنخفض للسفر إلى مكة المكرمة.
- تأسيس مستشفى الإمارات في باكستان بتكلفة قدرها 108 مليون دولار أمريكي.
- تقديم حفارة لحفر الآبار ذات تقنية عالية لاستخراج مياه الشرب، وسد حاجة السكان من الوزارة المياه المورثانية.

اقرأ النص، ثم
أجب عن الآتي:

5 - 2
25.00
علامة

من إشارتها نحو:

a. سبعين
 مسجداً

b. ثمانين
 مشروعاً
 خيرياً

c. خمسين
 مدرسة

d. أربعين
 إغاثة
 طائرة
 للدول

أصدر صاحب السمو الشيخ خليفة بن زايد آل نهيان، رئيس الدولة -حفظه الله- عام 2007م قانوناً بتأسيس مؤسسة خليفة بن زايد آل نهيان للأعمال الإنسانية، وترتكز استراتيجيتها في تقديم المساعدات في مجالي الصحة والتعليم محلياً وإقليمياً وعالمياً، حيث وصلت مساعدات المؤسسة منذ نشأتها لأكثر من 87 دولة حول العالم.

تسهم المؤسسة في توفير البنى التحتية الأساسية مثل المدارس، والمستشفيات، للمجتمعات الفقيرة والمجاجة، كما تقوم المؤسسة بتمويل وتنفيذ المشاريع التنموية المستدامة التي تستهدف الدول والمجتمعات الفقيرة، كذلك تلي النداءات الإنسانية التي تصدر عن الأمم المتحدة، والمنظمات الدولية خلال الكوارث والأزمات، حيث استطاعت وخلال الثماني سنوات الأولى -منذ نشأتها- تنفيذ حوالي 40 إغاثة طارئة في العديد من الدول حول العالم.

ومن أبرز إنجازات المؤسسة على الساحة العالمية:

- بناء سلسلة مستشفيات الشيخ خليفة بن زايد آل نهيان في المغرب، ولبنان، وسقطري، وجزر القمر، وكازاخستان وباكستان، وكذلك المساجد في القدس، وكازاخستان، والصين.
- مساعدة الحجاج من ذوي الدخل المنخفض للسفر إلى مكة المكرمة.
- تأسيس مستشفى الإمارات في باكستان بتكلفة قدرها 108 مليون دولار أمريكي.
- تقديم حفارة لحفر الآبار ذات تقنية عالية لاستخراج مياه الشرب، وسد حاجة السكان من الوزارة المياه المورثانية.

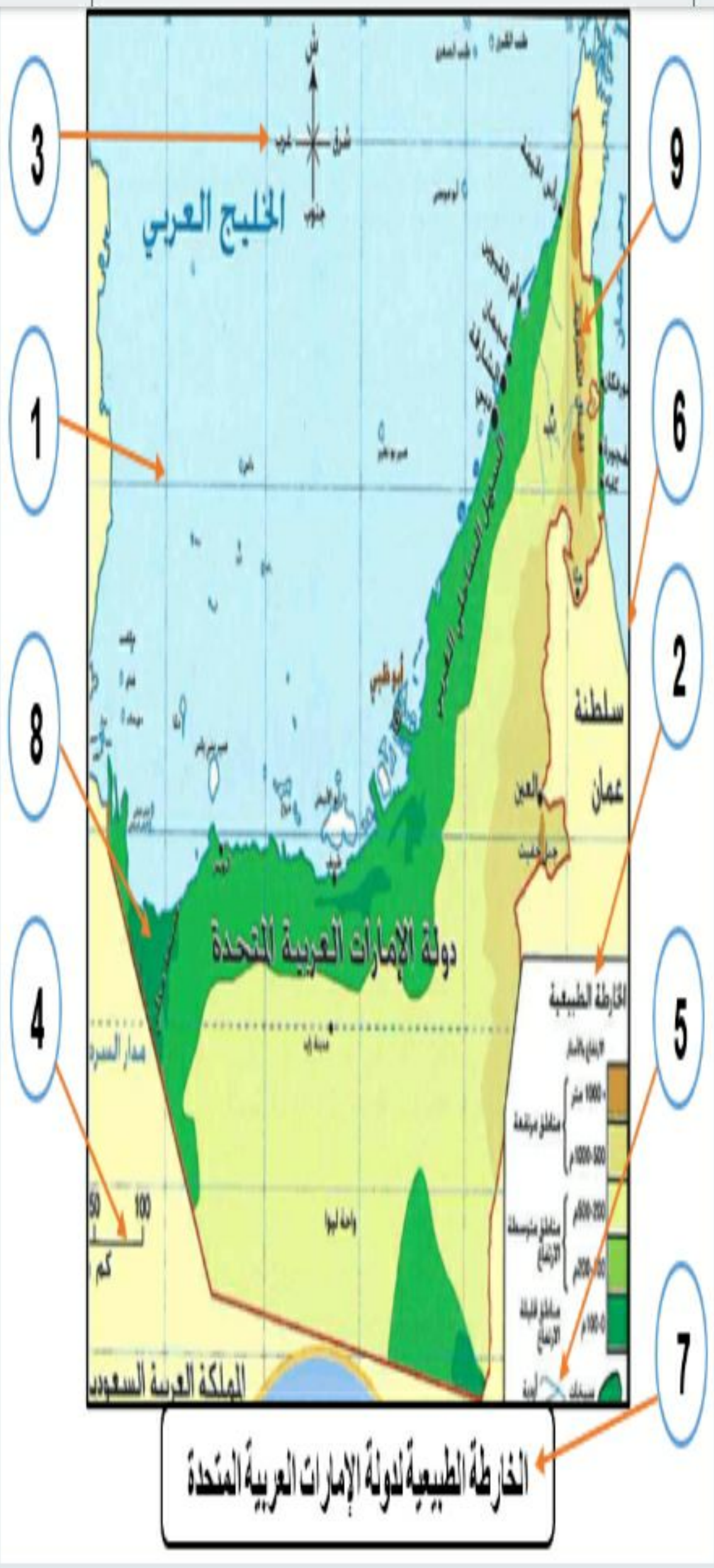
السؤال التالي

حلل بيانات الخريطة ثم بدلالة الأرقام والألوان، أجب عما يأتي:

5 - 5
25.00
علامة

من عناصر الخريطة المهمة ويشير إليه الرقم (3) في الخريطة:

- a. الهضاب
- b. مقياس الرسم
- c. البحر
- d. مبيد الجهات



الخارطة الطبيعية لدولة الإمارات العربية المتحدة

السؤال التالي

حلل بيانات الخريطة ثم بدلالة الأرقام والألوان، أجب عما يأتي:

5 - 4

25.00

علامة

الرقم (8) على:

مناطق مرتفعة

.a

مناطق الأودية

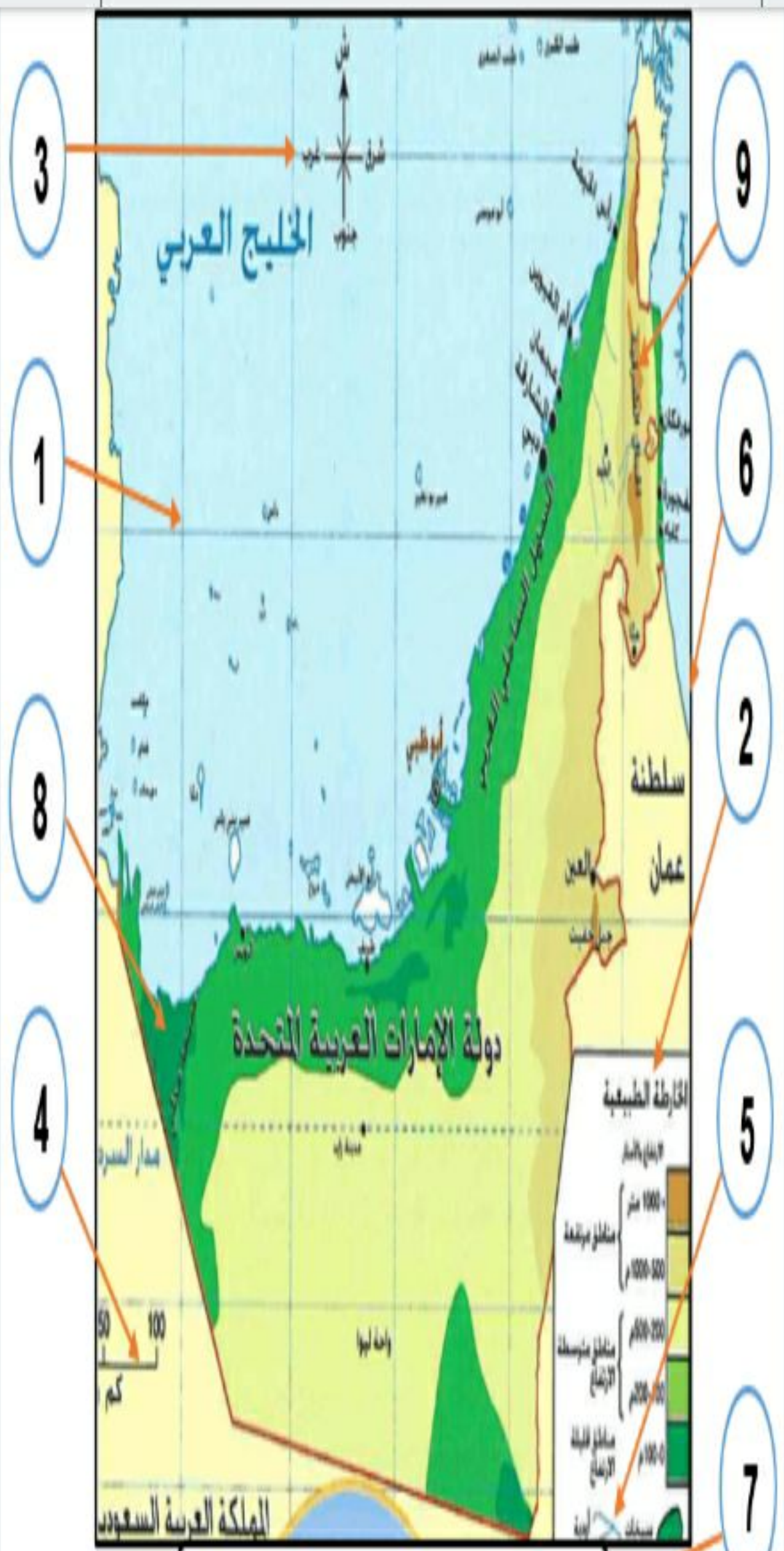
.b

مناطق جبلية

.c

مناطق قليلة الارتفاع

.d



الخارطة الطبيعية لدولة الإمارات العربية المتحدة



حلل بيانات الخريطة ثم بدلالة الأرقام والألوان، أجب عما يأتي:

5 - 3

25.00

علامة

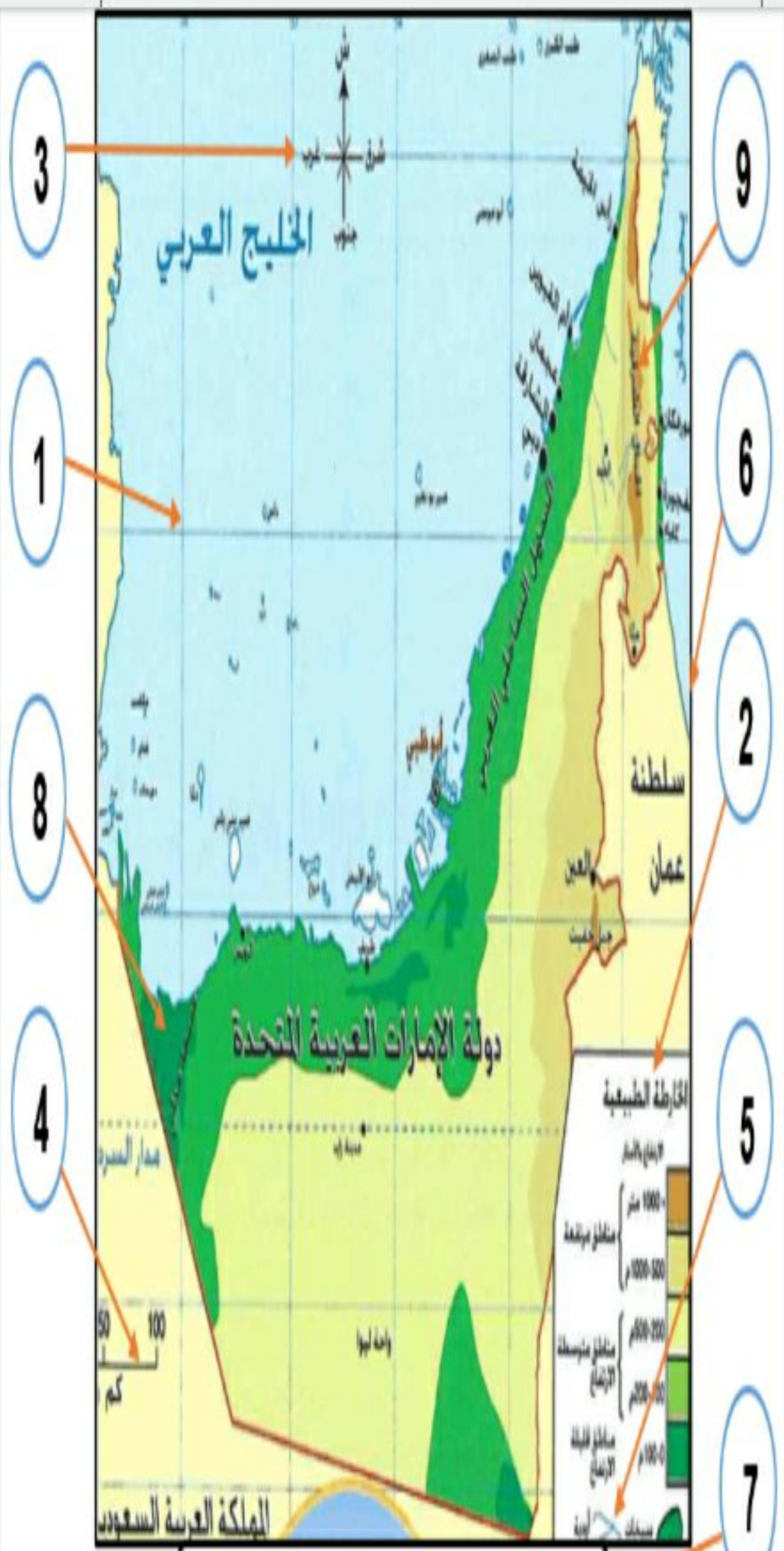
عناصر الخريطة، وهو:

إطار الخريطة .a

الموقع الجغرافي .b

مقياس الرسم .c

عنوان الخريطة .d



الخارطة الطبيعية لدولة الإمارات العربية المتحدة



51:38



4 - 1



الصف السادس - الدر...



حلل بيانات
الخريطة ثم
بدلالة الأرقام
والألوان، أجب
عما يأتي:



5 - 2

25.00

علامة

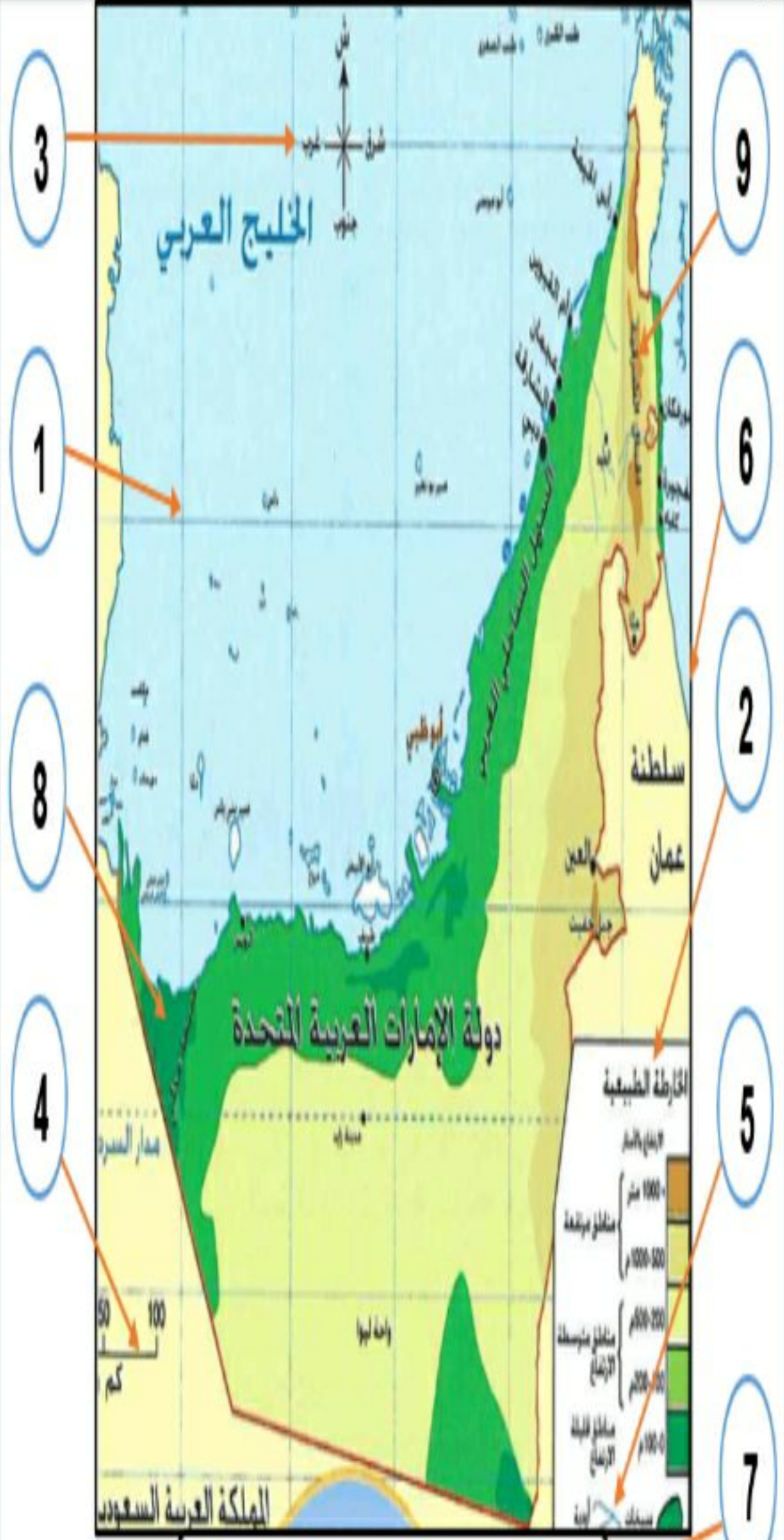
مفتاح الخريطة
من عناصر
الخريطة ويشير
إليه الرقم:

a. (6)

b. (9)

c. (4)

d. (2)



الخارطة الطبيعية لدولة الإمارات العربية المتحدة



53:22



4 - 1



الصف السادس - الدراسات ...



حلل بيانات
الخريطة ثم
بدلالة الأرقام
والألوان، أجب
عما يأتي:



5 - 1

25.00

علامة

يسير
في الخريطة
إلى:



a.



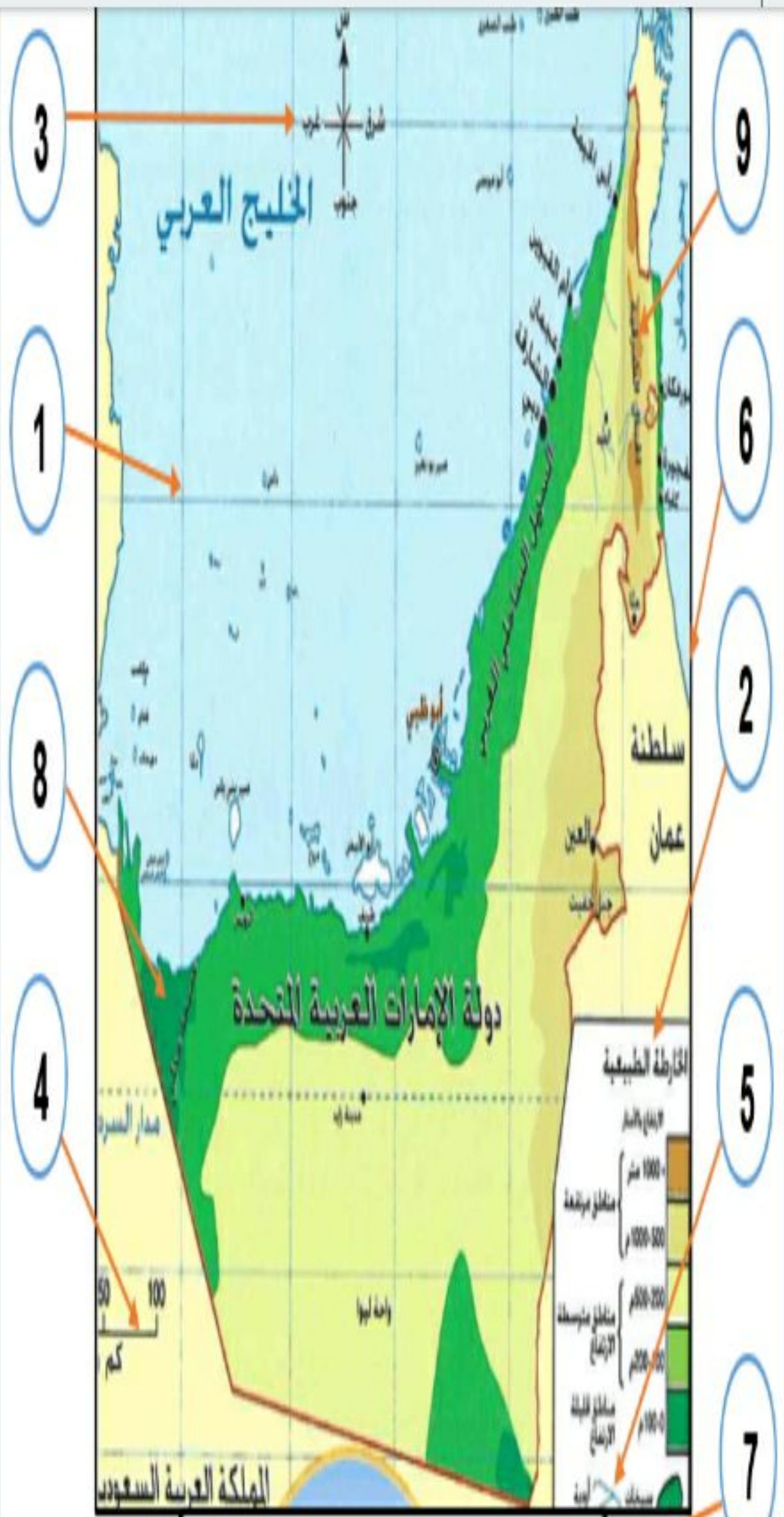
b.



c.



d.



الخارطة الطبيعية لدولة الإمارات العربية المتحدة



57:50



4 - 3



الصف السادس - الدراسات الاجتماعية - امتحان نهاية الفصل الدراسي الأول - B-2022-2021



اقرأ النص، ثم أجب عن الآتي:

25.00 علامة

5 - 4

من القيم السلوكية الإيجابية الواردة في النص:

- a. الرحمة
- b. السلام
- c. التعاون
- d. الإنجاز

أصدر صاحب السمو الشيخ خليفة بن زايد آل نهيان، رئيس الدولة -حفظه الله- عام 2007م قانوناً بتأسيس مؤسسة خليفة بن زايد آل نهيان للأعمال الإنسانية، وترتكز استراتيجيتها في تقديم المساعدات في مجالي الصحة والتعليم محلياً وإقليمياً وعالمياً، حيث وصلت مساعدات المؤسسة منذ نشأتها لأكثر من 87 دولة حول العالم. تسهم المؤسسة في توفير البنى التحتية الأساسية مثل المدارس، والمستشفيات، للمجتمعات الفقيرة والمحتاجة، كما تقوم المؤسسة بتمويل وتنفيذ المشاريع التنموية المستدامة التي تستهدف الدول والمجتمعات الفقيرة، كذلك تلي النداءات الإنسانية التي تصدر عن الأمم المتحدة، والمنظمات الدولية خلال الكوارث والأزمات، حيث استطاعت وخلال الثماني سنوات الأولى -منذ نشأتها- تنفيذ حوالي 40 إغاثة طارئة في العديد من الدول حول العالم. ومن أبرز إنجازات المؤسسة على الساحة العالمية:

- بناء سلسلة مستشفيات الشيخ خليفة بن زايد آل نهيان في المغرب، ولبنان، وسوقطرى، وجزر القمر، وكازاخستان وباكستان، وكذلك المساجد في القدس، وكازاخستان، والصين.

65:10



4 - 4



الصف السادس - الدراسات الاجتماعية - امتحان نهاية الفصل الدراسي الأول - 2021-2022 B



حلل بيانات الخريطة ثم بدلالة الأرقام والألوان،
أجب عما يأتي:

25.00 علامة

5 - 1

يشير الرقم (1) في الخريطة إلى:

- a. رموز الخريطة
- b. الأسماء الجغرافية
- c. إحداثيات الخريطة
- d. النظام الشبكي



السؤال السابق

اقرأ النص، ثم اجب عن الآتي:

25.00 علامة 5 - 1

أي من الأفكار تعتبر الفكرة الرئيسة للنص:

a. إنجازات مؤسسة خليفة بن زايد آل نهيان للأعمال الإنسانية

b. مبادرات رئيس الدولة الخيرية والإنسانية

c. مساعدة الشعوب واجب إنساني

d. إغاثة المحتاجين والمتضررين في العالم

أصدر صاحب السمو الشيخ خليفة بن زايد آل نهيان، رئيس الدولة -حفظه الله- عام 2007م قانوناً بتأسيس مؤسسة خليفة بن زايد آل نهيان للأعمال الإنسانية، وترتكز استراتيجيتها في تقديم المساعدات في مجالي الصحة والتعليم محلياً وإقليمياً وعالمياً، حيث وصلت مساعدات المؤسسة منذ نشأتها لأكثر من 87 دولة حول العالم.

تسهم المؤسسة في توفير البنى التحتية الأساسية مثل المدارس، والمستشفيات، للمجتمعات الفقيرة والمحتاجة، كما تقوم المؤسسة بتمويل وتنفيذ المشاريع التنموية المستدامة التي تستهدف الدول والمجتمعات الفقيرة، كذلك تلي النداءات الإنسانية التي تصدر عن الأمم المتحدة، والمنظمات الدولية خلال الكوارث والأزمات، حيث استطاعت وخلال الثماني سنوات الأولى -منذ نشأتها- تنفيذ حوالي 40 إغاثة طارئة في العديد من الدول حول العالم.

ومن أبرز إنجازات المؤسسة على الساحة العالمية:

- بناء سلسلة مستشفيات الشيخ خليفة بن زايد آل نهيان في المغرب، ولبنان، وسوق قري، وجزر القمر، وكازاخستان وباكستان، وكذلك المساجد في القدس، وكازاخستان، والصين.

السؤال السابق

اقرأ النص، ثم اجب عن الآتي:

25.00 علامة

5 - 2

نّفذت مؤسسة خليفة بن زايد آل نهيان للأعمال الإنسانية خلال أول 8 سنوات من إنشائها نحو:

- a. أربعين إغاثة طارئة للدول
- b. سبعين مسجداً
- c. خمسين مدرسة
- d. ثمانين مشروعاً خيرياً

أصدر صاحب السمو الشيخ خليفة بن زايد آل نهيان، رئيس الدولة -حفظه الله- عام 2007م قانوناً بتأسيس مؤسسة خليفة بن زايد آل نهيان للأعمال الإنسانية، وترتكز استراتيجيتها في تقديم المساعدات في مجالي الصحة والتعليم محلياً وإقليمياً وعالمياً، حيث وصلت مساعدات المؤسسة منذ نشأتها لأكثر من 87 دولة حول العالم.

تسهم المؤسسة في توفير البنى التحتية الأساسية مثل المدارس، والمستشفيات، للمجتمعات الفقيرة والمحتاجة، كما تقوم المؤسسة بتمويل وتنفيذ المشاريع التنموية المستدامة التي تستهدف الدول والمجتمعات الفقيرة، كذلك تلي النداءات الإنسانية التي تصدر عن الأمم المتحدة، والمنظمات الدولية خلال الكوارث والأزمات، حيث استطاعت وخلال الثماني سنوات الأولى -منذ نشأتها- تنفيذ حوالي 40 إغاثة طارئة في العديد من الدول حول العالم. ومن أبرز إنجازات المؤسسة على الساحة العالمية:

- بناء سلسلة مستشفيات الشيخ خليفة بن زايد آل نهيان في المغرب، ولبنان، وسوقطرى، وجزر القمر، وكازاخستان وباكستان، وكذلك المساجد في القدس، وكازاخستان، والصين.

قدمت مؤسسة خليفة بن زايد آل نهيان للأعمال الإنسانية حفارة لحفر الآبار ذات تقنية عالية لاستخراج مياه الشرب لجمهورية:

- .a تشاد
- .b العراق
- .c السودان
- .d موريتانيا

من القيم السلوكية الإيجابية الواردة في النص:

a. الرحمة

b. السلام

c. التعاون

d. الإنجاز

62:44



4 - 4



الصف السادس - الدراسات الاجتماعية - امتحان نهاية الفصل الدراسي الأول - 2021-2022 B



حلل بيانات الخريطة ثم بدلالة الأرقام والألوان،
أجب عما يأتي:

25.00 علامة

3 - 5

الرقم (7) يشير إلى عنصر من عناصر الخريطة.
وهو:

- a. إطار الخريطة
- b. الموقع الجغرافي
- c. مقياس الرسم
- d. عنوان الخريطة



الخارطة الطبيعية لدولة الإمارات العربية المتحدة

67:49



4 - 4



الصف السادس - الدراسات الاجتماعية - امتحان نهاية الفصل الدراسي الأول - 2021-2022 B



حلل بيانات الخريطة ثم بدلالة الأرقام والألوان،
أجب عما يأتي:

علامة 25.00

2 - 5

مفتاح الخريطة من عناصر الخريطة ويشير إليه
الرقم:

- (6) .a
- (9) .b
- (4) .c
- (2) .d

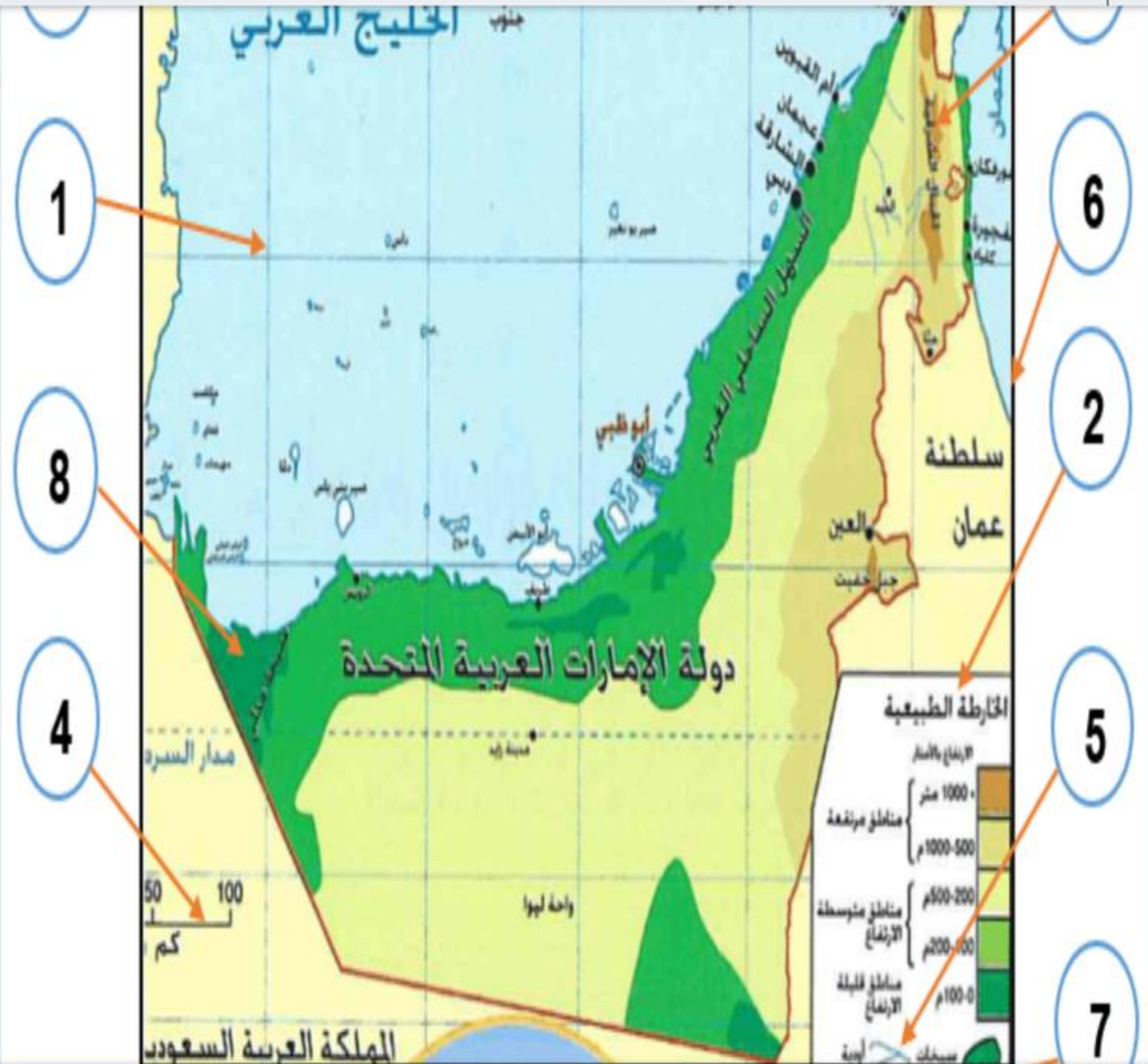


حلل بيانات الخريطة ثم بدلالة الأرقام والألوان، أجب عما يأتي:

25.00 علامة 5 - 4

يدل اللون الأخضر في الخريطة ويمثله الرقم (8) على:

- a. مناطق الأودية
- b. مناطق قليلة الارتفاع
- c. مناطق جبيلة
- d. مناطق مرتفعة



السؤال السابق

اقرأ معلومات الشكل،

ثم أجب عما يأتي:

5 - 1

25.00 علامة

من قيم المواطنة الرقمية الإيجابية، وتتمثل في تعزيز قيم التضامن والتعاطف الاجتماعي واستخدام المنصات بحكمة:

 a. حسن التعامل

 b. حسن الصحة

 c. حسن الصيغ

 d. حسن الجوار

10 قيم ضمن ميثاق «المواطنة الرقمية الإيجابية»



من قيم المواطنة الرقمية الإيجابية، وتتمثل في تعزيز قيم التضامن والتعاطف الاجتماعي واستخدام المنصات بحكمة:

- a. حُسن الجوار
- b. حُسن الصيت
- c. حُسن الصحبة
- d. حُسن التعامل

حلل بيانات الخريطة ثم بدلالة الأرقام والألوان،
أجب عما يأتي:

25.00 علامة

5 - 3

الرقم (7) يشير إلى عنصر من عناصر الخريطة،
وهو:



a. إطار الخريطة



b. الموقع الجغرافي



c. مقياس الرسم



d. عنوان الخريطة



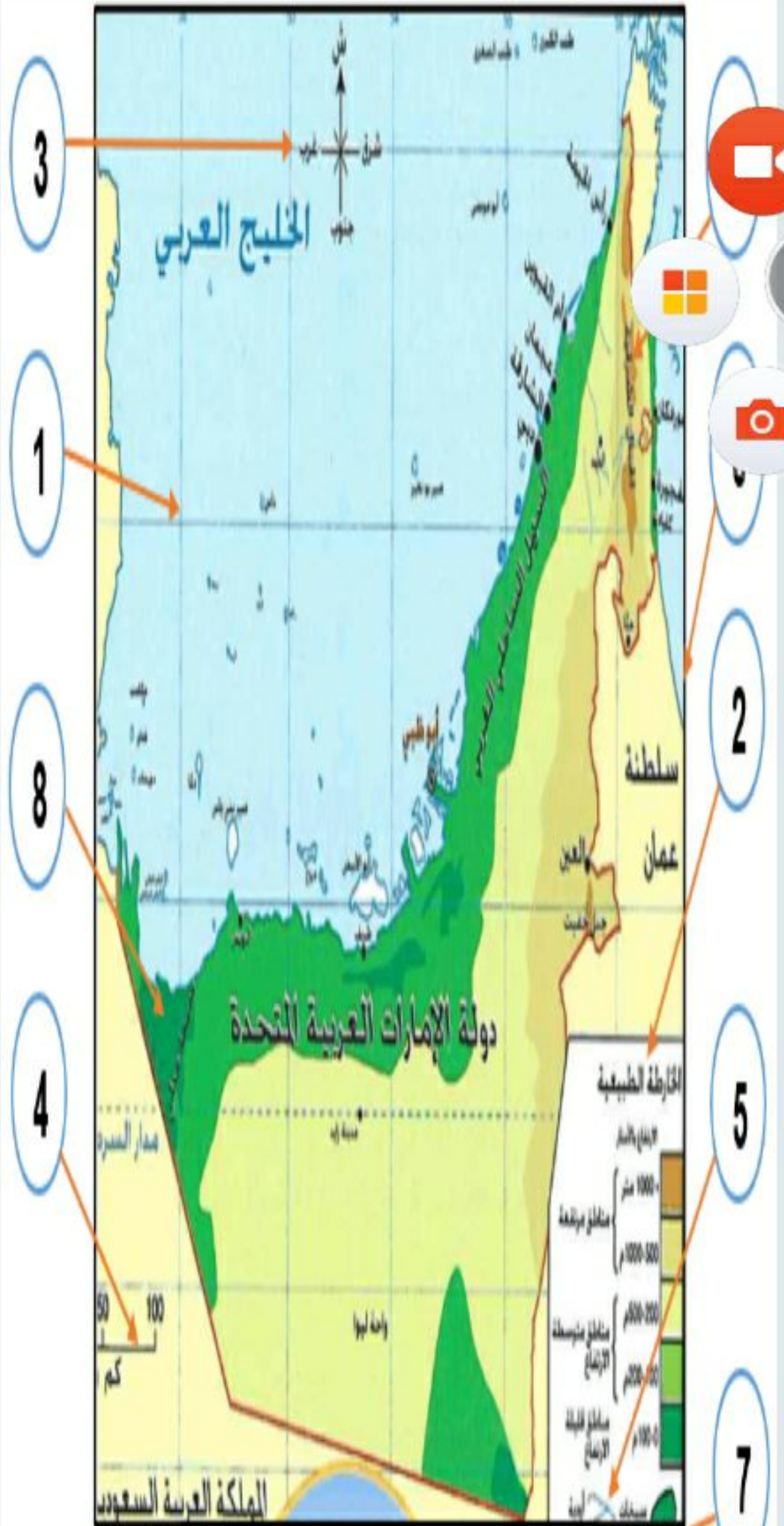
حلل بيانات
الخريطة ثم
بدلالة الأرقام
والألوان، أجب
عما يأتي:

5 - 3

25.00

علامة

عناصر الخريطة،
وهو:



الخارطة الطبيعية لدولة الإمارات العربية المتحدة



حلل بيانات
الخريطة ثم
بدلالة الأرقام
والألوان، أجب
عما يأتي:



5 - 3

25.00

علامة

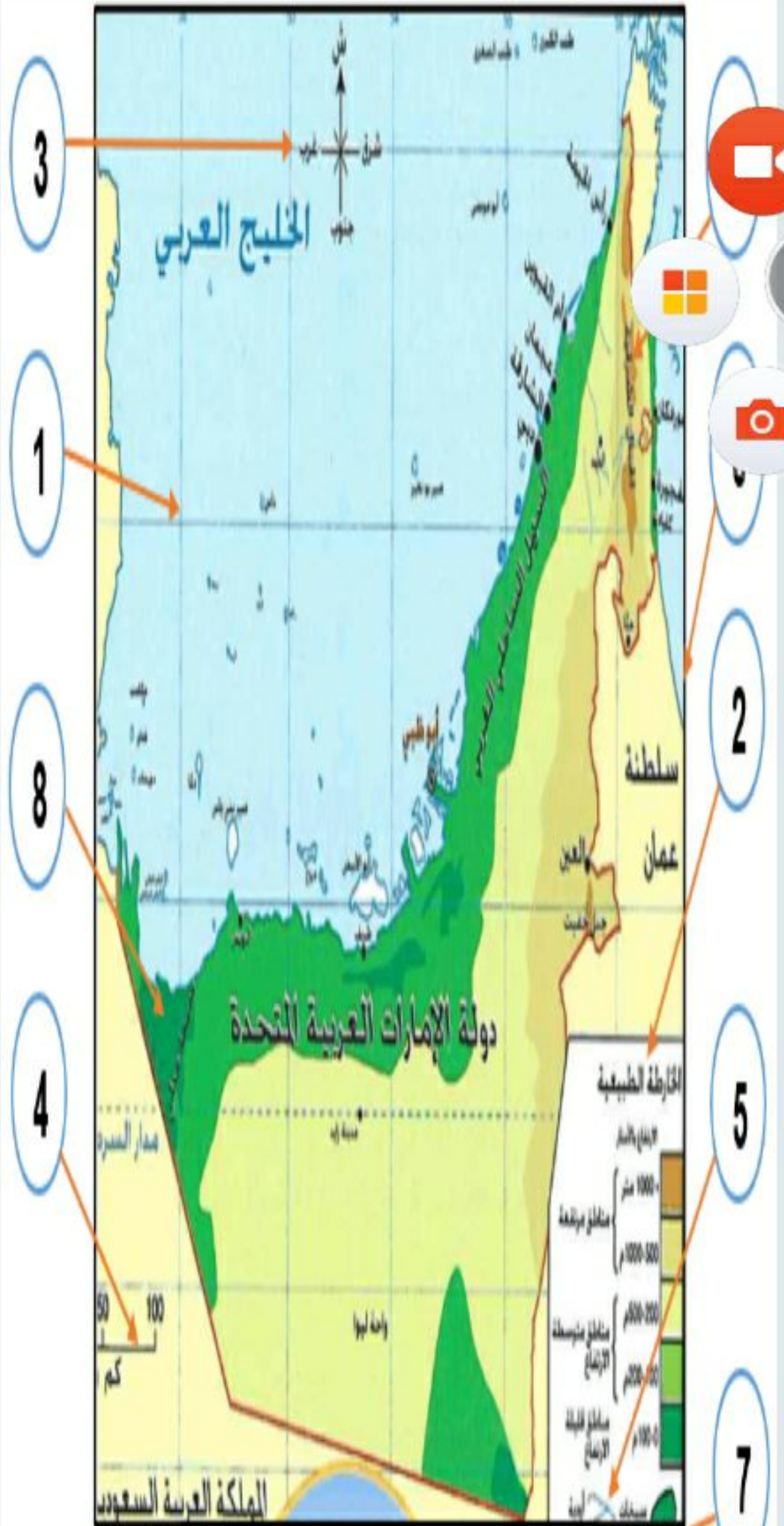
عناصر الخريطة،
وهو:

a. إطلا
الخريطة

b. الموقع
الجغرافي

c. مقياس
الرسم

d. عنوان
الخريطة



الخارطة الطبيعية لدولة الإمارات العربية المتحدة

حلل بيانات
الخريطة ثم
بدلالة الأرقام
والألوان، أجب
عما يأتي:

5 - 5

25.00

علامة

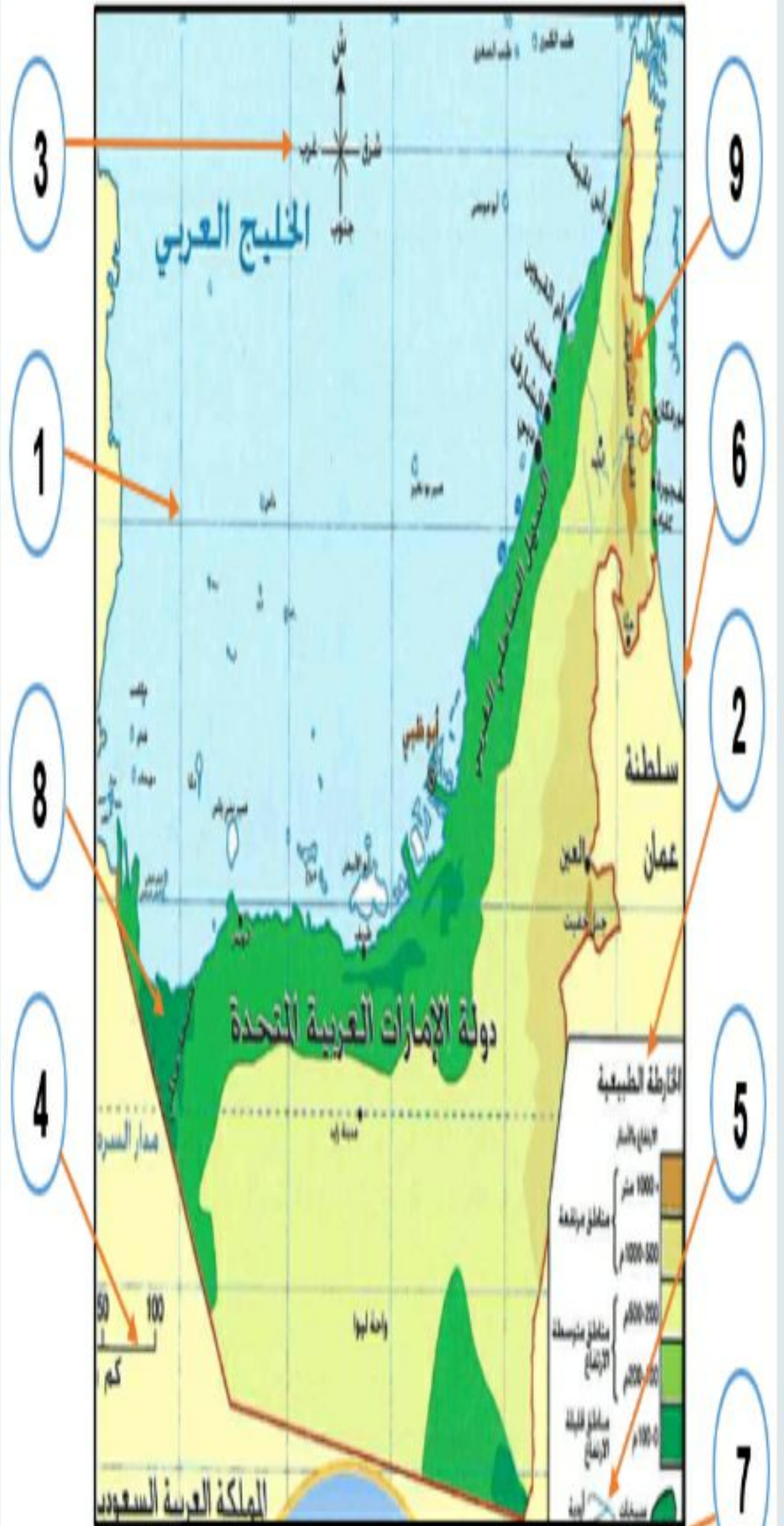
من عناصر
الخريطة المهمة
ويشير إليه الرقم
(3) في
الخريطة:

a. الهضاب

b. مقياس
الرسم

c. البحر

d. مبيّن
الجهات



الخارطة الطبيعية لدولة الإمارات العربية المتحدة

اقرأ معلومات الشكل، ثم أجب عما يأتي:

25.00 علامة

5 - 2

اللغة المسيطرة على الثورة المعلوماتية، هي اللغة:

- a. الإنجليزية
- b. الأوردية
- c. الألمانية
- d. الفرنسية



اقرأ معلومات الشكل، ثم أجب عما يأتي:


25.00 علامة

5 - 1

تتنوع الأنظمة المعلوماتية في وقتنا الحالي، ومنها:




a. الشبكات الاجتماعية



b. الماركات التجارية



c. نظام المجالس



d. شبكات الصرف الصحي