

تم تحميل هذا الملف من موقع المناهج الإماراتية



نموذج تدريبي وفق الهيكل الوزاري

[موقع المناهج](#) ⇨ [المناهج الإماراتية](#) ⇨ [الصف السادس](#) ⇨ [اجتماعيات](#) ⇨ [الفصل الثالث](#) ⇨ [الملف](#)

تاريخ إضافة الملف على موقع المناهج: 11-06-2024 13:50:43

[إعداد: حمزه العقلة](#)

التواصل الاجتماعي بحسب الصف السادس



اضغط هنا للحصول على جميع روابط "الصف السادس"

روابط مواد الصف السادس على تلغرام

[الرياضيات](#)

[اللغة الانجليزية](#)

[اللغة العربية](#)

[التربية الاسلامية](#)

المزيد من الملفات بحسب الصف السادس والمادة اجتماعيات في الفصل الثالث

[دليل تصحيح النموذج التدريبي لامتحان النهائي](#)

1

[النموذج التدريبي لامتحان النهائي](#)

2

[الهيكل الوزاري الجديد كافة المستويات](#)

3

[نموذج تدريبي امتحاني عن درس اليابان](#)

4

[أسئلة الاختبار التكويني الأول](#)

5



نموذج تدريبي حسب الهيكل للصف السادس

الدراسات الاجتماعية

العام الدراسي 2023\2024

الفصل الثالث

			11
			12
نص قرآني مصور	الوحدة الأولى: الإمارات صايغة السلاح في القرن الافريقي	يُؤنّ دَوْلَة الإمارات العَرَبِيَّة المُتَّحِدَة في خِدمة شعوب ودَوْل العالم	13
			14
			15
			16
			17
نص قرآني	الوحدة الثانية: الصحراء في فكر الشيخ زايد -رحمه الله-	يتمن دور الباني المؤسس الشيخ زايد بن سلطان آل نهيان - رحمه الله - في تحقيق التنمية المستدامة .	18
			19
			20

			1
			2
شكل معلوماتي	الوحدة الأولى: النباتات الخولية في دولة الإمارات العربية المتحدة	يستنتج أنواع النباتات الخولية حسب بيئها	3
			4
			5
			6
			7
شكل معلوماتي	الوحدة الأولى: اليابان	يُعدُّ تقريرًا يُطاهر التعاون والعلاقات القائمة بين دولة الإمارات العربية المتحدة ودول العالم (اليابان	8
			9
			10

الامتحان عبارة عن مهارات في قراءة و تحليل :

يستنتب من المعلومات

النصوص - الأشكال - الصور - الخرائط - الجداول - البيانات الرقمية

ملاحظة ضرورة استيعاب المفاهيم والمصطلحات الواردة في المنهج

فهم المصطلحات التالية :

حقيقة تاريخية : مثلا تم اتحاد دولة الامارات في 1971

حقيقة جغرافية : تقع دولة الامارات في قارة آسيا

قيمة ايجابية : الولاء -الوطنية -التسامح

قيمة سلبية : الانانية

مفهوم : حضارة -تاريخ

تعميم : يكون حكم او قرار يشمل مجموعة من الناس و لا يكون محدد بشخص واحد

مثل " كلما زاد عدد السكان زاد الازدحام في الطرق "

اقرأ معلومات النص التالي ثم أجب :



1 - نبات الحماض هو نبات حولي :

أ - ساحلي ب - صحراوي ج - جبلي ت - داخلي

2- أي من التالي تعتبر من فوائد النبات الحولي :

أ - خشب الاثاث المنزلي ب - الطب الشعبي ج - الصناعات الثقيلة ت - ظل للحيوانات

3 - يحتاج نبات الحماض للنمو الى :

أ - تربة جافة ب - تربة خصبة ج - تربة نهريّة ت - تربة مالحة


4 - الطب الشعبي يعتمد على :

أ - النباتات المزروع ب - النباتات العشبية الحولية ج - النباتات المائية ت - الادوية الكيميائية

5 - أي من هذه العبارات غير صحيحة :

أ - الحماض نبات طوله 25 سم ب - الحماض يوجد في دولة الامارات

ج - الحماض نبتة محببة في دولة الامارات ت - الحماض مصدر للطاقة و التدفئة فقط



اقرأ النص الآتي ثم أجب عن الأسئلة التالية:

إن الموقع الجغرافي و الظروف المناخية لدولة الامارات العربية المتحدة جعلها تتصف بطبيعة نباتية فقيرة نوعاً ما ، فوقوعها في هذه المنطقة من شبه الجزيرة العربية جعل شتاءها دافئاً قصيراً قليل الأمطار و صيفها طويلاً جافاً ، إلا أن دولة الامارات اهتمت منذ تأسيسها بالبيئة و الحياة البرية فتنوعت الحياة النباتية الطبيعية في دولة الامارات العربية المتحدة فتشمل أنواعاً عديدة من النباتات و الحيوانات بحيث تنقسم النباتات الطبيعية الى نوعين نباتات حولية و نباتات معمرة

النباتات المعمرة و هي التي تنمو طوال العام دون تدخل الانسان و من امثلة النباتات المعمرة (شجرة السدر و الغاف و السمر)

اما النباتات الحولية هي النباتات التي تنمو مباشرة بعد سقوط الامطار مثل (الحميض و الخبيز و الفقع و الدغابيس) و أنواع كثيرة اخرى من الأعشاب استخدام الانسان لعلاج الكثير من الامراض و يسمى (الطب البديل)

1 - من أنواع النباتات الطبيعية في دولة الامارات العربية المتحدة :

- أ - النبات المزروع و الطبيعي
ب - النبات الصناعي و الطبيعي
ت - النبات المعمر و الحولي
ج - النبات الحولي و الدائم

2 - من الأسباب التي جعلت الامارات تتصف بطبيعة نباتية فقيرة نوعاً ما :

- أ - وجود الأعشاب أكثر من الأشجار
ب - اعتدال المناخ في فصل الصيف
ت - الموقع الجغرافي و الظروف المناخية
ج - تراجع عدد النباتات الطبية

3 - أي من النباتات التالية يعتبر نبات نبات حولي :


- أ - الغاف
ب - السدر
ت - الحميض
ج - البرتقال

4 - شجرة الغاف من النباتات الطبيعية :

- أ - المعمرة
ب - الحولية
ت - الموسمية
ج - الحشائش

5 - أي من العبارات التالية ينطبق مفهوم الطب البديل :

- أ - النبات المعمر و الحولي المستخدم في الصناعة
ب - الطب القائم على الأعشاب
ت - الطب الحديث
ج - علم الأدوية الكيميائية



اقرأ معلومات الشكل المرافق ثم أجب :



1 - تعد أكبر الشركاء التجاريين لدولة الإمارات العربية المتحدة في العالم ، دولة :

أ - بروناي ب - صربيا ت - البيرو ج - اليابان

2 - بلغت الاستثمارات اليابانية في دولة الإمارات العربية المتحدة أكثر من :

أ - 14 مليار دولار ب - 104 مليار دولار ت - 43 مليار دولار ج - 41 مليار دولار

3 - تتركز أشهر العلامات التجارية اليابانية في دولة الإمارات العربية المتحدة في مجال :


أ - التكنولوجيا ب - البنية التحتية ت - الملابس ج - الرياضة

4 - وصلت العلاقة بين دولة الإمارات العربية المتحدة و اليابان إلى مستوى :

أ - الاستراتيجية ب - منخفض ت - المحلية ج - متوسط

5 - بلغ حجم التبادل التجاري غير النفطي بين الإمارات و اليابان خلال عشر سنوات نحو :

أ - 131 مليار دولار ب - 133 مليار دولار ت - 313 مليار دولار ج - 113 مليار دولار



اقرأ معلومات الشكل المرافق ثم أجب :



1- بلغت الاستثمارات اليابانية في دولة الامارات العربية المتحدة عام 2021 :

أ - 4 مليار دولار ب - 2.1 مليار دولار ج - 30.5 مليار دولار ت - 6.5 مليار دولار

2- حلت دولة الامارات من حيث الشراكة مع اليابان في المرتبة :

أ - 10 عالمياً ب - 9 عالمياً ج - 8 عالمياً ت - 7 عالمياً

3- أهم الصادرات الاماراتية الى اليابان :

أ - النفط ب - النحاس ج - الغاز ت - السيارات

4- أي من العبارات التالية غير صحيحة في الشراكة الاماراتية اليابانية :

أ - يوجد شركات يابانية في الامارات ب - حجم التبادل التجاري بين البلدين 30.5

ت- استثمارات اليابان أكثر من استثمارات الامارات بين البلدين ج - قيمة الصادرات اليابانية أكثر من الاماراتية بين البلدين

5 - تشير الاحصائيات الواردة الى عام 2021 ففي أي عام بدأت العلاقات التجارية بين الامارات و اليابان :

أ - 2004 ب - 1971 ج - 2020 ت - 1981



ALMARFA INTERNATIONAL SCHOOL

اقرأ النص التالي ثم أجب عن الأسئلة :

تحتضن دولة الإمارات برؤية متفردة في التعامل مع النزاعات والحروب العسكرية، تقوم على قواعد دعم السلام وتوثيق الاستقرار العالمي وحماية المدنيين وتجلت ذلك في التعامل مع الأزمة الروسية الأوكرانية ، حيث وضعت الإمارات في مستهل رئاستها لمجلس الأمن الدولي العديد من المبادئ المطمئنة والإيجابية التي تنتهجها حيال تلك الأزمة شملت مبادئ الإمارات الدبلوماسية 4 محاور لنزع فتيل الحرب الروسية الأوكرانية :

المحور الإنساني : أعطت دولة الإمارات أولوية بالغة لحماية ورعاية المدنيين في أوكرانيا، وأعلنت عن تقديمها مساعدات إغاثية للمدنيين المتضررين في أوكرانيا بقيمة خمسة ملايين دولار أمريكي، وذلك استجابة لنداء الأمم المتحدة العاجل، وخطة الاستجابة الإقليمية للاجئين في أوكرانيا، بما يعكس تركيز الإمارات على مبادئ التضامن الإنساني في حالات النزاع.

المحور الدبلوماسي : أصرت الإمارات منذ اللحظة الأولى للأزمة الروسية الأوكرانية على ضرورة تغليب الحل السلمي الدبلوماسي وقالت السفيرة لانا زكي نسبية، مندوبة دولة الإمارات العربية المتحدة إلى الأمم المتحدة، في كلمة عقب تسلمها رئاسة مجلس الأمن، إن «موقفنا من الأزمة في أوكرانيا يتمثل في الدعوة إلى الدبلوماسية والحوار ووقف التصعيد»، مشددة على «ضرورة أن تبقى قنوات الحوار مفتوحة بين أوكرانيا وروسيا».

المحور الميداني : أكدت دولة الإمارات خطورة النزاع الروسي والأوكراني في تقويض السلم والأمن الدوليين وكذلك ضرورة خفض التصعيد بشكل فوري بين الأطراف

المحور القانوني : شددت دول الإمارات على ضرورة احترام كل الأطراف وتطبيق القوانين الدولية وذلك على حق كل دولة عضو بالأمم المتحدة في الأمن والسيادة والاستقلال

انعكس ذلك في التصويت لصالح قرار الأمم المتحدة رقم 141 الذي يدين الهجوم على أوكرانيا ويطالب روسيا فوراً بوقف استخدامها للقوة ضد أوكرانيا والامتناع عن أي تهديد أو استخدام غير قانوني للقوة ضد أي دولة عضو

1 - أي من الأفكار التالية تعتبر الفكرة الرئيسية للنص :

- أ - المحاور الأربعة لنزع فتيل الحرب الروسية الأوكرانية
ب - دبلوماسية الإمارات في دعم السلام في العالم
ج - جلسات الأمم المتحدة بشأن الحرب الروسية الأوكرانية
ت - أحداث الحرب الروسية الأوكرانية

2- يتمثل الجانب الإنساني للسياسة الإماراتية في :

- أ - تأكيدها ضرورة تطبيق القوانين الدولية
ب - التدخل العسكري لوقف الحرب

- ت - تقديم مساعدات إغاثية للمدنيين المتضررين
ج - استخدام الحوار في جلسات الأمم المتحدة

3- تتمثل رؤية الإمارات العربية المتحدة في التعامل مع النزاعات والحروب العسكرية :

- أ - توثيق الاستقرار العالمي
ب - التدخل في الشؤون الداخلية للدول


- ت - دعم دولة ضد دولة أخرى
ج - الوقوف على الحياد

4- من المشكلات الواردة في النص :

- أ - الحرب الروسية الأوكرانية
ب - نداء الأمم المتحدة
ت - القرار رقم 141
ج - اجتماع مجلس الأمن الدولي

5- من القيم الإيجابية التي نستنتجها من النص :

- أ - التعاون
ب - الاتحاد
ت - القوة
ج - السلام



اقرأ النص التالي ثم أجب :

من أهم إنجازات واعمال الشيخ زايد في الإمارات هي تحويلها من صحراء قاحلة إلى جنة خضراء، فقد كانت الإمارات عبارة عن صحراء لا ماء فيها ولا خضرة باستثناء النباتات المعمرة التي تتحمل درجات الحرارة المرتفعة، وبدت لكل من زارها بأنه من المستحيل أن تنمو الخضرة في هذا المكان، ولكن لم يكن ذلك مستحيلاً بمنظور الشيخ زايد - رحمه الله - و في فترة السبعينيات قرر فقيد الدولة الشيخ زايد- رحمه الله - البدء على مشروع الزراعة في الإمارات، وعليه استدعى مجموعة من الخبراء والمهندسين العالميين وأخبرهم عن نيته في العمل على زراعة المحاصيل في الإمارات، وإنشاء الغابات والتوسع في زراعة النخيل وتأسيس الحدائق والمنتزهات، وأن تصل الإمارات إلى تحقيق الاكتفاء الذاتي في بعض المحاصيل الزراعية. استقبل الخبراء هذا القرار ببعض الدهول والصدمة، فكيف لأرضٍ قاحلة تشكو شح المياه أن تنتج محاصيلًا زراعية! وأخبروه بأن هذا الأمر مستحيل وعلى الرغم من عدم تأييد الخبراء لهذا القرار، إلا أن سموه أصرّ على تحدي الصحراء والبدء بتنفيذ المشروع، وسخر كافة الإمكانيات لأجل هذا المشروع الذي رآه ممكناً. تم استخدام أحدث أساليب تهيئة الأرض وشبكات الري، وتوفير أجود أنواع الأسمدة، وإنشاء البيوت البلاستيكية، واستيراد الشتلات والبذور، كما حرص سموه على توعية الشعب بأهمية الزراعة ووفر لهم أراضي مجانية مع كافة الإمكانيات ليباشروا العمل على مشروع الزراعة. نجحت الدولة في نشر الأراضي الخضراء، وزراعة النباتات والأشجار، والحصول على خيارات متنوعة من المحاصيل الزراعية، كما أثمرت جهود سموه في أن تبدأ الدولة بتصدير أذ أنواع التمور

1 - أي من الأفكار التالية تعتبر الأفكار الرئيسية :

أ - جمال الصحراء في دولة الامارات

ب - إنجازات الشيخ زايد في مجال الزراعة

ت - وسائل الري الحديثة

ج - أنواع النباتات في دولة الامارات

2 - كانت ردة فعل الخبراء و المهندسين الذين استقبلهم الشيخ زايد رحمه الله بشأن العمل على زراعة المحاصيل :

أ- التشجيع و التحفيز

ب - الصدمة و الدهول

ت - البدء في التنفيذ

ج - التأكيد على النجاح

3 - من المشكلات التي تناولها النص :

أ - تصدير المنتجات الزراعية للخارج

ب - شح المياه في دولة الامارات

ت - الاكتفاء الذاتي

ج - تطور الزراعة

4 - تكمن أهمية التوسع في الزراعة في :

أ - زيادة المياه في الدولة

ب - تحقيق الاكتفاء الذاتي في بعض المحاصيل

ت - استخدام البيوت البلاستيكية

ج - زيادة عدد الخبراء

5 - من القيم السلوكية الإيجابية التي نستنتجها من النص :

أ - التسامح

ب - الاصرار على النجاح

ت - التعاون

ج - احترام الآخر

اقرأ النص و الشكل المرافق ثم أجب :

تغطي الكثبان الرملية حوالي 75% من مساحة دولة الإمارات العربية المتحدة، وتعد امتداداً طبيعياً لمناطق الربع الخالي، تتخللها في بعض المناطق واحات مثل واحة ليوا، وتعد موطن استقرار القوافل التجارية، حيث أكسبت الصحراء قاطنيتها قيماً وعادات حميدة، وأصبحت مجالاً لكثير من الأنشطة السياحية والترفيهية مثل: سباق الهجن والخيول والسيارات والتزحلق على الكثبان الرملية والتخييم. كما أكتسب سكان الإمارات من الصحراء قيماً وعادات حميدة، أبرزها: الترحيب بالضيف والكرم، والصبر وتحمل المشاق، ونجدة المحتاج والدفاع عن الأرض، وأصبحت مصدراً مهماً للاقتصاد



1- الفكرة الرئيسية للنص السابق ؟

- أ - دولة الامارات من الصحراء الى الفضاء
 ب - أهمية الصحراء في دولة الامارات العربية المتحدة
 ت- تطور حياة البدو من الصحراء للمدن في الامارات
 ج- صحراء الربع الخالي
- 2 - الأهمية الاقتصادية للصحراء المذكورة في النص هي :

- أ - التوسع العمراني
 ب - استخراج المياه الجوفية
 ت - السياحة
 ج - القيم و العادات الحميدة

3 - من خلال قراءتك للخريطة -أي الحقائق التالية صحيحة ؟

- أ- تشكل الجبال معظم اراضي الدولة
 ب - يوجد العديد من الأنهار في الدولة
 ت - تشرف دولة الامارات على مسطح مائي واحد فقط
 ج - تشغل الصحراء معظم اراضي الدولة

4 - ما نوع الخريطة المرفقة للنص السابق:

- أ - بشرية
 ب - طبيعية
 ت - سياسية
 ج - تاريخية

5 - صحح الكلمة الملونة بالأحمر لتصبح العبارة صحيحة: (تتركز الجبال في دولة الامارات في **جهة الغرب**)

- أ - الشمال
 ب - الشرق
 ت - الخليج العربي
 ج - ابو ظبي