

شكراً لتحميلك هذا الملف من موقع المناهج الإماراتية



الملف حل أسئلة الامتحان النهائي الالكتروني بريدج

[موقع المناهج](#) ← [المناهج الإماراتية](#) ← [الصف السادس](#) ← [علوم](#) ← [الفصل الثالث](#) ← [الملف](#)

روابط مواقع التواصل الاجتماعي بحسب الصف السادس



روابط مواد الصف السادس على تلغرام

[الرياضيات](#)

[اللغة الانجليزية](#)

[اللغة العربية](#)

[التربية الاسلامية](#)

المزيد من الملفات بحسب الصف السادس والمادة علوم في الفصل الثالث

حل أسئلة الامتحان النهائي الالكتروني بريدج	1
حل أسئلة الامتحان النهائي الالكتروني انسابير	2
أسئلة الامتحان النهائي الورقي بريدج	3
تدريبات مهمة للجزء الكتابي وفق الهيكل الوزاري مع الإجابات النموذجية	4
مراجعة نهاية الفصل وفق الهيكل الوزاري انسابير	5

أي مما يلي له تأثير سلبي على اليابسة؟

المخرجات التعليمية المرتبطة

SCI.2.1.03.007 ○

تم تحميل هذا الملف من

موقع المناهج الإماراتية

إعادة التدوير

.a

تحويل فضلات الطعام إلى سماد عضوي

alManahj.com/ae

.b

تقليل استخدام الموارد

.c

الزحف العمراني

.d

يُمثل الشكل أدناه أنواعاً مختلفة من الطاقة المتجددة. ادرسه ثم أجب عن السؤال:
أي من الأحرف التالية يُشير إلى مصدر للطاقة يحول طاقة الرياح إلى طاقة كهربائية؟



A



B



C



D

المخرجات التعليمية المرتبطة

SCI.2.1.01.012 ◦

alManahj.com/ae

A

.a


B

.b

C

.c

.d



تم تحميل هذا الملف من
موقع المناهج الإماراتية

alManahj.com/ae

أي من الموارد المعدنية التالية يُستخدم في صناعة الزجاج و السيراميك المُوضح في الشكل أدناه؟



المخرجات التعليمية المرتبطة

SCI.2.1.01.013 ◦

alManahj.com/ae

السيليكا

.a

النحاس

.b

التجستن

.c

الكبريت

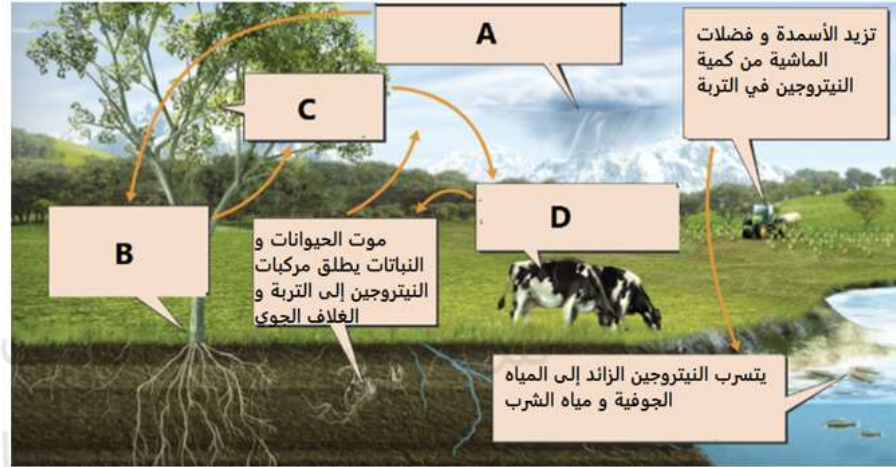
.d



تم تحميل هذا الملف من
موقع المناهج الإماراتية

alManahj.com/ae

يُوضح الشكل أدناه دورة النيتروجين. أي الأحرف التالية يُشير إلى تحول النيتروجين إلى أشكال قابلة للاستخدام عن طريق البكتيريا الموجودة على جذور بعض النباتات؟



المخرجات التعليمية المرتبطة

SCI.2.1.03.007 ◦

alManahj.com/ae

A

.a


B

.b

C

.c

.d



تم تحميل هذا الملف من
موقع المناهج الإماراتية

D

alManahj.com/ae

يُوضح الشكل أدناه دوران الأرض ، أي مما يلي ينتج عن دوران الأرض حول محورها؟



المخرجات التعليمية المرتبطة

SCI.2.2.01.012 ◦

alManahj.com/ae

تغير فصول السنة

.a

زيادة المسافة بين الأرض و الشمس


.b

طول فصل الشتاء

.c

حدوث الليل والنهار

.d



تم تحميل هذا الملف من
موقع المناهج الإماراتية

alManahj.com/ae

ما الذي يمكن أن يقلل من كمية المادة العضوية الملقاة في مواقع دفن النفايات؟

المخرجات التعليمية المرتبطة

SCI.2.1.01.012 ○

تم تحميل هذا الملف من

موقع المناهج الإماراتية

طاقة الكتلة الحيوية

.a

alManahj.com/ae

طاقة المياه

.b

الطاقة الشمسية

.c

طاقة الرياح

.d

في الفترة الممتدة بين عام 1960 والوقت الحالي ازداد طول الطرق السريعة في إحدى الدول العربية من 16,000 Km إلى 47,000 Km ، كم تمثل هذه الزيادة بالنسبة المئوية؟

المخرجات التعليمية المرتبطة

SCI.2.1.03.007 ○

تم تحميل هذا الملف من

موقع المناهج الإماراتية

1.94 %

.a

194 %

.b

alManahj.com/ae

393 %

.c

3.93 %

.d

أي مما يلي **لا** يعتبر وقودًا أحفوريًا؟

المخرجات التعليمية المرتبطة

SCI.2.2.01.011 ○

تم تحميل هذا الملف من

موقع المناهج الإماراتية

alManahj.com/ae

الفحم

.a

النفط

.b

الطاقة النووية

.c

الغاز الطبيعي

.d

أي مما يلي يصف الكوكب القزم بشكل أفضل؟

المخرجات التعليمية المرتبطة

SCI.2.2.01.011 ○

تم تحميل هذا الملف من

موقع المناهج الإماراتية

alManahj.com/ae

a. كرة دوامة من الغازات

b. جسم طبيعي يدور حول جسم آخر غير النجوم

c. جسم صخري متجمد صغير يدور حول الشمس

d. جسم شبه كروي يشترك في مساره المداري مع أجسام أخرى ذات حجم مشابه

أي مما يلي يُمثل التعريف الأنسب للجماعة الأحيائية؟

المخرجات التعليمية المرتبطة

SCI.2.1.01.013 ○

تم تحميل هذا الملف من

موقع المناهج الإماراتية

a. كل الأفراد التي تنتمي إلى نوع واحد وتعيش في منطقة محددة

b. كل الأفراد التي تنتمي إلى نوع واحد وتعيش في منطقة غير محددة

c. كل الأفراد التي تنتمي إلى أكثر من نوع وتعيش في منطقة محددة

d. كل الأفراد التي تنتمي إلى أكثر من نوع وتعيش في منطقة غير محددة

يُمثل الشكل أدناه الكواكب الخارجية لنظامنا الشمسي ،
 أي الأحرف التالية تُمثل كوكباً يتكون في معظمه من الهيدروجين والهيليوم و كتلته أكبر من كتلة بقية الكواكب مجتمعة؟



زحل
A

المشتري
B

أورانوس
C

نبتون
D

المخرجات التعليمية المرتبطة

SCI.2.2.01.011 ◦

تم تحميل هذا الملف من
 موقع المناهج الإماراتية
 alManahj.com/ae

A

.a

B

.b

C


.c

D

.d

تم تحميل هذا الملف من
موقع المناهج الإماراتية

alManahj.com/ae



تُوضح الصورة أدناه بعض المجرات الموجودة في الكون.
أي حرف مما يلي يُمثل مجرة تُظهر أعلى معدل من تكون النجوم مقارنة بأنواع المجرات الأخرى؟



المخرجات التعليمية المرتبطة

SCI.2.2.01.017 ◦

alManahj.com/ae

A

.a


B

.b

C

.c

.d



تم تحميل هذا الملف من
موقع المناهج الإماراتية

alManahj.com/ae

أي مما يلي سيزيد من التأثير الإيجابي للإنسان على البيئة؟

المخرجات التعليمية المرتبطة

SCI.2.1.01.013 ○

تم تحميل هذا الملف من

موقع المناهج الإماراتية

التعدين

.a

alManahj.com/ae

استخدام الأسمدة

.b

حرق الوقود الأحفوري

.c

استخدام مصادر الطاقة المتجددة

.d



تم تحميل هذا الملف من
موقع المناهج الإماراتية

alManahj.com/ae

أي مما يلي يُعتبر أكبر الأجسام في النظام الشمسي ؟

المخرجات التعليمية المرتبطة

SCI.2.2.01.012 ◦

الشمس

.a

القمر

.b

الأرض

.c

النجم القطبي

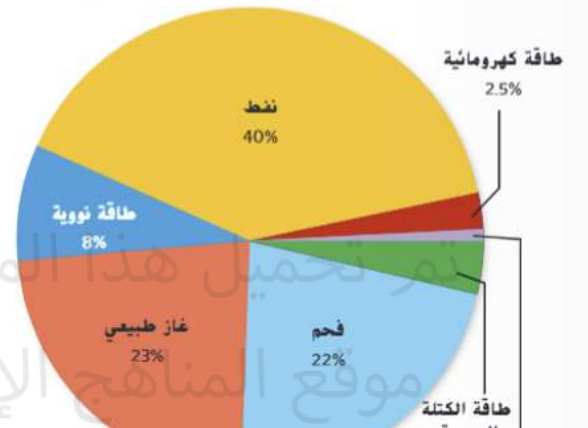
.d

تم تحميل هذا الملف من
موقع المناهج الإماراتية

alManahj.com/ae

الشكل أدناه يُمثل مصادر الطاقة المستخدمة في الولايات المتحدة في 2007 .
أي من المصادر التالية تنتج القدر الأكبر من الطاقة؟

مصادر الطاقة المستخدمة في الولايات المتحدة في 2007



المخرجات التعليمية المرتبطة

SCI.2.1.01.011 ○

alManahj.com/ae

النفط

.a

الفحم


.b

طاقة نووية

.c

طاقة شمسية

.d



تم تحميل هذا الملف من
موقع المناهج الإماراتية

alManahj.com/ae

أي ما يلي يُعتبر مصدراً غير محدد لتلوث المياه ويؤدي الى تعكير المياه في الجداول والأنهار؟

المخرجات التعليمية المرتبطة

SCI.2.1.03.007 ◦

تم تحميل هذا الملف من

موقع المناهج الإماراتية

الجريان السطحي من مواقع البناء

.a

alManahj.com/ae

التسربات النفطية من ناقلة


.b

الجريان السطحي الناتج عن المناجم

.c

أنبوب الصرف الصحي

.d



تم تحميل هذا الملف من
موقع المناهج الإماراتية

alManahj.com/ae