

تم تحميل هذا الملف من موقع المناهج الإماراتية



*للحصول على أوراق عمل لجميع الصفوف وجميع المواد اضغط هنا

<https://almanahj.com/ae>

* للحصول على أوراق عمل لجميع مواد الصف السادس اضغط هنا

<https://almanahj.com/ae/6>

* للحصول على جميع أوراق الصف السادس في مادة رياضيات وجميع الفصول, اضغط هنا

<https://almanahj.com/ae/6math>

* للحصول على أوراق عمل لجميع مواد الصف السادس في مادة رياضيات الخاصة بـ الفصل الثاني اضغط هنا

<https://almanahj.com/ae/6math2>

* لتحميل كتب جميع المواد في جميع الفصول للـ الصف السادس اضغط هنا

<https://almanahj.com/ae/grade6>

للتحدث إلى بوت المناهج على تلغرام: اضغط هنا

https://t.me/almanahj_bot



Name:

Class:

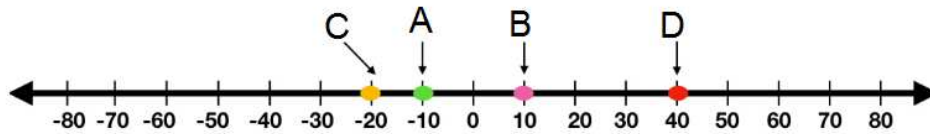
Total=

Date: 04/02/2020

20

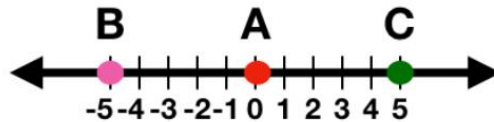
Choose the correct answer in each of the following :

1) The C point on the number line is _____



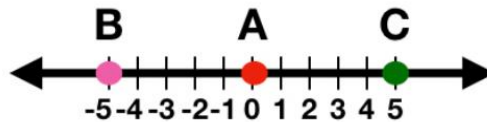
- a. -10
- b. 40
- c. 10
- d. -20

2) The letter that represents the origin is _____



- a. C
- b. 2
- c. B
- d. A

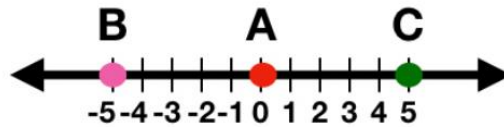
3) The letter that represent a negative integer is _____



- a. C
- b. B
- c. A
- d. 0

4) The letter that represent a positive integer is _____

- a. C
- b. A
- c. B
- d. 0



5) The opposite of 5 is _____

- a. 5
- b. -5
- c. -7
- d. 7

6) $|6| + |5| =$ _____

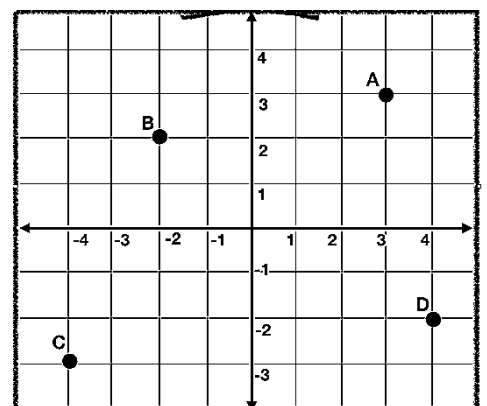
- a. 1
- b. 6
- c. 11
- d. -5

7) The set of numbers from least to greatest $\{2, -1, 4, -2, 5\}$

- a. $\{-2, -1, 2, 5, 4\}$
- b. $\{2, -1, 4, -2, 5\}$
- c. $\{-2, -1, 2, 4, 5\}$
- d. $\{5, -1, 4, -2, -2\}$

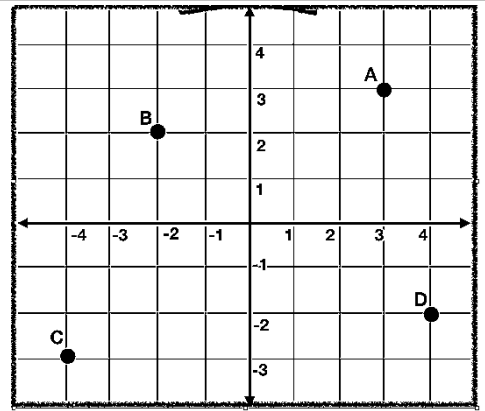
8) Identify the ordered pair that name the point C is

- a. $(4, 3)$
- b. $(-3, -4)$
- c. $(-4, -3)$
- d. $(3, 3)$



9) State in which quadrant point A is located.

- a. Quadrant II
- b. Quadrant IV
- c. Quadrant III
- d. Quadrant I



10) Name the point (3 , 3)

- a. C
- b. A
- c. B
- d. D

