

تم تحميل هذا الملف من موقع المناهج الإماراتية



\*للحصول على أوراق عمل لجميع الصفوف وجميع المواد اضغط هنا

<https://almanahj.com/ae>

\* للحصول على أوراق عمل لجميع مواد الصف السابع اضغط هنا

<https://almanahj.com/ae/7>

\* للحصول على جميع أوراق الصف السابع في مادة اجتماعيات ولجميع الفصول, اضغط هنا

<https://almanahj.com/ae/7>

\* للحصول على أوراق عمل لجميع مواد الصف السابع في مادة اجتماعيات الخاصة بـ اضغط هنا

<https://almanahj.com/ae/7>

\* لتحميل كتب جميع المواد في جميع الفصول للـ الصف السابع اضغط هنا

<https://almanahj.com/ae/grade7>

للتحدث إلى بوت المناهج على تلغرام: اضغط هنا

[https://t.me/almanahj\\_bot](https://t.me/almanahj_bot)



## السؤال الأول: اختر الإجابات الصحيحة.

• تحول الاراضي الزراعيه الى اراض صحراويه بفعل الجفاف وزرحف العمران.

(التصحّر - التلوّث - السبخة )

• نباتات تنمو طوال العام دون تدخل الانسان.

(النباتات الحويليه -النباتات المعمره -النباتات المزروعه)

• من الاشجار المعمره بدوله الإمارات العربية المتحدة شجرة.

(البوط - الحميض - القرم )

• مساحة من الأرض لها خصائص مناخية تميزها عن غيرها.

(الأقاليم المناخية -الدولة -الزراعة)

• طب يعتمد على العلم والتجارب العلمية

(الطب الشعبي -الطب التقليدي - الطب الحديث)

• جراح اماراتي يشارك في اول عمليه باستخدام الذكاء الاصطناعي.

(جابر المنصوري -جمعة الماجد -جابر الخيلي)

• خلاصة مجموعه من التجارب الشعبيه المتوارثه حول طرائق العلاج والشفاء.

(الطب الشعبي -الطب الاسلامي -الطب الحديث)

• من علماء المسلمين اطلق عليه الغرب لقب امير الأطباء له كتاب يسمى القانون في الطب

(ابن سينا -الخوارزمي -ابن خلدون)

• عالم اسكتلندي اكتشف المضاد الحيوي الشهير(البنسلين).

(بول إرليخ - ألكسندر فلمنج - جيمس بلاك )



• مبادره بيئية رائدة الهدف منها تجميع النباتات المحليه وتوثيقها.

(الحديقة الاسلامية - بنك الجينات - التمييز بين أشجار النخيل )

• تمتد قارة امريكا الشمالية بين دائرتي عرض.

( 25 و83 شمالا - 52 و 88 جنوبا - 25 و77 جنوبا )

• المسطح المائي الذي تطل عليه امريكا الشمالية من الشرق المحيط.

(الهندي - الأطلنطي - المتجمد)

• المسطح المائي الذي تطل عليه امريكا الشمالية من الشمال المحيط.

(الهندي - الأطلنطي - القطبي)

• تتكون امريكا الشمالية من من وحدتين سياسيتين فقط هما.

(كندا والولايات المتحدة الأمريكية - المكسيك والولايات المتحدة - كندا والمكسيك)

• تمتد قارة استراليا بين دائرتي عرض.

(10-44 جنوبا \_ 10-44 شمالا - 10-44 شرقا )

• تتبع استراليا عدة جزر اهمها جزيرة.

(قبرص - سردينيا - تسمانيا)

• عاصمة قارة أستراليا هي.

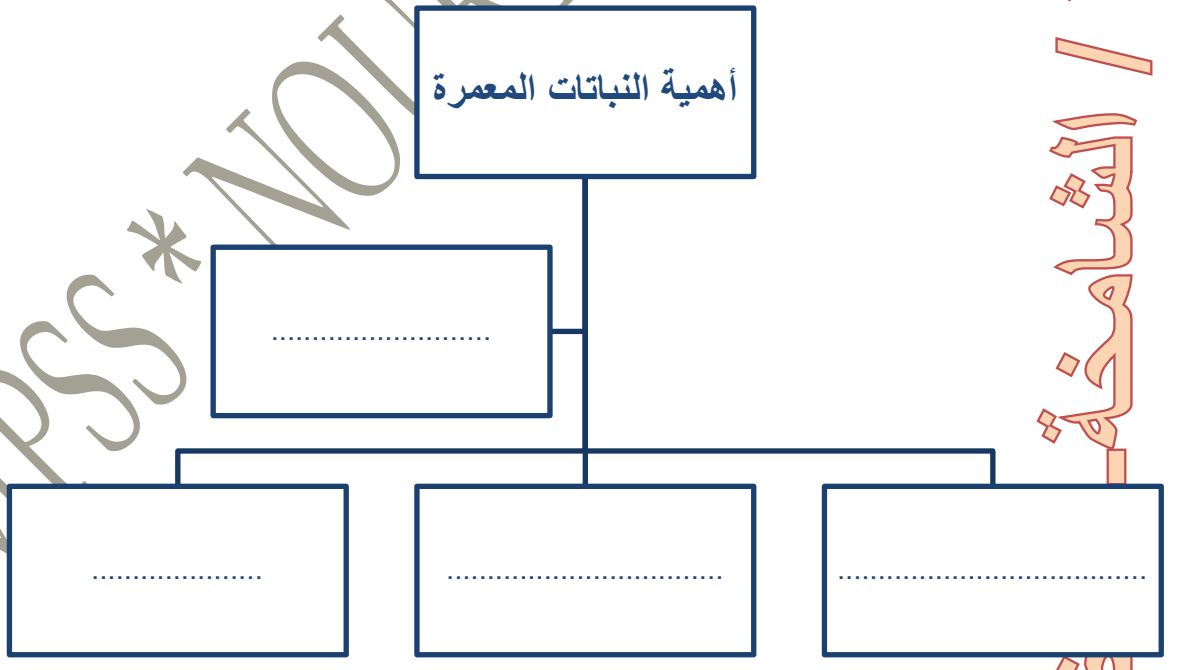
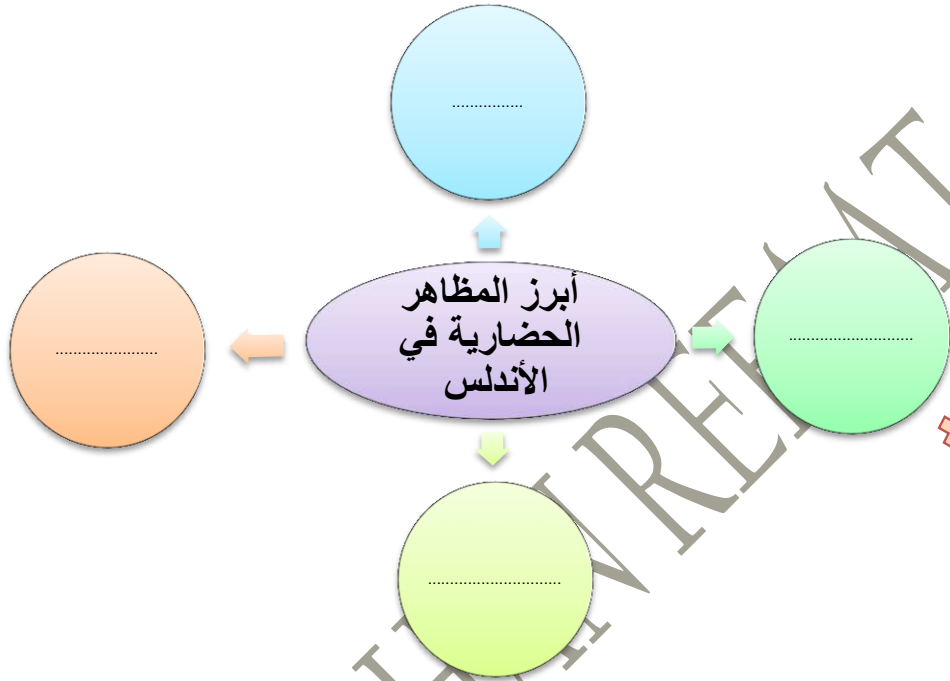
(كانبرا - موسكو - سيدني)

• دعم الشيخ زايد - رحمه الله - المجال الرياضي فشيّد مدينة زايد الرياضية في أبوظبي عام

(1997 - 1969م - 1979م)



السؤال الثاني: أكمل المخطط الذهني:





## مجالات الإبتكار

المنتج

• .....

• .....

• .....

• .....

السؤال الثالث: قارن بين المرتفعات الشرقية  
والغربية لقارة أمريكا الشمالية

المرتفعات الغربية	المرتفعات الشرقية	وجه المقارنه
		النشأة
		الارتفاع



### السؤال الثالث: قارن بين الاقاليم المناخية في أستراليا

الإقليم	الموقع	الحقائق المناخية
الإقليم الموسمي		
الإقليم الصحراوي الحار		
الإقليم شبه المداري الرطب		

### قارن بين السهل الساحلي الشرقي بدولة الإمارات والسهل الساحلي الشرقي في أستراليا

أوجه المقارنة	السهل الساحلي الشرقي بدولة الإمارات	السهل الساحلي الشرقي في أستراليا
الامتداد		
الاتساع		

### قارن بين المناخ الموسمي والمناخ الصحراوي الحار في أستراليا

أوجه المقارنة	المناخ الموسمي	المناخ الصحراوي الحار
التوزيع الجغرافي		
الخصائص المناخية		



السؤال الرابع : عرف المفاهيم التالية:

المفهوم	التعريف
النباتات المعمرة	
الاقتصاد المعرفي	
الاقليم الامناخية	
الابار الارنوازية	
الابتكار	
ريادة الأعمال	
الحضارة	
النافورة	
الجولات الميدانية	

Al Manara Private School (Alshamkha)



## السؤال الخامس: أجب عن الأسئلة التالية:

1- كيف تقاوم نباتات الصحراء العوامل المناخية؟

.....  
.....

2- ما أهمية السدود؟

.....  
.....

3- أذكر أعمال الشيخ زايد رحمه الله بإماراتي رأس الخيمة والفجيرة.

.....  
.....

4- اذكر مميزات العمارة العربية الإسلامية.

.....  
.....

5- ما الأسباب التي جعلت دولة الإمارات تتميز بطبيعة نباتية فقيرة نوعاً ما؟

.....  
.....

6- ما سبب اختلاف توزيع السكان في قارة استراليا من منطقة لأخرى؟

.....  
.....





**السؤال السادس: أولاً حدد على خريطة قارة أمريكا الشمالية ما تدل عليه الأرقام التالية:**

1- المحيط: .....

2- جبال: .....

3- جبال: .....

4- هضبة: .....

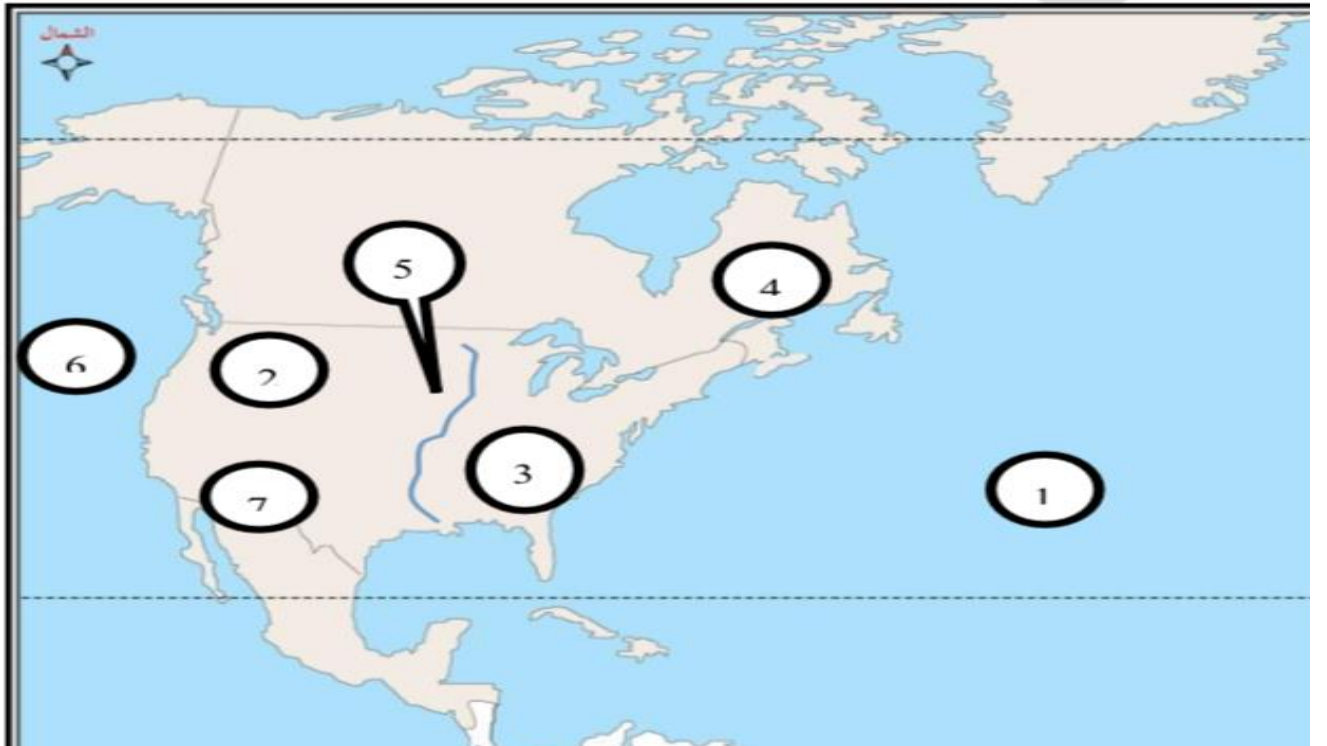
5- نهر: .....

6- المحيط: .....

7- هضبة: .....

Alshamkha Private School (Alshamkha)

مدرسة المنارة الخاصة / الشامخة  
AL-MANARA PRIVATE SCHOOL - SHAMKHA





## ثانيا حدد على الخريطة الصماء لقارة استراليا ما تدل عليها الارقام:

5-الخليج:

1-خليج:

6- إقليم مناخي:

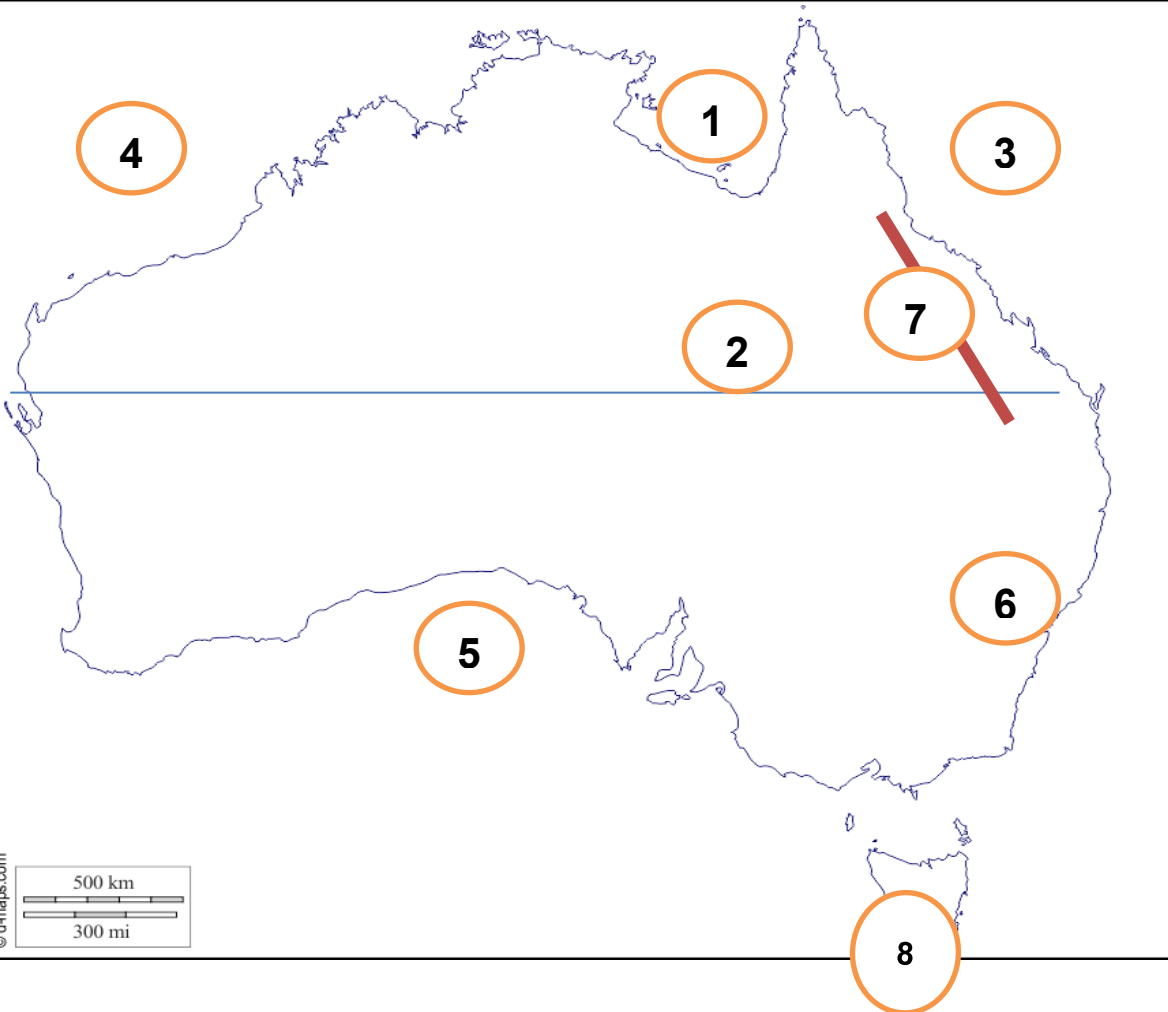
2-مدار:

7-جبال:

3- محيط:

8-جزيرة:

4-المحيط:





**السؤال السابع : أكمل الجدول وحدد استخدامات النباتات المعمرة في دولة الإمارات العربية المتحدة:**

Al Manara Private School (Alshamkha)

الاستعمالات	اسم النبات
	النخيل
	الأشجار
	القرم
	الرمث
	الحنظل
	السمر
	الطرفة, الأثل