

تم تحميل هذا الملف من موقع المناهج الإماراتية



*للحصول على أوراق عمل لجميع الصفوف وجميع المواد اضغط هنا

<https://almanahj.com/ae>

* للحصول على أوراق عمل لجميع مواد الصف السابع اضغط هنا

<https://almanahj.com/ae/7>

* للحصول على جميع أوراق الصف السابع في مادة علوم ولجميع الفصول, اضغط هنا

<https://almanahj.com/ae/7science>

* للحصول على أوراق عمل لجميع مواد الصف السابع في مادة علوم الخاصة بـ الفصل الثالث اضغط هنا

<https://almanahj.com/ae/7science3>

* لتحميل كتب جميع المواد في جميع الفصول للـ الصف السابع اضغط هنا

<https://almanahj.com/ae/grade7>

للتحدث إلى بوت المناهج على تلغرام: اضغط هنا

https://t.me/almanahj_bot

When are day and night equal everywhere on Earth?

- A. Beginning of summer and winter
- B. Beginning of spring and fall
- C. Beginning of winter and spring
- D. Beginning of summer and fall

متى يتساوى الليل والنهار في كل مكان على الأرض ؟

- A . بداية الصيف والشتاء
- B . بداية الربيع و الخريف
- C . بداية الشتاء و الربيع
- D . بداية الصيف و الخريف

a.

أ

b.

ب

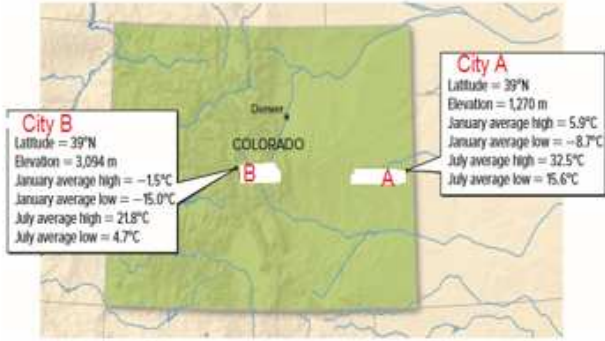
c.

ج

d.

د

The figure below shows the average monthly temperatures of two cities, A and B.



Identify the factor that affects average temperatures between the two cities, A and B.

يوضح الرسم أدناه متوسط درجات الحرارة الشهرية لمدينتين A و B



حدد العامل الذي يؤثر في متوسطات درجات الحرارة بين المدينتين A و B .

a.

أ

b.

ب

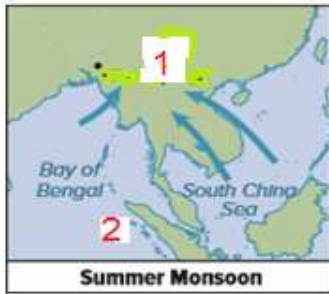
c.

ج

d.

د

What does number (1) represent in the figure below?



- A. Low pressure
- B. Decreased precipitation
- C. High temperatures
- D. High pressure

ما الذي يمثله الرقم (1) في الرسم أدناه؟



- A . ضغط منخفض
- B . هطول قليل
- C . درجات حرارة مرتفعة
- D . ضغط مرتفع

a.

أ

b.

ب

c.

ج

d.

د

<p>On a sunny day at the beach, why does sand feel warmer than water?</p> <p>A. High specific heat of sand B. High specific heat of water C. Sand color D. Liquid state of water and solid state of sand</p>	<p>في يوم مشمس على الشاطئ. لماذا تكون الرمال أكثر سخونة من الماء ؟</p> <p>A . ارتفاع الحرارة النوعية للرمال B . ارتفاع الحرارة النوعية للماء C . لون الرمال D . حالة الماء السائلة وحالة الرمال الصلبة</p>
--	--

a.

أ

b.

ب

c.

ج

d.

د

<p>What climate type has warm year -round and a high precipitation?</p> <p>A. Dry Climate B. Tropical Climate C. Mild Climate D. Continental Climate</p>	<p>ما نوع المناخ الذي يتصف بالدفئ على مدار السنة وتكون فيه كمية الهطول كبيرة ؟</p> <p>A . المناخ الجاف B . المناخ الاستوائي C . المناخ المعتدل D . المناخ القاري</p>
--	--

a.

أ

b.

ب

c.

ج

d.

د

<p>How is a region's climate classified?</p> <p>A. By cold and warm water ocean currents B. By latitude and longitude C. By measurements of temperature and humidity D. By temperature, precipitation, and vegetation</p>	<p>كيف يُمكن تصنيف مناخ إحدى المناطق ؟</p> <p>A . حسب تيارات المحيط ذات المياه الباردة والدافئة B . حسب دوائر العرض والارتفاع C . حسب قياسات درجة الحرارة ونسبة الرطوبة D . حسب درجات الحرارة وكمية الهطول وحجم الغطاء النباتي</p>
--	---

a.

أ

b.

ب

c.

ج

d.

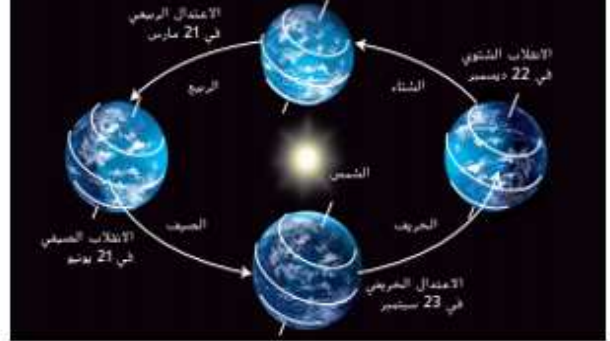
د

Which season is in the northern hemisphere on December 22?



- A. Fall
- B. Spring

ما الفصل الذي يشهده نصف الكرة الأرضية الشمالي في 22 ديسمبر؟



- A. الخريف
- B. الربيع
- C. الصيف

a.

أ

b.

ب

c.

ج

d.

د

Which of the following is **not** a cause of long-term climate cycles?

- A. Change in the tilt of Earth's axis
- B. Changes in the amount of solar energy reaching Earth
- C. Changes in wind's direction with changes of seasons.
- D. Changes in ocean circulation

أي مما يلي **ليس** من اسباب دورات المناخ طويلة المدى؟

- A . التغيير في ميل محور الأرض
- B . التغييرات في كمية الطاقة الشمسية التي تصل الأرض
- C . التغييرات في اتجاه الرياح مع تغيير الفصول
- D . التغييرات في دوران تيارات المحيط

a.

أ

b.

ب

c.

ج

d.

د

Climate is the average..... weather conditions that occur in a particular region. Which one of the following completes the definition of climate?

- A. global
- B. long-term
- C. mid-latitude
- D. seasonal

المناخ هو المتوسط لأحوال الطقس التي تحدث في منطقة معينة . أي مما يلي يُكمل تعريف المناخ؟

- A . العالمي
- B . طويل المدى
- C . الذي يمثل منتصف دوائر العرض
- D . الموسمي

a.

أ

b.

ب

c.

ج

d.

د

<p>Which factor affects climate and creates a rain shadow?</p> <p>A. A large body of water B. Buildings and concrete C. Latitude D. Mountains</p>	<p>ما العامل الذي يؤثر في المناخ ويسبب في ظاهرة ظل المطر؟</p> <p>A . مسطح مائي ضخم B . المباني والخرسانة C . دوائر العرض D . الجبال</p>
---	---

a.

أ

b.

ب

c.

ج

d.

د