

تم تحميل هذا الملف من موقع المناهج الإماراتية



اختبار القياس الدولي IBT متبوع بالإجابات

موقع المناهج ← المناهج الإماراتية ← الصف السابع ← علوم ← الفصل الأول ← اختبارات ← الملف

تاريخ إضافة الملف على موقع المناهج: 2024-10-29 11:39:33

ملفات اكتب للمعلم اكتب للطالب | اختبارات الكترونية | اختبارات | حلول | عروض بوربوينت | أوراق عمل
منهج انجليزي | ملخصات وتقارير | مذكرات وبنوك | الامتحان النهائي للمدرس

المزيد من مادة
علوم:

التواصل الاجتماعي بحسب الصف السابع



صفحة المناهج
الإماراتية على
فيسبوك

الرياضيات

اللغة الانجليزية

اللغة العربية

التربية الاسلامية

المواد على تلغرام

المزيد من الملفات بحسب الصف السابع والمادة علوم في الفصل الأول

ملخص وأوراق عمل الدرس الأول Ecosystems in Resources منهج انسابير

1

عرض بوربوينت درس المخاليط

2

حل أوراق عمل الدرس الثالث Matter of Cycling دورة المادة

3

حل مراجعة اختبار أول منهج انسابير

4

ملزمة مهارات التفكير الإبداعي تحاكي مهارات الاختبارات الدولية

5



الاختبار التدريبي

نبذة عن الاختبار التدريبي

يحتوي الاختبار التدريبي على 10 أسئلة. صمم هذا الاختبار ليعطيك فكرة عن نمط أسئلة اختبار IBT الرئيسي.

أجب على الأسئلة:

كل سؤال لديه أربعة اختيارات. اختر الإجابة الأنسب من الاختيارات الأربعة : A ، B ، C ، D. سوف تجد إجابات الأسئلة في آخر صفحة من هذا الكتيب.

الأدوات المسموح بها في هذا الاختبار

يمكن استخدام قلم رصاص في هذا الاختبار. لا يمكنك استخدام المعجم.

الزمن المخصص للاختبار :

الزمن المحدد لإكمال الاختبار هو 15 دقيقة.

1 عندما يرى شخص شيئاً، ما الذي يحمل الرسالة من العين للدماغ؟

- A الشرايين
B الغدد
C العضلات
D الأعصاب

قام راشد بغمس بعض ورق تباع الشمس الأزرق والأحمر في المحلول (X). ثم قام بغمس ورق آخر من تباع الشمس في المحلول (Y).

يُظهر الجدول التالي النتائج التي حصل عليها من هذه التجربة

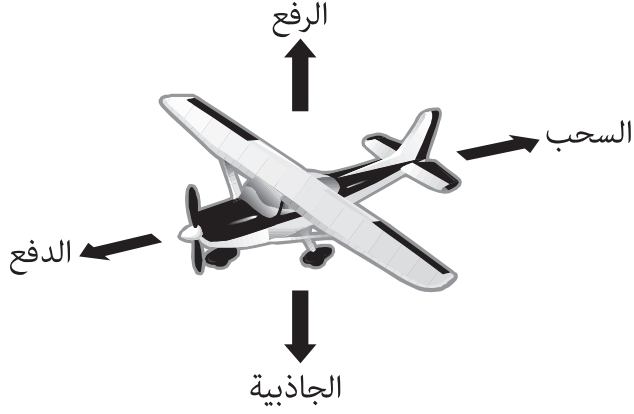


ورق تباع الشمس الأزرق	ورق تباع الشمس الأحمر	
لم يتغير لونه	تغير إلى اللون الأزرق	X
تغير إلى اللون الأحمر	لم يتغير لونه	Y

2 ما الذي يستطيع راشد استنتاجه؟

- A المحلول X قاعدي والمحلول Y قاعدي.
B المحلول X قاعدي والمحلول Y حمضي.
C المحلول X حمضي والمحلول Y قاعدي.
D المحلول X حمضي والمحلول Y حمضي.

تؤثر في الطائرة المحلقة أربع قوى رئيسية.



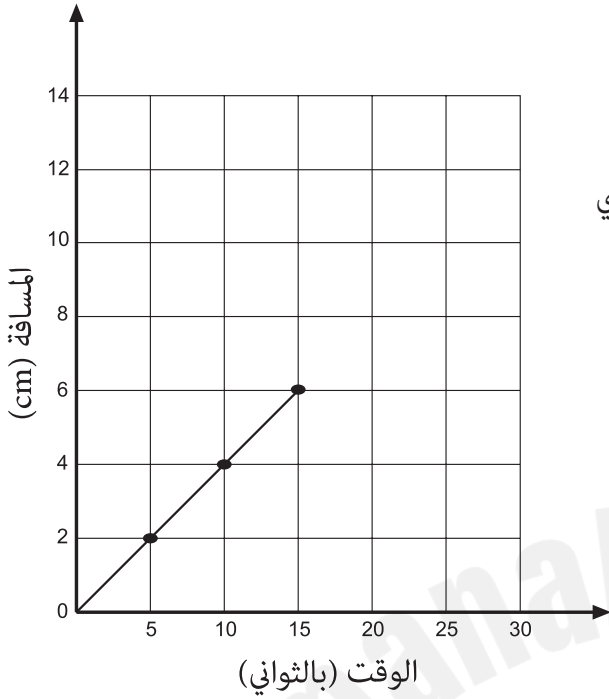
3 أي قوة تؤدي إلى إبطاء الطائرة؟

- A الدفع
- B الرفع
- C السحب
- D الجاذبية

4 أي جزء في النبات مسؤول عن التكاثر؟



- A الورقة
- B الساق
- C الجذور
- D الزهرة



يظهر الرسم البياني التقدم الذي تحرزهُ خنفساء تسير بخط مستقيم.

5 إذا بقيت الخنفساء تسير بنفس السرعة، فما الوقت الذي تحتاجه لقطع 10 cm؟

- A 4 ثواني
- B 6 ثواني
- C 20 ثانية
- D 25 ثانية

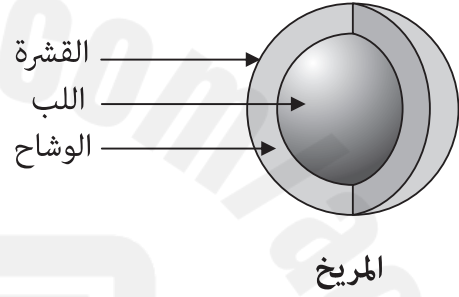
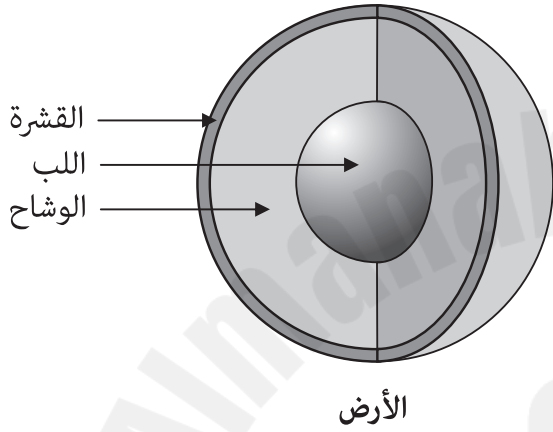
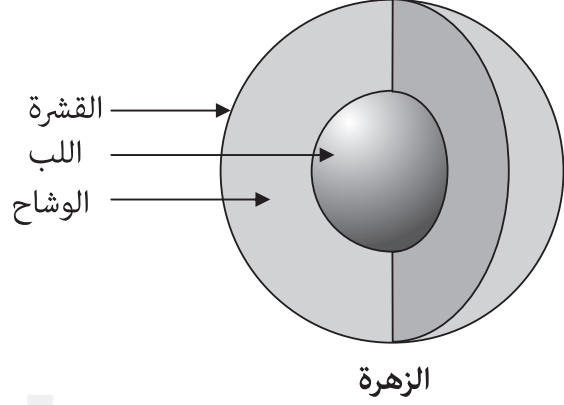
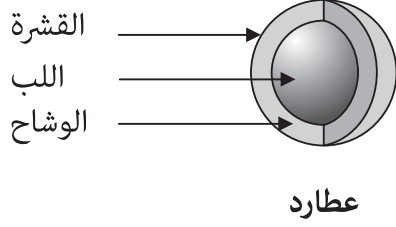


أراد حسن ونبيلة أن يعرفا إن كانت السيارة اللعبة ستنتقل مسافة أكبر فوق السجادة منها على البلاط. تقول نبيلة أنها ستنتقل لمسافة أكبر فوق السجاد.

6 ما تقوله نبيلة هو مثال على

- A التنبؤ.
- B استنتاج.
- C ملاحظة.
- D استدلال.

جميع الرسوم التالية مرسومة حسب مقياس رسم موحد.



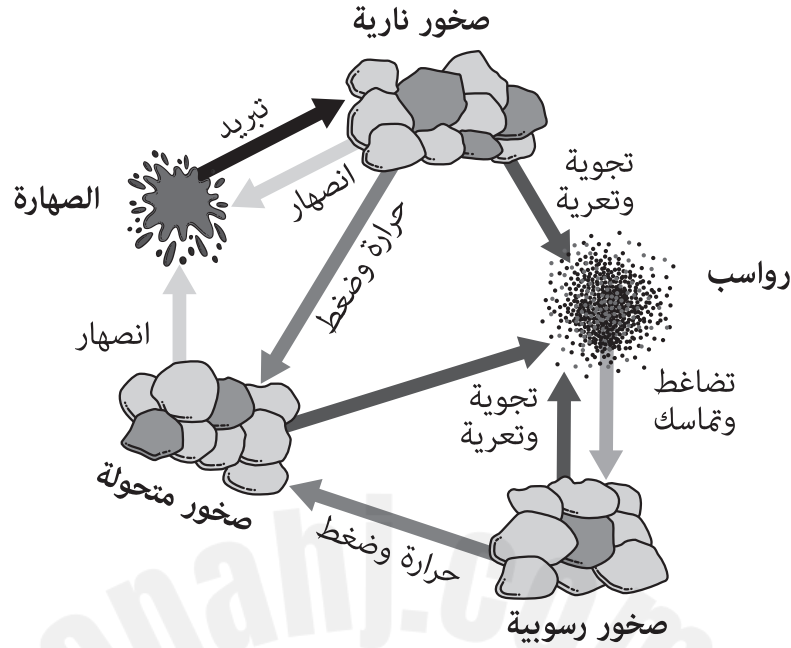
7 أي كوكب يمتلك القشرة الأكثر سمكاً؟

A عطارد

B الزهرة

C الأرض

D المريخ



8 تتكون الصخور المتحولة من

- A صخور رسوبية فقط.
- B صخور نارية فقط.
- C صخور رسوبية ونارية.
- D رواسب وصهارة.

9 أي عبارة هي صحيحة؟

- A تبرد الصهارة فتكوّن صخور صلبة.
- B تتكون الرواسب عند انصهار الصخور المتحولة.
- C تصبح الصخور النارية رواسب عندما تتعرض للحرارة.
- D تصبح الصخور المتحولة صخوراً ناريةً عندما تتعرض للضغط.

10 يظهر الجدول درجات الحرارة لمكان معين خلال ساعات مختلفة من النهار لمدة ثلاثة أيام.

6 مساءً	3 عصرًا	12 ظهرًا	9 صباحًا	6 صباحًا	
19°C	21°C	20°C	17°C	15°C	الإثنين
4°C	5°C	15°C	15°C	15°C	الثلاثاء
13°C	14°C	14°C	10°C	8°C	الأربعاء

متى اشتدت برودة الرياح؟

- A الإثنين صباحًا
- B الإثنين بعد الظهر
- C الثلاثاء صباحًا
- D الثلاثاء بعد الظهر

الإجابات الصحيحة

D	1
B	2
C	3
D	4
D	5
A	6
C	7
C	8
A	9
D	10





اختبار القياس
الدولي في
اللغة العربية
واللغة الإنجليزية
 والرياضيات
والعلوم