

شكراً لتحميلك هذا الملف من موقع المناهج الإماراتية



تدريبات امتحانية متنوعة بالإجابات

[موقع المناهج](#) ⇨ [المناهج الإماراتية](#) ⇨ [الصف السابع](#) ⇨ [اجتماعيات](#) ⇨ [الفصل الثاني](#) ⇨ [الملف](#)

تاريخ نشر الملف على موقع المناهج: 13:20:23 2024-03-19

[إعداد: بدرية ابراهيم مبارك](#)

التواصل الاجتماعي بحسب الصف السابع



روابط مواد الصف السابع على تلغرام

[الرياضيات](#)

[اللغة الانجليزية](#)

[اللغة العربية](#)

[التربية الاسلامية](#)

المزيد من الملفات بحسب الصف السابع والمادة اجتماعيات في الفصل الثاني

بوربوينت أسئلة مراجعة عامة وفق الهيكل الوزاري	1
الهيكل الوزاري الجديد كافة المسارات	2
حل الدرس الثاني الخصائص البشرية لدولة الإمارات العربية المتحدة	3
حل الدرس الثالث نظام تحديد المواقع العالمي	4
حل الدرس الثاني الاستشعار عن بعد	5

المزيد من الملفات بحسب الصف السابع والمادة اجتماعيات في الفصل الثاني



مؤسسة الإمارات للتعليم المدرسي
EMIRATES SCHOOLS ESTABLISHMENT



مدرسة مصفوت الحلقة الثانية بنات
Masfout Girls' School - Cycle2



تدريبات في مادة الدراسات الاجتماعية الصف السابع عام /متقدم 2024

الفصل الدراسي الثاني

بدرية إبراهيم مبارك
مديرة المدرسة :
فاطمة عبد الله البدواوي



مبادرة بعنوان (مدجد وجد-2)
قسم الدراسات الاجتماعية



دعاء عند تعسر الإجابة
يا إله إلا أنت سبحانك إني كنت
من الظالمين، يا حي يا قيوم
برحمتك استغيث، ربّ إني
مسئئ الضروانت أرحم
الراحمين.

دعاء عند النسيان
اللهم يا جامع الناس ليوم لا ريب فيه اجمعني
بصالتي، أو رد عليّ ضالتي
دعاء عند الانتهاء من الامتحان
الحمد لله الذي هدانا لهذا وما كنا لنهتدي
لولا أن هدانا الله.

دعاء الامتحان

ربّ اشرح لي صدري، ويسّر لي
أمرعي، واحلل عقدة من لساني
يفقه قولني، باسم الله الفتح،
اللهم لا سهل إلا ما جعلته سهلاً،
فإنك إن شئت تجعل الصعب
سهلاً يا أرحم الراحمين.

دعاء عند دخول لجنة الامتحان

ربّ ادخلني مدخل صدق
وأخرجني مخرج صدق واجعل
لي من لدنك سلطاناً نصيراً.



مهارات الدراسات الاجتماعية

- استخراج الفكرة الرئيسية من النص.
- مهارة القراءة والاستنتاج.
- مهارة استخراج القيم السلوكية الإيجابية وقيم المواطنة مثل (الرحمة ، التسامح ، حب الخير ، الانتماء ، الولاء)
- مهارة استخراج المفاهيم والمصطلحات مثل (المواطنة ، الثورة المعلوماتية ، الخريطة)
- مهارات الخريطة ومنها :
 - تحديد عناصر الخريطة : عنوان الخريطة ، مفتاح الخريطة ، رموز الخريطة ، مقياس الرسم ، مابين الجهات ، إطار الخريطة ، النظام الشبكي خطوط الطول ودوائر العرض.
 - تحديد الجهات الأصلية والفرعية على الخريطة (شمال ، جنوب ، شرق ، غرب ، شمال غربي ، شمال شرقي ، جنوب شرقي ، شمال غربي)
 - خط الطول الرئيسي (خط جرينتش)
 - خط العرض الرئيسي (خط الاستواء)
- مهارة قراءة مفتاح الخريطة والتمييز بين الرموز (الخطية والنقطية والرقمية والرسوم المبسطة)

استعيني بالله قبل البدء في الاختبار

افهمي السؤال جيدا ثم اجيبي

خذي وقتك في الاجابة ولا تستعجلي

استغلي باقي الوقت في المراجعة

**أهم المهارات
التي يركز عليها
اختبار الدراسات
الاجتماعية :**



هيكل مادة الدراسات الاجتماعية

			11
			12
مقروء / معلوماتي	دراسة إقليمية لدولة الإمارات العربية المتحدة	يبين أهم الموارد والأنشطة الاقتصادية لسكان دولة الإمارات العربية المتحدة	13
			14
			15
			16
			17
مقروء	السنع الإماراتي	يعاين مهارات القراءة ذات العلاقة بالدراسات الاجتماعية	18
			19
			20

			1
			2
مقروء	مصادر المعلومات الجغرافية الحديثة	يتناقش مصادر المعلومات الجغرافية الحديثة	3
			4
			5
			6
			7
معلوماتي / مقروء	دراسة إقليمية لدولة الإمارات العربية المتحدة	يتعرف الخصائص الطبيعية والبشرية لدولة الإمارات العربية المتحدة	8
			9
			10



مؤسسة الإمارات للتعليم المدرسي
EMIRATES SCHOOLS ESTABLISHMENT

مئوية الإمارات 2071
UAE CENTENNIAL 2071
The World's Leading Nation أفضل دولة في العالم



مدرسة مصفوت الحلقة الثانية بنات
Masfout Girls' School - Cycle2

قَامُوسُ الْمُصْطَلَحَاتِ


بنوك للمعلومات الجغرافية يستخدم فيها الحاسب الآلي لجمع وتخزين وتصنيف ومعالجة المعلومات وعرضها من مصادرها المختلفة للإفادة منها في تطبيقات عملية متنوعة.	نظم المعلومات الجغرافية
ملف يحتوي على عناصر تتحول إلى خريطة عند معالجته وعرضه وطباعته باستخدام أنظمة المعلومات الجغرافية.	الخريطة الرقمية
برنامج كمبيوتر مصمم ليعمل على الهواتف الذكية، وأجهزة الكمبيوتر اللوحي وغيرها من الأجهزة النقالة.	التطبيقات الذكية
جمع المعلومات عن مساحات أو مناطق من سطح الكرة الأرضية [دول، قارت، أقاليم] وذلك بالتقاطها على شكل صور رقمية باستخدام أقمار صناعية تسمى أقمار الاستشعار عن بُعد.	الاستشعار عن بُعد
أول مشروع قمر صناعي «دي سات-1» وفيما بعد «دي سات-2» لإملاك تقنيات تصنيع الأقمار الصناعية لتحقيق رؤية القيادة الرشيدة بأخذ دولة الإمارات العربية المتحدة نحو عصر اقتصاد المعرفة والتقنيات المتقدمة والصناعات القضائية.	دي سات
نظام ملاحية عبر الأقمار الصناعية يقوم بتوفير معلومات عن الموقع والوقت في جميع الأحوال الجوية في أي مكان على أو بالقرب من الأرض.	نظام تحديد المواقع
مسار منحنى لجسم ما حول نقطة أو جسم آخر تحت تأثير قوة الجاذبية.	مدارات
مسطح مائي ساحلي داخل اليابس يأخذ شكل خليج شبه مغلق.	الأخوار
أراضٍ طولية مُنخفضة تُحيطها أراضٍ مُرتفعة الجوانب.	الأودية
مناطق مياه البحار والمحيطات التي تمتلك دولة ما حق السيادة عليها.	المياه الإقليمية
أراضي تحتوي على تركيزات عالية من الأملاح وتكثر فيها معادن المتبخرات مثل: ملح الطعام والجبس.	السيخات
الحافة الصخرية التي تواجه أو تشرف على البحر مباشرة.	الجروف البحرية

ضرورة
الإطلاع على
قاموس
المصطلحات
الموجود
في أفر
الكتاب :

نباتات يتجدد نموها في كل عام بعد سقوط الأمطار، مثل الحميض والخباز، وتنتشر في جهات عديدة من الدولة وخاصة الصحراوية منها.	النباتات الحولية
النباتات التي تنمو دون تدخل الإنسان طول العام، مثل: الغاف والسمر والسدر.	النباتات المعمرة
هي العملية الكلية لجمع وتجهيز وتقييم وتحليل ونشر البيانات السكانية والاقتصادية والاجتماعية المتعلقة بالسكان الموجودين على قيد الحياة في بلد محدد وزمن معين.	التعدادات السكانية
استيراد السلع لتصنيعها وإعادة تغليفها لأغراض التصدير.	تجارة إعادة التصدير
برزت كقوة برية كبيرة بزعامة آل نهيان واتخذوا من الظفرة ومدينة أبوظبي مقراً لهم وامتد نفوذها على طول الساحل م دبي حتى خور العديد.	حلف بني ياس
برز كقوة بحرية كبيرة تقودها أسرة القواسم واتخذوا من رأس الخيمة مقراً لهم، وامتدت سيادتهم من رأس مسندم شمالاً حتى الشارقة جنوباً.	حلف القواسم
تكامل وانسجام وانماج في كيان واحد.	مفهوم الوحدة
حركات باطنية تحدث في باطن الأرض بين الصفائح القارية يؤدي إلى دخول قارة تحت قارة.	الحركات التكتونية
مساحة من الأرض ذات خصائص مناخية متشابهة ومتميزة عن غيرها.	أقاليم مناخية
إقليم طبيعي يقع في أقصى شمال أوراسيا وأمريكا الشمالية ويتميز بخلوه من الأشجار بسبب درجات الحرارة المنخفضة جداً وقصر طول مدة النمو وتنمو فيه بعض الأعشاب القصيرة عقب ذوبان الطبقة السطحية من الجليد.	نطاق التندرا

الشريحة رقم 1

حلل النص ثم أجب عن الأسئلة الآتية :



في إطار توجيهات سمو الشيخ حمدان بن محمد بن راشد آل مكتوم، ولي عهد دبي رئيس المجلس التنفيذي، بتحويل دبي إلى نموذج ذكي بالكامل، وانسجاماً مع الجهود الحكومية الهادفة لتعزيز مكانة الإمارة وريادتها كواحدة من أذكى مدن العالم، أعلنت بلدية دبي عن تنفيذ مشروع "جيو دبي" الذي يقدم خدمات إعداد خرائط التصوير الجوي للمشاريع والمرافق التابعة للإمارة بما فيها منطقة حتا، وذلك باستخدام طائرة تقنية بدقة عالية تبلغ 10 سنتمترات.

ويأتي هذا المشروع من ضمن أهم المشاريع الاستراتيجية التي ينفذها مركز نظم المعلومات الجغرافية التابع لبلدية دبي، يوفر المشروع صوراً جوية حديثة وعالية الدقة لكافة أنحاء الإمارة بالإضافة إلى بيانات محدثة لنموذج الارتفاع الرقمي - Digital Elevation Model DEM: والذي يشمل نموذج التضاريس الرقمي Digital Terrain Model - DTM ونموذج الأسطح الرقمي Digital Surface Model - DSM، و يعد نموذج الارتفاع الرقمي من أحد الوسائل المهمة المستخدمة في تطبيقات وأنظمة نظم المعلومات الجغرافية والتي تتيح للمستفيدين رؤية ثلاثية الأبعاد للتضاريس الأرضية، والتي بدورها تساعد المهندسين والمختصين في أعمال مسح الأراضي ودراسات استعمالاتها، بالإضافة إلى تسهيل عمليات تصميم شبكات الطرق والبنية التحتية والدراسات البيئية والجيولوجية في الإمارة إلى توفير البيانات التي يمكن استخدامها في تطبيقات الواقع المعزز (VR بكل أنحاء الإمارة مما يجعل مركز نظم المعلومات الجغرافية في بلدية دبي يستشرف المستقبل بمواكبة آخر التطورات بشكل سباق وفعال".

1- الجهة المنظمة لمشروع جيو دبي:

2- سيتم التقاط الصور الجوية لإمارة دبي وحتا عن طريق :

3- في ماذا سوف يساعد مشروع جيو دبي المهندسين :

4- حاكم إمارة دبي :

5- قيم إيجابية ذكرت في النص:



الشريحة رقم 2

حل النص ثم أجب عن الأسئلة الآتية :


المنصة الوطنية الجيومكانية لطاقة المستقبل في الإمارات: أول منصة وطنية جيومكانية لطاقة المستقبل في الإمارات التي تقدم خدمات متعددة، تتضمن قياس ومتابعة تنفيذ استراتيجية الطاقة 2050، وتضم جميع مشاريع الطاقة النظيفة في كل إمارة، الأمر الذي يدعم مستهدفات الدولة وضمان ريادتها في هذا المجال. أن المنصة تسعى إلى ضمان التحديث المستمر للبيانات وتحليل وضع الدولة فيما يتعلق بمتابعة تحقيق الأهداف المرتبطة بقطاع الطاقة، واستثمار النتائج للسنوات المقبلة ضمن مستهدفات تحديث استراتيجية الطاقة 2050، إضافة إلى جميع البيانات والاستراتيجيات والدراسات المتعلقة بالطاقة النظيفة، التي أصبحت تشكل إسهاماتها أكثر من 19.63% عام 2021 مقارنة بنتيجة 5.84% عام 2019. وتعمل الوزارة لضمان أمن إمدادات الطاقة ومعقولة تكلفة الطاقة والاستدامة، والوصول للحياد المناخي بحلول 2050، من خلال دعم الاستثمار في طاقة المستقبل، وتركيزنا على استخدام التكنولوجيا الحديثة والابتكارات والدراسات المرتبطة بتخزين الطاقة، والمدن الهيدروجينية، والطاقة الجيوتحرارية، وطاقة الرياح، وتقنيات احتجاز واستخدام وتخزين الكربون، وإننا في الإمارات ماضون نحو مزيد من الإنجازات للخمسين عاماً المقبلة، من خلال الالتزام بمستهدفات الاستراتيجية الوطنية للطاقة 2050، والمبادرة الاستراتيجية للحياد المناخي 2050، عبر مشاريع الطاقة الشمسية، وبرنامجنا الوطني للطاقة النووية السلمية، وطاقة الهيدروجين، ومشاريع تحويل النفايات إلى طاقة، وغيرها من المشاريع الطموحة". وأن المنصة الوطنية الجيومكانية لطاقة المستقبل، نتاج جهود كبيرة لعديد من الجهات المعنية بالطاقة والتي تسعى جاهدة لتحقيق هدفنا المشترك في الحد من الانبعاثات الكربونية والعمل على توفير طاقة نظيفة ومتجددة.

1- اسم المنصة الوطنية التي تهدف إلى ضم جميع مشاريع الطاقة النظيفة في الدولة :

2- في أي عام ترغب الدولة في الوصول للحياد المناخي:

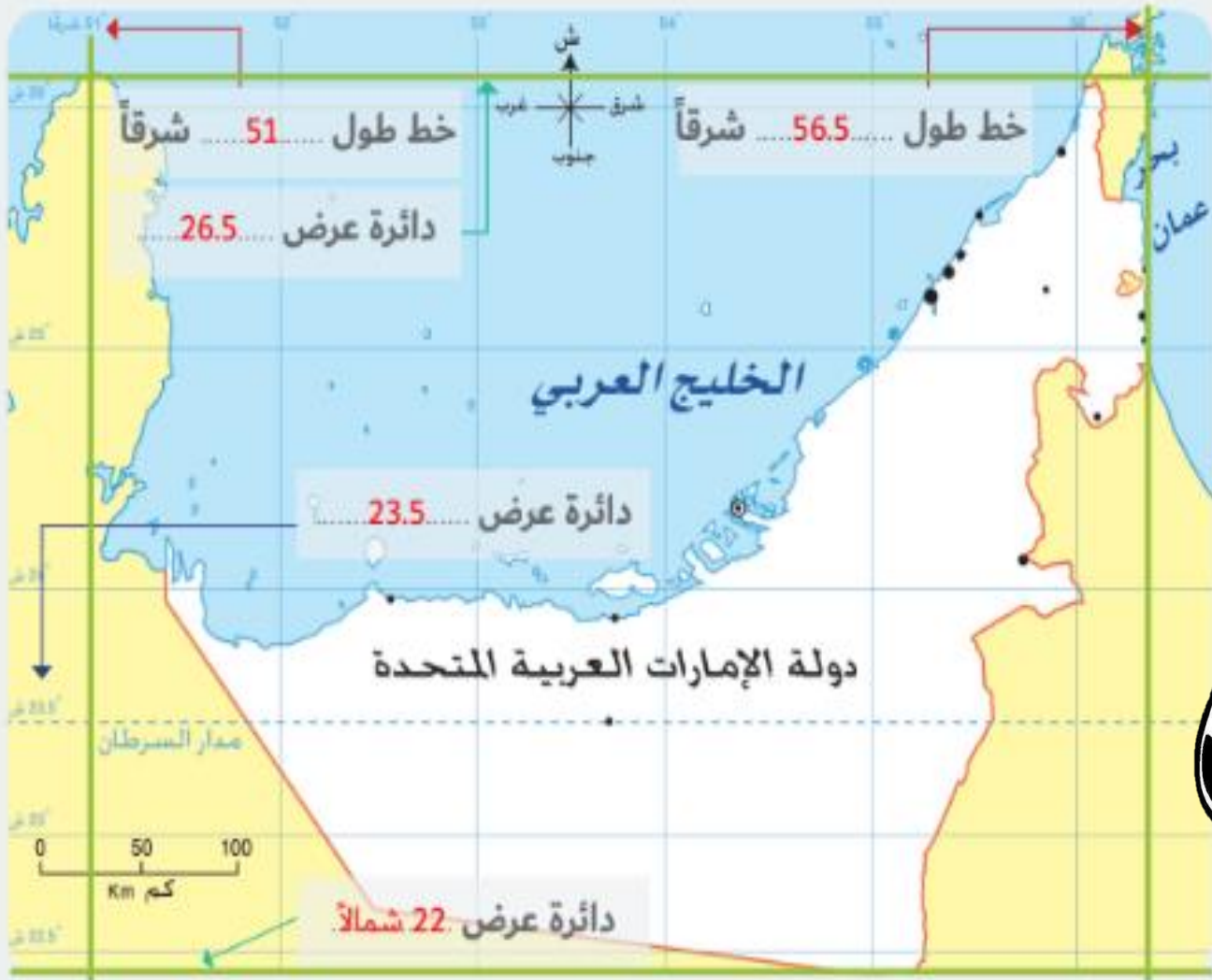
3- الفرق بين اسهامات البيانات والاستراتيجيات الدراسات المتعلقة بالطاقة النظيفة لعام 2019-2021 :

4- قيم إيجابية ذكرت في النص:




الشريحة رقم 3

حل الخريطة ثم أجب عن الأسئلة الآتية :



1. المسطح المائي الذي تشرف عليه دولة الامارات من جهة الغرب.....
2. المسطح المائي الذي تشرف عليه دولة الامارات من جهة الشرق.....
3. المضيق الذي يربط بين بحر عمان والخليج العربي.....
4. الدولة التي تجاور دولة الامارات من جهة الجنوب.....
5. دائرة العرض الرئيسية التي تمر بدولة الإمارات.....
6. تقع دولة الامارات بين دائرتي عرض :
7. تقع دولة الامارات بين خطي طول :



الشريحة رقم 4

تغطي الكثبان الرملية حوالي 75% من مساحة دولة الإمارات العربية المتحدة، وتعد امتداداً طبيعياً لمناطق الربع الخالي، تتخللها في بعض المناطق واحات مثل واحة ليوا، وتعد موطن استقرار القوافل التجارية، حيث أكسبت الصحراء قاطنيها قيماً وعادات حميدة، وأصبحت مجالاً لكثير من الأنشطة السياحية والترويحية مثل: سباق الهجن والخيول والسيارات والتزحلق على الكثبان الرملية والتخييم. كما أكتسب سكان الإمارات من الصحراء قيماً وعادات حميدة، أبرزها: الترحيب بالضيف والكرم، والصبر وتحمل المشاق، ونجدة المحتاج والدفاع عن الأرض، وأصبحت مصدراً مهماً للاقتصاد



حل الخريطة ثم أجب عن الأسئلة الآتية :

1. الأهمية الاقتصادية للصحراء كما هو مذكور في النص :
2. نسبة الصحراء من مساحة دولة الامارات:
3. تعد صحراء الامارات امتدادا لصحراء
4. قيم إيجابية ذكرت في النص.....
5. ضع عنوان مناسب للنص :.....





مؤسسة الإمارات للتعليم المدرسي
EMIRATES SCHOOLS ESTABLISHMENT

الشريحة رقم 5

2

معلوماتي / مقروء

دراسة إقليمية لدولة
الإمارات العربية المتحدة

يتعرف الخصائص الطبيعية والبشرية لدولة الإمارات العربية المتحدة

حل الشكل المعلوماتي ثم أجب عن الأسئلة الآتية :

1. نسبة الذكور من سكان دولة الإمارات :.....
2. عدد سكان الامارات لعام 2020:
3. ماذا يمثل العمر 79.9 سنة في دولة الامارات
4. كم ستبلغ نسبة الاناث من عدد سكان الامارات.....



مبادرة بعنوان (مهجد وجد-2)
قسم الدراسات الاجتماعية

9,282,410 عدد سكان الإمارات عام 2020

العمر الوسيط للسكان
في الدولة 32.8 سنة

متوسط العمر
79.9 سنة

نسبة الذكور
69.7 بالمائة

متوسط معدل النمو السنوي للسكان
للسنوات العشر الماضية 1.2 بالمائة



حلل النص ثم أجب عن الأسئلة الآتية :

الشريحة رقم 6

1- الاسم القديم لمدينة حتا :

2- مدينة حتا تابعة لإمارة :

3- بماذا تشتهر مدينة حتا :

4- اسم الحملة التي أطلقت بتوجيهات الشيخ أحمد بن محمد بن راشد آل مكتوم:

5- اسم المهرجان الذي أطلق في مدينة حتا:

تتعدد مقومات الجذب في دبي بين ما هو طبيعي وما هو من صنع الإنسان، لتتكامل هذه العناصر في تأكيد مكانة المدينة النابضة بالحياة وجاذبيتها للزوار سواء من مختلف أنحاء الدولة، أو من دول المنطقة، وكذلك من حول العالم، للاستمتاع بتجربة زيارة فريدة لكل زائر، ليغادرها حاملاً ذكريات لا تنسى.

حتا.. هي واحدة من أهم مناطق الجذب السياحي في إمارة دبي، وتتميز بطبيعتها الجبلية الأسيرة التي تجتذب الزوار من محبي الطبيعة والمغامرة من حول العالم، لما تتميز به من جمع بين روعة البيئة الفطرية الطبيعية وأصاله التراث بما تضمه من شواهد تاريخية ضاربة في القدم، إذ يرجع بعض المؤرخين تاريخ هذا الجزء من الوطن إلى أكثر من 3000 عام مضت.


وتتنوع مقومات الجذب في حتا التي، عُرفت قديماً باسم "الحجرين" لوقوعها بين جبلين شاهقين، واشتهرت بالقلاع التاريخية والمزارع والأفلاج، ليتنوع مع تلك المقومات أيضاً نوعية الزوار الذين يقصدونها من كل مكان ما بين هواة الرياضة وعشاق المغامرات والباحثين عن الراحة والاسترخاء في أحضان الطبيعة بعيداً عن صخب ومسؤوليات الحياة اليومية.

وقد استهل الموسم الشتوي الثالث لحملة "#وجهات دبي" الذي انطلق قبل أيام بتوجيهات سمو الشيخ أحمد بن محمد بن راشد آل مكتوم، النائب الثاني لحاكم دبي رئيس مجلس دبي للإعلام، بتنظيم النسخة الأولى من مهرجان "#شتانا في حتا" بالتعاون بين براند دبي، الذراع الإبداعي للمكتب الإعلامي لحكومة دبي، واللجنة العليا للإشراف على تطوير منطقة حتا، وهو يضم مجموعة من الفعاليات المتنوعة والتجارب الترفيهية والرياضية من 15 وحتى 31 ديسمبر الجاري، وذلك بهدف إلقاء مزيد من الضوء على ما تتمتع به هذه المنطقة من مميزات وعوامل جذب عديدة، حيث تهدف "وجهات دبي" لتقديم معلومات للمواطنين والمقيمين والزوار تمكنهم من بدء عطلة شتوية فريدة في مختلف مناطق الإمارة.

مهرجان
شتانا في

حتا

HATTA
FESTIVAL





شمس 1 الإماراتية

أول محطة طاقة تبنى في قلب الصحراء

تغطي مساحة
2.5 كلم مربع
أو ما يعادل 285 ملعب
كرة قدم

إجمالي الكهرباء
المولدة تكفي
لـ 100 ألف منزل
لمدة عام كامل

تعمل من خلال
258 ألف مرآة عاكسة

تحتوي على
768 مصفوفة
من عاكسات القطع
المكافئ

تأسست عام 2013 كأول محطة من نوعها بالشرق الأوسط

قدرتها توليد
970 ألف
ميغاواط
في الساعة



أدت لتفادي انبعاث
723 ألف طن
من غاز ثاني أكسيد
الكربون



القدرة المركبة
100 ميغا
واط



1. متى تأسست محطة شمس 1 :

2. كم عدد الملاعب التي تغطي مساحة محطة شمس 1 :

3. الأثر البيئي للمحطة :

4. كم ميغاواط يمكن للمحطة توليدها في ساعتين:

5. عدد المنازل المستفاد من توليد الكهرباء من محطة شمس 1 لمدة عام واحد :





مؤسسة الإمارات للتعليم المدرسي
EMIRATES SCHOOLS ESTABLISHMENT

الشريحة رقم 8

3

بين أهم الموارد والأنشطة الاقتصادية لسكان دولة الإمارات العربية المتحدة
دراسة إقليمية لدولة الإمارات العربية المتحدة
مقروم / معلوماتي

حلل الشكل المعلوماتي ثم أجب عن الأسئلة الآتية :

1. عددي القطاعات التي يعتمد عليها اقتصاد دولة الإمارات :
2. كم بلغ نصيب الفرد من الناتج المحلي الإجمالي :
3. معدل نمو اقتصاد الإمارات لعام 2022.....
4. القطاع الاقتصادي الذي يشكل نسبته 12%



مبادرة بعنوان (مهجد وجرد-2)
قسم الدراسات الاجتماعية



ما يعكس
حكمة السياسات الاقتصادية التي تنتهجها حكومة دولة الإمارات

ويؤكد
متانة ورسوخ الاقتصاد الإماراتي في ظل ما يمر به العالم من أوضاع اقتصادية وتدابير جيوسياسية

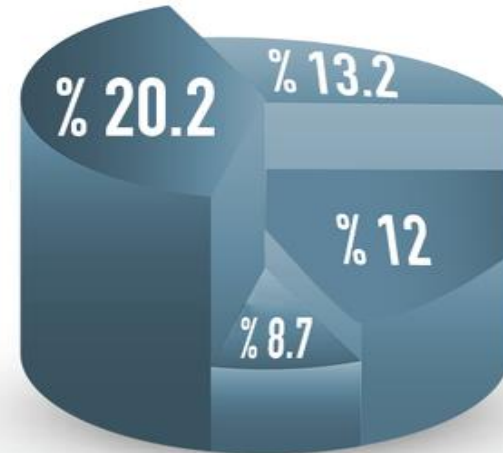
اقتصاد الإمارات

يتألق بقوة في 2022



الناتج المحلي الإجمالي في 2022 (تقديرات أولية)

أبرز القطاعات



- النقل والتخزين 20.2%
- الإقامة والخدمات الغذائية 13.2%
- الأنشطة العقارية 12%
- الصناعات التحويلية 8.7%

المصدر: المركز الاتحادي للتنافسية والإحصاء



الشريحة رقم 9

3

مقرر / معلوماتي

دراسة إقليمية لدولة الإمارات العربية المتحدة

بين أهم الموارد والأنشطة الاقتصادية لسكان دولة الإمارات العربية المتحدة

حل النص ثم أجب عن الأسئلة الآتية :

1. المسطح المائي الذي يطل عليه ميناء جبل علي :
.....
2. اسم المصنع المتخصص في استيراد موارد الألمنيوم :
.....
3. أسست المنطقة الحرة (جافزا) في ميناء جبل علي عام.....
4. كم وصل حجم التجارة في جافزا لعام 2019.....



مبادرة بعنوان (مه جـ و جـ 2)
قسم الدراسات الاجتماعية

ميناء جبل علي هو ميناء إماراتي، يقع في إمارة دبي على ساحل الخليج العربي في مسافة 35 كيلومتر من وسط مدينة دبي، ويعتبر من أهم الموانئ في منطقة الشرق الأوسط ومجلس التعاون لدول الخليج العربي .

بدأ العمل به في السبعينات وافتتح عام 1979. وأنشئ ميناء جبل علي لاستيراد موارد لمصنع الألمنيوم في دبي يسمى دوبال . لكن تطور ميناء جبل علي ليستخدم في دعم المنطقة الحرة في جبل علي التي أنشئت حوله المنطقة الحرة لجبل علي (جافزا) هي واحدة من مناطق التجارة الحرة الرائدة في العالم. تأسست المنطقة الحرة عام 1985 وهي شركة مملوكة لموانئ دبي العالمية بهدف تعزيز التجارة ودعم أحجام مناولة الحاويات في ميناء جبل علي. تعد اليوم واحدة من أكبر المناطق الحرة على مستوى العالم والمركز اللوجستي الأكثر كفاءة في المنطقة. الموقع الفريد في دبي، بين ميناء جبل علي، ومطار آل مكتوم الدولي.

جافزا تدعم توظيف أكثر من 135,000 شخص في دولة الإمارات العربية المتحدة. في العام 2019، وصل حجم تجارة جافزا إلى 104 مليار دولار. نظراً لكونها مركز الأعمال الرائد بين آسيا وأوروبا وإفريقيا، أسرع أسواق الإنتاج والاستهلاك نمواً على مستوى العالم .



الشريحة رقم 10

حل النص ثم أجب عن الأسئلة الآتية :

1. من السنغ الاماراتي الذي لا بد من اتباعه بعد الضيافة
2. قيم إيجابية ذكرت في النص
3. ضع عنوان مناسب للنص :



مبادرة بعنوان (مد يد وجر-2)
قسم الدراسات الاجتماعية

للسنغ الإماراتي في تقديم الطعام للضيف **تقاليد وآداب**، حرص المجتمع على المحافظة عليها ونقلها من الكبار إلى الصغار.

دعوة الضيوف للجلوس على مائدة الطعام، سواء أكانت على الأرض.

أو على طاولة . بقول: سموا.

احترام الجالسين على مائدة الطعام من حيث الحركة، فلا يسبقهم في تناول الطعام، ولا ينهض عن الأكل قبلهم.

عدم رمي الأكل خارج السفرة واحترام النعمة .

ومن السنغ الإماراتي أنه إذا دخل رجل على أناس وهم جالسون حول صينية الطعام في ريق أو غداء أو عشاء ، أن يقول لهم : "**هنهم**" فيردوا عليه : "**وأنت منهم، أقرب**" ، أي : (**تفضل واجلس لتناول الطعام**) وذلك بدلا من إلقاء السلام الذي يستوجب من الحضور القيام من المائدة والرد عليه وموايسته .

ومن السنغ الإماراتي :

أنه بعد الضيافة تقديم البخور (الدخون والعود)

تقديم العطور ودهن العود .. هذا من اكرام الضيف التطيب ...



إجابات أسئلة النصوص والفرائط والاشكال المعلوماتية

الشريحة رقم 4

1. السياحة
2. 75%
3. الربع الخالي
4. الصبر - الدفاع - الكرم
5. أهمية الصحراء في دولة الامارات العربية المتحدة

الشريحة رقم 3

1. الخليج العربي
2. بحر عمان
3. مضيق هرمز
4. السعودية
5. مدار السرطان
6. 22-26.5 شمالا
7. 51-56.5 شرقا

الشريحة رقم 2

1. المنصة الوطنية الجيومكانية لطاقة المستقبل.
2. 2050
3. 19.63 - 5.84 = 13.79
4. الطموحة - الالتزام - تحقيق - المبادرة - الاستثمار - الإنجازات

الشريحة رقم 1

1. مركز نظم المعلومات الجغرافية .
2. طائرة تقنية بدقة عالية
3. مسح الأراضي - تصميم شبكات الطرق والبنية التحتية - توفير بيانات لتطبيق الواقع المعزز
4. الشيخ محمد بن راشد حفظه الله
5. ذكي - جهود- انسجام - تعزيز - تساعد





إجابات أسئلة النصوص والفرائط والاشكال المعلوماتية

الشريحة رقم 8

1. النقل والتخزين - الإقامة والخدمات الغذائية - الأنشطة العقارية - الصناعات التحويلية
2. 21.1%
3. 7.9%
4. الأنشطة العقارية

الشريحة رقم 7

1. 2013
2. 285 ملعب
3. الحد من انبعاثات CO2
4. $1.940.000 = 2 * 970.000$
5. 100 ألف منزل

الشريحة رقم 6

1. الحجرين
2. دبي
3. القلاع التاريخية - المزارع والافلاج .
4. وجهات دبي
5. شتانا_في_حتا

الشريحة رقم 5

1. 69.7%
2. 9.282.410
3. متوسط العمر
4. $30.3 = 100 - 69.7$





مؤسسة الإمارات للتعليم المدرسي
EMIRATES SCHOOLS ESTABLISHMENT



مدرسة مصفوت الحلقة الثانية بنات
Masfout Girls' School - Cycle2



United Arab Emirates

إجابات أسئلة النصوص والفرائط والاشكال المعلوماتية

الشريحة رقم 10

1. تقديم الدخون والعود والعطور ودهن العود
2. احترام - السلام - المحافظة - حرص
3. الضيافة في دولة الإمارات

الشريحة رقم 9

1. الخليج العربي
2. دوبال
3. 1985
4. 104 مليار دولار



مبادرة بعنوان (مهجد وجد-2)
قسم الدراسات الاجتماعية



مؤسسة الإمارات للتعليم المدرسي
EMIRATES SCHOOLS ESTABLISHMENT



مدرسة مصفوت الحلقة الثانية بنات
Masfout Girls' School - Cycle2



United Arab Emirates

تدريبات في مادة الدراسات الاجتماعية الصف السابع عام /متقدم 2024

الفصل الدراسي الثاني



لأَوْجُودِ النَّجَاحِ دُونَ

الاسْتِمْرَارِ بِالتَّعَلُّمِ

كُلَّ يَوْمٍ

قُوَّةُ الْإِرَادَةِ

تُصَنِّعُ الْمُسْتَحِيلَ



مبادرة بعنوان (مهجد وجد-2)
قسم الدراسات الاجتماعية